


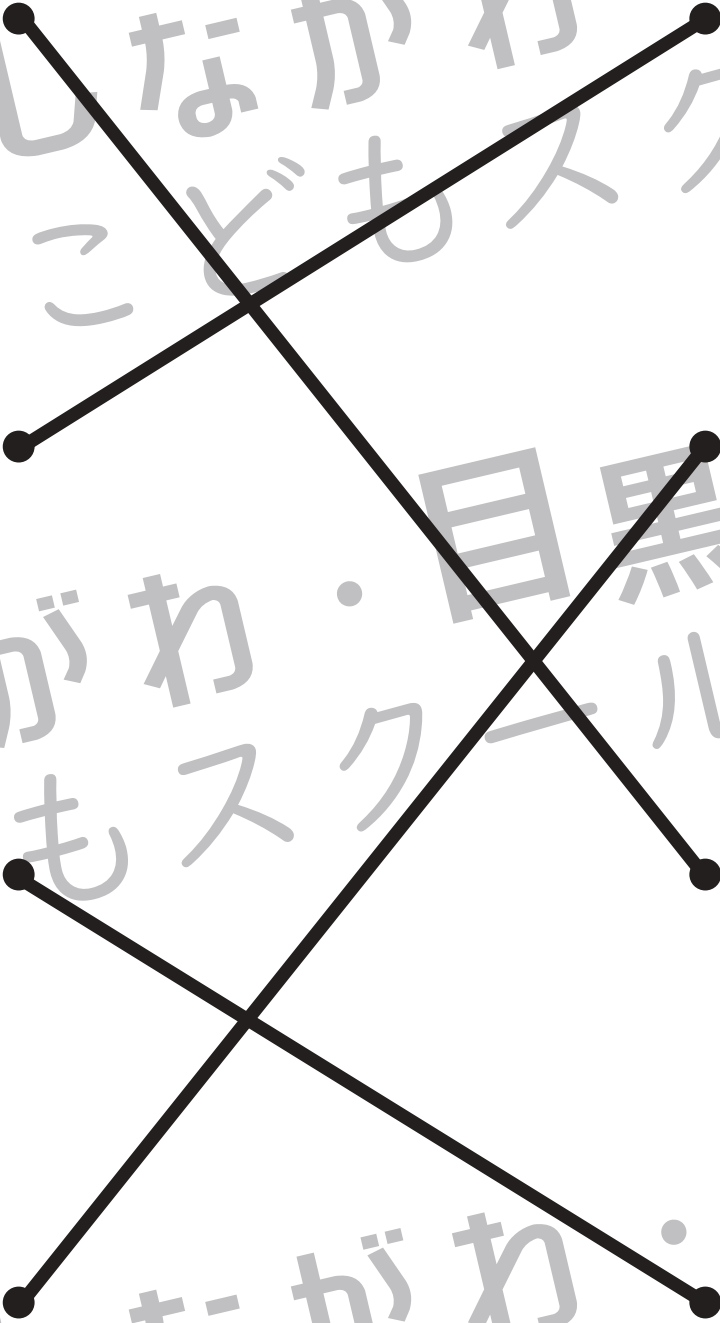


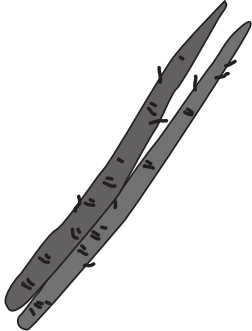






おうちで、やろう。 年中児版

Study at home. 小学校受験の家庭学習教材

常識：季節 4

左側の絵と右側の絵から同じ季節のものを選び、点と点を線で結びます。

※1. このプリントは、しながわ・目黒こどもスクールのウェブサイトでダウンロードができます。無断複写・引用はご遠慮ください。
 ※2. このプリントを活用したオンライン授業のスケジュールは、しながわ・目黒こどもスクールのウェブサイトでご確認ください。



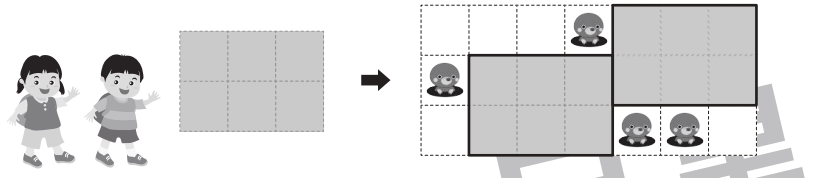
おうちで、よろう。

Study at home. 小学校受験の家庭学習教材

年中児版

図形：平面 1

左のレジャーシートを2まい敷ける場所を考えます。
その場所を囲みましょう。シートの向きを変えたり、
穴の開いている場所には敷くことはできません。
(右例を参考)



Example 1: A 2x4 grid of mats is shown on the left. On the right, it is placed on a 4x4 grid. The mats are placed in the top-right and bottom-left quadrants, avoiding the teddy bears in the top-left, middle-left, and bottom-right cells.

Example 2: A 3x3 grid of mats is shown on the left. On the right, it is placed on a 4x4 grid. The mats are placed in the top-left and bottom-right quadrants, avoiding the teddy bears in the top-left, middle-right, and bottom-right cells.

Example 3: A 3x4 grid of mats is shown on the left. On the right, it is placed on a 4x4 grid. The mats are placed in the top-right and bottom-left quadrants, avoiding the teddy bears in the top-right, middle-right, and bottom-right cells.

※1. このプリントは、しながわ・目黒こどもスクールのウェブサイトでダウンロードができます。無断複写・引用はご遠慮ください。
※2. このプリントを活用したオンライン授業のスケジュールは、しながわ・目黒こどもスクールのウェブサイトでご確認ください。



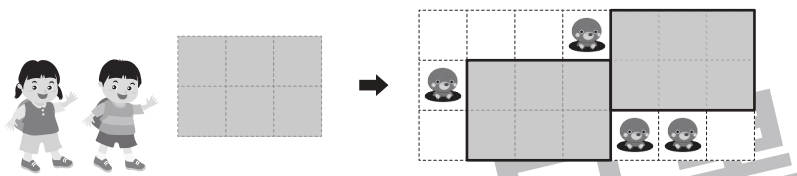
おうちで、やろう。

Study at home. 小学校受験の家庭学習教材

年中児版

図形：平面 2

左のレジャーシートを2まい敷ける場所を考えます。
その場所を囲みましょう。シートの向きを変えたり、
穴の開いている場所には敷くことはできません。
(右例を参考)



Example 1: A 2x2 grid of mats is shown on the left. An arrow points to a 5x5 grid on the right. The grid has teddy bears in the following cells: (1,1), (1,2), (1,3), (2,3), (2,4), (3,1), (3,2), (3,3), (3,4), (4,2), (4,3), (4,4), (4,5), (5,2), (5,3), (5,4). The 2x2 mats are placed in the top-right corner, covering cells (1,4), (1,5), (2,4), and (2,5).

Example 2: A 2x4 grid of mats is shown on the left. An arrow points to a 5x5 grid on the right. The grid has teddy bears in the following cells: (1,4), (2,1), (2,3), (3,2), (3,3), (4,4), (4,5), (5,4), (5,5). The 2x4 mats are placed in the middle, covering cells (2,1), (2,2), (2,3), (2,4), (3,1), (3,2), (3,3), and (3,4).

Example 3: A 3x3 grid of mats is shown on the left. An arrow points to a 5x5 grid on the right. The grid has teddy bears in the following cells: (1,2), (1,4), (2,3), (3,2), (4,1), (4,3), (4,4), (5,1), (5,3). The 3x3 mats are placed in the middle, covering cells (2,1), (2,2), (2,3), (3,1), (3,2), (3,3), (4,1), (4,2), and (4,3).

※1. このプリントは、しながわ・目黒こどもスクールのウェブサイトからダウンロードができます。無断複写・引用はご遠慮ください。

※2. このプリントを活用したオンライン授業のスケジュールは、しながわ・目黒こどもスクールのウェブサイトでご確認ください。



おうちで、やろう。





Study at home. 小学校受験の家庭学習教材

年中児版

推理：なぞなぞ 1

①～④のなぞなぞをといて、答えに○をつけましょう。

- ① にわに いる とりは なんでしょう。
- ② うしろにいる どうぶつは なんでしょう。
- ③ いつもあやまっている どうぶつは なんでしょう。
- ④ あくまのような わるいどうぶつは なんでしょう。



※1. このプリントは、しながわ・目黒こどもスクールのウェブサイトでダウンロードができます。無断複写・引用はご遠慮ください。
 ※2. このプリントを活用したオンライン授業のスケジュールは、しながわ・目黒こどもスクールのウェブサイトでご確認ください。



おうちで、やろう。 年中児版

Study at home. 小学校受験の家庭学習教材

推理：なぞなぞ2

①～④のなぞなぞをとりて、答えに○をつけましょう。



① このくにに すんでいるひとは ほんを2さつ よみます。どこのくにでしょう。

② このたべものを たべると ちからがつよくなります。このたべものはなんでしょう。


③ くさいにおいがする どうぶつは なんでしょう。

④ ましかくから まくをとると なにになるでしょう。





①



②



③



④



※1. このプリントは、しながわ・目黒こどもスクールのウェブサイトダウンロードできます。無断複写・引用はご遠慮ください。

※2. このプリントを活用したオンライン授業のスケジュールは、しながわ・目黒こどもスクールのウェブサイトでご確認ください。



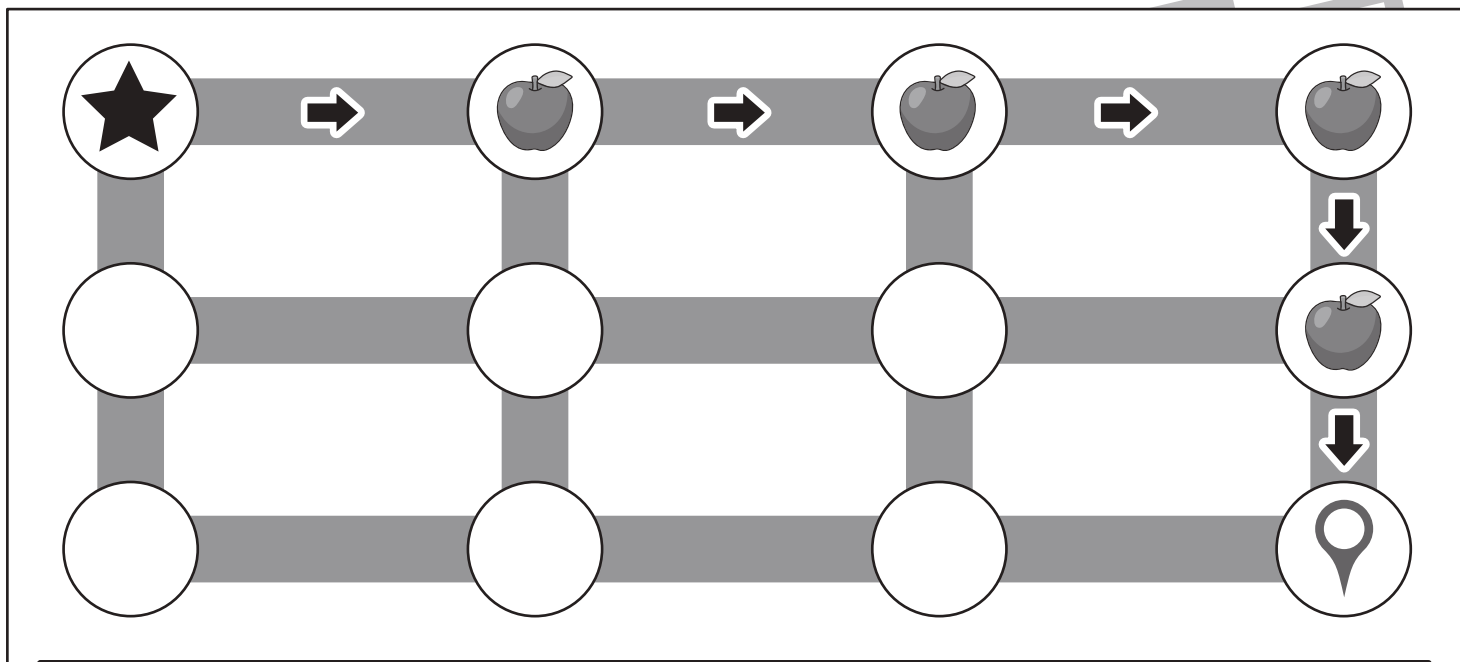


おうちで、やろう。 年中児版

Study at home. 小学校受験の家庭学習教材

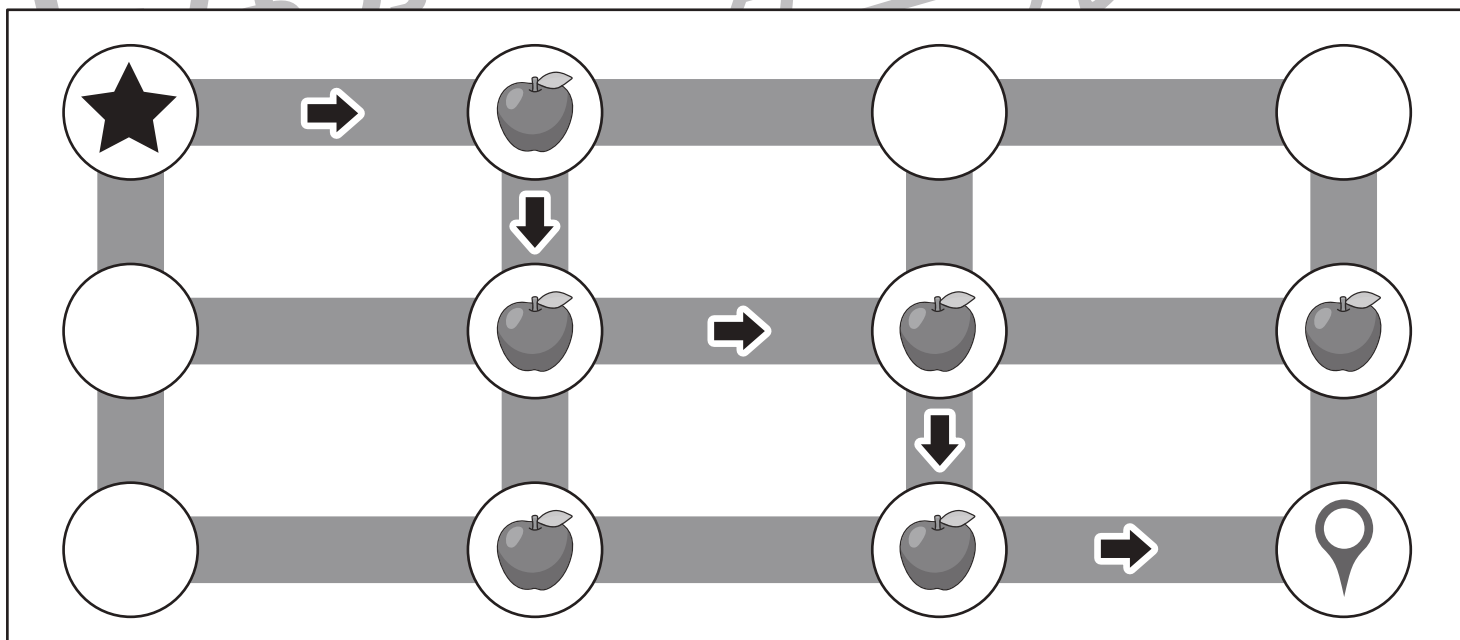
数量：計数3

スタート（★）からゴール（📍）まで矢印の順番通りに迷路を進みます。途中にあるりんごを全て拾ってゴール（📍）まで進むと、全部でいくつになりますか。拾ったりんごの数だけ下の太い枠の中に○を書きましょう。



こたえ

○ × 4



こたえ

○ × 4

※1. このプリントは、しながわ・目黒こどもスクールのウェブサイトでダウンロードができます。無断複写・引用はご遠慮ください。

※2. このプリントを活用したオンライン授業のスケジュールは、しながわ・目黒こどもスクールのウェブサイトでご確認ください。

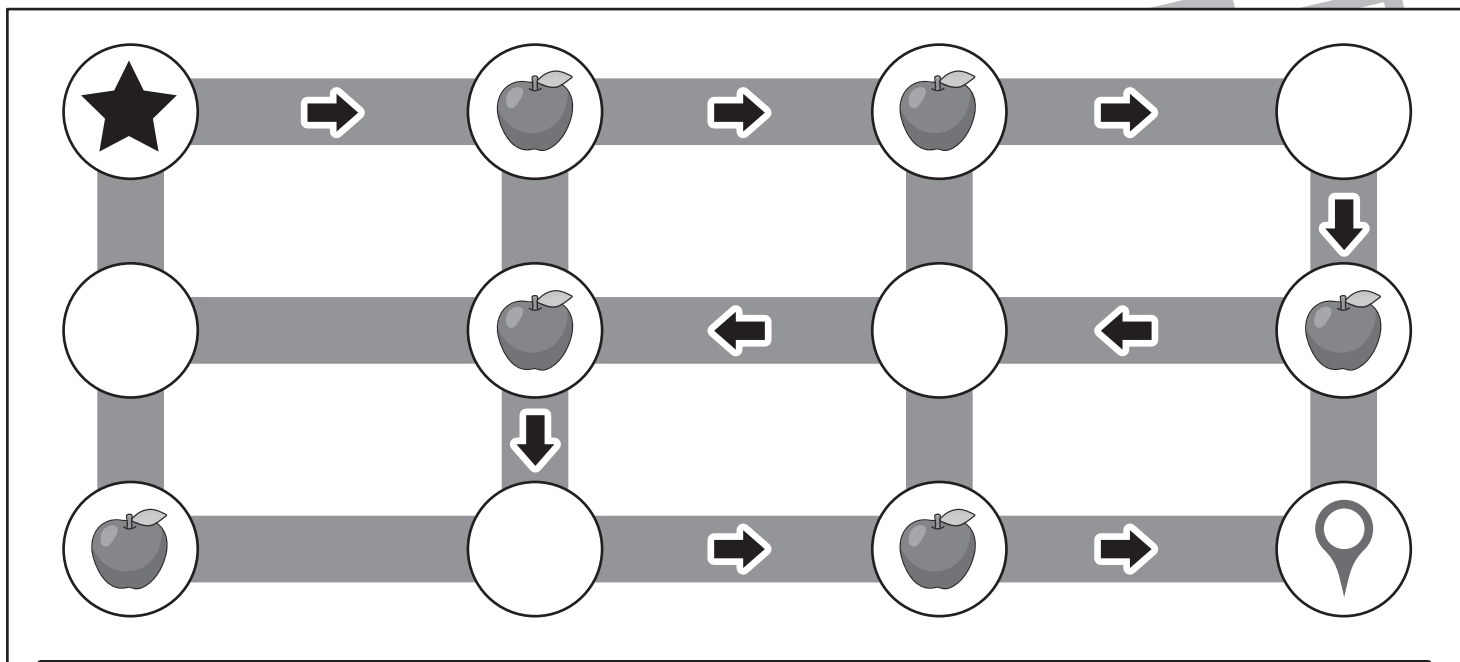


おうちで、やろう。 年中児版

Study at home. 小学校受験の家庭学習教材

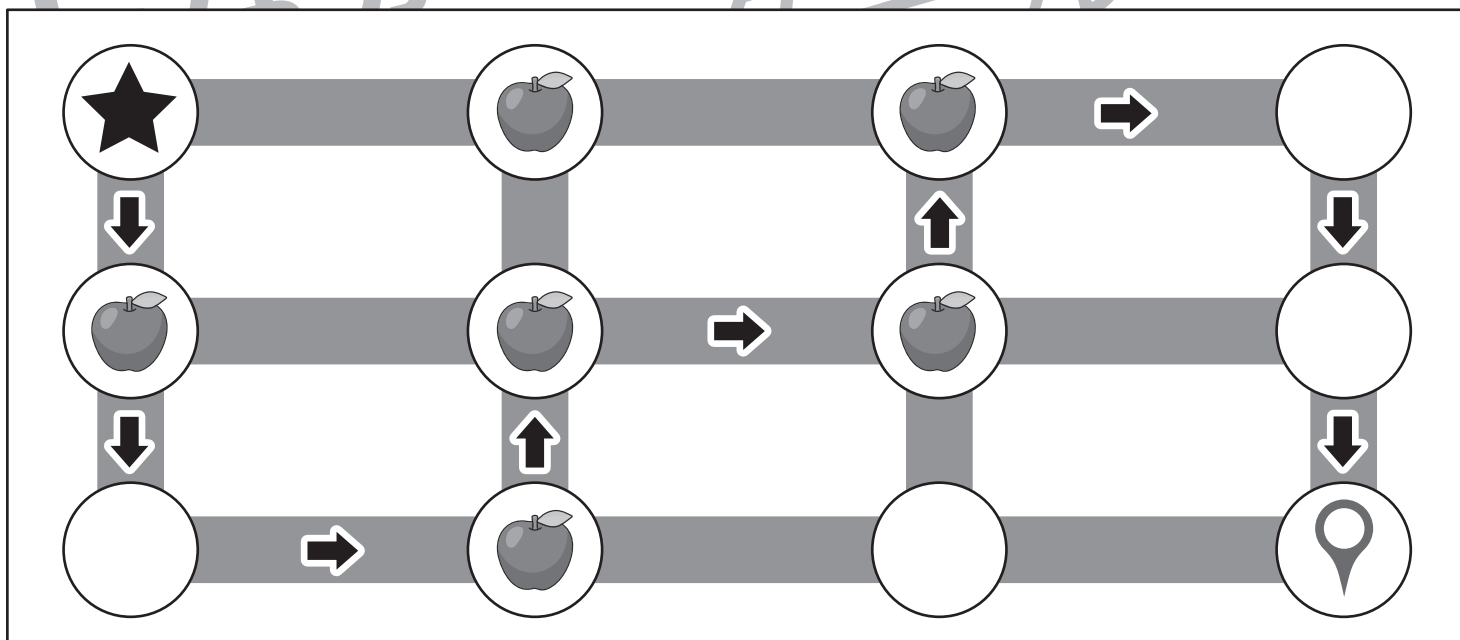
数量：計数 4

スタート（★）からゴール（📍）まで矢印の順番通りに迷路を進みます。途中にあるりんごを全て拾ってゴール（📍）まで進むと、全部でいくつになりますか。拾ったりんごの数だけ下の太い枠の中に○を書きましょう。



こたえ

○ × 5



こたえ

○ × 5

※1. このプリントは、しながわ・目黒こどもスクールのウェブサイトでダウンロードができます。無断複写・引用はご遠慮ください。

※2. このプリントを活用したオンライン授業のスケジュールは、しながわ・目黒こどもスクールのウェブサイトでご確認ください。