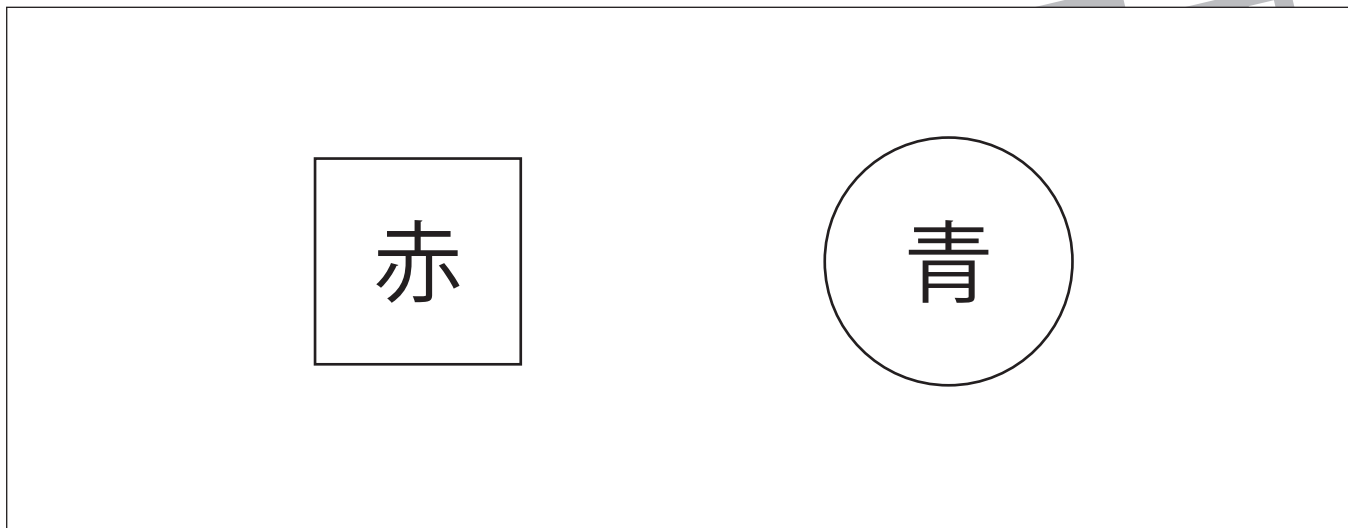


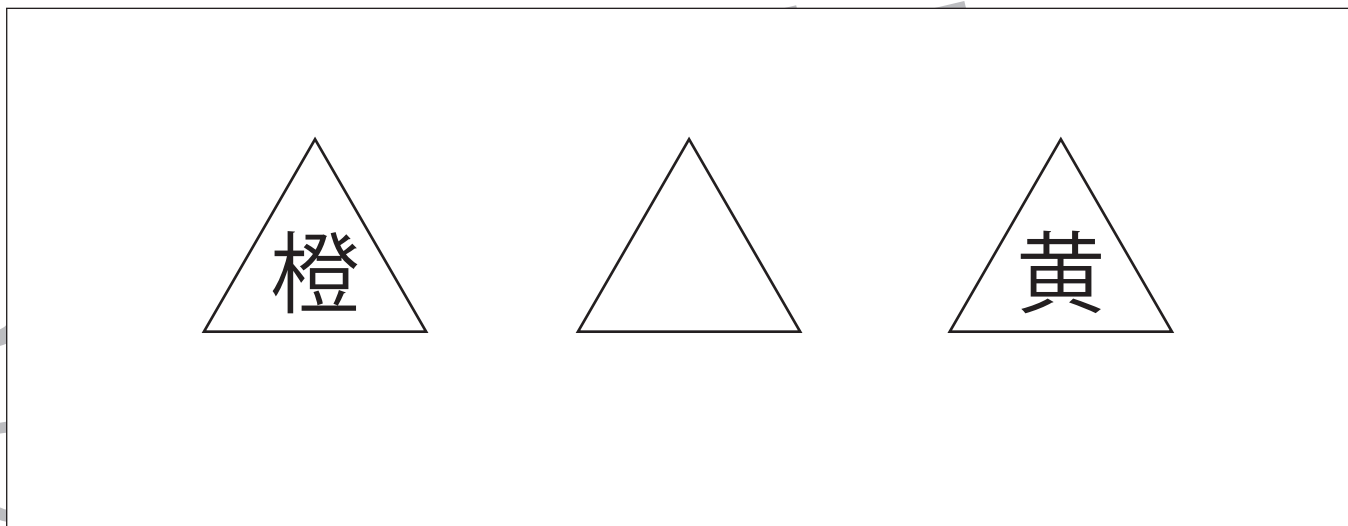


- ①四角を赤のクーピー、丸を青のクーピーで塗ります。
- ②三つ並んだ三角形のうち、左の三角を橙色のクーピーで、右の三角を黄色のクーピーで塗ります。
- ③左と右の星同士を赤のクーピーで、三角同士を緑のクーピーで結びます。

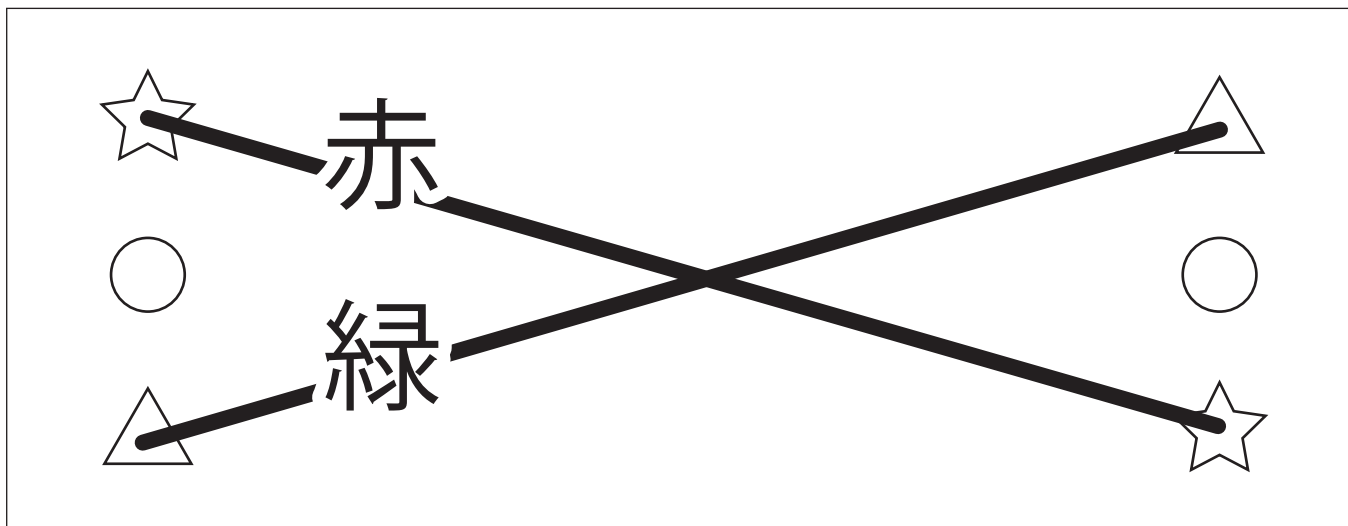
①



②



③



※1. このプリントは、しながわ・目黒こどもスクールのウェブサイトからダウンロードができます。無断複写・引用はご遠慮ください。

※2. このプリントを活用したオンライン授業のスケジュールは、しながわ・目黒こどもスクールのウェブサイトでご確認ください。






# おうちで、やろう。 年中児版

言語：はじめの音 3


Study at home. 小学校受験の家庭学習教材

- ①はじめの音が「り」の果物に○をつけましょう。 ②はじめの音が「も」の果物に○をつけましょう  
③はじめの音が「か」の野菜に○をつけましょう。 ④はじめの音が「だ」の野菜に○をつけましょう。

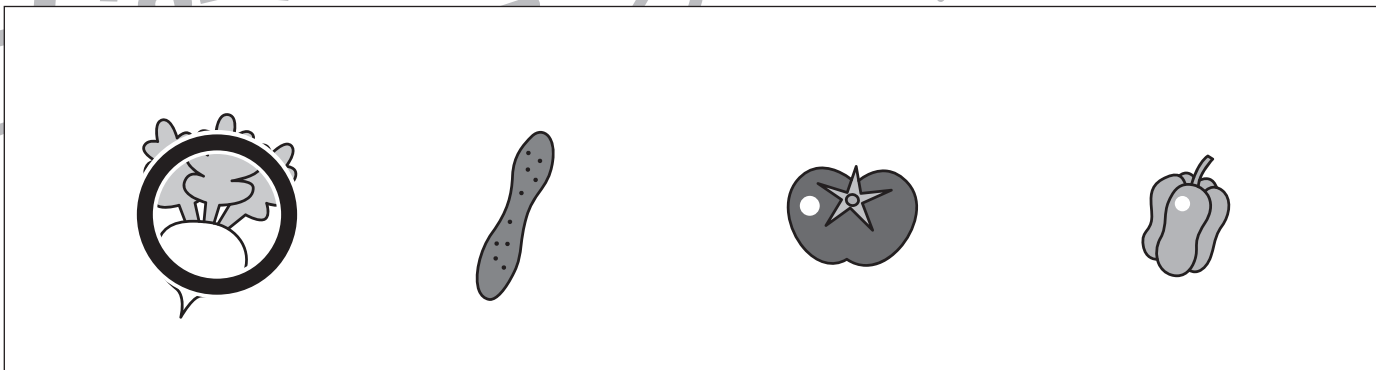
①




②



③



④



※1. このプリントは、しながわ・目黒こどもスクールのウェブサイトからダウンロードができます。無断複写・引用はご遠慮ください。

※2. このプリントを活用したオンライン授業のスケジュールは、しながわ・目黒こどもスクールのウェブサイトでご確認ください。



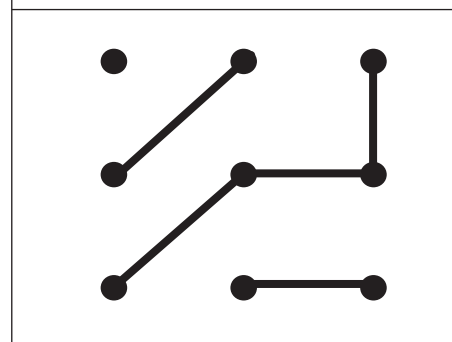
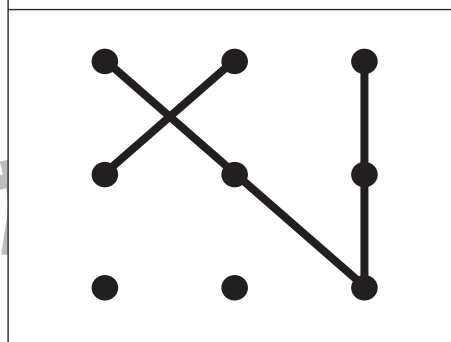
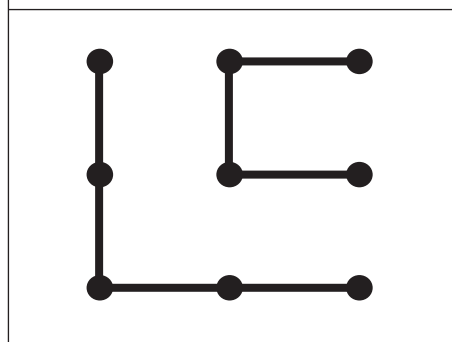
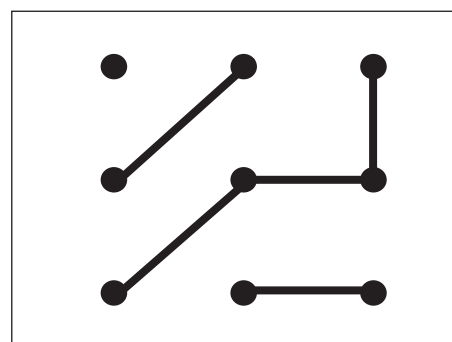
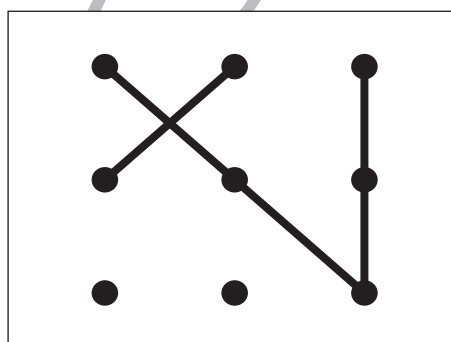
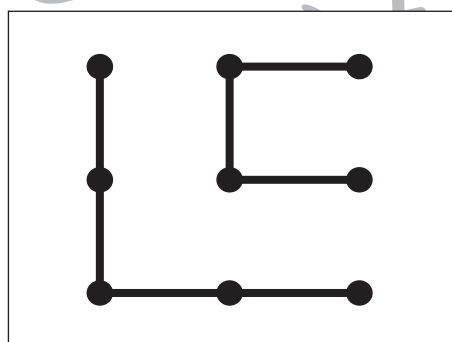
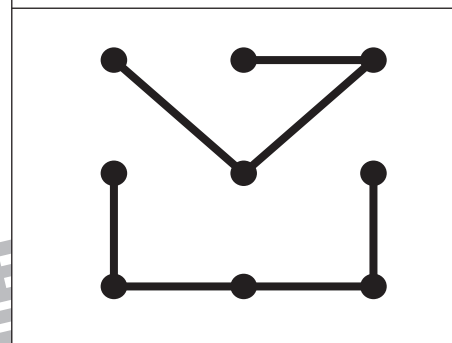
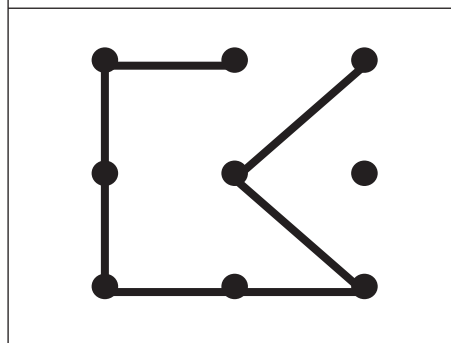
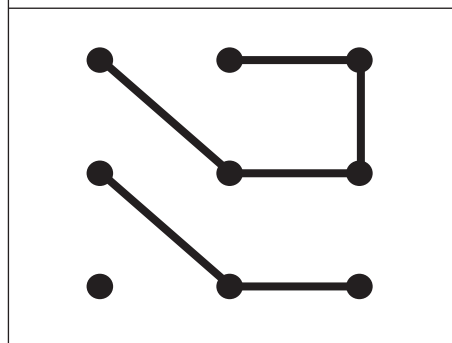
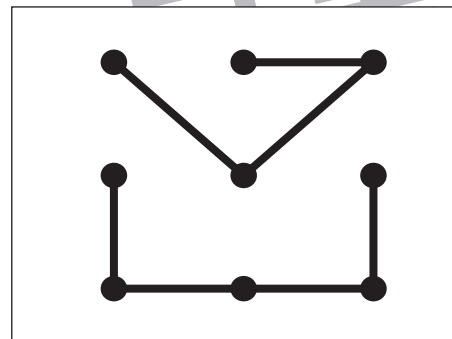
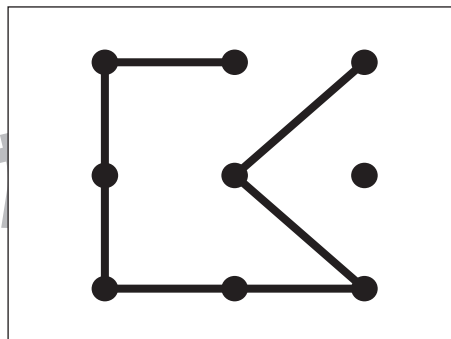
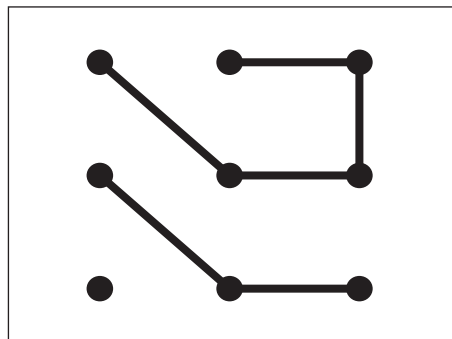


# おうちで、やろう。 年中児版

Study at home. 小学校受験の家庭学習教材

## 図形：点図形3

上の四角がお手本です。お手本と同じ形になるように下の点と点をきれいな線で結びましょう。  
※この問題に解答はありません。



※1. このプリントは、しながわ・目黒こどもスクールのウェブサイトでダウンロードができます。無断複写・引用はご遠慮ください。

※2. このプリントを活用したオンライン授業のスケジュールは、しながわ・目黒こどもスクールのウェブサイトでご確認ください。





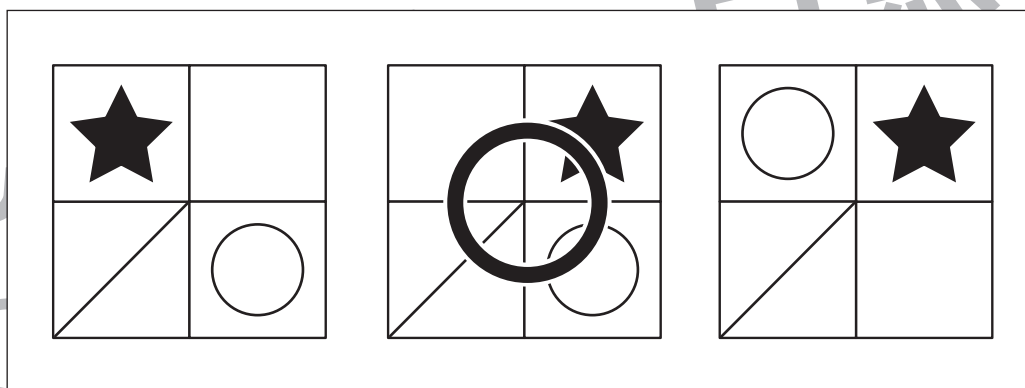
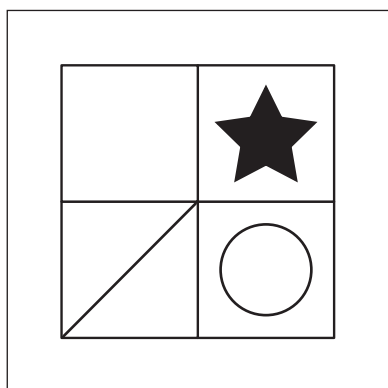
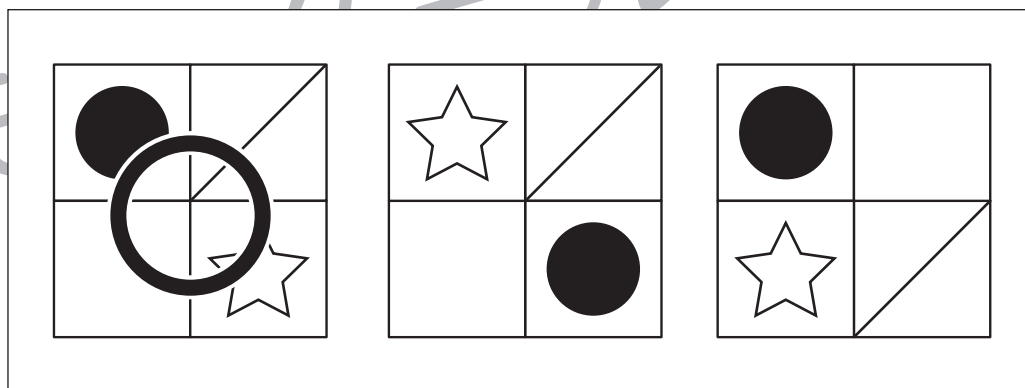
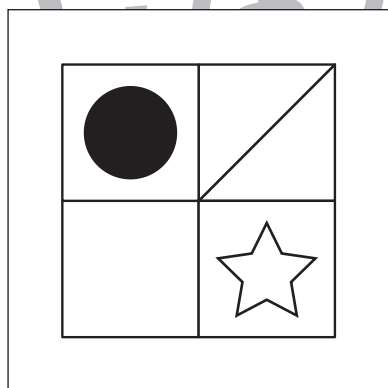
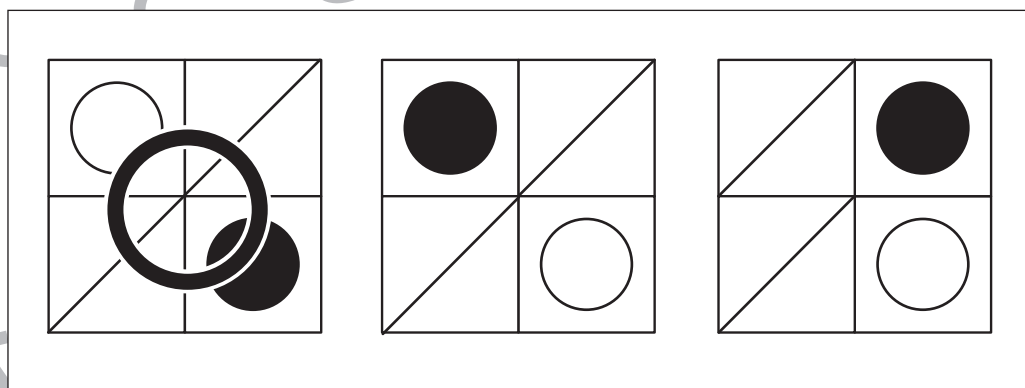
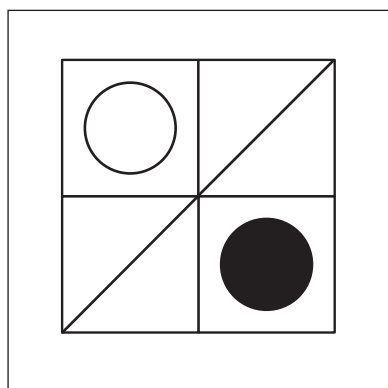
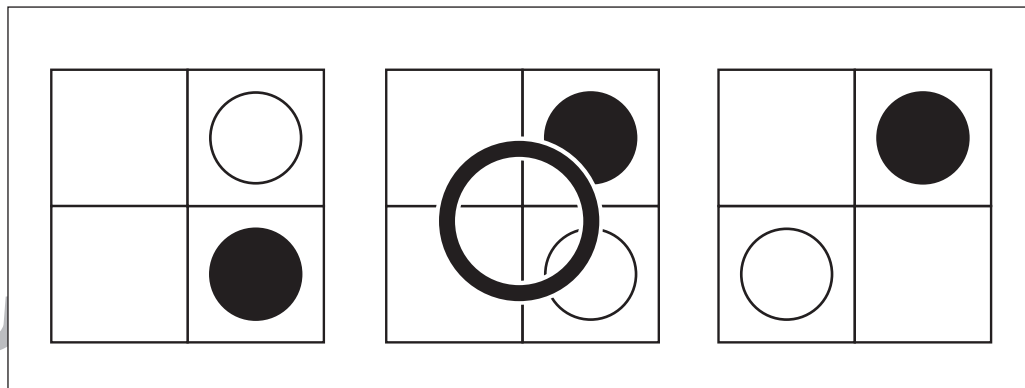
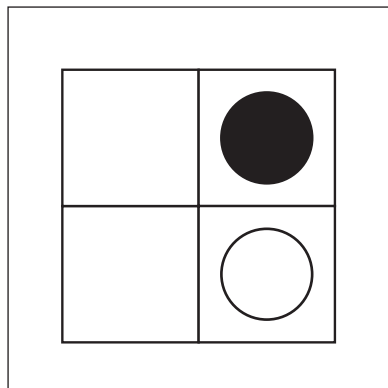
# おうちで、やろう。

Study at home. 小学校受験の家庭学習教材

年中児版

図形：同図形3

左の形がお手本です。お手本と同じ形を右の中から選んで○をつけます。



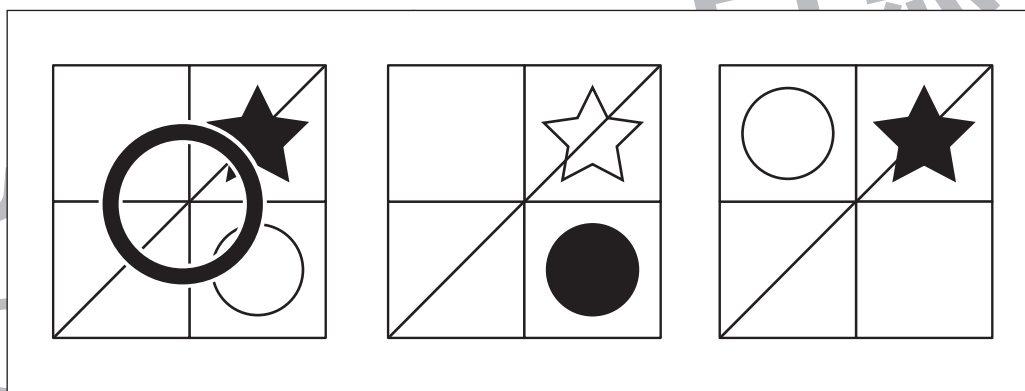
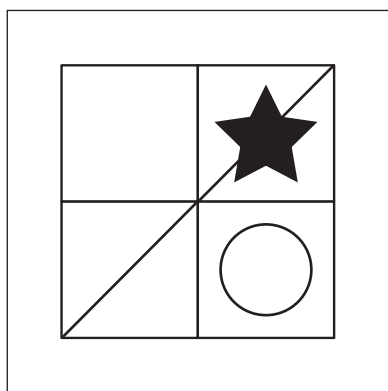
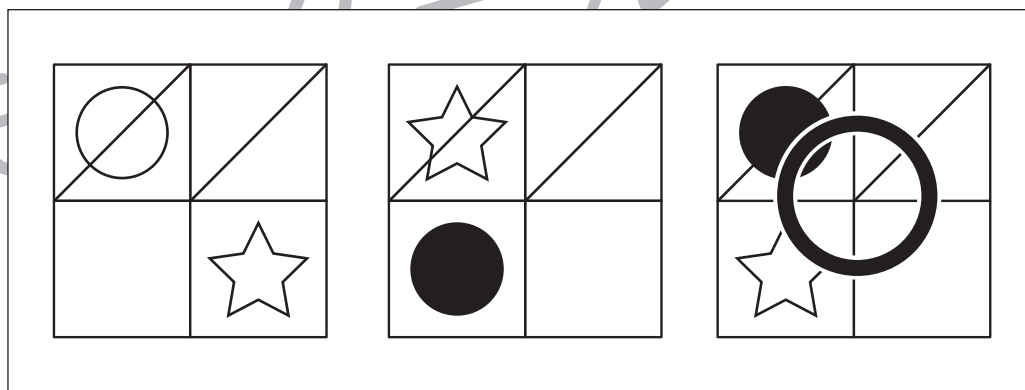
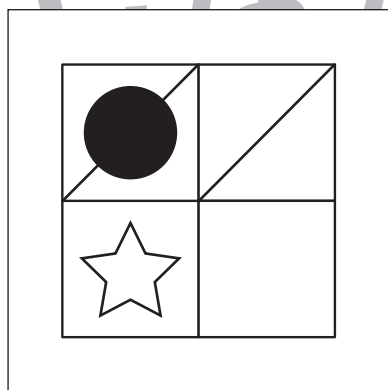
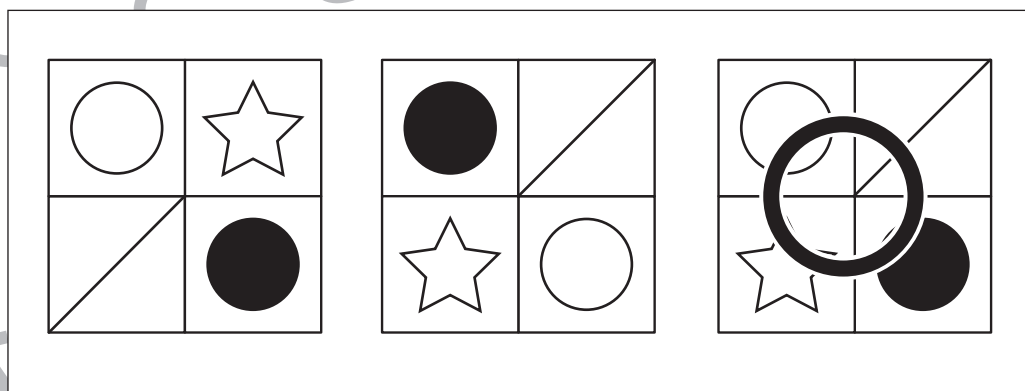
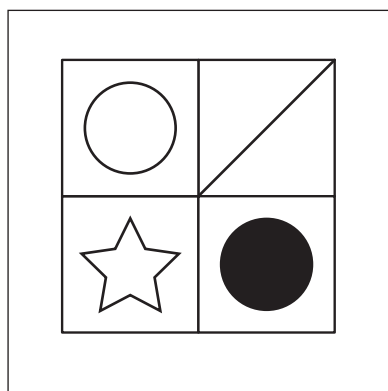

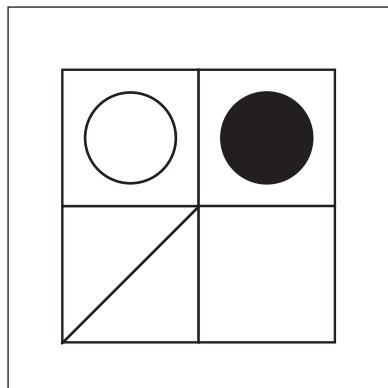
※1. このプリントは、しながわ・目黒こどもスクールのウェブサイトでダウンロードができます。無断複写・引用はご遠慮ください。

※2. このプリントを活用したオンライン授業のスケジュールは、しながわ・目黒こどもスクールのウェブサイトでご確認ください。





左の形がお手本です。お手本と同じものを右の中から選んで○をつけます。



※1. このプリントは、しながわ・目黒こどもスクールのウェブサイトからダウンロードができます。無断複写・引用はご遠慮ください。  
※2. このプリントを活用したオンライン授業のスケジュールは、しながわ・目黒こどもスクールのウェブサイトでご確認ください。



# おうちで、やろう。

Study at home. 小学校受験の家庭学習教材

## 年中児版

## 図形：平面3

左のレジャーシートを2まい敷ける場所を考えます。  
その場所を囲みましょう。シートの向きを変えたり、  
蜂がいる場所には敷くことはできません。

(右例を参考)




Illustration of two children and a 2x2 mat grid.

→

A 5x5 grid with bees. Two 2x2 areas are highlighted with solid black borders.

Illustration of two children and a 3x3 mat grid.

→

A 5x5 grid with bees. Two 3x3 areas are highlighted with solid black borders.

Illustration of two children and a 3x3 mat grid.

→

A 5x5 grid with bees. Two 3x3 areas are highlighted with solid black borders.

※1. このプリントは、しながわ・目黒こどもスクールのウェブサイトでダウンロードができます。無断複写・引用はご遠慮ください。

※2. このプリントを活用したオンライン授業のスケジュールは、しながわ・目黒こどもスクールのウェブサイトでご確認ください。



# おうちで、やろう。

Study at home. 小学校受験の家庭学習教材

## 年中児版

## 図形：平面4

左のレジャーシートを2まい敷ける場所を考えます。  
その場所を囲みましょう。シートの向きを変えたり、  
蜂がいる場所には敷くことはできません。

(右例を参考)




Illustration of two children and a 2x2 mat on the left. An arrow points to a 6x6 grid on the right. The grid contains several bees. A thick black border is drawn around a 2x2 area in the center of the grid, indicating a valid placement for the mat.

Illustration of two children and a 2x2 mat on the left. An arrow points to a 6x6 grid on the right. The grid contains several bees. A thick black border is drawn around a 2x2 area in the center of the grid, indicating a valid placement for the mat.

Illustration of two children and a 2x2 mat on the left. An arrow points to a 6x6 grid on the right. The grid contains several bees. A thick black border is drawn around a 2x2 area in the center of the grid, indicating a valid placement for the mat.

※1. このプリントは、しながわ・目黒こどもスクールのウェブサイトでダウンロードができます。無断複写・引用はご遠慮ください。

※2. このプリントを活用したオンライン授業のスケジュールは、しながわ・目黒こどもスクールのウェブサイトでご確認ください。





# おうちで、やろう。

Study at home. 小学校受験の家庭学習教材

推理：なぞなぞ3

①～④のなぞなぞをとして、答えに○をつけましょう。


① みせで さかだちを していそうな むしは なんでしょう。

② ばすのなかに 70にん はいると くだもので つくった じゅーすに へんしんします。なんの くだものでしょう。


③ さかさになると かるくなる うみの いきものは なんでしょう。

④ てんきが わるいひに ふってきそうな おかしは なんでしょう。


①



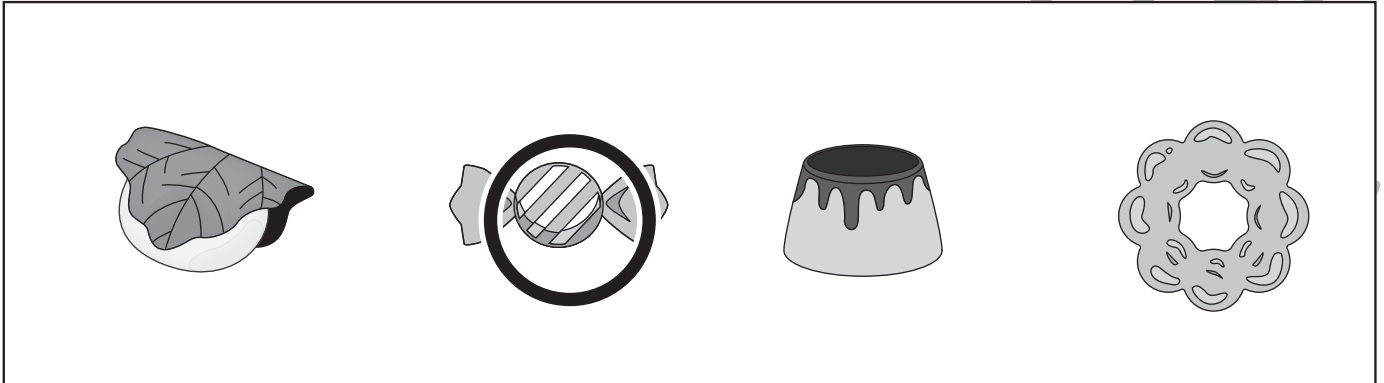
②



③



④



※1. このプリントは、しながわ・目黒こどもスクールのウェブサイトダウンロードができます。無断複写・引用はご遠慮ください。

※2. このプリントを活用したオンライン授業のスケジュールは、しながわ・目黒こどもスクールのウェブサイトでご確認ください。