

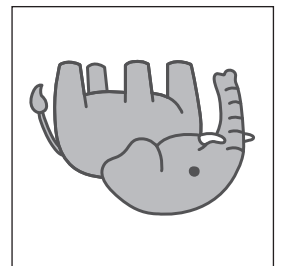
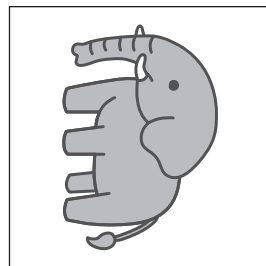
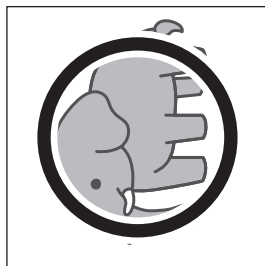
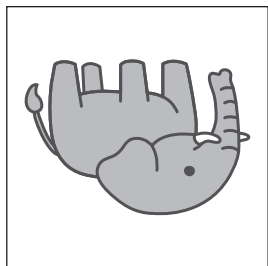















おうちで、やろう。 年中児版

Study at home. 小学校受験の家庭学習教材

図形：回転 1

左の四角を矢印の向きに一回倒したときの見え方を右の四角の中から選んで、○をつけます。



※1. このプリントは、しながわ・目黒こどもスクールのウェブサイトダウンロードができます。無断複写・引用はご遠慮ください。
※2. このプリントを活用したオンライン授業のスケジュールは、しながわ・目黒こどもスクールのウェブサイトでご確認ください。





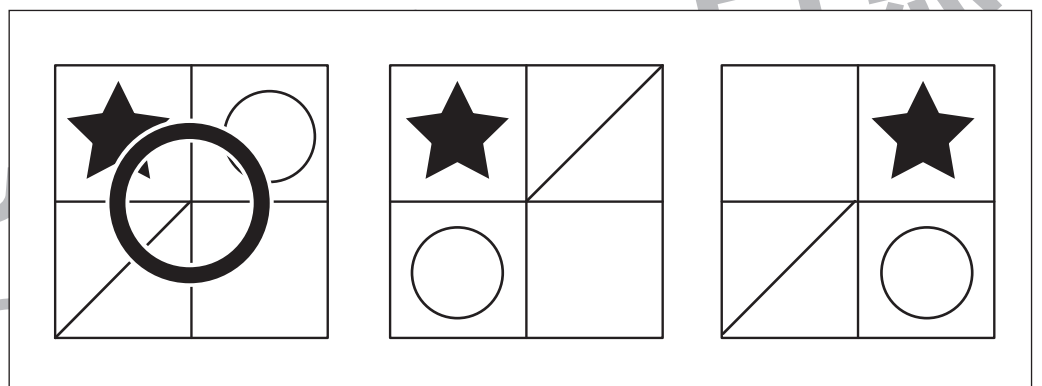
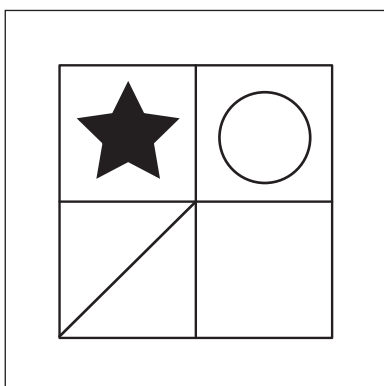
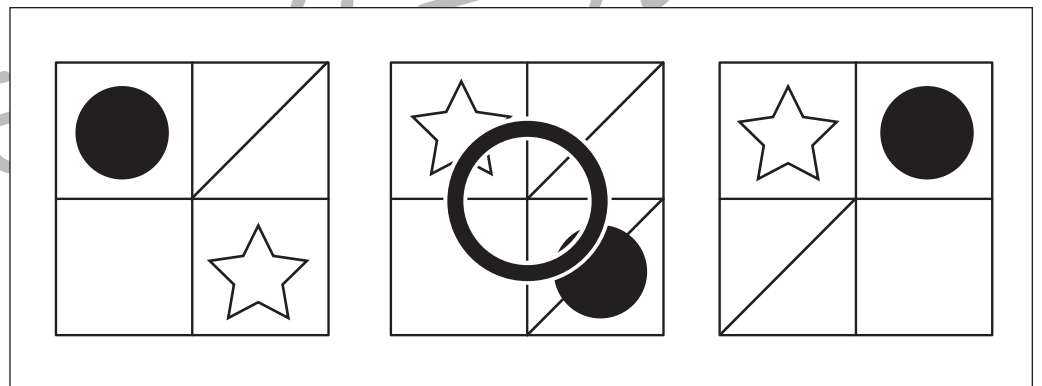
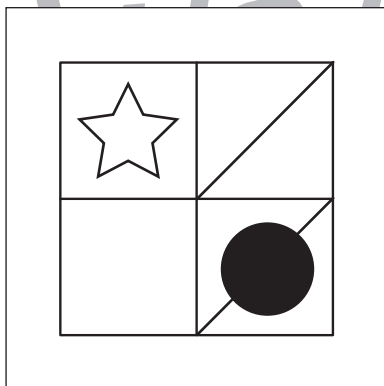
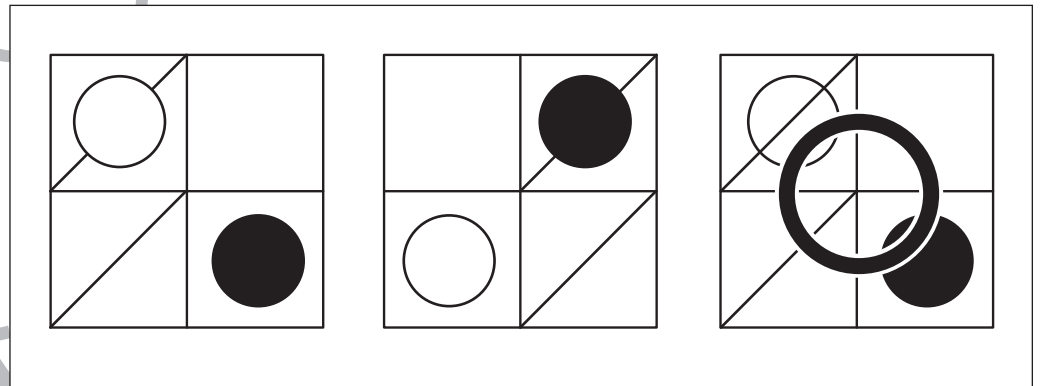
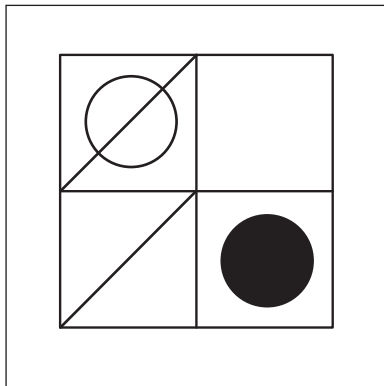
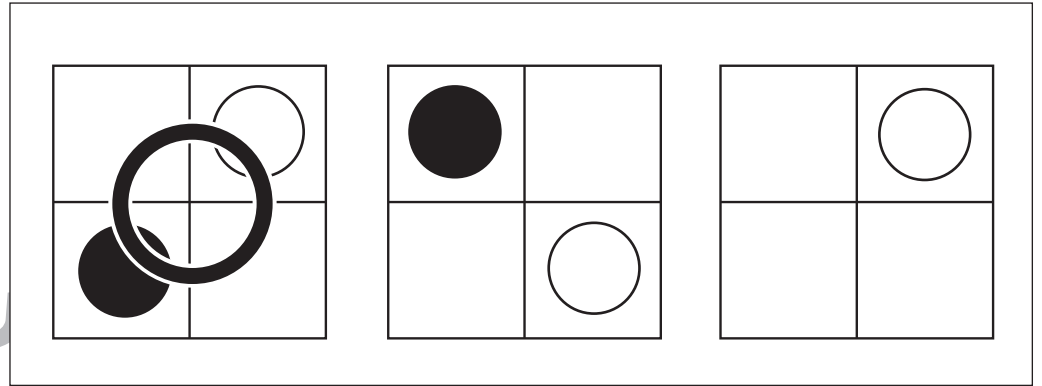
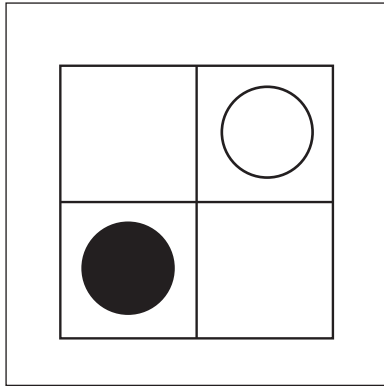
おうちで、やろう。

Study at home. 小学校受験の家庭学習教材

年中児版

図形：同図形5

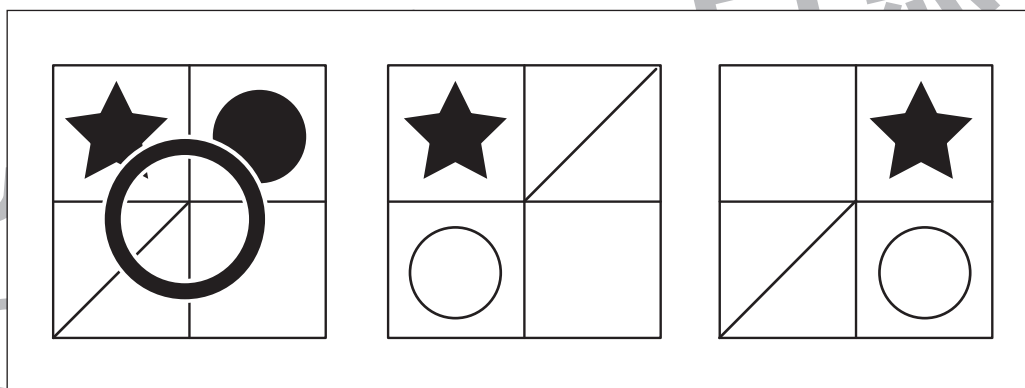


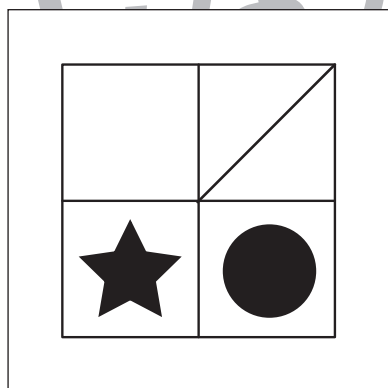
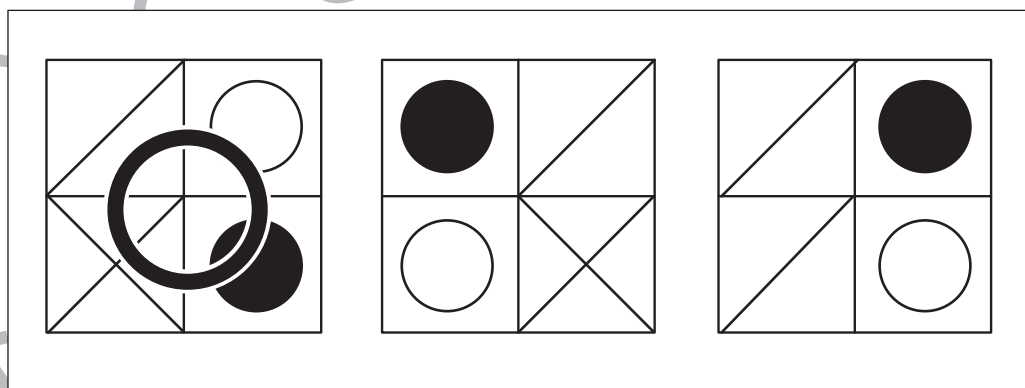
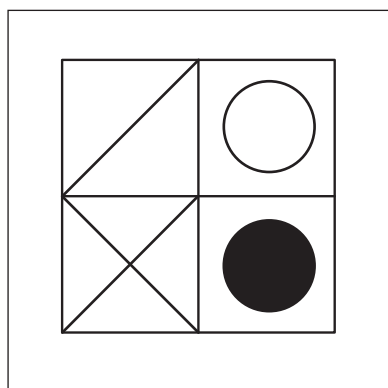
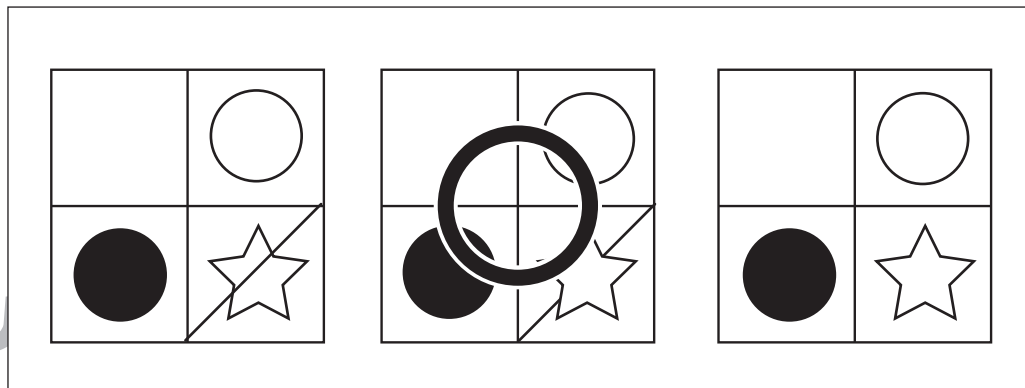
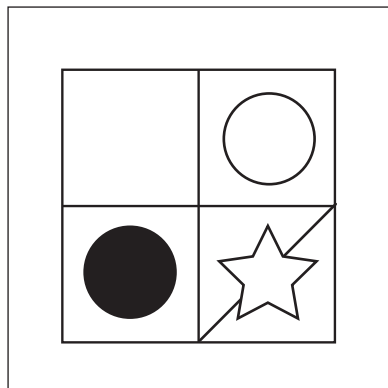
左の形がお手本です。お手本と同じものを右の中から選んで○をつけます。



※1. このプリントは、しながわ・目黒こどもスクールのウェブサイトでダウンロードができます。無断複写・引用はご遠慮ください。
※2. このプリントを活用したオンライン授業のスケジュールは、しながわ・目黒こどもスクールのウェブサイトでご確認ください。



左の形がお手本です。お手本と同じものを右の中から選んで○をつけます。



※1. このプリントは、しながわ・目黒こどもスクールのウェブサイトでダウンロードができます。無断複写・引用はご遠慮ください。

※2. このプリントを活用したオンライン授業のスケジュールは、しながわ・目黒こどもスクールのウェブサイトでご確認ください。





おうちで、やろう。

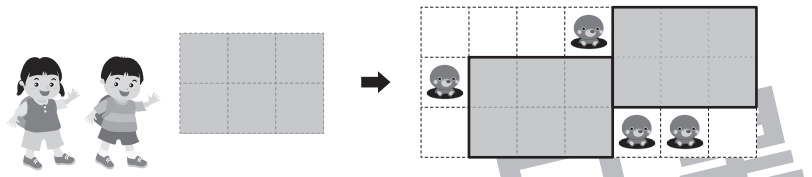
Study at home. 小学校受験の家庭学習教材

年中児版

図形：平面5

左のレジャーシートを敷ける場所をすべて考えます。
その場所を囲みましょう。シートの向きを変えたり、
穴の開いている場所には敷くことはできません。

(右例を参考)



Activity panel 1: A 6x4 grid of chairs. A 2x4 grid of mats is placed on the grid, covering the top two rows. The mats are placed on the 1st and 2nd rows of chairs.

Activity panel 2: A 6x4 grid of chairs. A 3x3 grid of mats is placed on the grid, covering the top three rows and the first three columns. The mats are placed on the 1st, 2nd, and 3rd rows of chairs in the first three columns.

Activity panel 3: A 6x4 grid of chairs. A 3x4 grid of mats is placed on the grid, covering the top three rows. The mats are placed on the 1st, 2nd, and 3rd rows of chairs.

※1. このプリントは、しながわ・目黒こどもスクールのウェブサイトでダウンロードができます。無断複写・引用はご遠慮ください。

※2. このプリントを活用したオンライン授業のスケジュールは、しながわ・目黒こどもスクールのウェブサイトでご確認ください。


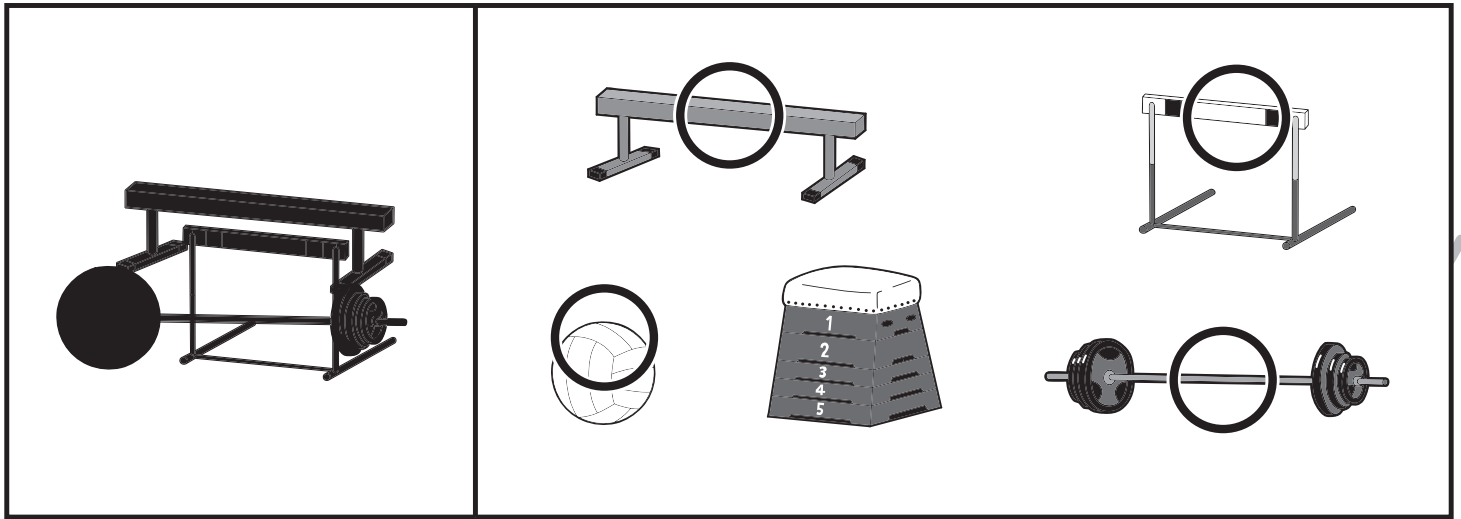


おうちで、やろう。 年中児版

Study at home. 小学校受験の家庭学習教材

推理：影3

左の四角の中は、右の四角の中の絵が影になって重なっています。影になっている絵を右の四角の中から見つけて○をつけます。



※1. このプリントは、しながわ・目黒こどもスクールのウェブサイトでダウンロードができます。無断複写・引用はご遠慮ください。
 ※2. このプリントを活用したオンライン授業のスケジュールは、しながわ・目黒こどもスクールのウェブサイトでご確認ください。

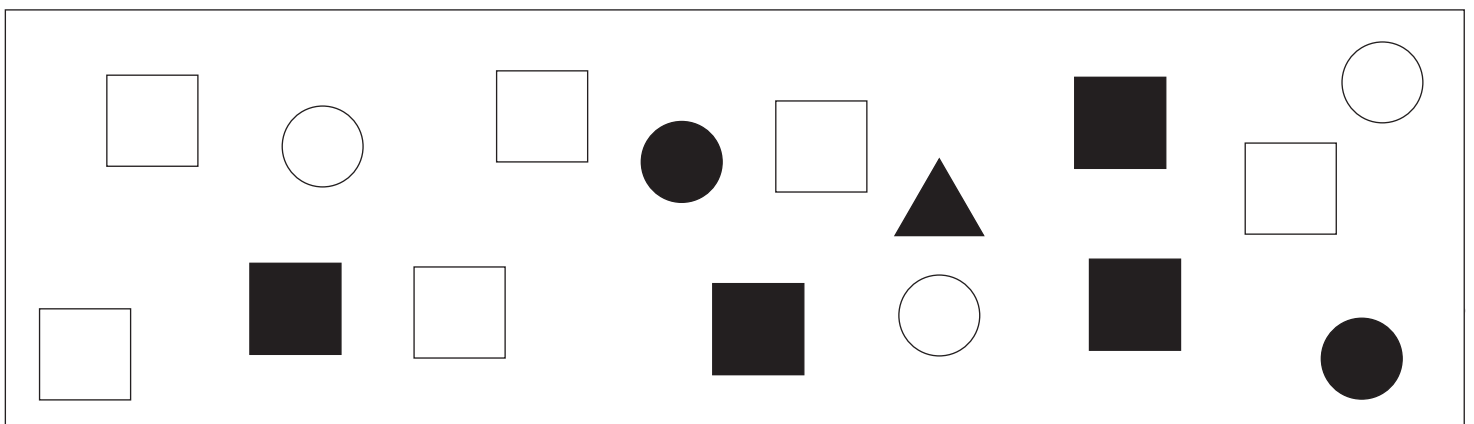


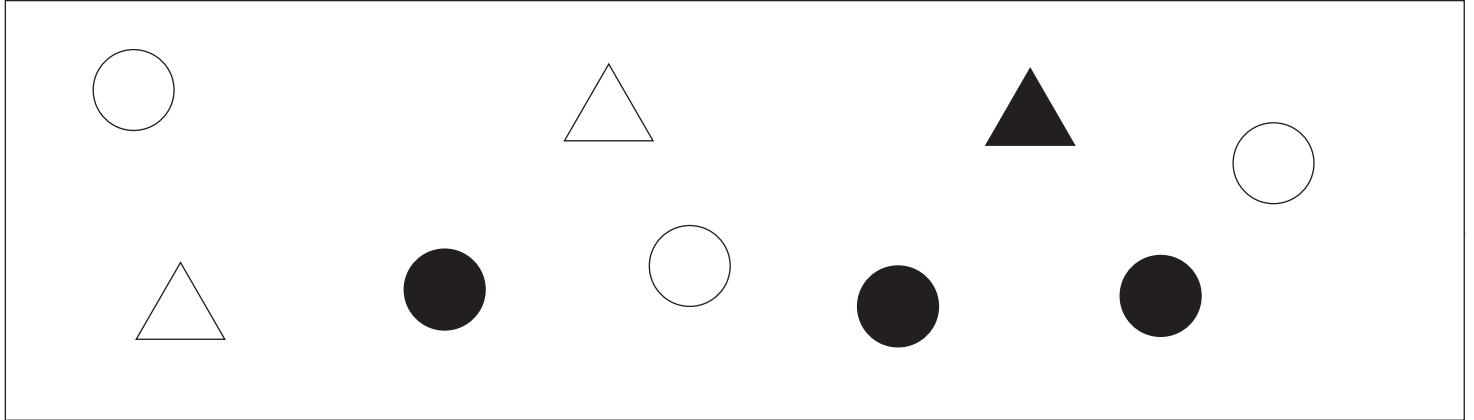


おうちで、よろう。 年中児版

Study at home. 小学校受験の家庭学習教材

数量：計数7

それぞれの四角の中の白い形がいくつあるのかをかぞえて、その数だけ下の四角に○をかきます。



※1. このプリントは、しながわ・目黒こどもスクールのウェブサイトでダウンロードができます。無断複写・引用はご遠慮ください。

※2. このプリントを活用したオンライン授業のスケジュールは、しながわ・目黒こどもスクールのウェブサイトでご確認ください。





おうちで、やろう。 年中児版

Study at home. 小学校受験の家庭学習教材

まちがいさがし3

上下の絵を見比べて、変わっているところを4つ探します。見つけたら、下の絵の変わっている部分に丸をつけます。



ICT 教育の小学校受験

※1. このプリントは、しながわ・目黒こどもスクールのウェブサイトからダウンロードできます。無断複写・引用はご遠慮ください。
 ※2. このプリントを活用したオンライン授業のスケジュールは、しながわ・目黒こどもスクールのウェブサイトでご確認ください。