







# おうちで、やろう。 年中児版

Study at home. 小学校受験の家庭学習教材

言語：音の数 3

左の四角の中の絵と同じ音の数の絵はどれですか。右の四角から見つけて○をつけます。



※1. このプリントは、しながわ・目黒こどもスクールのウェブサイトからダウンロードできます。無断複写・引用はご遠慮ください。

※2. このプリントを活用したオンライン授業のスケジュールは、しながわ・目黒こどもスクールのウェブサイトでご確認ください。



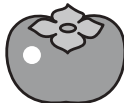



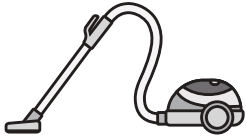



# おうちで、やろう。 年中児版





Study at home. 小学校受験の家庭学習教材


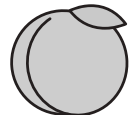


言語：音の数4





左の四角の中の絵と同じ音の数の絵はどれですか。右の四角から見つけて○をつけます。

			
---	---	---	---

			
---	---	--	---

			
---	---	--	---

			
---	---	--	---

			
---	---	--	---

※1. このプリントは、しながわ・目黒こどもスクールのウェブサイトでダウンロードができます。無断複写・引用はご遠慮ください。

※2. このプリントを活用したオンライン授業のスケジュールは、しながわ・目黒こどもスクールのウェブサイトでご確認ください。

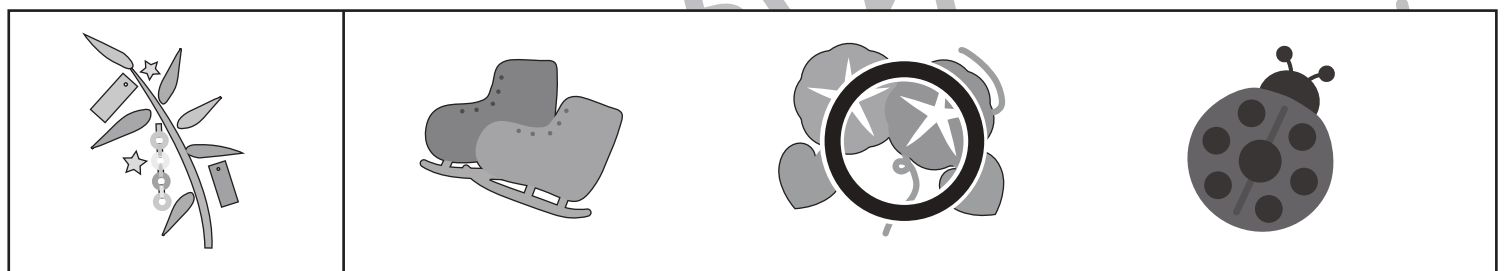
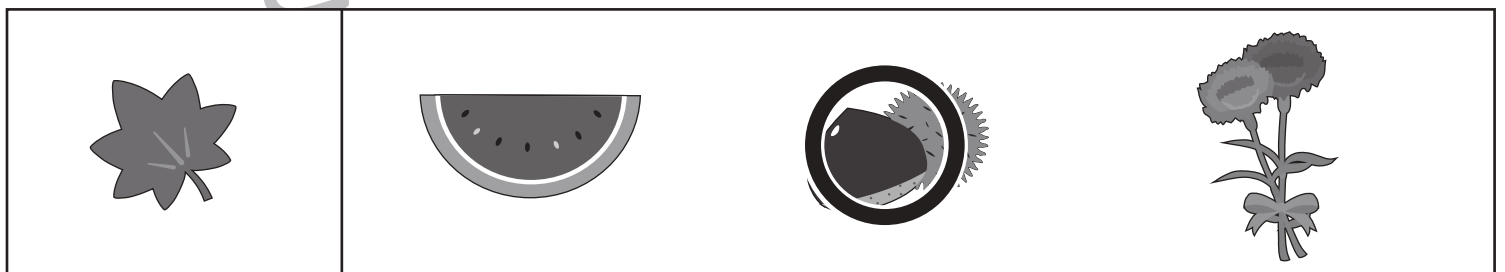
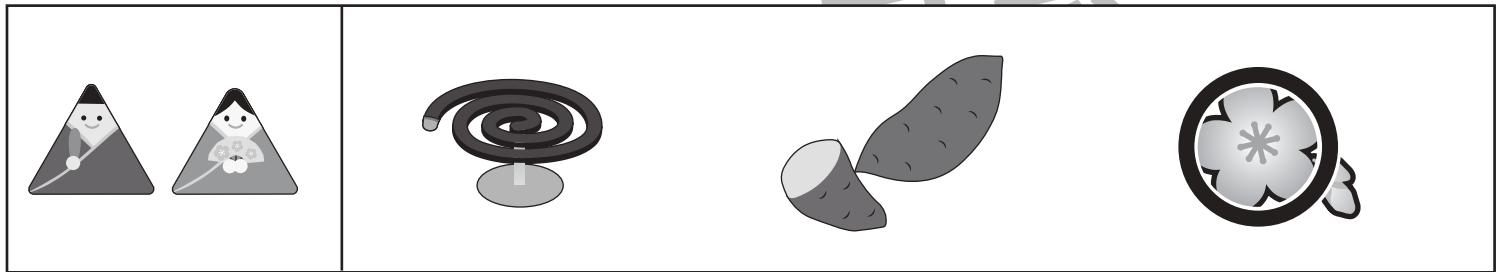



# おうちで、やろう。 年中児版

Study at home. 小学校受験の家庭学習教材

常識：季節5

左の四角の中の絵と同じ季節の絵はどれですか。右の四角から見つけて○をつけます。



※1. このプリントは、しながわ・目黒こどもスクールのウェブサイトでダウンロードができます。無断複写・引用はご遠慮ください。  
 ※2. このプリントを活用したオンライン授業のスケジュールは、しながわ・目黒こどもスクールのウェブサイトでご確認ください。





# おうちで、やろう。 年中児版


Study at home. 小学校受験の家庭学習教材


## 図形：移動 1

四角の中の絵が矢印の方向へマス目を1マスずつ移動していきます。矢印は左から順番に見ていき、最後に着くマスを考えて○をかきます。

↓ ↓ → →		
		
		○

↑ ↑ → ↓		
	○	
		

→ ↑ ← ←		
○		
		

↓ ← ← ↓		
		
○		

※1. このプリントは、しながわ・目黒こどもスクールのウェブサイトでダウンロードができます。無断複写・引用はご遠慮ください。  
 ※2. このプリントを活用したオンライン授業のスケジュールは、しながわ・目黒こどもスクールのウェブサイトでご確認ください。



# おうちで、やろう。 年中児版

Study at home. 小学校受験の家庭学習教材

## 図形：移動2

四角の中の絵が矢印の方向へマス目を1マスずつ移動していきます。矢印は左から順番に見ていき、最後に着くマスを考えて○をかきます。

↑    ↗    →    ↓		
		○
🐰		

→    ↓    ↘    ←		
🐰		
	○	

↑    ↗    ←    ↘		
		○
	🐰	

→    →    ↑    ↙		
🐰	○	

※1. このプリントは、しながわ・目黒こどもスクールのウェブサイトでダウンロードができます。無断複写・引用はご遠慮ください。  
※2. このプリントを活用したオンライン授業のスケジュールは、しながわ・目黒こどもスクールのウェブサイトでご確認ください。







# おうちで、やろう。 年中児版

Study at home. 小学校受験の家庭学習教材

図形：同図形5

左のお手本と同じ並び方をしている場所を全て見つけて囲みましょう。左のお手本は向きを変えたり、回転させてはいけません。



ICT教育の小学校受験

※1. このプリントは、しながわ・目黒こどもスクールのウェブサイトでダウンロードができます。無断複写・引用はご遠慮ください。  
 ※2. このプリントを活用したオンライン授業のスケジュールは、しながわ・目黒こどもスクールのウェブサイトでご確認ください。

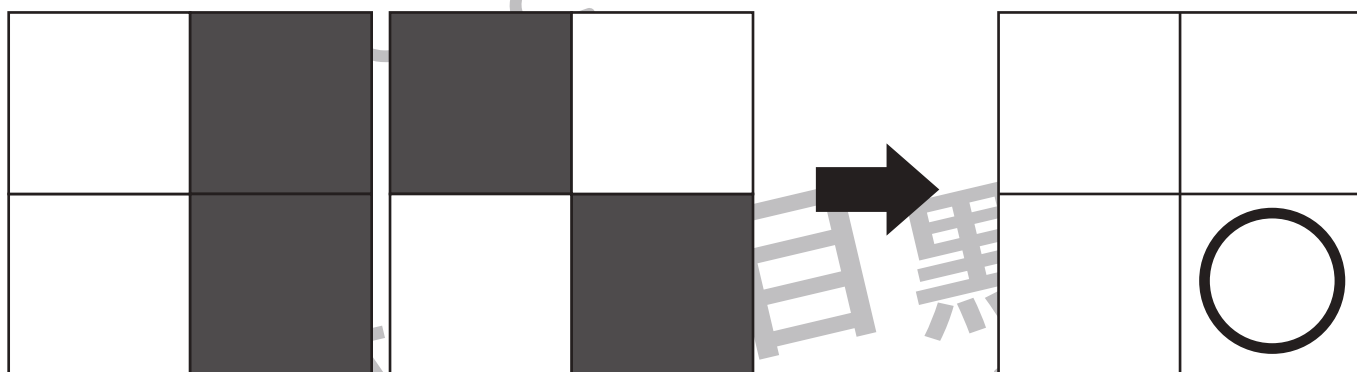
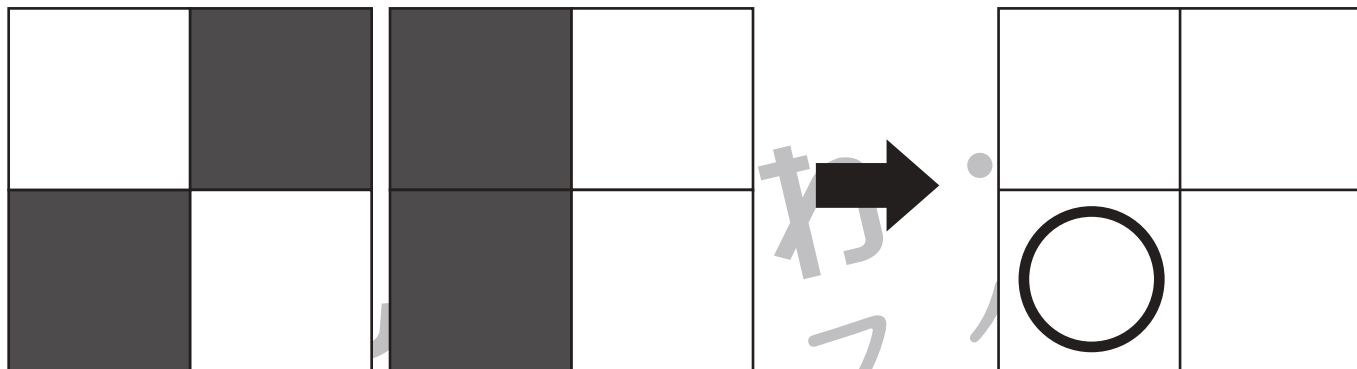


# おうちで、よろう。 年中児版

Study at home. 小学校受験の家庭学習教材

## 推理：条件推理 1

2枚のお手本をよく見て、どちらも黒くなっているマスを探します。その黒いマスと同じところを→の右のマスから選んで○をつけます。



※1. このプリントは、しながわ・目黒こどもスクールのウェブサイトでダウンロードができます。無断複写・引用はご遠慮ください。  
 ※2. このプリントを活用したオンライン授業のスケジュールは、しながわ・目黒こどもスクールのウェブサイトでご確認ください。



# おうちで、よろう。 年中児版

Study at home. 小学校受験の家庭学習教材

## 推理：条件推理 2

2枚のお手本をよく見て、どちらも黒くなっているマスを探します。その黒いマスと同じところを→の右のマスから選んで○をつけます。

	■	■
		■

	■	
	■	
	■	

→

	○	

■		■
	■	

■		
■		■

→

○		○

■		■
		■

■	■	■

→

○		○

■		
■		■
		■

■		■
		■

→

○		
		○

※1. このプリントは、しながわ・目黒こどもスクールのウェブサイトでダウンロードができます。無断複写・引用はご遠慮ください。

※2. このプリントを活用したオンライン授業のスケジュールは、しながわ・目黒こどもスクールのウェブサイトでご確認ください。