





おうちで、やろう。

Study at home. 小学校受験の家庭学習教材



図形：移動6

四角の中の絵が矢印の方向へマス目を1マスずつ移動していきます。矢印は左から順番に見ていき、最後に着くマスを考えて△をかきます。



↓ ↗ ↗ ↗ ↓ ↓ ↓



↙ → ↑ ← ↙ ↙ ↑

↓ → ↑ ← ↘ ↖ ↑

→ ↓ ← ↓ ↘ ↖ ↑

※1. このプリントは、しながわ・目黒こどもスクールのウェブサイトでダウンロードできます。無断複写・引用はご遠慮ください。
※2. このプリントを活用したオンライン授業のスケジュールは、しながわ・目黒こどもスクールのウェブサイトでご確認ください。



おうちで、やろう。

Study at home. 小学校受験の家庭学習教材

図形：移動7

四角の中の絵が矢印の方向へマス目を1マスずつ移動していきます。矢印は左から順番に見ていき、最後に着くマスを考えて△をかきます。

↓ ↗ → ↓ → ↑ ↑

				△
	🚗			

↑ ↑ ← ← ↙ → ↑

		△		
				🚗

↓ ↖ ↑ ← ← ↖ ↑

△				
				🚗

→ ↓ → ↓ ↘ ↓ ↖

	🚗			
			△	

※1. このプリントは、しながわ・目黒こどもスクールのウェブサイトでダウンロードができます。無断複写・引用はご遠慮ください。
 ※2. このプリントを活用したオンライン授業のスケジュールは、しながわ・目黒こどもスクールのウェブサイトでご確認ください。





おうちで、やろう。

Study at home. 小学校受験の家庭学習教材



図形：移動8

四角の中の絵が矢印の方向へマス目を1マスずつ移動していきます。矢印は左から順番に見ていき、最後に着くマスを考えて△をかきます。



↓ ← ↓ ↗ ↓ ↘ ↘



→ ↑ → → ↓ ↘ ↑

→ ↓ → → ↖ ↑ ↗

← ↓ ↘ ↘ ↓ ← ←

※1. このプリントは、しながわ・目黒こどもスクールのウェブサイトでダウンロードができます。無断複写・引用はご遠慮ください。
※2. このプリントを活用したオンライン授業のスケジュールは、しながわ・目黒こどもスクールのウェブサイトでご確認ください。




おうちで、やろう。


Study at home. 小学校受験の家庭学習教材

図形：同図形5


上のお手本と下のマスと同じ形にします。下のマスのどこかをハンマーで叩いて壊して上のお手本と同じにするには、どのマスが
いらない部分になりますか。その場所をすべて選んで、斜め線（/）をつけましょう。




Hand holding a hammer icon.




Hand holding a hammer icon.




Hand holding a hammer icon.



Hand holding a hammer icon.



Hand holding a hammer icon.



Hand holding a hammer icon.

ICT 教育の小学校受験

※1. このプリントは、しながわ・目黒こどもスクールのウェブサイトでダウンロードができます。無断複写・引用はご遠慮ください。

※2. このプリントを活用したオンライン授業のスケジュールは、しながわ・目黒こどもスクールのウェブサイトでご確認ください。



おうちで、やろう。

Study at home. 小学校受験の家庭学習教材

図形：同図形 6

上のお手本と下のマスと同じ形にします。下のマスのどこかをハンマーで叩いて壊して上のお手本と同じにするには、どのマスが
いらない部分になりますか。その場所をすべて選んで、斜め線（/）をつけましょう。

■		
■	■	■
■		

	/	/
	/	/

		■
■		■
■	■	■

/	/	/
	/	

■	■	
■		■
		■

		/
	/	
/	/	

		■
■		
■	■	■

/	/	
	/	/

■	■	
	■	■
■	■	

		/
/		
		/

■	■	
■		■

		/
/	/	/
	/	

ICT 教育の小学校受験

※1. このプリントは、しながわ・目黒こどもスクールのウェブサイトでダウンロードができます。無断複写・引用はご遠慮ください。

※2. このプリントを活用したオンライン授業のスケジュールは、しながわ・目黒こどもスクールのウェブサイトでご確認ください。




おうちで、やろう。

Study at home. 小学校受験の家庭学習教材


図形：同図形 7

上のお手本と下のマスと同じ形にします。下のマスのどこかをハンマーで叩いて壊して上のお手本と同じにするには、どのマスが
いない部分になりますか。その場所をすべて選んで、斜め線（/）をつけましょう。




Top: A shape made of 6 squares. Row 1: 1 square. Row 2: 3 squares. Row 3: 1 square.

Bottom: A 3x3 grid with diagonal lines in the top-right, middle-left, and bottom-right cells.




Top: A shape made of 6 squares. Row 1: 1 square. Row 2: 3 squares. Row 3: 2 squares.

Bottom: A 3x3 grid with diagonal lines in the top-right, middle-left, and bottom-left cells.




Top: A shape made of 6 squares. Row 1: 1 square. Row 2: 2 squares. Row 3: 2 squares. Row 4: 2 squares.

Bottom: A 3x3 grid with diagonal lines in the top-right, middle-left, and bottom-right cells.




Top: A shape made of 6 squares. Row 1: 1 square. Row 2: 3 squares. Row 3: 2 squares.

Bottom: A 3x3 grid with diagonal lines in the top-left, middle-left, and bottom-left cells.



Top: A shape made of 6 squares. Row 1: 2 squares. Row 2: 2 squares. Row 3: 2 squares.

Bottom: A 3x3 grid with diagonal lines in the top-right, middle-left, and bottom-right cells.



Top: A shape made of 4 squares. Row 1: 1 square. Row 2: 1 square. Row 3: 2 squares.

Bottom: A 3x3 grid with diagonal lines in the top-right, middle-left, and bottom-right cells.

ICT 教育の小学校受験

※1. このプリントは、しながわ・目黒こどもスクールのウェブサイトでダウンロードができます。無断複写・引用はご遠慮ください。
※2. このプリントを活用したオンライン授業のスケジュールは、しながわ・目黒こどもスクールのウェブサイトでご確認ください。



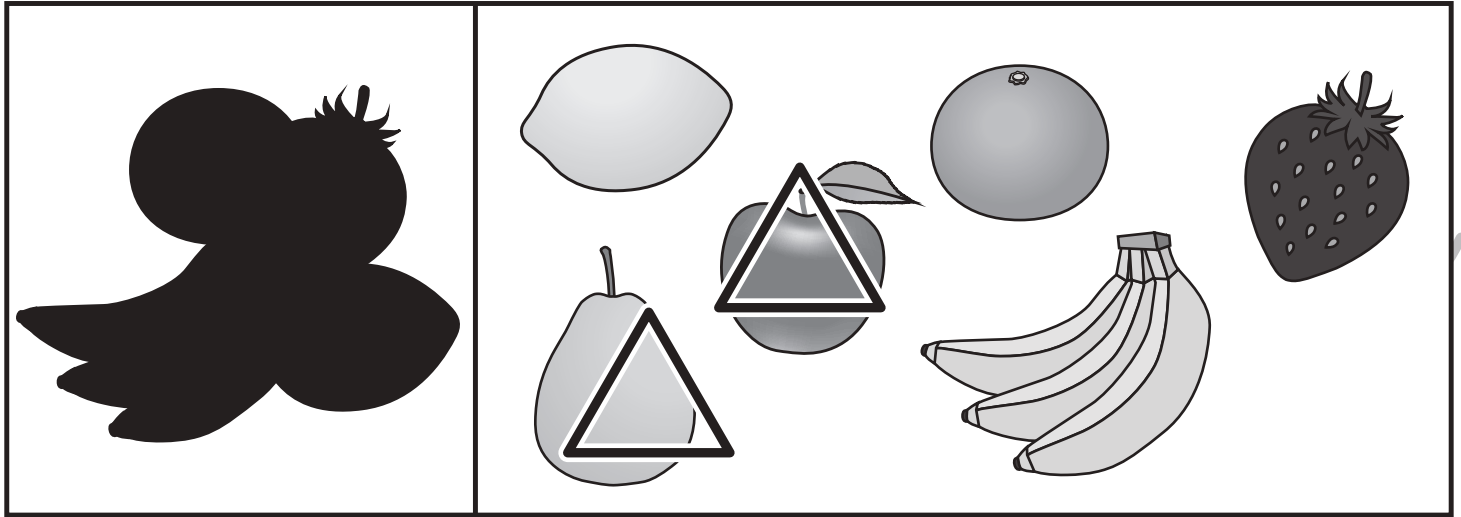


おうちで、やろう。

Study at home. 小学校受験の家庭学習教材

推理：影3

左の四角の中には絵が影になって重なっています。影になっていない絵を右の四角の中から見つけて△をつけます。



※1. このプリントは、しながわ・目黒こどもスクールのウェブサイトでダウンロードができます。無断複写・引用はご遠慮ください。

※2. このプリントを活用したオンライン授業のスケジュールは、しながわ・目黒こどもスクールのウェブサイトでご確認ください。

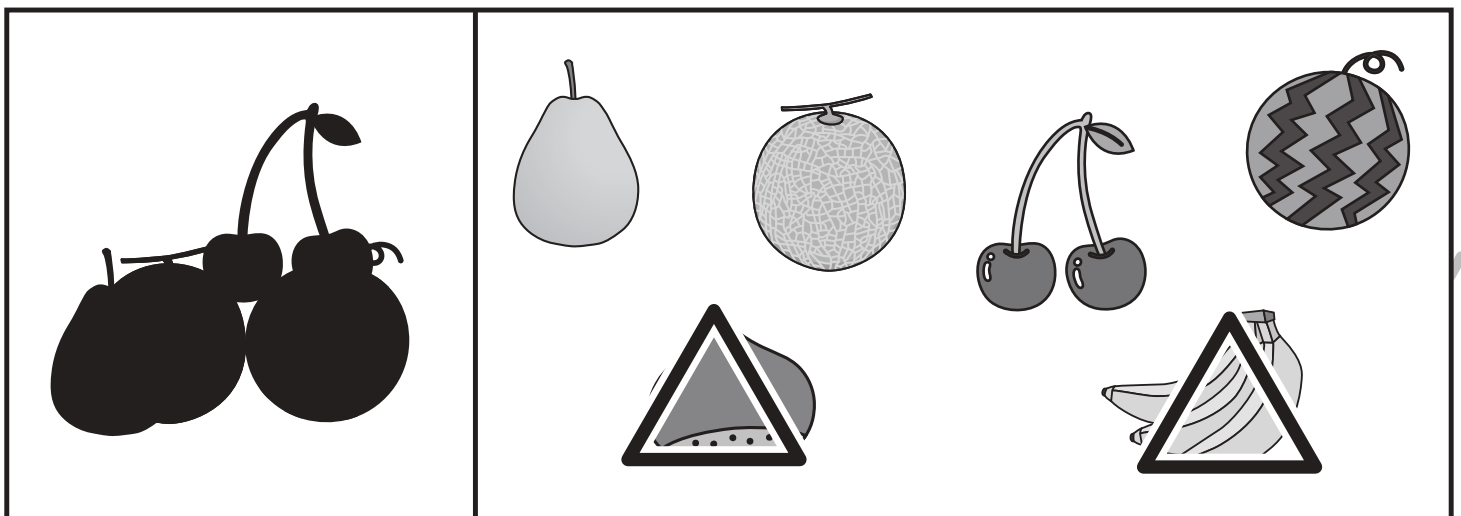




おうちで、やろう。

Study at home. 小学校受験の家庭学習教材

推理：影4

左の四角の中には絵が影になって重なっています。影になっていない絵を右の四角の中から見つけて△をつけます。



※1. このプリントは、しながわ・目黒こどもスクールのウェブサイトでダウンロードができます。無断複写・引用はご遠慮ください。

※2. このプリントを活用したオンライン授業のスケジュールは、しながわ・目黒こどもスクールのウェブサイトでご確認ください。




おうちで、やろう。

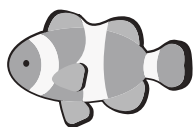
Study at home. 小学校受験の家庭学習教材

数量：計数 12


四角の中にある絵を数えます。それぞれの数だけ〇を下の四角に書きましょう。かぞえない絵が混ざっていたり、絵の向きが変わっているときもあります。注意して探しましょう。




$$\bigcirc \times 4$$



$$\bigcirc \times 3$$



$$\bigcirc \times 5$$



$$\bigcirc \times 2$$

※1. このプリントは、しながわ・目黒こどもスクールのウェブサイトでダウンロードができます。無断複写・引用はご遠慮ください。

※2. このプリントを活用したオンライン授業のスケジュールは、しながわ・目黒こどもスクールのウェブサイトでご確認ください。

