

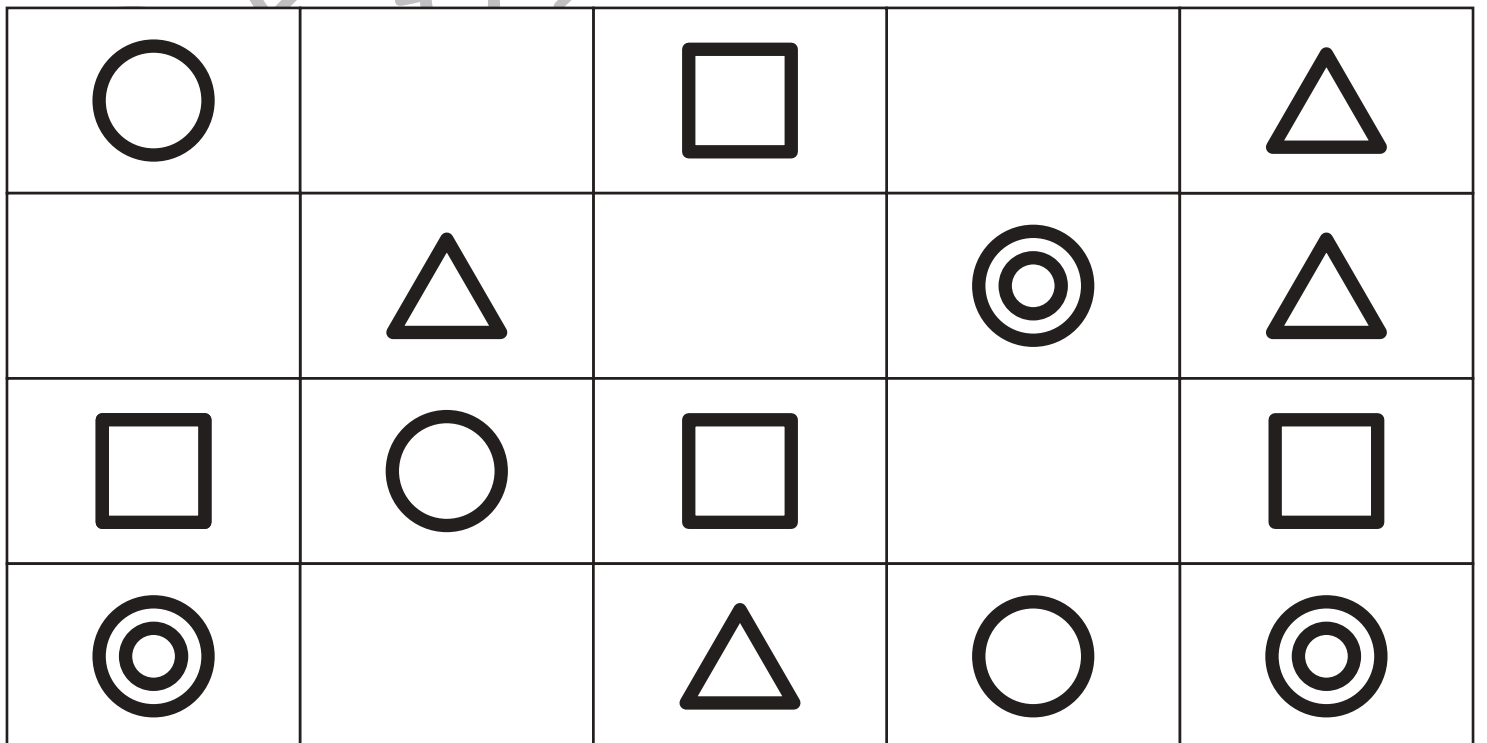

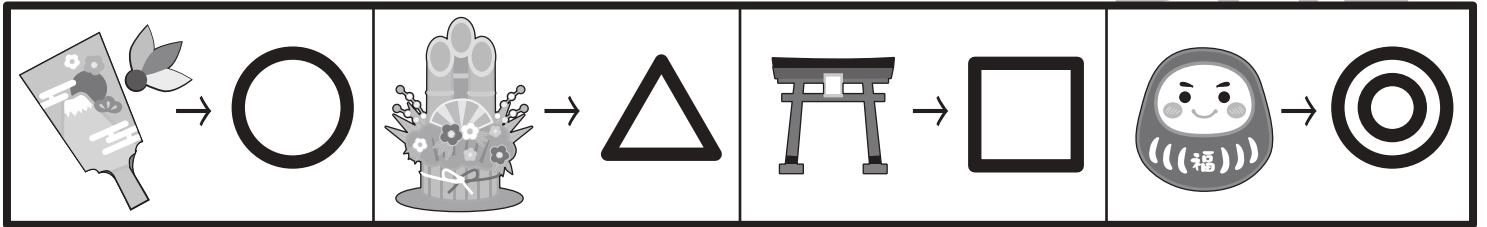


おうちで、やろう。新年長児版

Study at home. 小学校受験の家庭学習教材

処理能力：置き換え5

上の太枠の約束のとおり、絵を矢印の先の記号に変身させます。上のマスにある絵の場所をよく考えて、下のマスに変身させた記号を書きましょう。



※1. このプリントは、しながわ・目黒こどもスクールのウェブサイトからダウンロードできます。無断複写・引用はご遠慮ください。
 ※2. このプリントを活用したオンライン授業のスケジュールは、しながわ・目黒こどもスクールのウェブサイトでご確認ください。

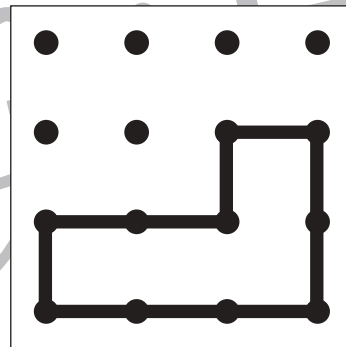
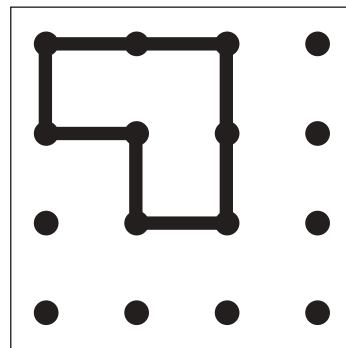
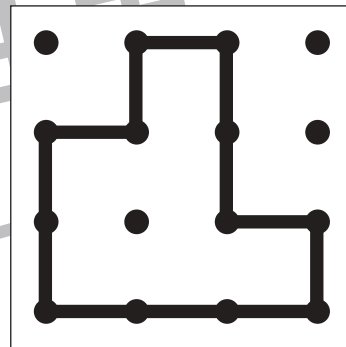
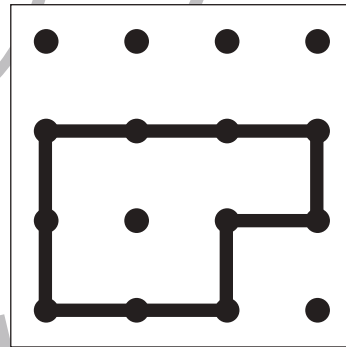
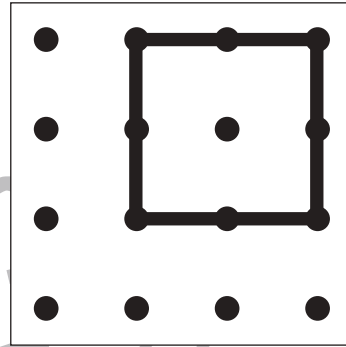
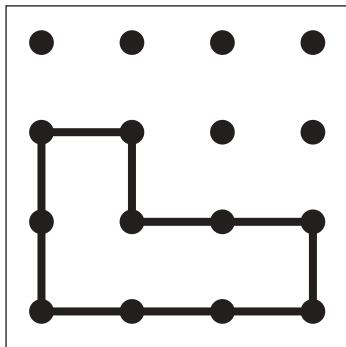
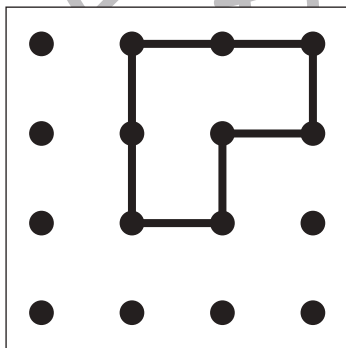
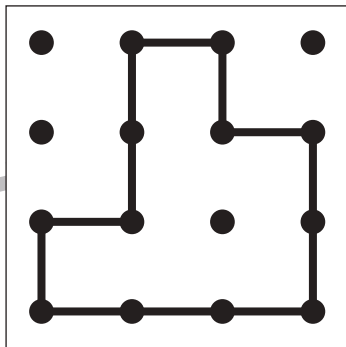
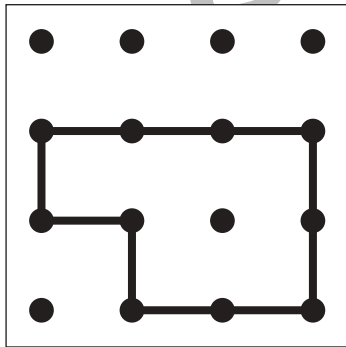
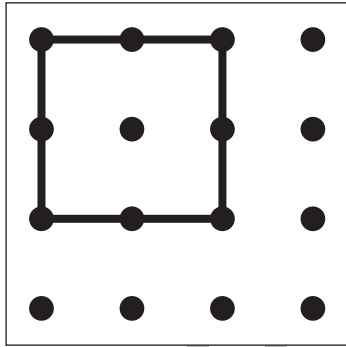


おうちで、やろう。

Study at home. 小学校受験の家庭学習教材

図形：鏡7

左の点図形を黒い線の上に鏡を置いて見た時の見え方を考えて、右の四角に描きます。



黒
ル

黒
ル

※1. このプリントは、しながわ・目黒こどもスクールのウェブサイトでダウンロードができます。無断複写・引用はご遠慮ください。
※2. このプリントを活用したオンライン授業のスケジュールは、しながわ・目黒こどもスクールのウェブサイトでご確認ください。



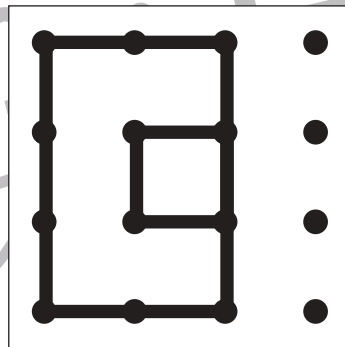
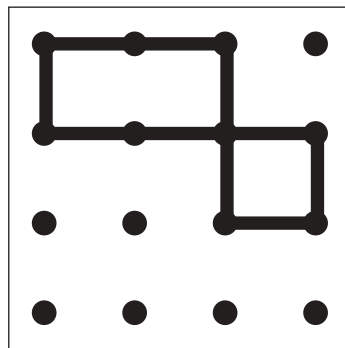
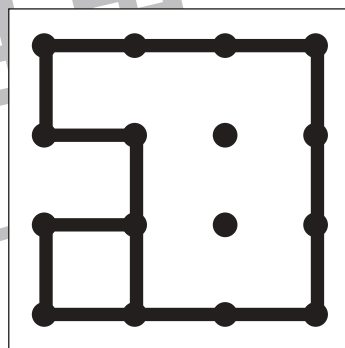
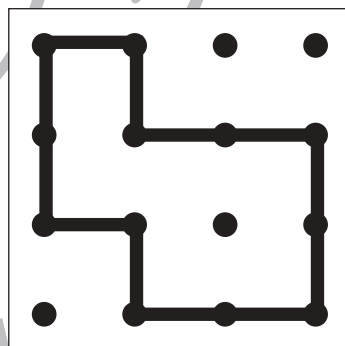
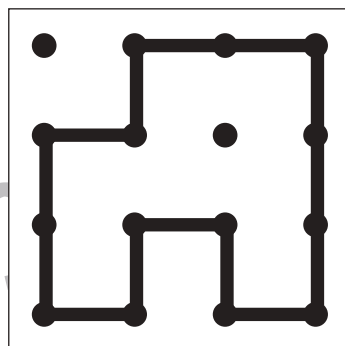
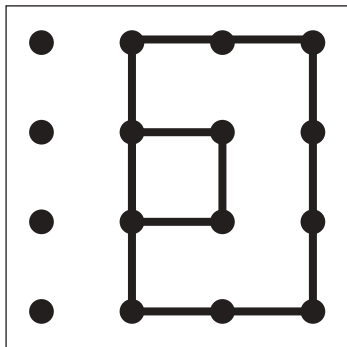
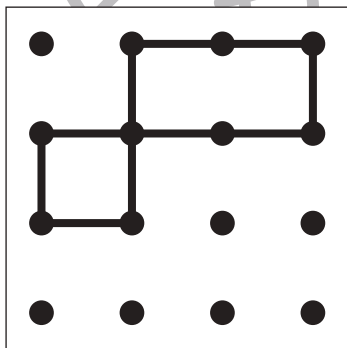
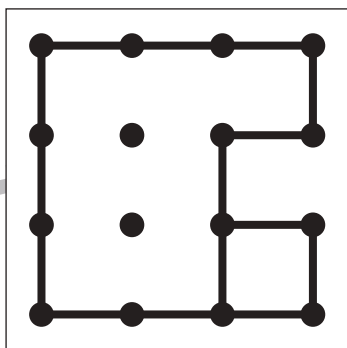
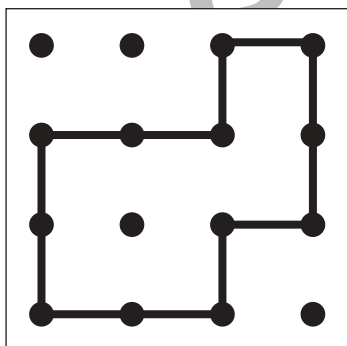
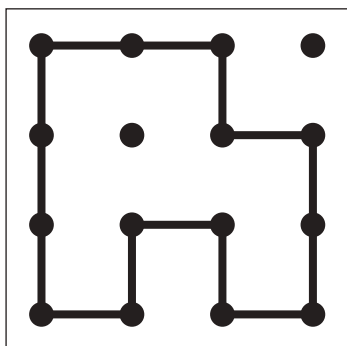


おうちで、やろう。

Study at home. 小学校受験の家庭学習教材

図形：鏡 8

左の点図形を黒い線の上に鏡を置いて見た時の見え方を考えて、右の四角に描きます。



黒
ル

黒
ル

※1. このプリントは、しながわ・目黒こどもスクールのウェブサイトでダウンロードができます。無断複写・引用はご遠慮ください。
※2. このプリントを活用したオンライン授業のスケジュールは、しながわ・目黒こどもスクールのウェブサイトでご確認ください。



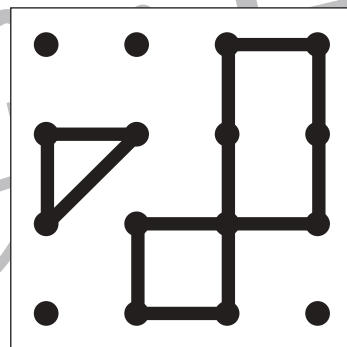
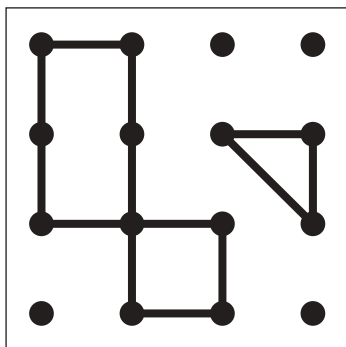
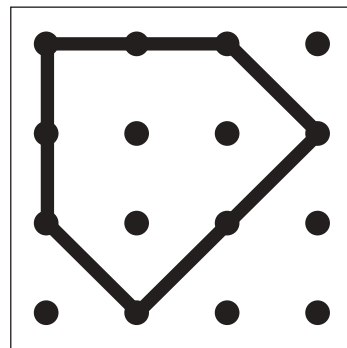
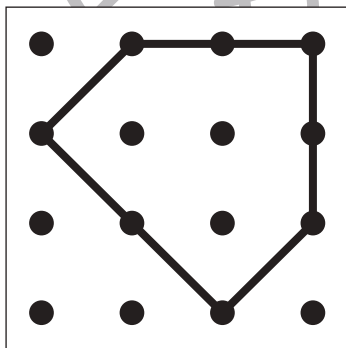
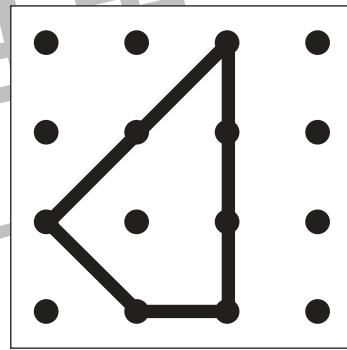
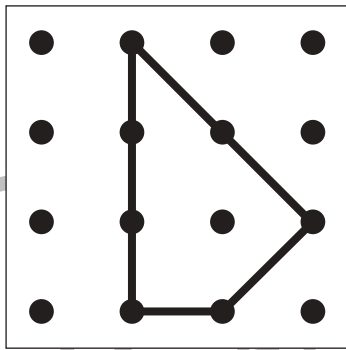
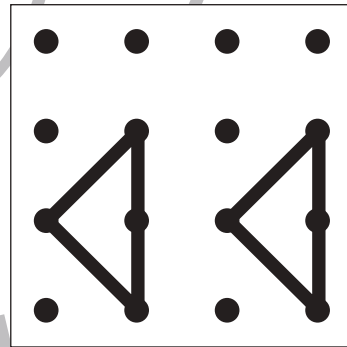
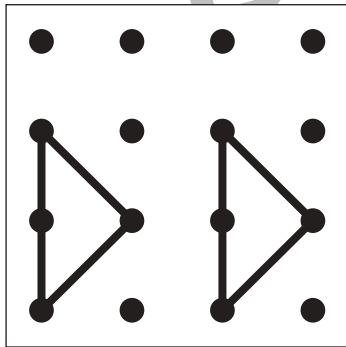
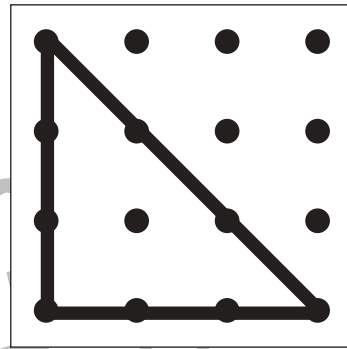
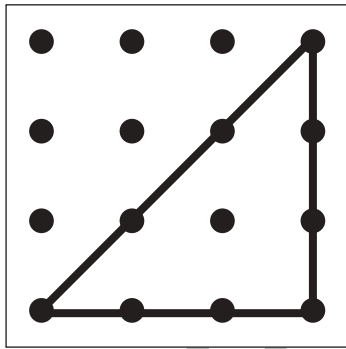


おうちで、やろう。

Study at home. 小学校受験の家庭学習教材

図形：鏡 9

左の点図形を黒い線の上に鏡を置いて見た時の見え方を考えて、右の四角に描きます。



黒
ル

黒
ル

※1. このプリントは、しながわ・目黒こどもスクールのウェブサイトでダウンロードができます。無断複写・引用はご遠慮ください。
※2. このプリントを活用したオンライン授業のスケジュールは、しながわ・目黒こどもスクールのウェブサイトでご確認ください。





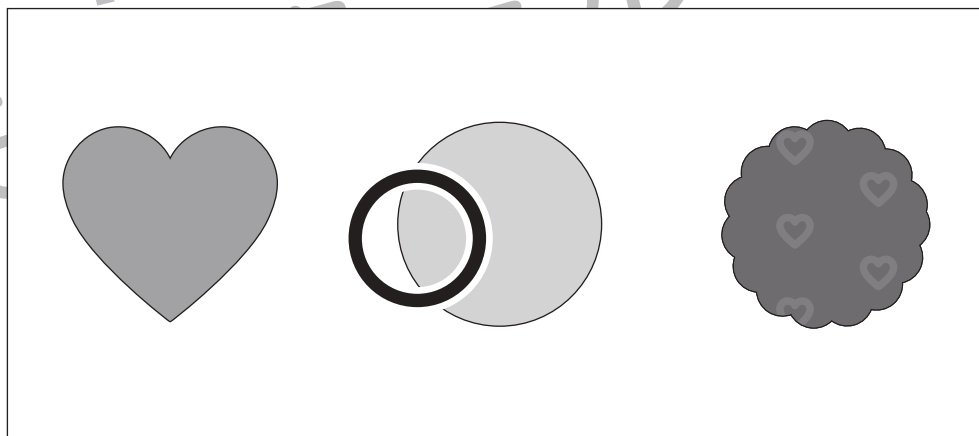


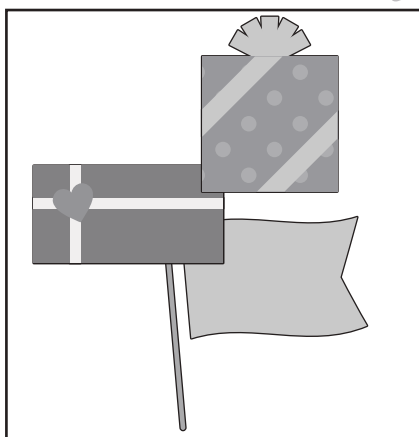
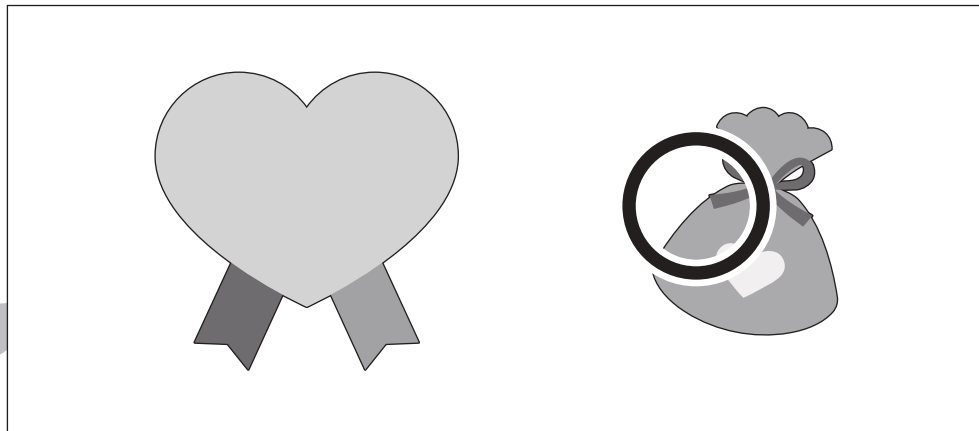



おうちで、やろう。

Study at home. 小学校受験の家庭学習教材

推理：順位付け 4

左の四角の中にはいろいろな絵が重なった形があります。一番上にある形がどれかを考えて右の四角の中の絵に○をつけます。



※1. このプリントは、しながわ・目黒こどもスクールのウェブサイトからダウンロードができます。無断複写・引用はご遠慮ください。
※2. このプリントを活用したオンライン授業のスケジュールは、しながわ・目黒こどもスクールのウェブサイトでご確認ください。





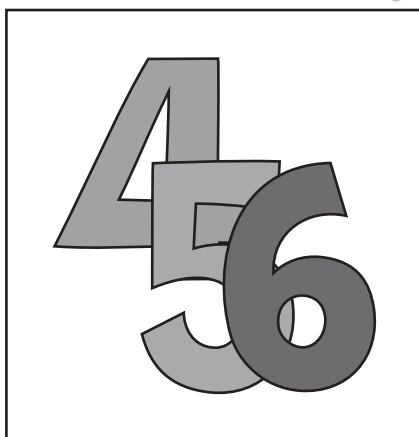



おうちで、やろう。

Study at home. 小学校受験の家庭学習教材

推理：順位付け5

左の四角の中にはいろいろな絵が重なった形があります。一番上にある形がどれかを考えて右の四角の中の絵に○をつけます。



※1. このプリントは、しながわ・目黒こどもスクールのウェブサイトからダウンロードできます。無断複写・引用はご遠慮ください。

※2. このプリントを活用したオンライン授業のスケジュールは、しながわ・目黒こどもスクールのウェブサイトでご確認ください。



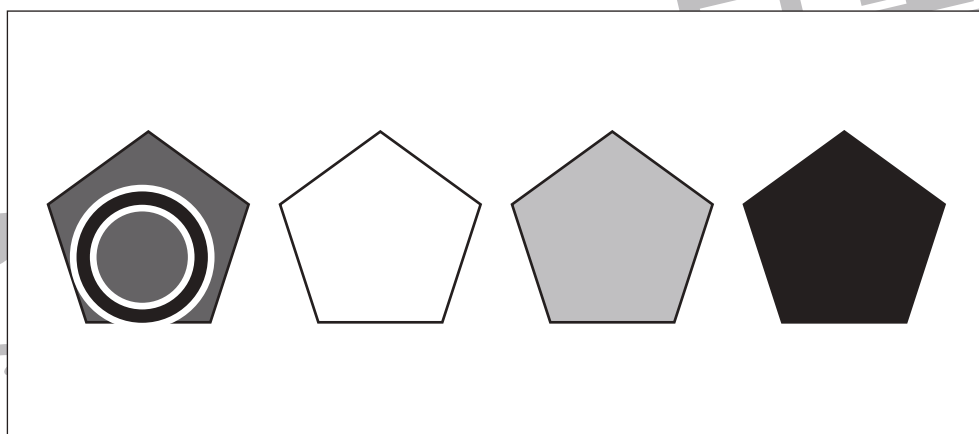
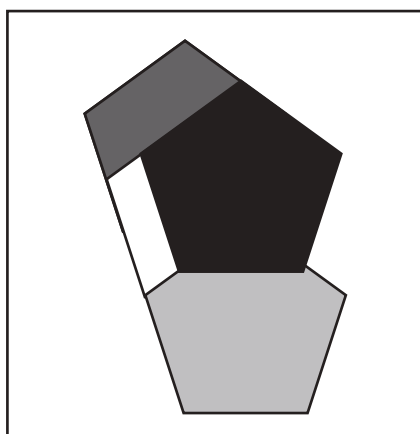
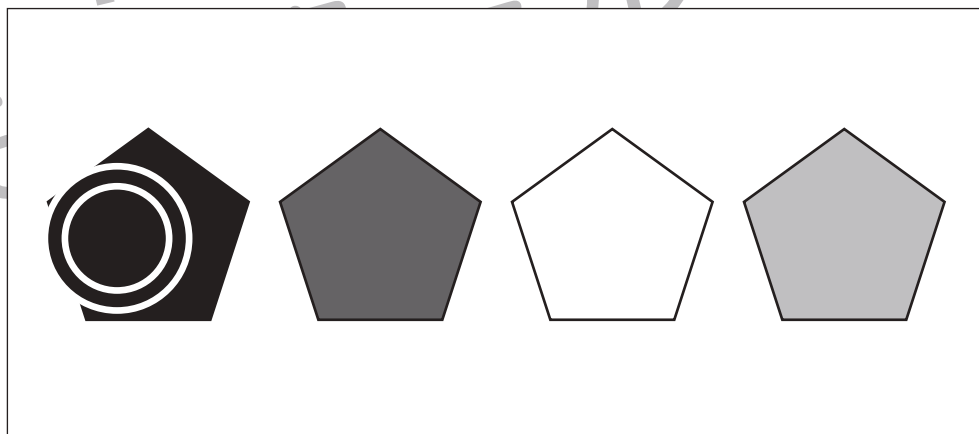
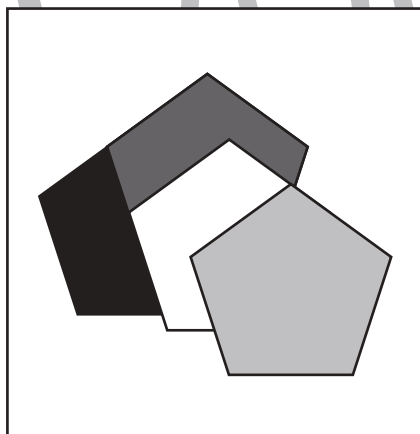


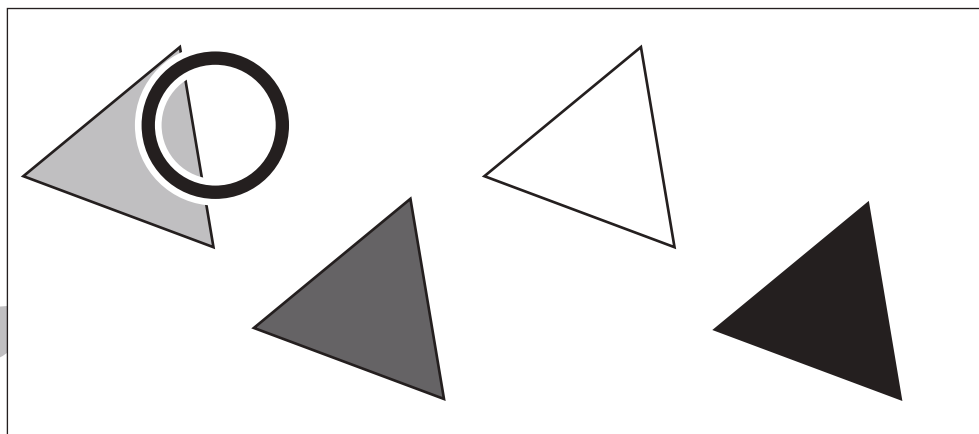
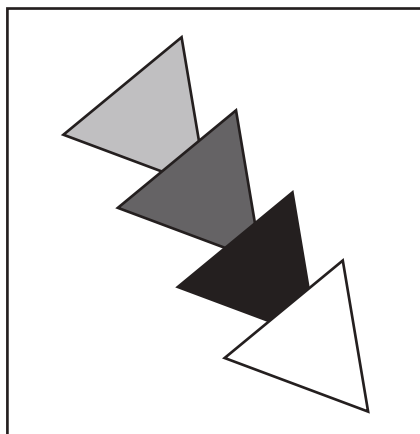


おうちで、やろう。

Study at home. 小学校受験の家庭学習教材

推理：順位付け6

左の四角の中にはいろいろな絵が重なった形があります。一番下にある絵がどれかを考えて右の四角の中の絵に○をつけます。



※1. このプリントは、しながわ・目黒こどもスクールのウェブサイトでダウンロードができます。無断複写・引用はご遠慮ください。

※2. このプリントを活用したオンライン授業のスケジュールは、しながわ・目黒こどもスクールのウェブサイトでご確認ください。






おうちで、やろう。

Study at home. 小学校受験の家庭学習教材

数量：分割 10

下の四角の中のものを太い四角の中の子どもたちで同じ数になるようにわけます。同じ数に分けられるものには○を、分けられないものには×をつけます。



目黒
ール

※1. このプリントは、しながわ・目黒こどもスクールのウェブサイトからダウンロードできます。無断複写・引用はご遠慮ください。
 ※2. このプリントを活用したオンライン授業のスケジュールは、しながわ・目黒こどもスクールのウェブサイトでご確認ください。




おうちで、やろう。

Study at home. 小学校受験の家庭学習教材

数量：分割 11

下の四角の中のものを太い四角の中の子どもたちで同じ数になるようにわけます。同じ数に分けられるものには○を、分けられないものには×をつけます。



目黒
ール

※1. このプリントは、しながわ・目黒こどもスクールのウェブサイトでダウンロードができます。無断複写・引用はご遠慮ください。
 ※2. このプリントを活用したオンライン授業のスケジュールは、しながわ・目黒こどもスクールのウェブサイトでご確認ください。




おうちで、やろう。

Study at home. 小学校受験の家庭学習教材

数量：分割 12

下の四角の中のものを太い四角の中の子どもたちで同じ数になるようにわけます。同じ数に分けられるものには○を、分けられないものには×をつけます。



目黒
ール

※1. このプリントは、しながわ・目黒こどもスクールのウェブサイトからダウンロードできます。無断複写・引用はご遠慮ください。
※2. このプリントを活用したオンライン授業のスケジュールは、しながわ・目黒こどもスクールのウェブサイトでご確認ください。

