



































おうちで、やろう。

Study at home. 小学校受験の家庭学習教材

図形：鏡 10

太い線の場所に鏡を置いて動物を写したときの見え方を考えて、正しいものに○をつけます。

※1. このプリントは、しながわ・目黒こどもスクールのウェブサイトからダウンロードできます。無断複写・引用はご遠慮ください。

※2. このプリントを活用したオンライン授業のスケジュールは、しながわ・目黒こどもスクールのウェブサイトでご確認ください。





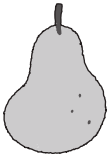


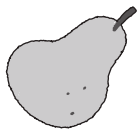






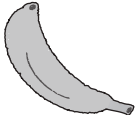














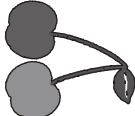




おうちで、やろう。

Study at home. 小学校受験の家庭学習教材

図形：鏡 11

太い線の場所に鏡を置いて果物を写したときの見え方を考えて、正しいものに○をつけます。

 <hr data-bbox="131 580 430 592"/>   	 <hr data-bbox="492 580 790 592"/>   	 <hr data-bbox="849 580 1148 592"/>   	 <hr data-bbox="1206 580 1505 592"/>   
 <hr data-bbox="131 1494 430 1506"/>   	 <hr data-bbox="492 1494 790 1506"/>   	 <hr data-bbox="849 1494 1148 1506"/>   	 <hr data-bbox="1206 1494 1505 1506"/>   

※1. このプリントは、しながわ・目黒こどもスクールのウェブサイトからダウンロードできます。無断複写・引用はご遠慮ください。

※2. このプリントを活用したオンライン授業のスケジュールは、しながわ・目黒こどもスクールのウェブサイトでご確認ください。



おうちで、やろう。

Study at home. 小学校受験の家庭学習教材

図形：鏡 12

太い線の場所に鏡を置いて絵を写したときの見え方を考えて、正しいものに○をつけます。

※1. このプリントは、しながわ・目黒こどもスクールのウェブサイトからダウンロードできます。無断複写・引用はご遠慮ください。

※2. このプリントを活用したオンライン授業のスケジュールは、しながわ・目黒こどもスクールのウェブサイトでご確認ください。


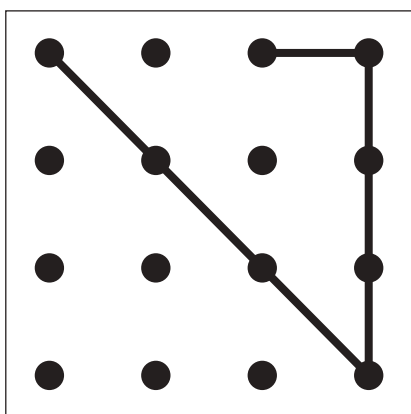
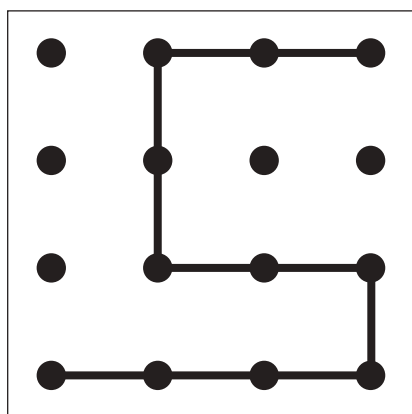

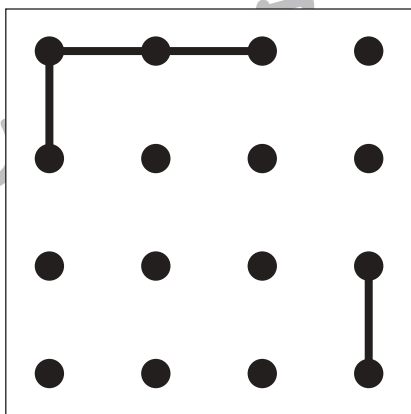
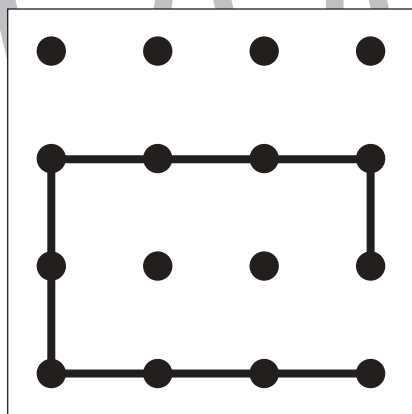

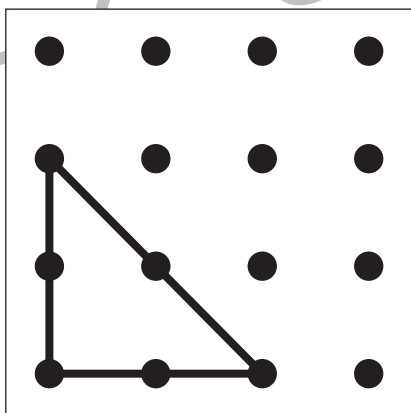
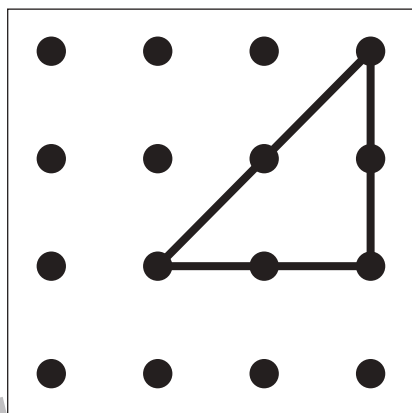

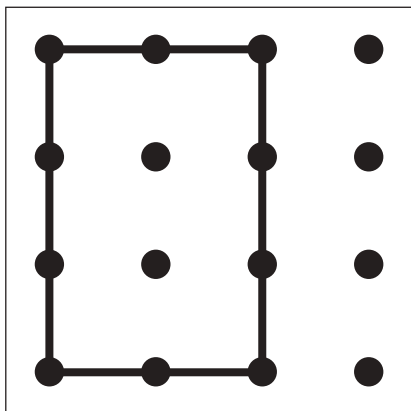
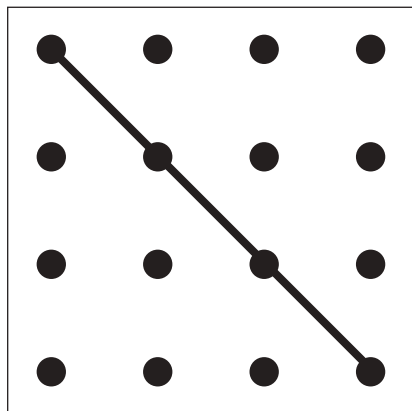


おうちで、やろう。

Study at home. 小学校受験の家庭学習教材

図形：重ね点図形 12

左の2枚の点図形を重ねた形を考えて、矢印の右の四角にかきます。



※1. このプリントは、しながわ・目黒こどもスクールのウェブサイトでダウンロードができます。無断複写・引用はご遠慮ください。
※2. このプリントを活用したオンライン授業のスケジュールは、しながわ・目黒こどもスクールのウェブサイトでご確認ください。


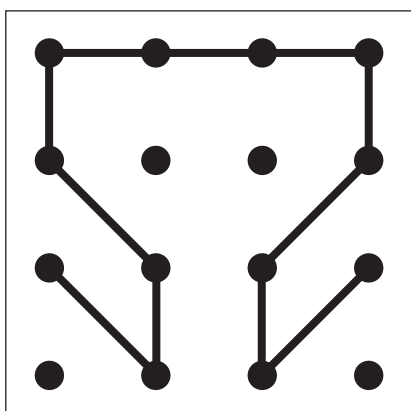
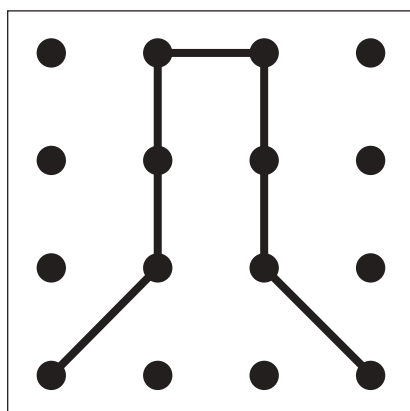

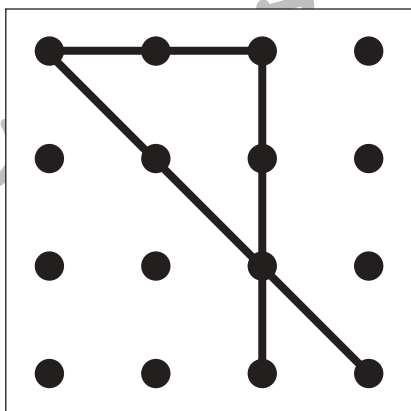
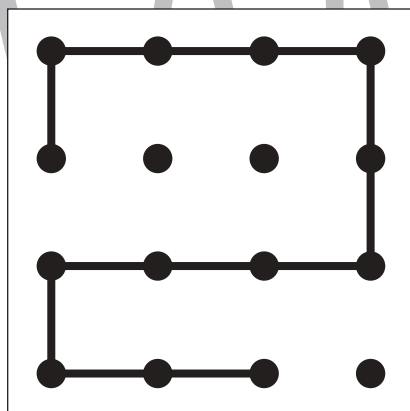

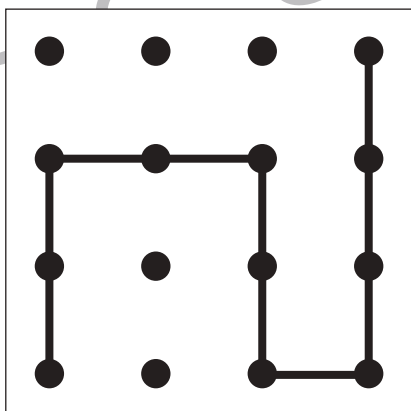
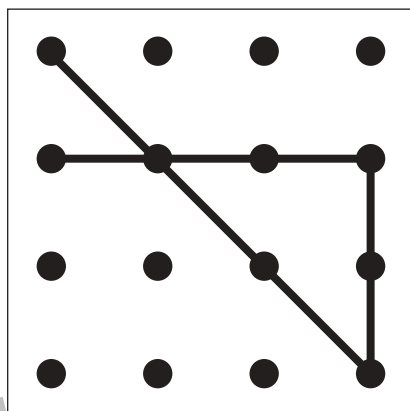

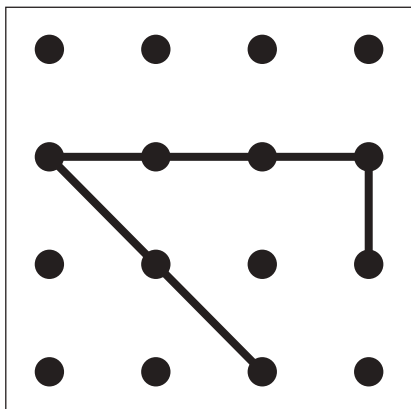
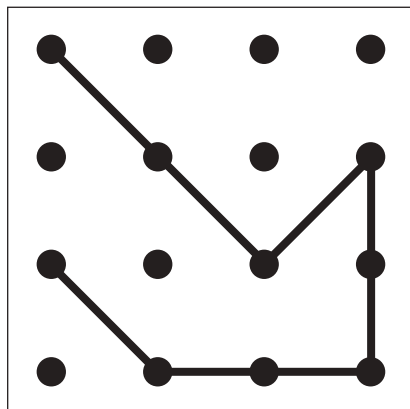


おうちで、やろう。

Study at home. 小学校受験の家庭学習教材

図形：重ね点図形 13

左の2枚の点図形を重ねた形を考えて、矢印の右の四角にかきます。



※1. このプリントは、しながわ・目黒こどもスクールのウェブサイトでダウンロードができます。無断複写・引用はご遠慮ください。

※2. このプリントを活用したオンライン授業のスケジュールは、しながわ・目黒こどもスクールのウェブサイトでご確認ください。









おうちで、よろう。

Study at home. 小学校受験の家庭学習教材

数量：条件推理 1

四角の中の絵を、縦、横、斜めそれぞれであわせた時、全ての数が同じになる約束のとき、空いている四角にはいる絵はいくつですか。その数だけ、空いている四角に○をかきます。



※1. このプリントは、しながわ・目黒こどもスクールのウェブサイトでダウンロードができます。無断複写・引用はご遠慮ください。
 ※2. このプリントを活用したオンライン授業のスケジュールは、しながわ・目黒こどもスクールのウェブサイトでご確認ください。



おうちで、やろう。

Study at home. 小学校受験の家庭学習教材

数量：条件推理 2

四角の中の絵を、全てあわせたら、四角の上にかいてある絵の数と同じになります。この約束で、空いている四角の中にはいる絵の数だけ〇をかきます。



● ●	●	●
●		●
●	●	●



●	● ●	●
	● ● ●	●
●	●	●



● ●	●	● ●
●	● ●	●
	●	● ●

●	● ●	●
●		●
●	●	●

※1. このプリントは、しながわ・目黒こどもスクールのウェブサイトでダウンロードができます。無断複写・引用はご遠慮ください。
 ※2. このプリントを活用したオンライン授業のスケジュールは、しながわ・目黒こどもスクールのウェブサイトでご確認ください。



おうちで、やろう。

Study at home. 小学校受験の家庭学習教材

数量：条件推理 3

四角の中の絵を、縦、横それぞれであわせたら同じ数になります。この約束のとき、空いている四角にはいる絵はいくつですか。その数だけ、空いている四角に○をかきます。

The grid contains the following number of apple icons in each square:

	2	
1	3	0
	0	4
3	2	3

※1. このプリントは、しながわ・目黒こどもスクールのウェブサイトでダウンロードができます。無断複写・引用はご遠慮ください。
 ※2. このプリントを活用したオンライン授業のスケジュールは、しながわ・目黒こどもスクールのウェブサイトでご確認ください。



おうちで、やろう。

Study at home. 小学校受験の家庭学習教材

運筆：濃淡 4

左のお手本と同じ濃さになるように右の形を塗ります。この問題は鉛筆でやりましょう。
※この問題に解答はありません。

※1. このプリントは、しながわ・目黒こどもスクールのウェブサイトからダウンロードできます。無断複写・引用はご遠慮ください。

※2. このプリントを活用したオンライン授業のスケジュールは、しながわ・目黒こどもスクールのウェブサイトでご確認ください。




おうちで、やろう。

Study at home. 小学校受験の家庭学習教材

絵画：創造画 2

まるいものの絵を描きます。紙の向きは縦横自由です。



※1. このプリントは、しながわ・目黒こどもスクールのウェブサイトでダウンロードができます。無断複写・引用はご遠慮ください。
※2. このプリントを活用したオンライン授業のスケジュールは、しながわ・目黒こどもスクールのウェブサイトでご確認ください。