



おうちで、やろう。

Study at home. 小学校受験の家庭学習教材

図形：鏡 10

太い線の場所に鏡を置いて動物を写したときの見え方を考えて、正しいものに○をつけます。

<hr/>	<hr/>	<hr/>	<hr/>

<hr/>	<hr/>	<hr/>	<hr/>

※1. このプリントは、しながわ・目黒こどもスクールのウェブサイトからダウンロードできます。無断複写・引用はご遠慮ください。

※2. このプリントを活用したオンライン授業のスケジュールは、しながわ・目黒こどもスクールのウェブサイトでご確認ください。




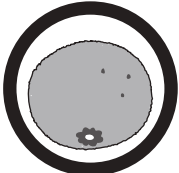
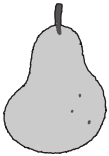
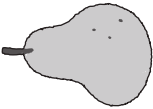
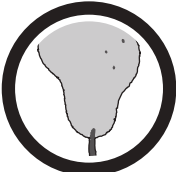





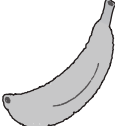

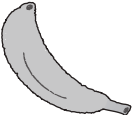
















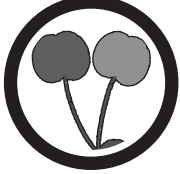


おうちで、やろう。

Study at home. 小学校受験の家庭学習教材

図形：鏡 11

太い線の場所に鏡を置いて果物を写したときの見え方を考えて、正しいものに○をつけます。

 <hr/>   	 <hr/>   	 <hr/>   	 <hr/>   
 <hr/>   	 <hr/>   	 <hr/>   	 <hr/>   

※1. このプリントは、しながわ・目黒こどもスクールのウェブサイトからダウンロードできます。無断複写・引用はご遠慮ください。

※2. このプリントを活用したオンライン授業のスケジュールは、しながわ・目黒こどもスクールのウェブサイトでご確認ください。



おうちで、やろう。

Study at home. 小学校受験の家庭学習教材

図形：鏡 12

太い線の場所に鏡を置いて絵を写したときの見え方を考えて、正しいものに○をつけます。

 <hr/> 	 <hr/> 	 <hr/> 	 <hr/>
 <hr/> 	 <hr/> 	 <hr/> 	 <hr/>

※1. このプリントは、しながわ・目黒こどもスクールのウェブサイトからダウンロードできます。無断複写・引用はご遠慮ください。

※2. このプリントを活用したオンライン授業のスケジュールは、しながわ・目黒こどもスクールのウェブサイトでご確認ください。

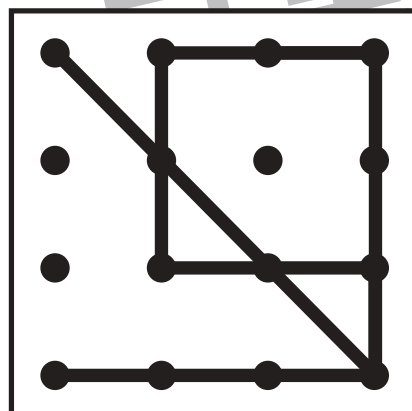
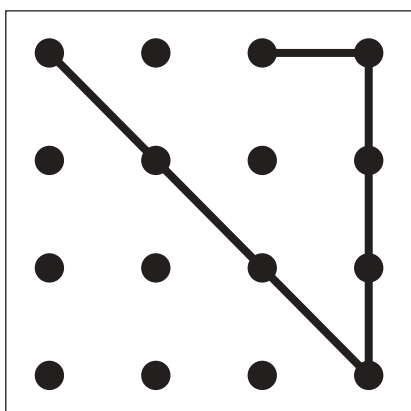
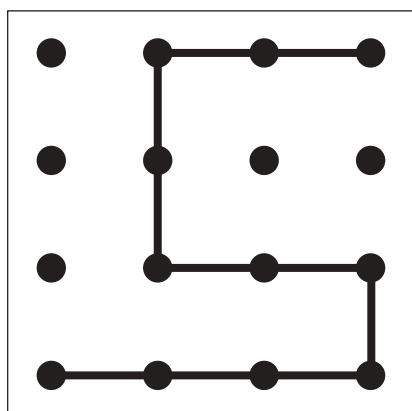
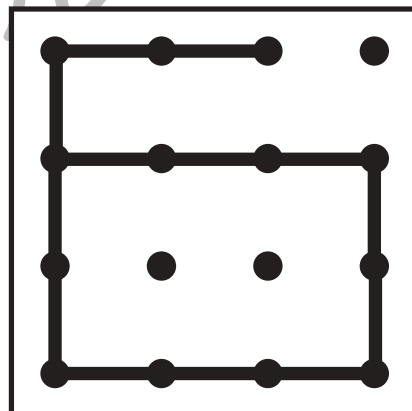
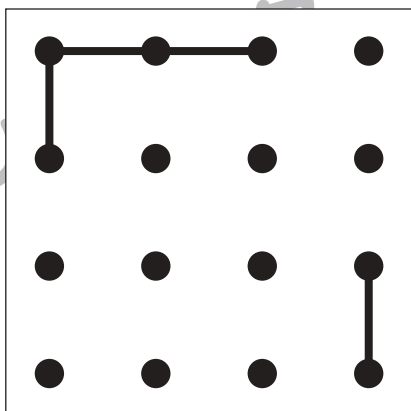
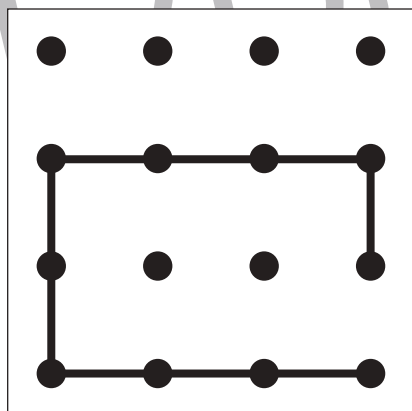
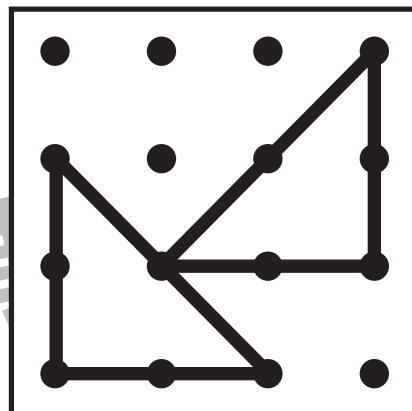
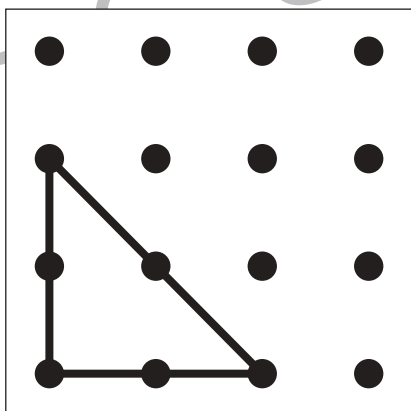
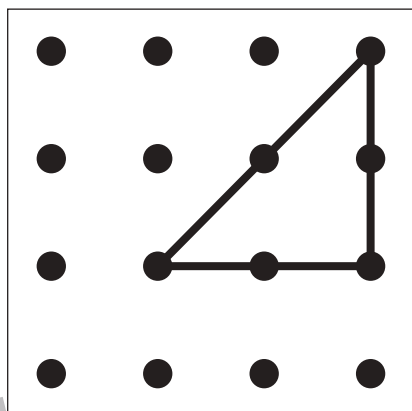
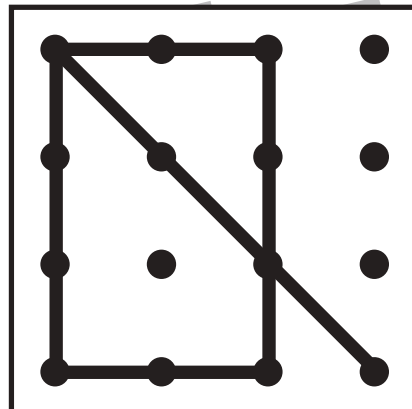
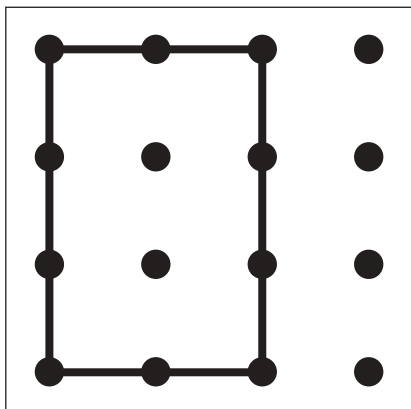
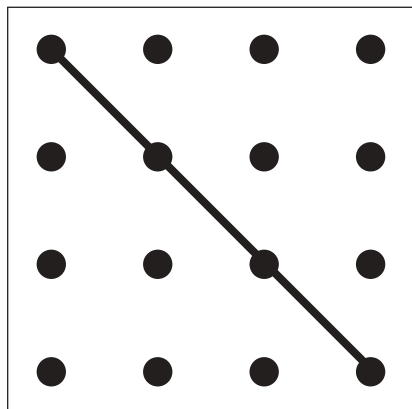


おうちで、やろう。

Study at home. 小学校受験の家庭学習教材

図形：重ね点図形 12

左の2枚の点図形を重ねた形を考えて、矢印の右の四角にかきます。



※1. このプリントは、しながわ・目黒こどもスクールのウェブサイトでダウンロードができます。無断複写・引用はご遠慮ください。

※2. このプリントを活用したオンライン授業のスケジュールは、しながわ・目黒こどもスクールのウェブサイトでご確認ください。



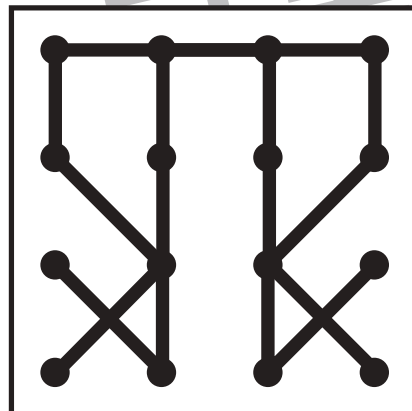
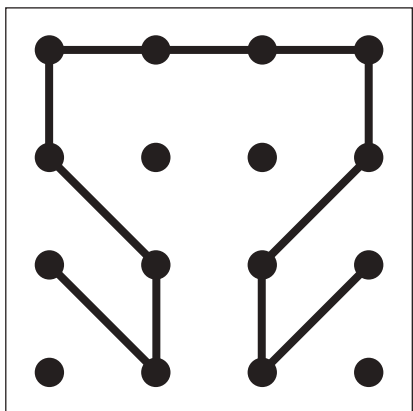
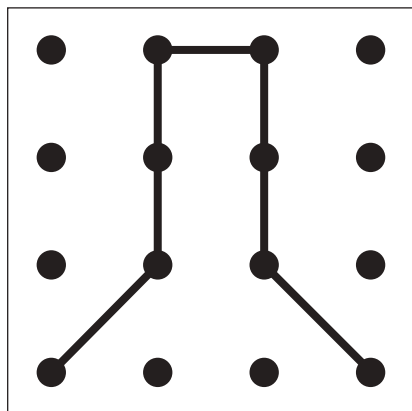
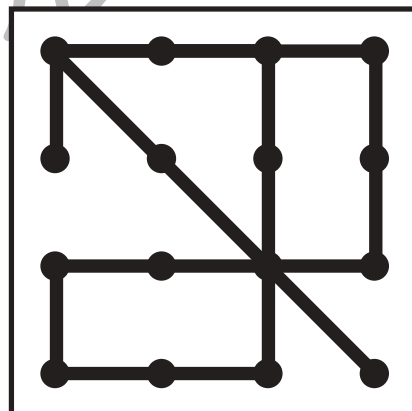
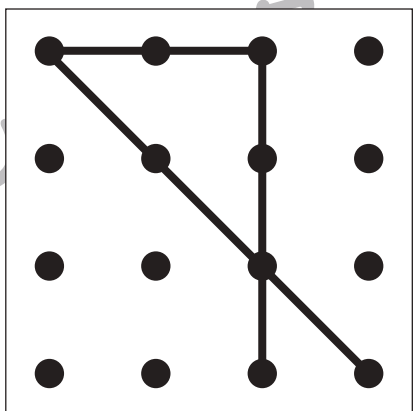
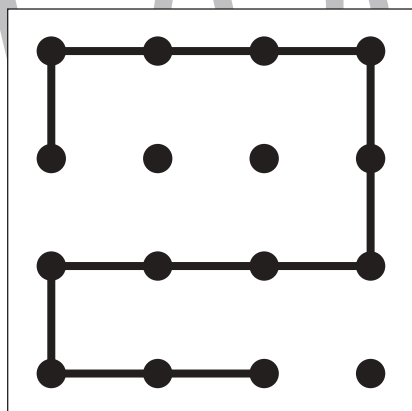
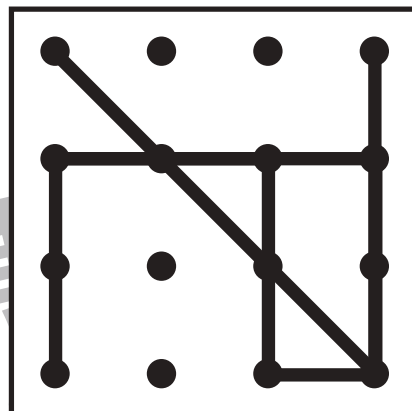
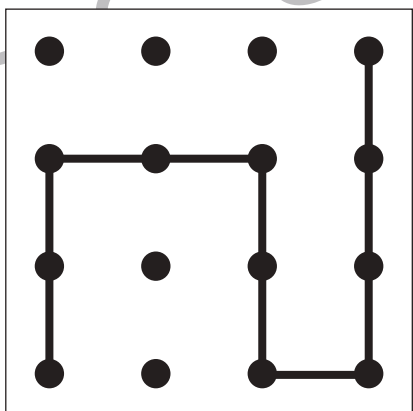
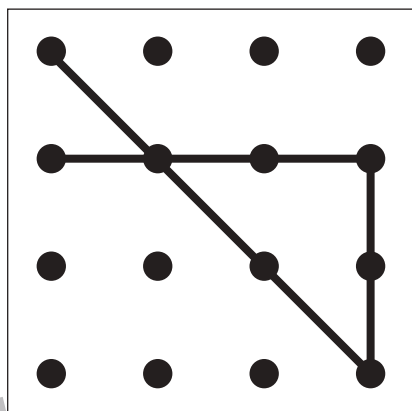
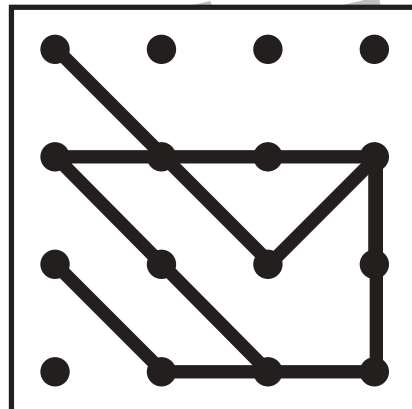
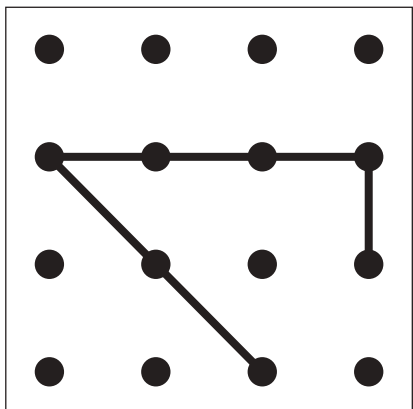
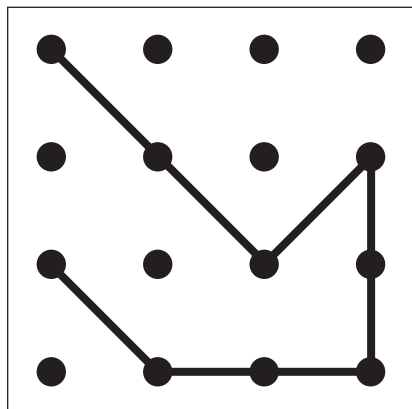


おうちで、やろう。

Study at home. 小学校受験の家庭学習教材

図形：重ね点図形 13

左の2枚の点図形を重ねた形を考えて、矢印の右の四角にかきます。



※1. このプリントは、しながわ・目黒こどもスクールのウェブサイトでダウンロードができます。無断複写・引用はご遠慮ください。

※2. このプリントを活用したオンライン授業のスケジュールは、しながわ・目黒こどもスクールのウェブサイトでご確認ください。





おうちで、やろう。

Study at home. 小学校受験の家庭学習教材

数量：条件推理 1

四角の中の絵を、縦、横、斜めそれぞれであわせた時、全ての数が同じになる約束のとき、空いている四角にはいる絵はいくつですか。その数だけ、空いている四角に○をかきます。

		$\bigcirc \times 3$	
	$\bigcirc \times 2$		
	$\bigcirc \times 4$		
			$\bigcirc \times 5$

※1. このプリントは、しながわ・目黒こどもスクールのウェブサイトでダウンロードができます。無断複写・引用はご遠慮ください。
 ※2. このプリントを活用したオンライン授業のスケジュールは、しながわ・目黒こどもスクールのウェブサイトでご確認ください。



おうちで、やろう。

Study at home. 小学校受験の家庭学習教材

数量：条件推理 2

四角の中の絵を、全てあわせたら、四角の上にかいてある絵の数と同じになります。この約束で、空いている四角の中にはいる絵の数だけ○をかきます。



	○×1	



○×2		



○×3		

	○×3	

※1. このプリントは、しながわ・目黒こどもスクールのウェブサイトでダウンロードができます。無断複写・引用はご遠慮ください。
 ※2. このプリントを活用したオンライン授業のスケジュールは、しながわ・目黒こどもスクールのウェブサイトでご確認ください。



おうちで、やろう。

Study at home. 小学校受験の家庭学習教材

数量：条件推理 3

四角の中の絵を、縦、横それぞれであわせたら同じ数になります。この約束のとき、空いている四角にはいる絵はいくつですか。その数だけ、空いている四角に○をかきます。

※1. このプリントは、しながわ・目黒こどもスクールのウェブサイトでダウンロードができます。無断複写・引用はご遠慮ください。
 ※2. このプリントを活用したオンライン授業のスケジュールは、しながわ・目黒こどもスクールのウェブサイトでご確認ください。