

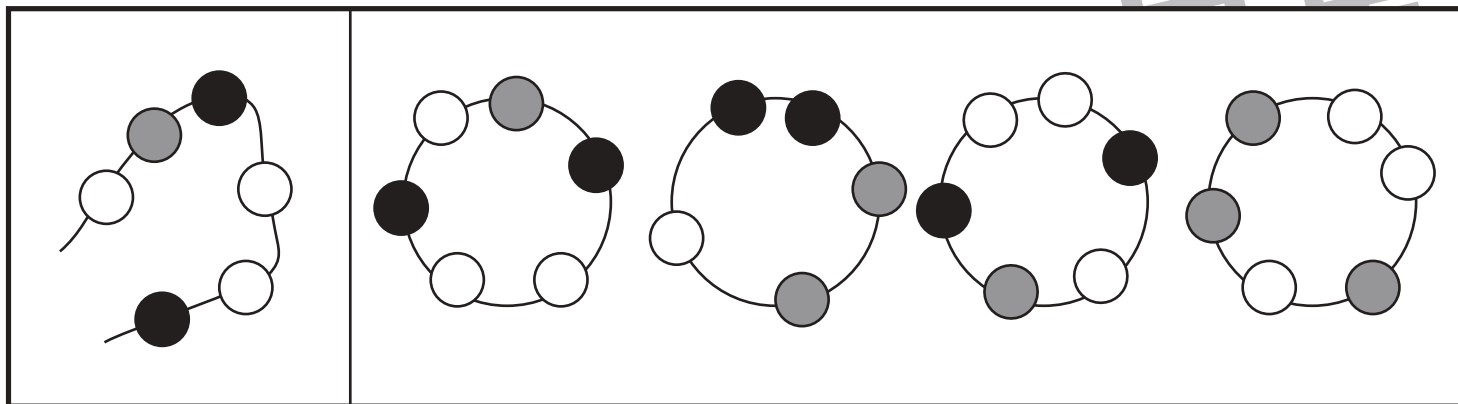
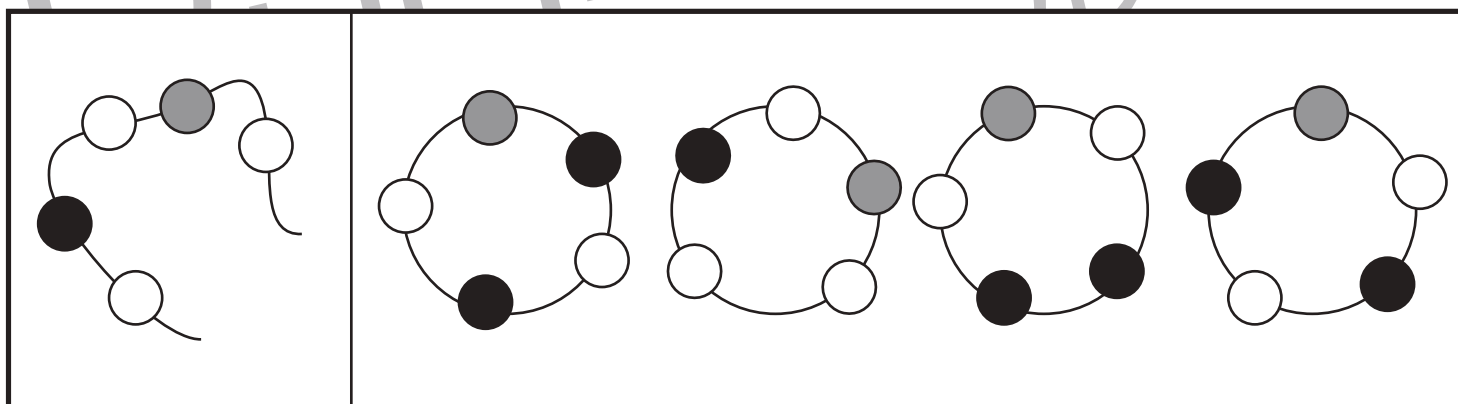
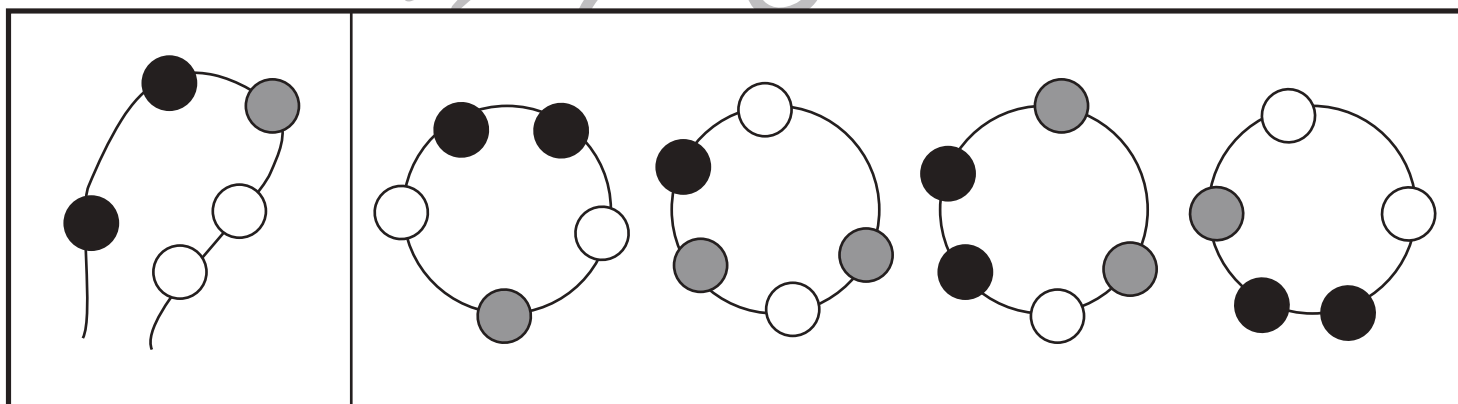
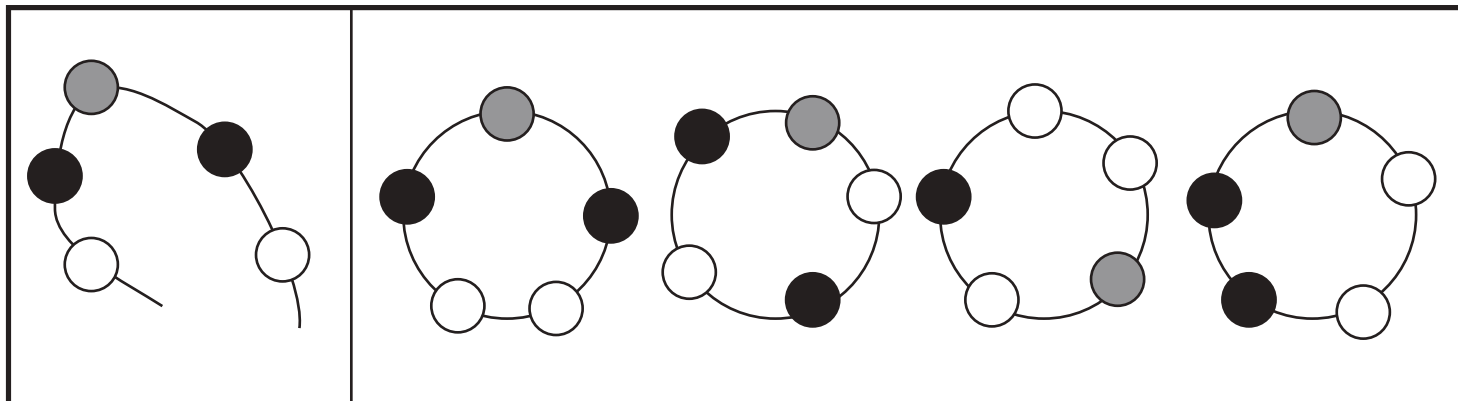


おうちで、やろう。


Study at home. 小学校受験の家庭学習教材

推理：輪つなぎ3

左の四角の中はひもにいろいろなビーズを通したものです。このひもの端と端を結びプレスレットを作ると、右の四角の中のどれになりますか。正しいものに、すべて○をつけます。プレスレットは裏返しにしてはいけません。



※1. このプリントは、しながわ・目黒こどもスクールのウェブサイトからダウンロードできます。無断複写・引用はご遠慮ください。
 ※2. このプリントを活用したオンライン授業のスケジュールは、しながわ・目黒こどもスクールのウェブサイトでご確認ください。

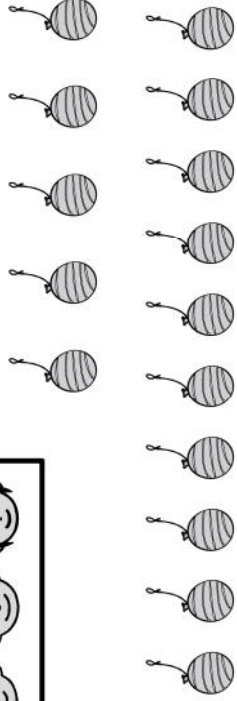
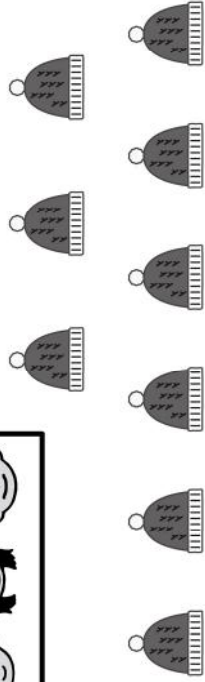

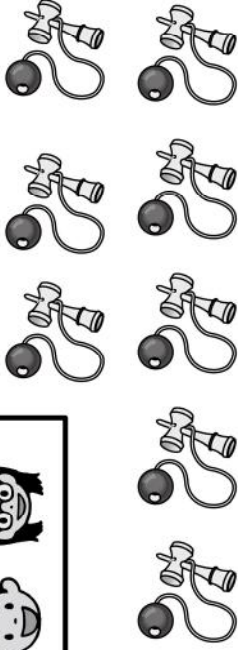





おうちで、やろう。

Study at home. 小学校受験の家庭学習教材

数量：分割 13

太い四角の子供たちで四角の中の絵を同じ数になるように分けると、1人分はいくつになりますか。その数だけ右の四角に○をかきます。



※1. このプリントは、しながわ・目黒こどもスクールのウェブサイトでダウンロードができます。無断複写・引用はご遠慮ください。
※2. このプリントを活用したオンライン授業のスケジュールは、しながわ・目黒こどもスクールのウェブサイトでご確認ください。

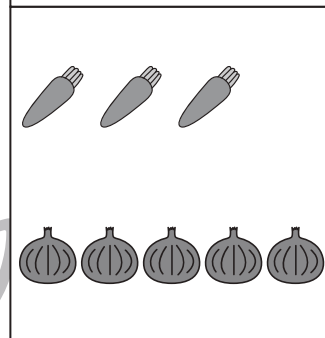
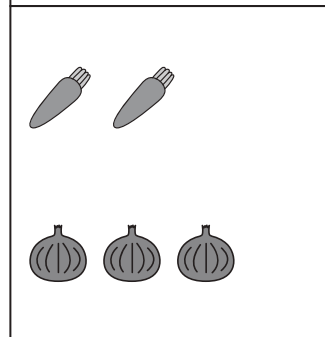
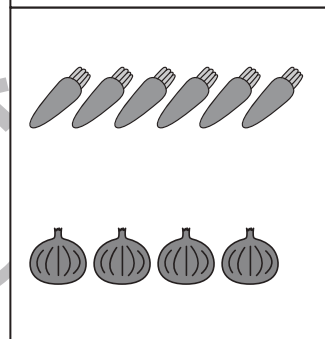
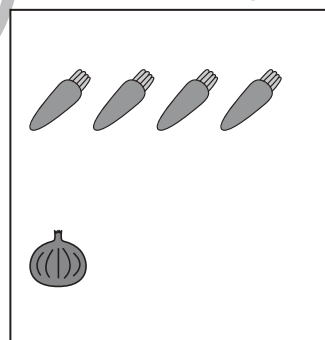
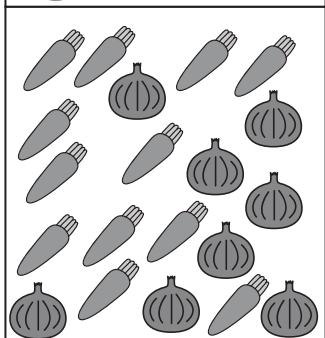
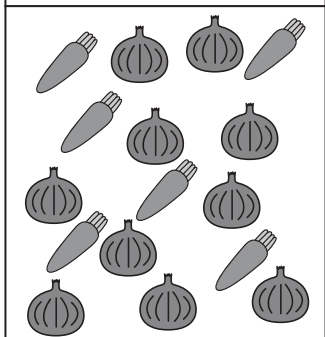
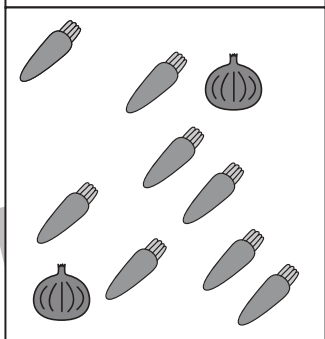
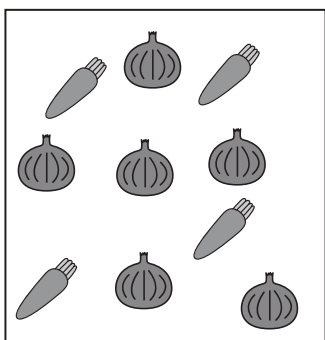



おうちで、やろう。

Study at home. 小学校受験の家庭学習教材

数量：分割 14

左側の四角の中のにんじんと玉ねぎを2人で仲良く分けると、1人分はいくつになりますか。右側の四角から正しいものを選んで、点と点を線で結びます。



※1. このプリントは、しながわ・目黒こどもスクールのウェブサイトでダウンロードができます。無断複写・引用はご遠慮ください。
※2. このプリントを活用したオンライン授業のスケジュールは、しながわ・目黒こどもスクールのウェブサイトでご確認ください。






おうちで、やろう。

Study at home. 小学校受験の家庭学習教材

数量：分割 15

子供たち3人で四角の中の食べ物を同じ数になるように分ける時、同じ数に分けられるものには○を、分けられないものには×をつけます。



| | | |
|--|--|--|
| | | |
| | | |
| | | |

※1. このプリントは、しながわ・目黒こどもスクールのウェブサイトでダウンロードができます。無断複写・引用はご遠慮ください。

※2. このプリントを活用したオンライン授業のスケジュールは、しながわ・目黒こどもスクールのウェブサイトでご確認ください。




おうちで、やろう。

Study at home. 小学校受験の家庭学習教材


推理：水量3

水の量が一番少ないものに○を、四番目に少ないものに×をつけます。


①



②



③



※1. このプリントは、しながわ・目黒こどもスクールのウェブサイトからダウンロードできます。無断複写・引用はご遠慮ください。

※2. このプリントを活用したオンライン授業のスケジュールは、しながわ・目黒こどもスクールのウェブサイトでご確認ください。




おうちで、やろう。

Study at home. 小学校受験の家庭学習教材


推理：水量 4

水の量が一番多いものに○を、三番目に多いものに△をつけます。


①



②



③



※1. このプリントは、しながわ・目黒こどもスクールのウェブサイトからダウンロードできます。無断複写・引用はご遠慮ください。
※2. このプリントを活用したオンライン授業のスケジュールは、しながわ・目黒こどもスクールのウェブサイトでご確認ください。



おうちで、やろう。

Study at home. 小学校受験の家庭学習教材

常識：果物2

右側は、左側の四角の中の食べ物を包丁で切った時の見え方です。同じ食べ物を見つけて、線でつなぎます。

| | |
|--|--|
| | |
| | |
| | |
| | |
| | |
| | |

※1. このプリントは、しながわ・目黒こどもスクールのウェブサイトでダウンロードができます。無断複写・引用はご遠慮ください。

※2. このプリントを活用したオンライン授業のスケジュールは、しながわ・目黒こどもスクールのウェブサイトでご確認ください。



おうちで、やろう。

Study at home. 小学校受験の家庭学習教材

図形：組み合わせ1

真ん中の四角の中にあるパズルと、右の四角の中のパズルを使って左の四角の中にあるお手本のパズルを作ります。右の四角の中にある4つのパズルのうち、どのパズルを使うかを考えて、正しいものに○を付けましょう。ただし、パズル同士は重なってはいけません。

| | | |
|--|--|--|
| | | |
| | | |
| | | |
| | | |
| | | |
| | | |

※1. このプリントは、しながわ・目黒こどもスクールのウェブサイトでダウンロードができます。無断複写・引用はご遠慮ください。

※2. このプリントを活用したオンライン授業のスケジュールは、しながわ・目黒こどもスクールのウェブサイトでご確認ください。



おうちで、やろう。


Study at home. 小学校受験の家庭学習教材

推理：なぞなぞ2


①～④のなぞなぞをとりて、答えに○をつけましょう。

- ① えかきうたに かならずでてくる くだものは なんでしょう。
- ② けがを していないのに あざがある うみのいきものは なんでしょう。
- ③ おにを たいじできる たべものは なんでしょう。
- ④ くだものやさんにある いかは なんでしょう。

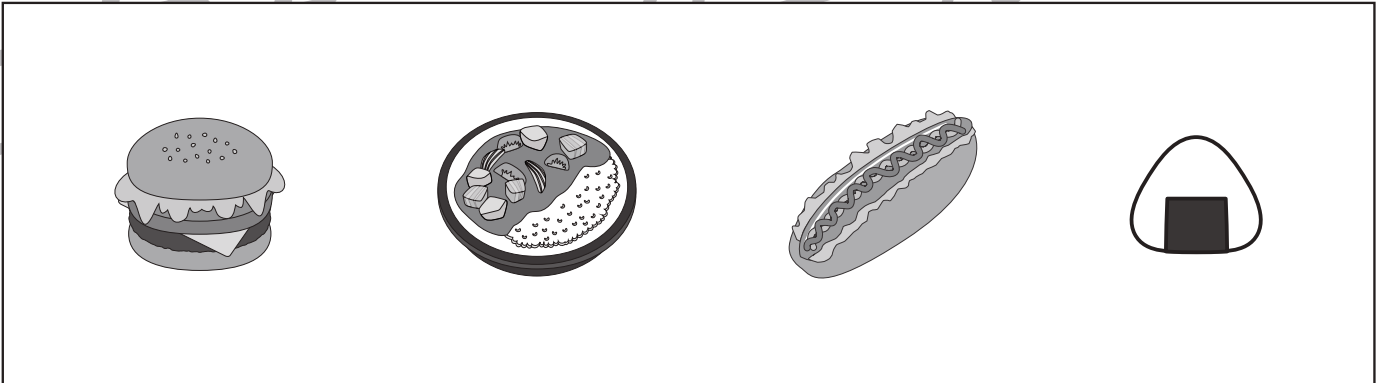
①



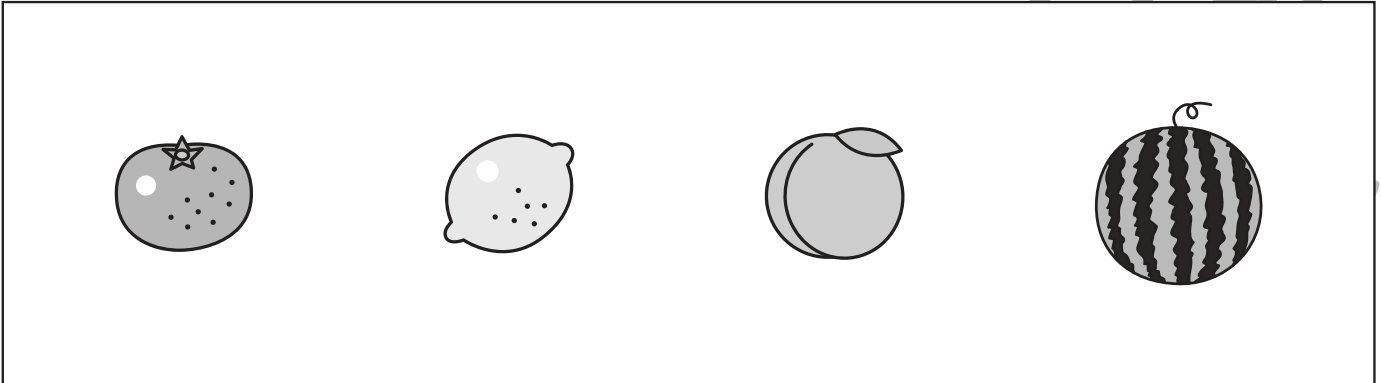
②



③



④



※1. このプリントは、しながわ・目黒こどもスクールのウェブサイトでダウンロードができます。無断複写・引用はご遠慮ください。
 ※2. このプリントを活用したオンライン授業のスケジュールは、しながわ・目黒こどもスクールのウェブサイトでご確認ください。




おうちで、やろう。

Study at home. 小学校受験の家庭学習教材

まちがいさがし6

上下の絵を見比べて、変わっているところを5つ探します。見つけたら、下の絵の変わっている部分に丸をつけます。



ICT 教育の小学校受験

※1. このプリントは、しながわ・目黒こどもスクールのウェブサイトでダウンロードができます。無断複写・引用はご遠慮ください。
 ※2. このプリントを活用したオンライン授業のスケジュールは、しながわ・目黒こどもスクールのウェブサイトでご確認ください。