



# おうちで、やろう。

Study at home. 小学校受験の家庭学習教材

推理：なぞなぞ2

①～④のなぞなぞをとして、答えに○をつけましょう。


① このくにに すんでいるひとはちは ほんを2さつ よみます。どこのくににでしょう。

② このたべものを たべると ちからがつよくなります。このたべものはなんでしょう。

③ くさいにおいがする どうぶつは なんでしょう。

④ ましかくから まくをとると なにになるでしょう。


①




②



③



④



※1. このプリントは、しながわ・目黒こどもスクールのウェブサイトでダウンロードができます。無断複写・引用はご遠慮ください。

※2. このプリントを活用したオンライン授業のスケジュールは、しながわ・目黒こどもスクールのウェブサイトでご確認ください。

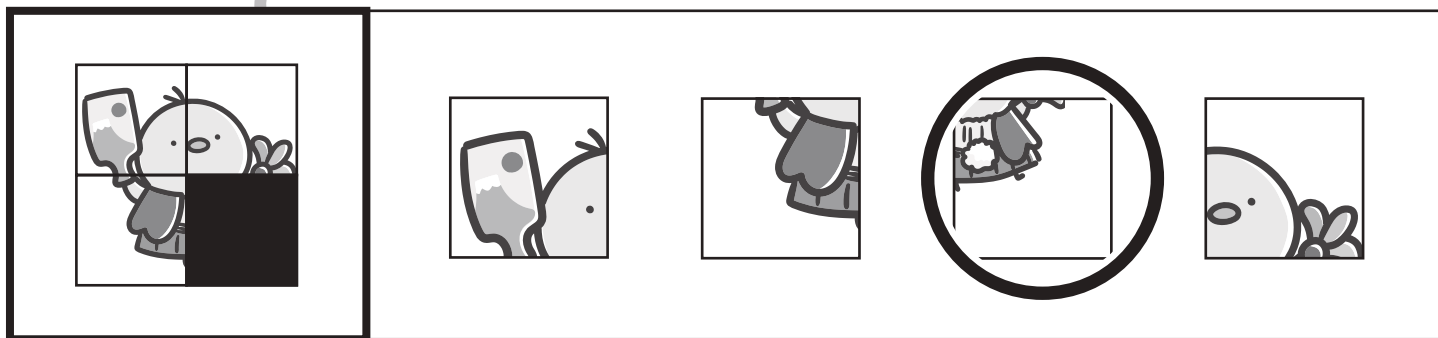
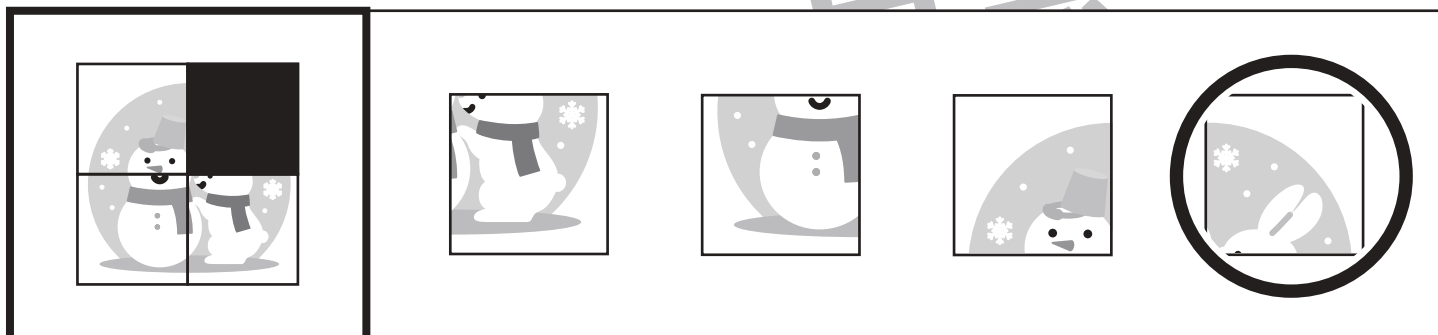
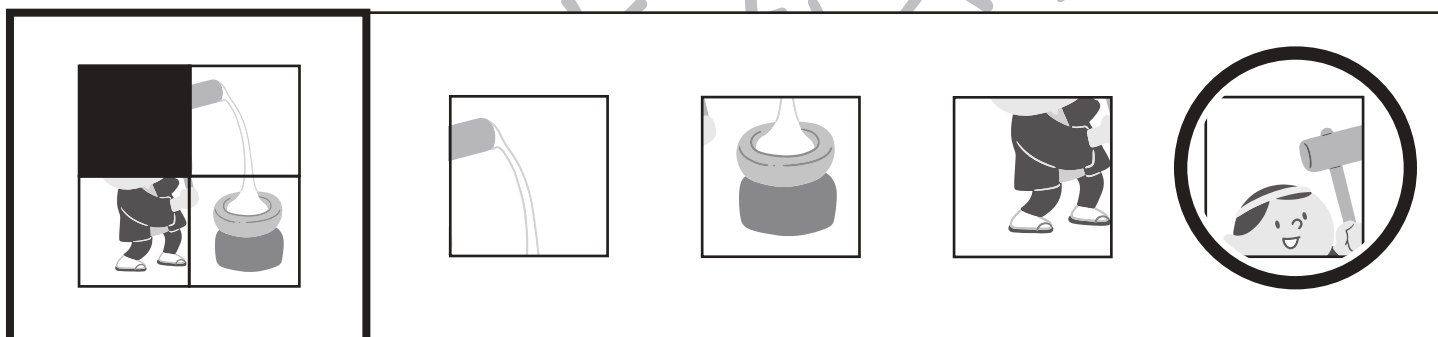


# おうちで、やろう。

Study at home. 小学校受験の家庭学習教材

## 推理：パズル 4

パズルのピースをすべて組み合わせたときの形が一番左にあります。黒でかくれた場所にはどのピースがはまるのかを考えて、答えに○をつけます。



※1. このプリントは、しながわ・目黒こどもスクールのウェブサイトでダウンロードができます。無断複写・引用はご遠慮ください。

※2. このプリントを活用したオンライン授業のスケジュールは、しながわ・目黒こどもスクールのウェブサイトでご確認ください。




# おうちで、やろう。

Study at home. 小学校受験の家庭学習教材


推理：水量5

水の量が一番多いものに○を、四番目に多いものに×をつけます。


①



②



③



※1. このプリントは、しながわ・目黒こどもスクールのウェブサイトからダウンロードできます。無断複写・引用はご遠慮ください。

※2. このプリントを活用したオンライン授業のスケジュールは、しながわ・目黒こどもスクールのウェブサイトでご確認ください。

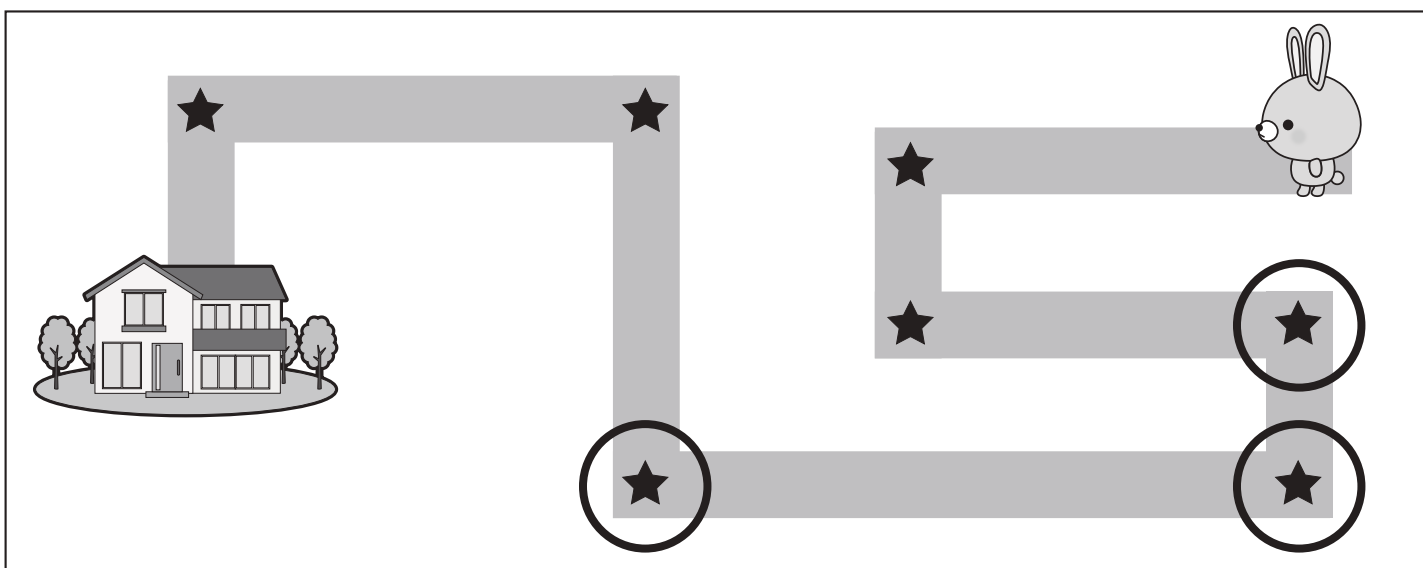
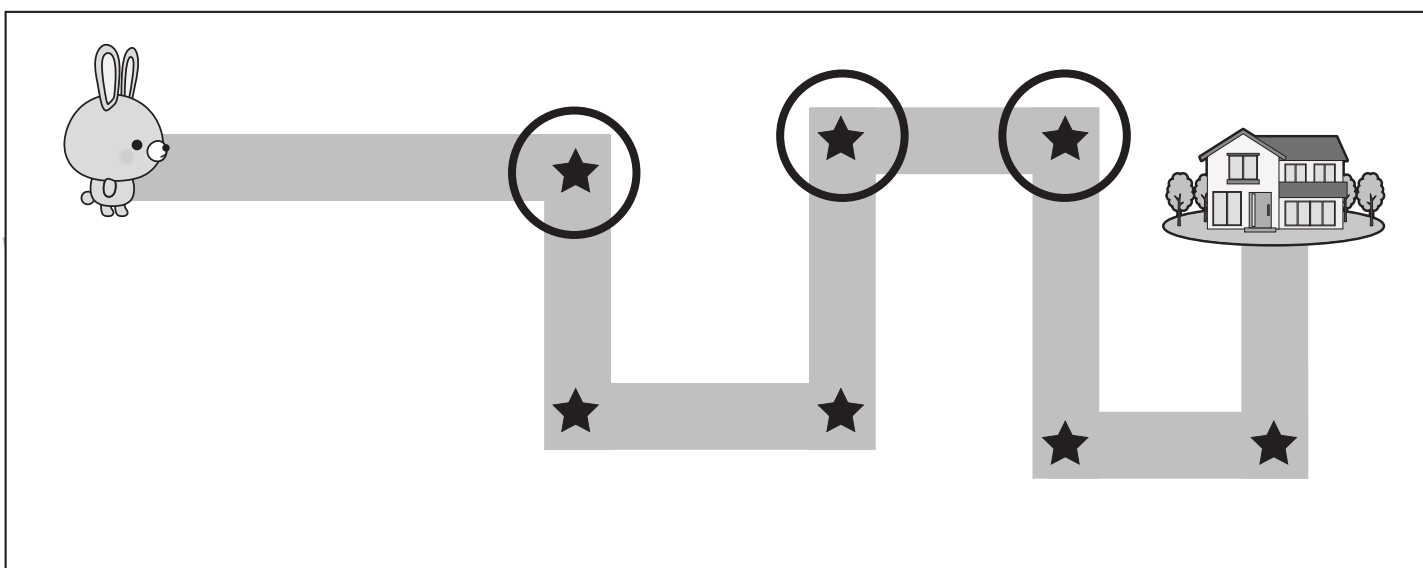
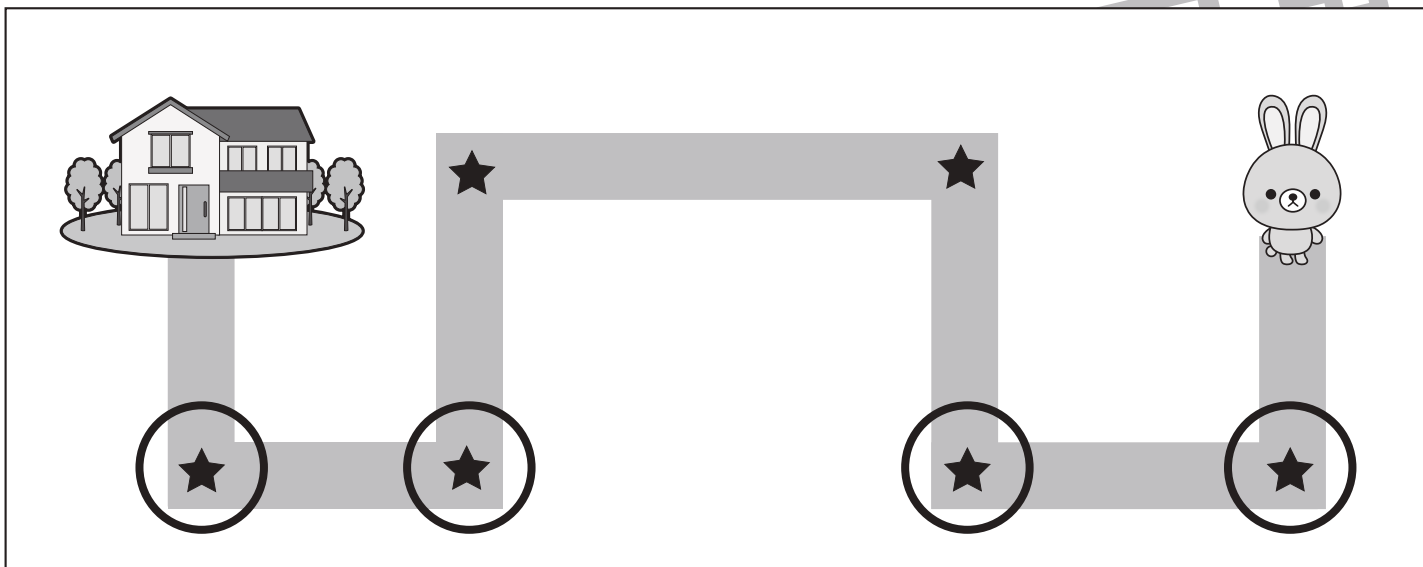


# おうちで、やろう。

Study at home. 小学校受験の家庭学習教材

## 推理：地図の移動1

ウサギが家まで歩いて帰ります。途中の★のマークのある曲がり角ではウサギは右と左のどちらに曲がりますか。右に曲がる曲がり角の★に○をつけます。



※1. このプリントは、しながわ・目黒こどもスクールのウェブサイトでダウンロードができます。無断複写・引用はご遠慮ください。

※2. このプリントを活用したオンライン授業のスケジュールは、しながわ・目黒こどもスクールのウェブサイトでご確認ください。

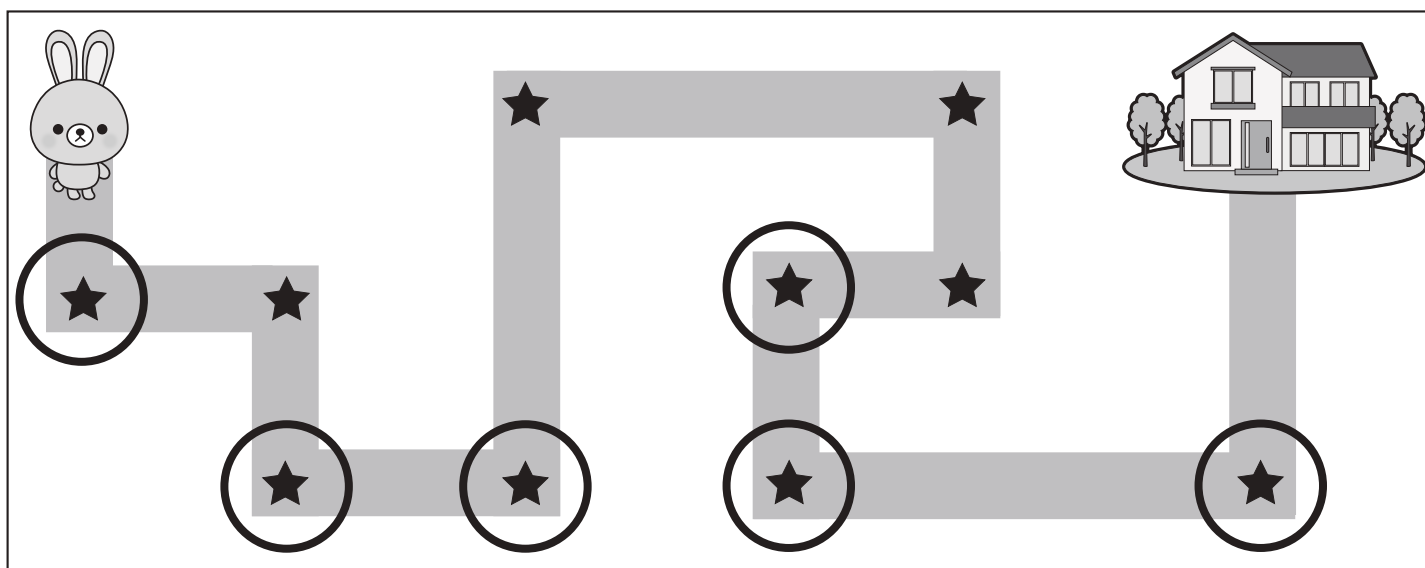
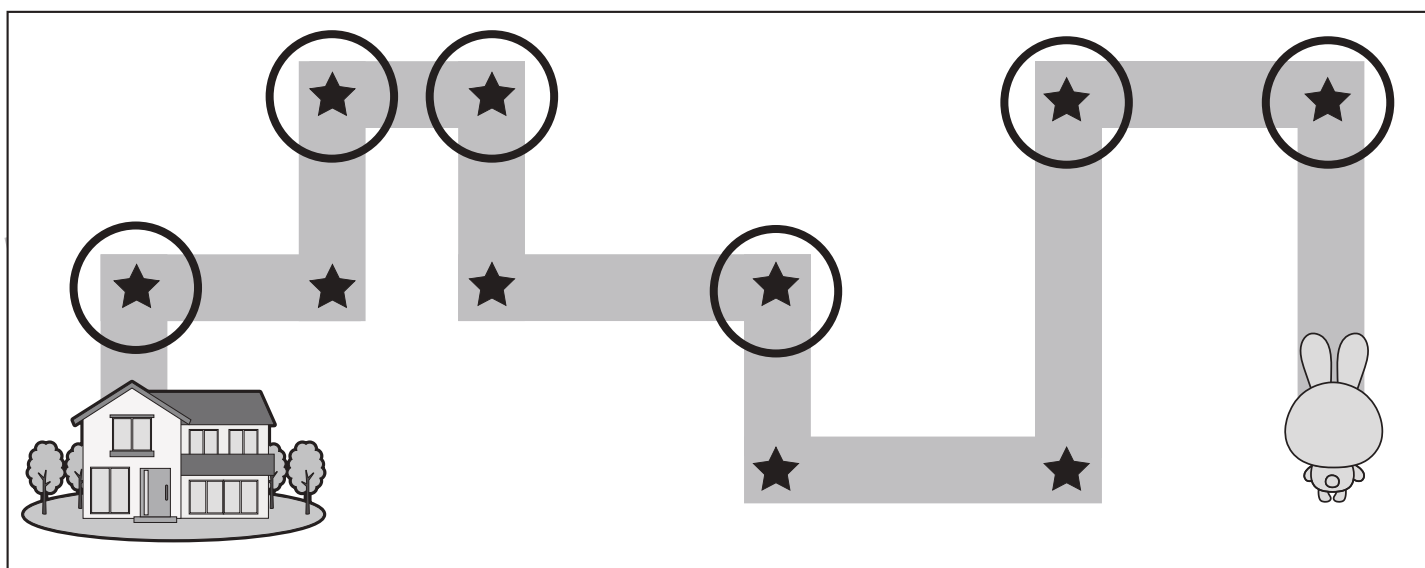
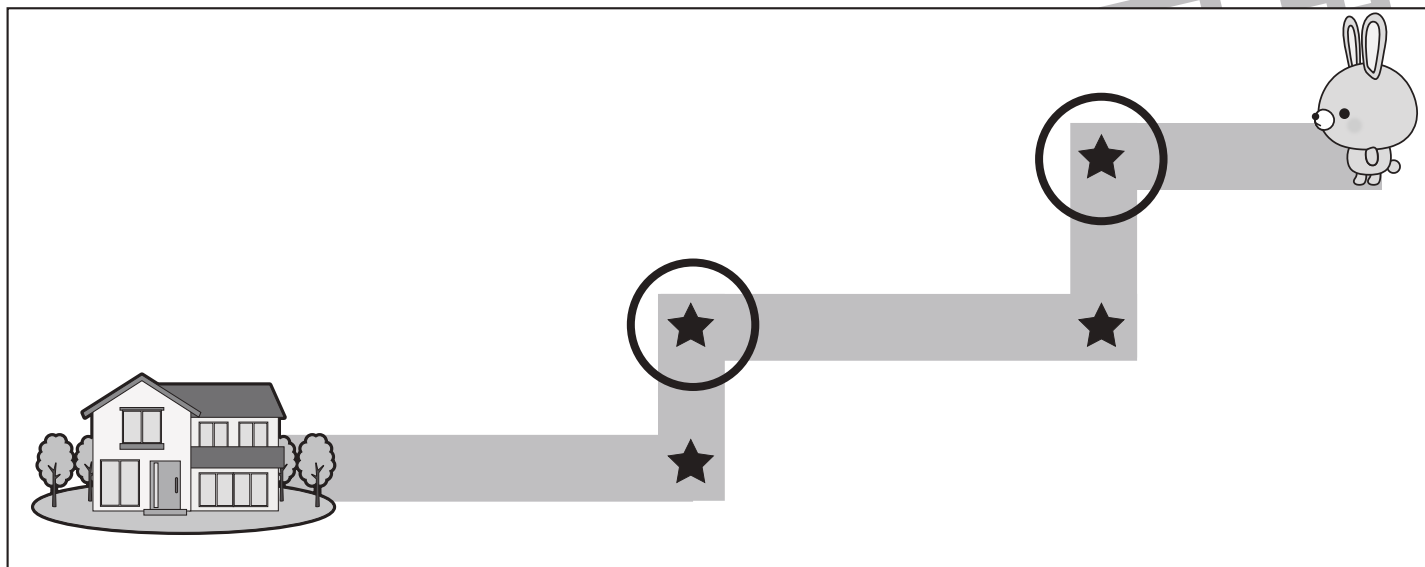


# おうちで、やろう。

Study at home. 小学校受験の家庭学習教材

## 推理：地図の移動2

ウサギが家まで歩いて帰ります。途中の★のマークのある曲がり角ではウサギは右と左のどちらに曲がりますか。左に曲がる曲がり角の★に○をつけます。



※1. このプリントは、しながわ・目黒こどもスクールのウェブサイトでダウンロードができます。無断複写・引用はご遠慮ください。

※2. このプリントを活用したオンライン授業のスケジュールは、しながわ・目黒こどもスクールのウェブサイトでご確認ください。





# おうちで、やろう。

Study at home. 小学校受験の家庭学習教材

数量：対応 2

真ん中の四角の中のものがあるとき、左のお手本がいくつできるのかを考えます。このとき、右の四角のものはいくつあればよいかを考えて必要な数だけ○をかきます。

①			$\bigcirc \times 3$
②			$\bigcirc \times 3$
③			$\bigcirc \times 3$
④			$\bigcirc \times 4$
			$\bigcirc \times 4$

※1. このプリントは、しながわ・目黒こどもスクールのウェブサイトでダウンロードができます。無断複写・引用はご遠慮ください。

※2. このプリントを活用したオンライン授業のスケジュールは、しながわ・目黒こどもスクールのウェブサイトでご確認ください。



# おうちで、やろう。

Study at home. 小学校受験の家庭学習教材

数量：対応 3

真ん中の四角の中のものがあるとき、左のお手本がいくつできるのかを考えます。このとき、右の四角のものはいくつあればよいかを考えて必要な数だけ○をかきます。

①			$\bigcirc \times 6$
			$\bigcirc \times 3$
②			$\bigcirc \times 4$
			$\bigcirc \times 4$
③			$\bigcirc \times 8$
			$\bigcirc \times 8$
④			$\bigcirc \times 8$
			$\bigcirc \times 4$

※1. このプリントは、しながわ・目黒こどもスクールのウェブサイトでダウンロードができます。無断複写・引用はご遠慮ください。

※2. このプリントを活用したオンライン授業のスケジュールは、しながわ・目黒こどもスクールのウェブサイトでご確認ください。









# おうちで、やろう。

Study at home. 小学校受験の家庭学習教材

処理能力：抹消1

上の太い四角の中の絵がお手本です。下のマスの中からお手本の絵をみつけて斜め線（/）をつけていきます。お手本を見つけるときは、一番上の段の左からはじめて、右端まで見ます。1段目ができたら2段目の左から右。次に3段目の左から右と順番に印をつけていきます。この問題はできるだけ早く印をつけます。それぞれ40秒以内を目指し取り組みましょう。



※1. このプリントは、しながわ・目黒こどもスクールのウェブサイトでダウンロードができます。無断複写・引用はご遠慮ください。  
※2. このプリントを活用したオンライン授業のスケジュールは、しながわ・目黒こどもスクールのウェブサイトでご確認ください。