



おうちで、やろう。

Study at home. 小学校受験の家庭学習教材

推理：なぞなぞ2

①～④のなぞなぞをとして、答えに○をつけましょう。


① このくにに すんでいるひとはちは ほんを2さつ よみます。どこのくににでしょう。

② このたべものを たべると ちからがつよくなります。このたべものはなんでしょう。

③ くさいにおいがする どうぶつは なんでしょう。

④ ましかくから まくをとると なにになるでしょう。


①




②



③



④



※1. このプリントは、しながわ・目黒こどもスクールのウェブサイトからダウンロードできます。無断複写・引用はご遠慮ください。

※2. このプリントを活用したオンライン授業のスケジュールは、しながわ・目黒こどもスクールのウェブサイトでご確認ください。



おうちで、やろう。

Study at home. 小学校受験の家庭学習教材

推理：パズル 4

パズルのピースをすべて組み合わせたときの形が一番左にあります。黒でかくれた場所にはどのピースがはまるのかを考えて、答えに○をつけます。

※1. このプリントは、しながわ・目黒こどもスクールのウェブサイトからダウンロードできます。無断複写・引用はご遠慮ください。

※2. このプリントを活用したオンライン授業のスケジュールは、しながわ・目黒こどもスクールのウェブサイトでご確認ください。



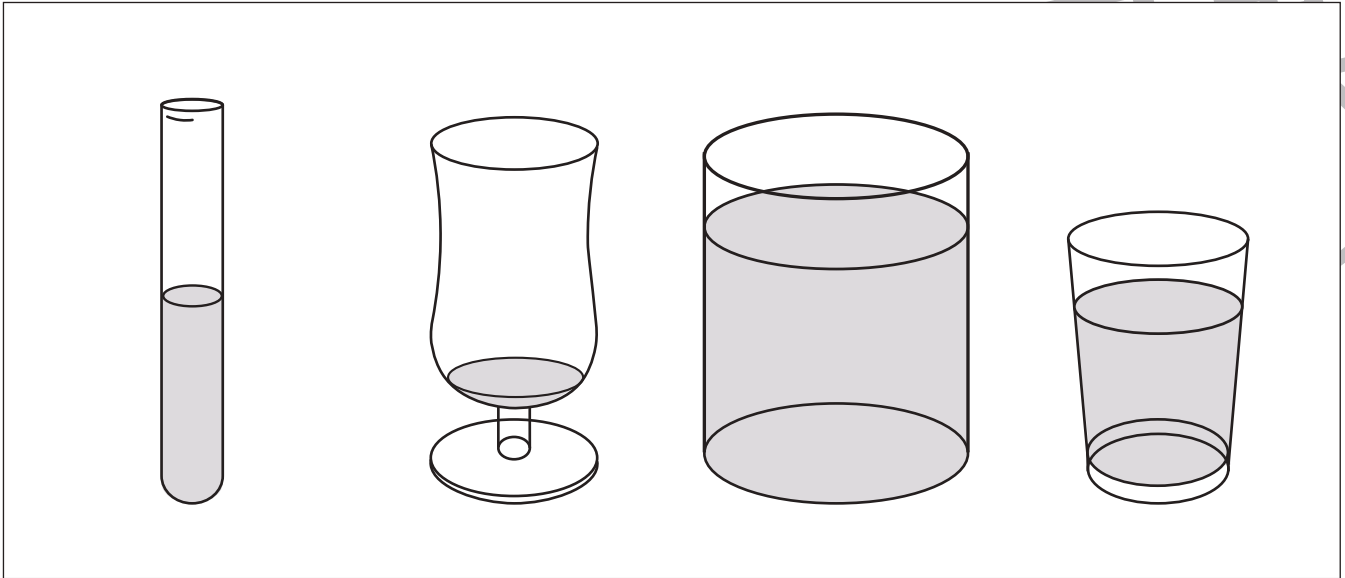
おうちで、やろう。

Study at home. 小学校受験の家庭学習教材


推理：水量5

水の量が一番多いものに○を、四番目に多いものに×をつけます。


①



②



③



※1. このプリントは、しながわ・目黒こどもスクールのウェブサイトダウンロードができます。無断複写・引用はご遠慮ください。
※2. このプリントを活用したオンライン授業のスケジュールは、しながわ・目黒こどもスクールのウェブサイトでご確認ください。


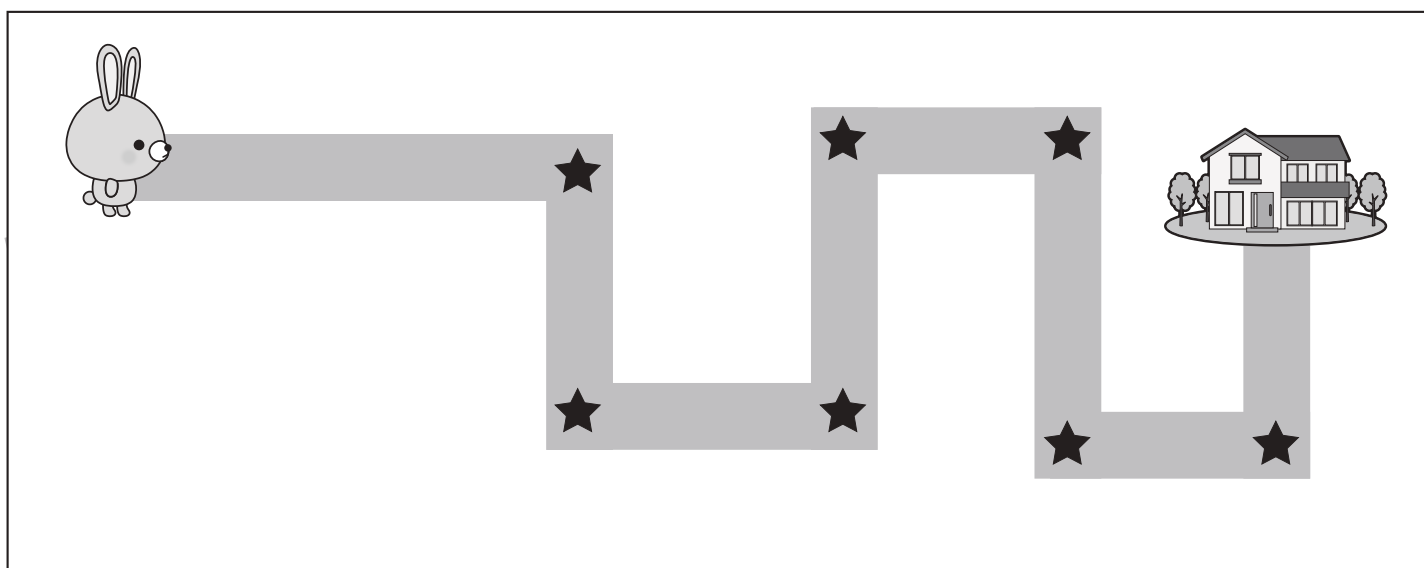
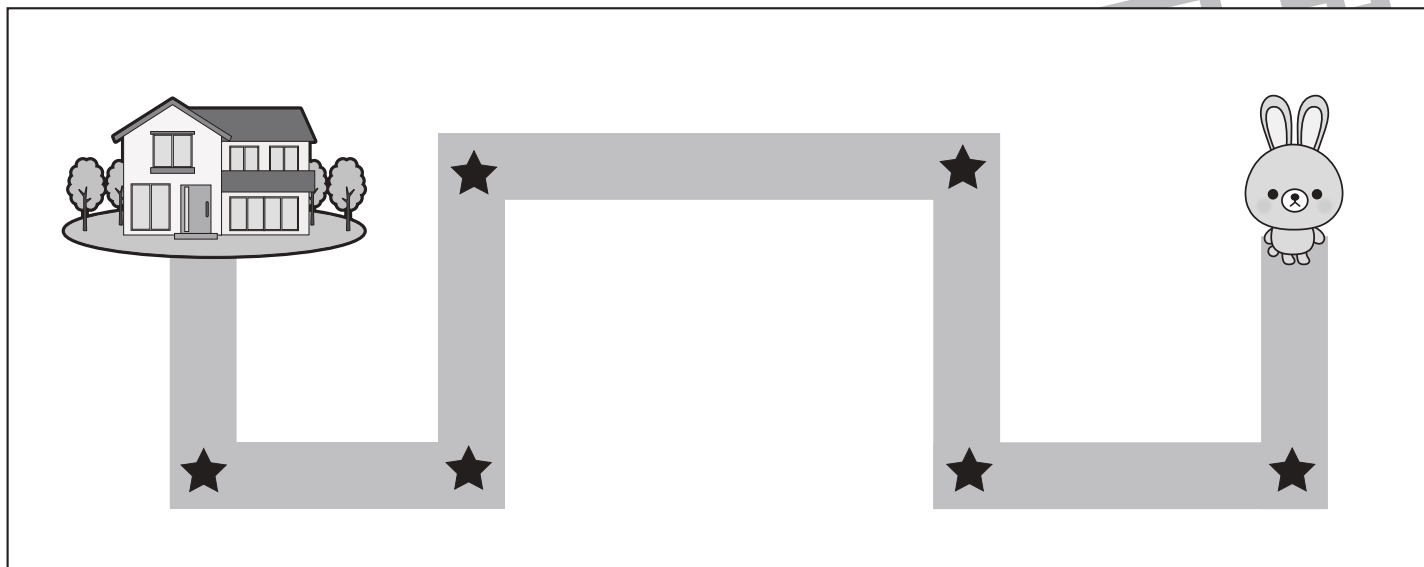


おうちで、やろう。

Study at home. 小学校受験の家庭学習教材

推理：地図の移動1

ウサギが家まで歩いて帰ります。途中の★のマークのある曲がり角ではウサギは右と左のどちらに曲がりますか。右に曲がる曲がり角の★に○をつけます。



※1. このプリントは、しながわ・目黒こどもスクールのウェブサイトでダウンロードができます。無断複写・引用はご遠慮ください。

※2. このプリントを活用したオンライン授業のスケジュールは、しながわ・目黒こどもスクールのウェブサイトでご確認ください。


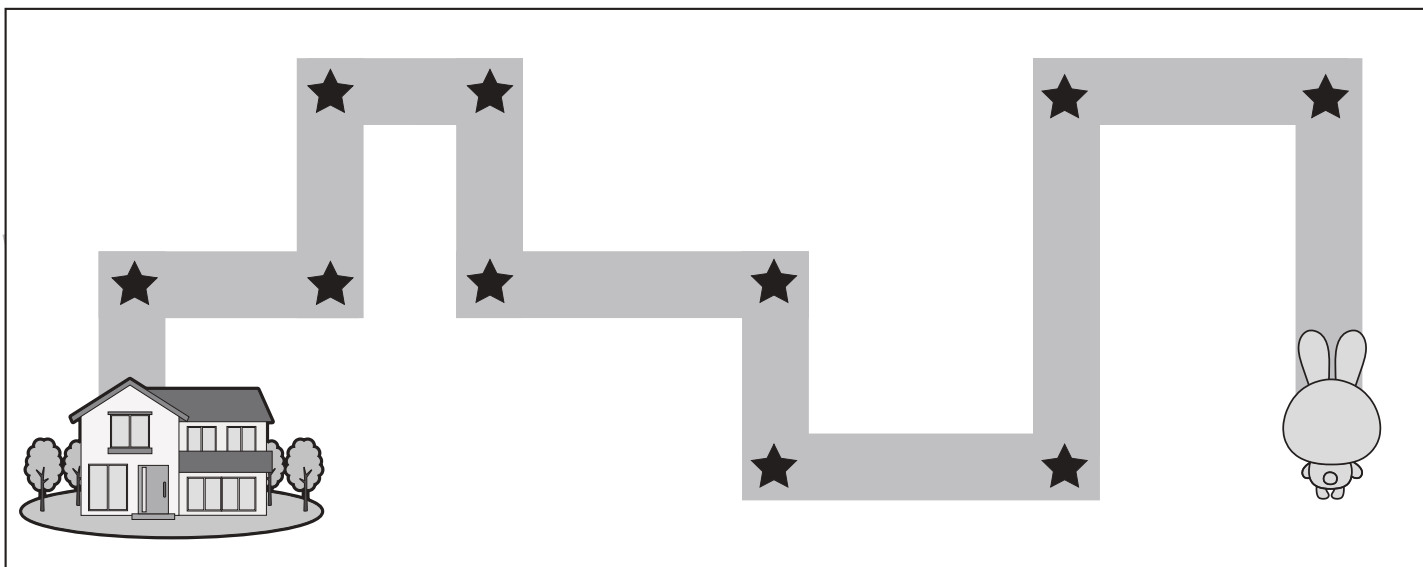
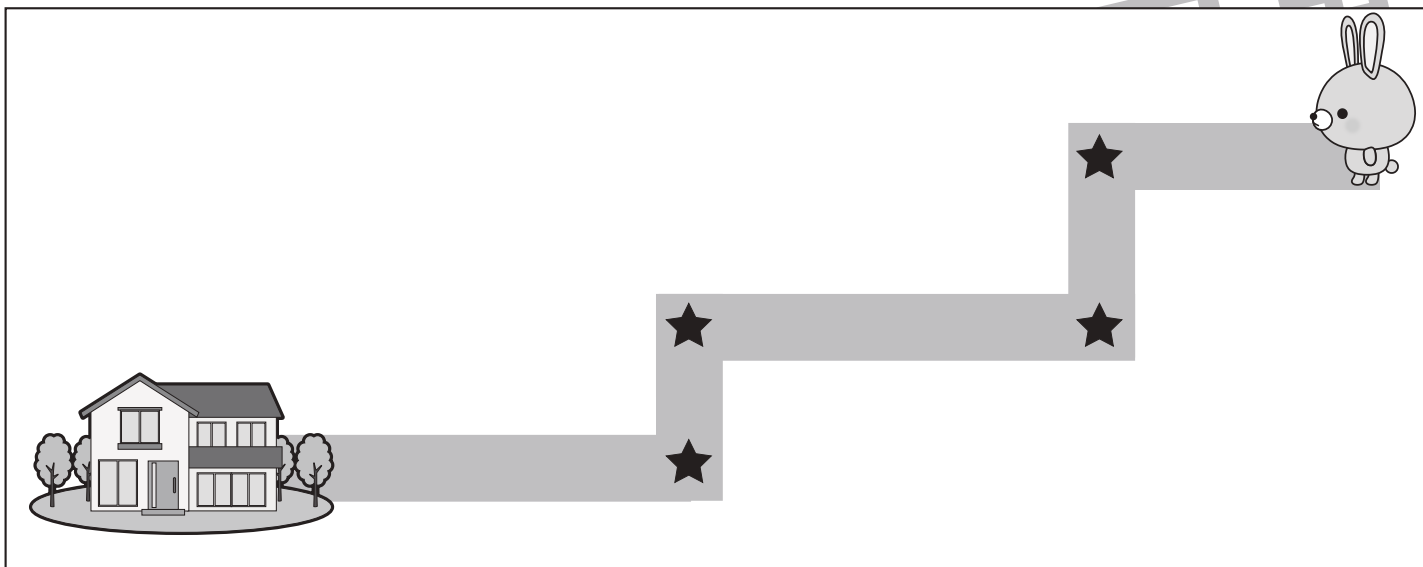


おうちで、やろう。

Study at home. 小学校受験の家庭学習教材

推理：地図の移動2

ウサギが家まで歩いて帰ります。途中の★のマークのある曲がり角ではウサギは右と左のどちらに曲がりますか。左に曲がる曲がり角の★に○をつけます。



※1. このプリントは、しながわ・目黒こどもスクールのウェブサイトでダウンロードができます。無断複写・引用はご遠慮ください。

※2. このプリントを活用したオンライン授業のスケジュールは、しながわ・目黒こどもスクールのウェブサイトでご確認ください。


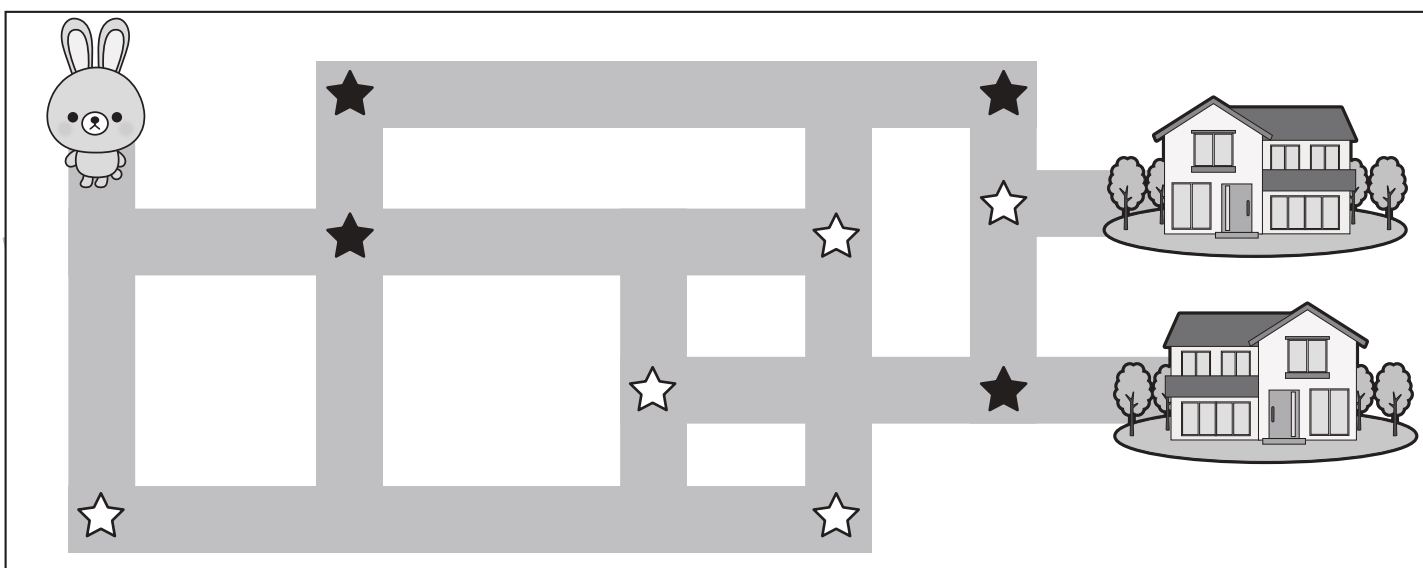



おうちで、やろう。

Study at home. 小学校受験の家庭学習教材

推理：地図の移動 3

ウサギが家まで歩いて帰ります。途中のマークのある曲がり角では約束があります。☆は左に曲がります。★は右に曲がります。マークがなければまっすぐ進んでください。この約束でウサギさんが進んで行ったとき、着いた家に○をつけます。



※1. このプリントは、しながわ・目黒こどもスクールのウェブサイトからダウンロードができます。無断複写・引用はご遠慮ください。

※2. このプリントを活用したオンライン授業のスケジュールは、しながわ・目黒こどもスクールのウェブサイトでご確認ください。



おうちで、やろう。

Study at home. 小学校受験の家庭学習教材

数量：対応 2

真ん中の四角の中のものがあるとき、左のお手本がいくつできるのかを考えます。このとき、右の四角のものはいくつあればよいかを考えて必要な数だけ○をかきます。

① 		<table border="1"> <tbody> <tr> <td data-bbox="958 332 1063 551"></td> <td data-bbox="1063 332 1523 551"></td> </tr> <tr> <td data-bbox="958 551 1063 769"></td> <td data-bbox="1063 551 1523 769"></td> </tr> </tbody> </table>				
② 		<table border="1"> <tbody> <tr> <td data-bbox="958 780 1063 1010"></td> <td data-bbox="1063 780 1523 1010"></td> </tr> <tr> <td data-bbox="958 1010 1063 1228"></td> <td data-bbox="1063 1010 1523 1228"></td> </tr> </tbody> </table>				
③ 		<table border="1"> <tbody> <tr> <td data-bbox="958 1239 1063 1469"></td> <td data-bbox="1063 1239 1523 1469"></td> </tr> <tr> <td data-bbox="958 1469 1063 1687"></td> <td data-bbox="1063 1469 1523 1687"></td> </tr> </tbody> </table>				
④ 		<table border="1"> <tbody> <tr> <td data-bbox="958 1699 1063 1928"></td> <td data-bbox="1063 1699 1523 1928"></td> </tr> <tr> <td data-bbox="958 1928 1063 2128"></td> <td data-bbox="1063 1928 1523 2128"></td> </tr> </tbody> </table>				

※1. このプリントは、しながわ・目黒こどもスクールのウェブサイトからダウンロードできます。無断複写・引用はご遠慮ください。

※2. このプリントを活用したオンライン授業のスケジュールは、しながわ・目黒こどもスクールのウェブサイトでご確認ください。



おうちで、やろう。

Study at home. 小学校受験の家庭学習教材

数量：対応 3

真ん中の四角の中のものがあるとき、左のお手本がいくつできるのかを考えます。このとき、右の四角のものはいくつあればよいかを考えて必要な数だけ○をかきます。

① 		<table border="1"> <tbody> <tr> <td data-bbox="958 332 1063 551"></td> <td data-bbox="1063 332 1523 551"></td> </tr> <tr> <td data-bbox="958 551 1063 769"></td> <td data-bbox="1063 551 1523 769"></td> </tr> </tbody> </table>				
② 		<table border="1"> <tbody> <tr> <td data-bbox="958 780 1063 1010"></td> <td data-bbox="1063 780 1523 1010"></td> </tr> <tr> <td data-bbox="958 1010 1063 1228"></td> <td data-bbox="1063 1010 1523 1228"></td> </tr> </tbody> </table>				
③ 		<table border="1"> <tbody> <tr> <td data-bbox="958 1239 1063 1469"></td> <td data-bbox="1063 1239 1523 1469"></td> </tr> <tr> <td data-bbox="958 1469 1063 1687"></td> <td data-bbox="1063 1469 1523 1687"></td> </tr> </tbody> </table>				
④ 		<table border="1"> <tbody> <tr> <td data-bbox="958 1699 1063 1928"></td> <td data-bbox="1063 1699 1523 1928"></td> </tr> <tr> <td data-bbox="958 1928 1063 2128"></td> <td data-bbox="1063 1928 1523 2128"></td> </tr> </tbody> </table>				

※1. このプリントは、しながわ・目黒こどもスクールのウェブサイトからダウンロードできます。無断複写・引用はご遠慮ください。

※2. このプリントを活用したオンライン授業のスケジュールは、しながわ・目黒こどもスクールのウェブサイトでご確認ください。







おうちで、やろう。

Study at home. 小学校受験の家庭学習教材

処理能力：抹消1

上の太い四角の中の絵がお手本です。下のマスの中からお手本の絵をみつけて斜め線（/）をつけていきます。お手本を見つけるときは、一番上の段の左からはじめて、右端まで見ます。1段目ができたら2段目の左から右。次に3段目の左から右と順番に印をつけていきます。この問題はできるだけ早く印をつけます。それぞれ40秒以内を目指し取り組みましょう。



※1. このプリントは、しながわ・目黒こどもスクールのウェブサイトでダウンロードができます。無断複写・引用はご遠慮ください。
※2. このプリントを活用したオンライン授業のスケジュールは、しながわ・目黒こどもスクールのウェブサイトでご確認ください。





おうちで、やろう。

Study at home. 小学校受験の家庭学習教材

図形：点図形 15

左のお手本と同じになるように右の四角に線をかきます。 ※このプリントに解答はありません。
