



おうちで、やろう。

Study at home. 小学校受験の家庭学習教材

図形：回転 12

左の絵を矢印の方向へ矢印の数だけ倒したときの見え方を考えて右から選び、○をつけます。

※ 1. このプリントは、しながわ・目黒こどもスクールのウェブサイトからダウンロードができます。無断複写・引用はご遠慮ください。

※ 2. このプリントを活用したオンライン授業のスケジュールは、しながわ・目黒こどもスクールのウェブサイトでご確認ください。



おうちで、よろう。

Study at home. 小学校受験の家庭学習教材

図形：回転 13

左の絵を矢印の方向へ矢印の数だけ倒したときの見え方を考えて右から選び、○をつけます。

※ 1. このプリントは、しながわ・目黒こどもスクールのウェブサイトでダウンロードができます。無断複写・引用はご遠慮ください。

※ 2. このプリントを活用したオンライン授業のスケジュールは、しながわ・目黒こどもスクールのウェブサイトでご確認ください。



おうちで、やろう。

Study at home. 小学校受験の家庭学習教材

図形：回転 14

左の絵を矢印の方向へ矢印の数だけ倒したときの見え方を考えて右から選び、○をつけます。

※ 1. このプリントは、しながわ・目黒こどもスクールのウェブサイトからダウンロードができます。無断複写・引用はご遠慮ください。

※ 2. このプリントを活用したオンライン授業のスケジュールは、しながわ・目黒こどもスクールのウェブサイトでご確認ください。






おうちで、やろう。

Study at home. 小学校受験の家庭学習教材

推理：影5

左の四角の中には絵が影になって重なっています。影になっていない絵を右の四角の中から見つけて△をつけます。



※ 1. このプリントは、しながわ・目黒こどもスクールのウェブサイトからダウンロードができます。無断複写・引用はご遠慮ください。
 ※ 2. このプリントを活用したオンライン授業のスケジュールは、しながわ・目黒こどもスクールのウェブサイトでご確認ください。





おうちで、やろう。




Study at home. 小学校受験の家庭学習教材

数量：加減7




左の四角と右の四角の中の絵の違いはいくつですか。違う数だけ右の四角の中に○をかきます。






わ
→
ス




目
→
黒



→



わ
→
ス



※ 1. このプリントは、しながわ・目黒こどもスクールのウェブサイトでダウンロードができます。無断複写・引用はご遠慮ください。
※ 2. このプリントを活用したオンライン授業のスケジュールは、しながわ・目黒こどもスクールのウェブサイトでご確認ください。



おうちで、やろう。

Study at home. 小学校受験の家庭学習教材

数量：加減8

左の四角と真ん中の四角の中の絵の違いはいくつですか。その数だけ絵が入った四角を右側から見つけて、点と点を線で結びます。

※1. このプリントは、しながわ・目黒こどもスクールのウェブサイトでダウンロードができます。無断複写・引用はご遠慮ください。
 ※2. このプリントを活用したオンライン授業のスケジュールは、しながわ・目黒こどもスクールのウェブサイトでご確認ください。



おうちで、やろう。

Study at home. 小学校受験の家庭学習教材

数量：加減9

左の四角と真ん中の四角の中の絵の違いはいくつですか。その数だけ絵が入った四角を右側から見つけて。点と点を線で結びます。

※ 1. このプリントは、しながわ・目黒こどもスクールのウェブサイトでダウンロードができます。無断複写・引用はご遠慮ください。
 ※ 2. このプリントを活用したオンライン授業のスケジュールは、しながわ・目黒こどもスクールのウェブサイトでご確認ください。




おうちで、やろう。

Study at home. 小学校受験の家庭学習教材

運筆：濃淡5

左のお手本と同じ濃さになるように右の形を塗ります。この問題は鉛筆でやりましょう。
※この問題に解答はありません。



※1. このプリントは、しながわ・目黒こどもスクールのウェブサイトからダウンロードができます。無断複写・引用はご遠慮ください。
※2. このプリントを活用したオンライン授業のスケジュールは、しながわ・目黒こどもスクールのウェブサイトでご確認ください。




おうちで、やろう。

Study at home. 小学校受験の家庭学習教材

処理能力：抹消 3

上の太い四角の中がお手本です。下のマスに絵がたくさん並んでいます。この中でお手本の絵と同じ絵に○をつけます。ただし、進む方向は左上のヒラギワシからはじめて右へ進み、右端まできたら2段目の左から右へと順番に進みます。

※お手本の点線をなぞってから先に進みましょう。



※1. このプリントは、しながわ・目黒こどもスクールのウェブサイトでダウンロードができます。無断複写・引用はご遠慮ください。

※2. このプリントを活用したオンライン授業のスケジュールは、しながわ・目黒こどもスクールのウェブサイトでご確認ください。


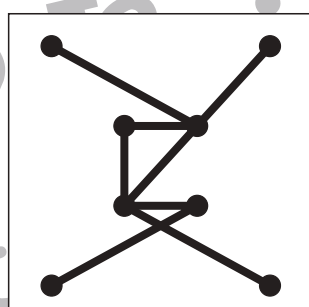

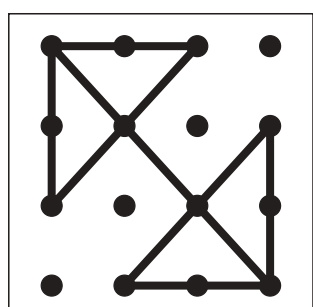

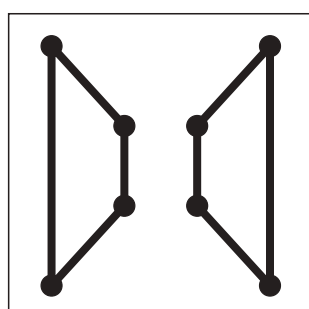

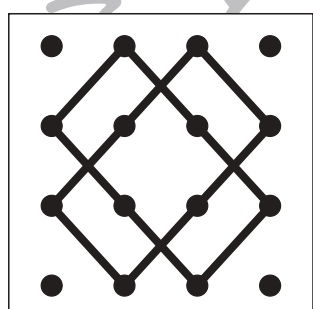

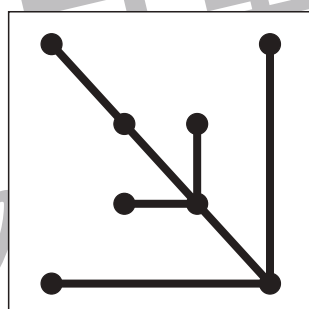

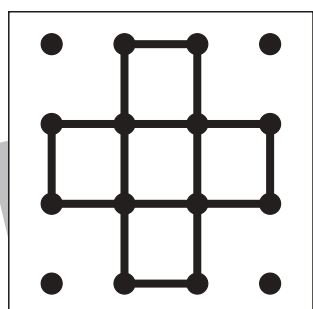

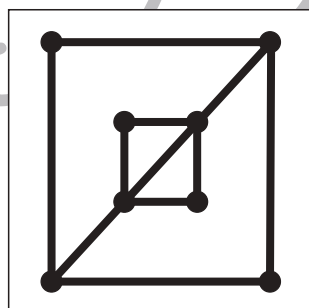

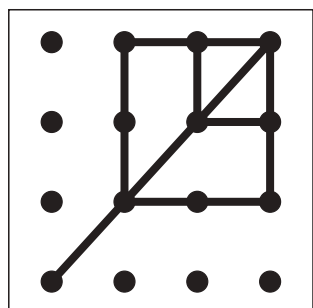

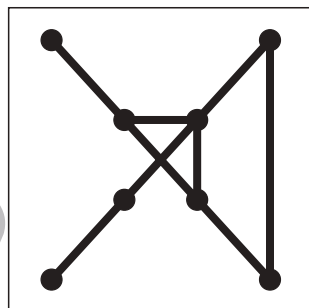

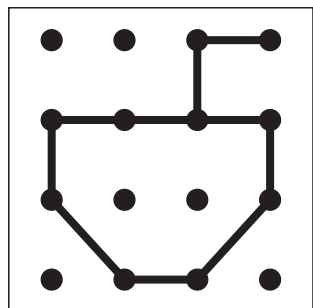


おうちで、やろう。

Study at home. 小学校受験の家庭学習教材

図形：点図形 14

左のお手本と同じになるように右の四角に線をかきます。 ※このプリントに解答はありません。



※ 1. このプリントは、しながわ・目黒こどもスクールのウェブサイトからダウンロードできます。無断複写・引用はご遠慮ください。
※ 2. このプリントを活用したオンライン授業のスケジュールは、しながわ・目黒こどもスクールのウェブサイトでご確認ください。

