















おうちで、やろう。

Study at home. 小学校受験の家庭学習教材

言語：しりとり5

左の四角の中の絵からはじめて右の四角の中の絵でしりとりをします。すべての絵がしりとりでつながるときは○、つながらないときは×を一番右の四角にかきます。



※1. このプリントは、しながわ・目黒こどもスクールのウェブサイトでダウンロードができます。無断複写・引用はご遠慮ください。
※2. このプリントを活用したオンライン授業のスケジュールは、しながわ・目黒こどもスクールのウェブサイトでご確認ください。











おうちで、やろう。

Study at home. 小学校受験の家庭学習教材

言語：音の理解 14

○は四角の中の絵の音の数を表しています。左端がはじめの音の時、●の場所の音が同じものを上の段と下の段から選んで、点と点を線で結びます。

			
○ ● ○ ○	● ○ ○	○ ○ ● ○	○ ○ ● ○

			
● ○ ○ ○	○ ○ ○ ●	○ ○ ● ○	○ ● ○

※1. このプリントは、しながわ・目黒こどもスクールのウェブサイトでダウンロードができます。無断複写・引用はご遠慮ください。
 ※2. このプリントを活用したオンライン授業のスケジュールは、しながわ・目黒こどもスクールのウェブサイトでご確認ください。




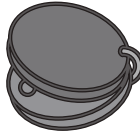


おうちで、やろう。





Study at home. 小学校受験の家庭学習教材

言語：音の理解 15

○は四角の中の絵の音の数を表しています。左端がはじめの音の時、●の場所の音が同じものを上の段と下の段から選んで、点と点を線で結びます。

			
○ ○ ○ ● ○	○ ○ ○ ● ○ ○	○ ● ○ ○ ○	○ ○ ○ ○ ● ○
●	●	●	●

しながわ・目黒
こどもスクール

			
○ ● ○	● ○	○ ○ ● ○	○ ● ○ ○ ○
●	●	●	●

※1. このプリントは、しながわ・目黒こどもスクールのウェブサイトでダウンロードができます。無断複写・引用はご遠慮ください。
※2. このプリントを活用したオンライン授業のスケジュールは、しながわ・目黒こどもスクールのウェブサイトでご確認ください。

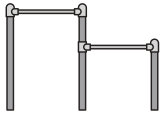














おうちで、やろう。

Study at home. 小学校受験の家庭学習教材

言語：音の理解 16

○は四角の中の絵の音の数を表しています。左端がはじめの音の時、上の絵から下の絵まで順番に●の場所の音をつなげてできるものの絵を下の太い四角の中から見つけて、それぞれの四角の左上の記号をつけます。

○	 ○ ● ○ ○ ↓  ○ ○ ● ↓  ○ ● ○ ○	△	 ○ ○ ● ○ ○ ↓  ○ ● ○ ↓  ○ ● ○ ○ ↓  ● ○ ○ ○	×	 ○ ● ○ ○ ↓  ○ ○ ● ○ ↓  ● ○ ○ ↓  ○ ● ○ ↓  ○ ● ○
---	--	---	---	---	--



※1. このプリントは、しながわ・目黒こどもスクールのウェブサイトダウンロードできます。無断複写・引用はご遠慮ください。
 ※2. このプリントを活用したオンライン授業のスケジュールは、しながわ・目黒こどもスクールのウェブサイトでご確認ください。



おうちで、やろう。

Study at home. 小学校受験の家庭学習教材

常識：生物 3

下の四角の中で、海の中に住んでいる生き物には○を、川や池に住んでいる生き物には△をつけます。



※1. このプリントは、しながわ・目黒こどもスクールのウェブサイトからダウンロードができます。無断複写・引用はご遠慮ください。
※2. このプリントを活用したオンライン授業のスケジュールは、しながわ・目黒こどもスクールのウェブサイトでご確認ください。



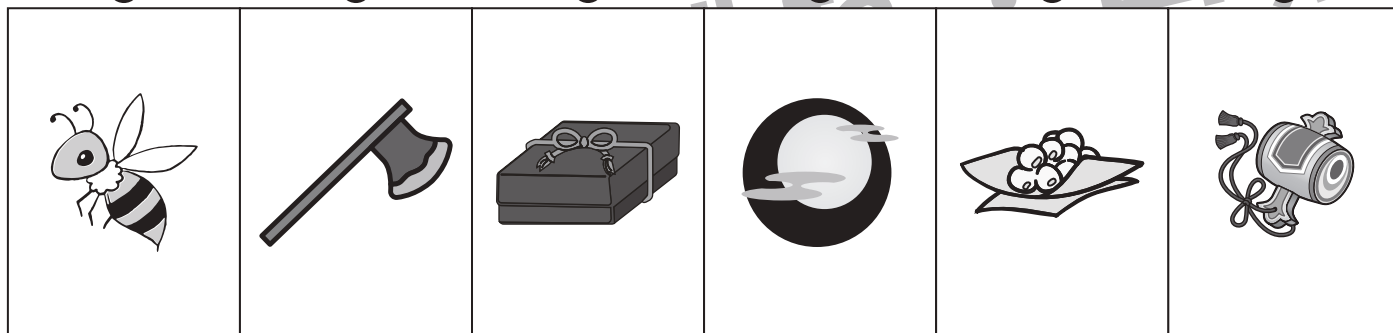




おうちで、やろう。

Study at home. 小学校受験の家庭学習教材

常識：昔話 1

上の四角の昔話に出てくるもの・関係するものを真ん中の段と下の段から選んで、点と点を線で結びます。



※1. このプリントは、しながわ・目黒こどもスクールのウェブサイトでダウンロードができます。無断複写・引用はご遠慮ください。
 ※2. このプリントを活用したオンライン授業のスケジュールは、しながわ・目黒こどもスクールのウェブサイトでご確認ください。

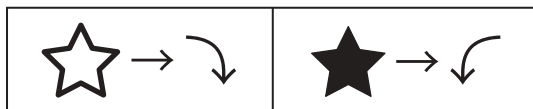


おうちで、やろう。

Study at home. 小学校受験の家庭学習教材

図形：回転 15

☆は右に1回、★は左に1回倒します。それぞれの四角の左の形を☆と★の数だけ倒すと、右の3つのうちどの形になりますか。正しいものを1つ選んで、点と点を線で結びます。



Problem 1: A square contains a triangle with a dot at the top vertex and two dots at the bottom vertices. To its right are two white stars and one dot. To the right of the square are three triangles, each with a dot at a different vertex.

Problem 2: A square contains a black five-pointed star with a dot at the top vertex. To its right are two black stars and one dot. To the right of the square are three black five-pointed stars, each with a dot at a different vertex.

Problem 3: A square contains a circle divided into four quadrants with shapes: top-left square, top-right circle, bottom-left 'x', bottom-right triangle. To its right are one white star and two black stars, followed by a dot. To the right of the square are three circles, each divided into four quadrants with different shapes.

※1. このプリントは、しながわ・目黒こどもスクールのウェブサイトでダウンロードができます。無断複写・引用はご遠慮ください。
※2. このプリントを活用したオンライン授業のスケジュールは、しながわ・目黒こどもスクールのウェブサイトでご確認ください。



おうちで、やろう。

Study at home. 小学校受験の家庭学習教材

図形：回転 16

☆は右に1回、★は左に1回、△は右に2回倒します。それぞれの四角の左の形を☆と★と△の数だけ倒すと、右の3つのうちのどの形になりますか。正しいものを1つ選んで、点と点を線で結びます。



<table border="1"> <tr><td>×</td><td>○</td></tr> <tr><td>○</td><td>△</td></tr> </table>	×	○	○	△	<table border="1"> <tr><td>☆</td><td>△</td><td>●</td></tr> </table>	☆	△	●	<ul style="list-style-type: none"> ● <table border="1"><tr><td>○</td><td>×</td></tr><tr><td>▷</td><td>○</td></tr></table> ● <table border="1"><tr><td>○</td><td>◁</td></tr><tr><td>×</td><td>○</td></tr></table> ● <table border="1"><tr><td>○</td><td>▷</td></tr><tr><td>×</td><td>○</td></tr></table> 	○	×	▷	○	○	◁	×	○	○	▷	×	○
×	○																				
○	△																				
☆	△	●																			
○	×																				
▷	○																				
○	◁																				
×	○																				
○	▷																				
×	○																				

<table border="1"> <tr><td>△</td><td>○</td></tr> <tr><td>×</td><td>▷</td></tr> </table>	△	○	×	▷	<table border="1"> <tr><td>△</td><td>●</td></tr> <tr><td>★</td><td>☆</td></tr> </table>	△	●	★	☆	<ul style="list-style-type: none"> ● <table border="1"><tr><td>×</td><td>▷</td></tr><tr><td>▽</td><td>○</td></tr></table> ● <table border="1"><tr><td>○</td><td>△</td></tr><tr><td>◁</td><td>×</td></tr></table> ● <table border="1"><tr><td>◁</td><td>×</td></tr><tr><td>○</td><td>▽</td></tr></table> 	×	▷	▽	○	○	△	◁	×	◁	×	○	▽
△	○																					
×	▷																					
△	●																					
★	☆																					
×	▷																					
▽	○																					
○	△																					
◁	×																					
◁	×																					
○	▽																					

<table border="1"> <tr><td>◁</td><td>●</td></tr> <tr><td>●</td><td>◁</td></tr> </table>	◁	●	●	◁	<table border="1"> <tr><td>☆</td><td>●</td></tr> <tr><td>★</td><td>★</td></tr> </table>	☆	●	★	★	<ul style="list-style-type: none"> ● <table border="1"><tr><td>▷</td><td>●</td></tr><tr><td>●</td><td>◁</td></tr></table> ● <table border="1"><tr><td>●</td><td>▷</td></tr><tr><td>◁</td><td>●</td></tr></table> ● <table border="1"><tr><td>●</td><td>▽</td></tr><tr><td>◁</td><td>●</td></tr></table> 	▷	●	●	◁	●	▷	◁	●	●	▽	◁	●
◁	●																					
●	◁																					
☆	●																					
★	★																					
▷	●																					
●	◁																					
●	▷																					
◁	●																					
●	▽																					
◁	●																					

※1. このプリントは、しながわ・目黒こどもスクールのウェブサイトでダウンロードができます。無断複写・引用はご遠慮ください。
※2. このプリントを活用したオンライン授業のスケジュールは、しながわ・目黒こどもスクールのウェブサイトでご確認ください。



おうちで、やろう。

Study at home. 小学校受験の家庭学習教材

数量：計数 22

太い四角の中の絵の数と同じ数だけ灰色のマスがある四角を、右から選んで○をつけます。

※1. このプリントは、しながわ・目黒こどもスクールのウェブサイトからダウンロードできます。無断複写・引用はご遠慮ください。

※2. このプリントを活用したオンライン授業のスケジュールは、しながわ・目黒こどもスクールのウェブサイトでご確認ください。






おうちで、やろう。

Study at home. 小学校受験の家庭学習教材

数量：対応3

太い四角の中が1人分のセットです。右の四角の中のものをセットにしたとき、全部で何セットできますか。
その数だけ下の四角に〇を書きましょう



※1. このプリントは、しながわ・目黒こどもスクールのウェブサイトでダウンロードができます。無断複写・引用はご遠慮ください。
 ※2. このプリントを活用したオンライン授業のスケジュールは、しながわ・目黒こどもスクールのウェブサイトでご確認ください。