















# おうちで、やろう。







Study at home. 小学校受験の家庭学習教材







言語：しりとり5







左の四角の中の絵からはじめて右の四角の中の絵でしりとりをします。すべての絵がしりとりでつながるときは○、つながらないときは×を一番右の四角にかきます。

	→	   	
---	---	--	---

	→	   	
---	---	--	---

	→	   	
---	---	--	---

	→	   	
---	---	--	---

	→	   	
---	---	--	---

※1. このプリントは、しながわ・目黒こどもスクールのウェブサイトからダウンロードできます。無断複写・引用はご遠慮ください。  
 ※2. このプリントを活用したオンライン授業のスケジュールは、しながわ・目黒こどもスクールのウェブサイトでご確認ください。





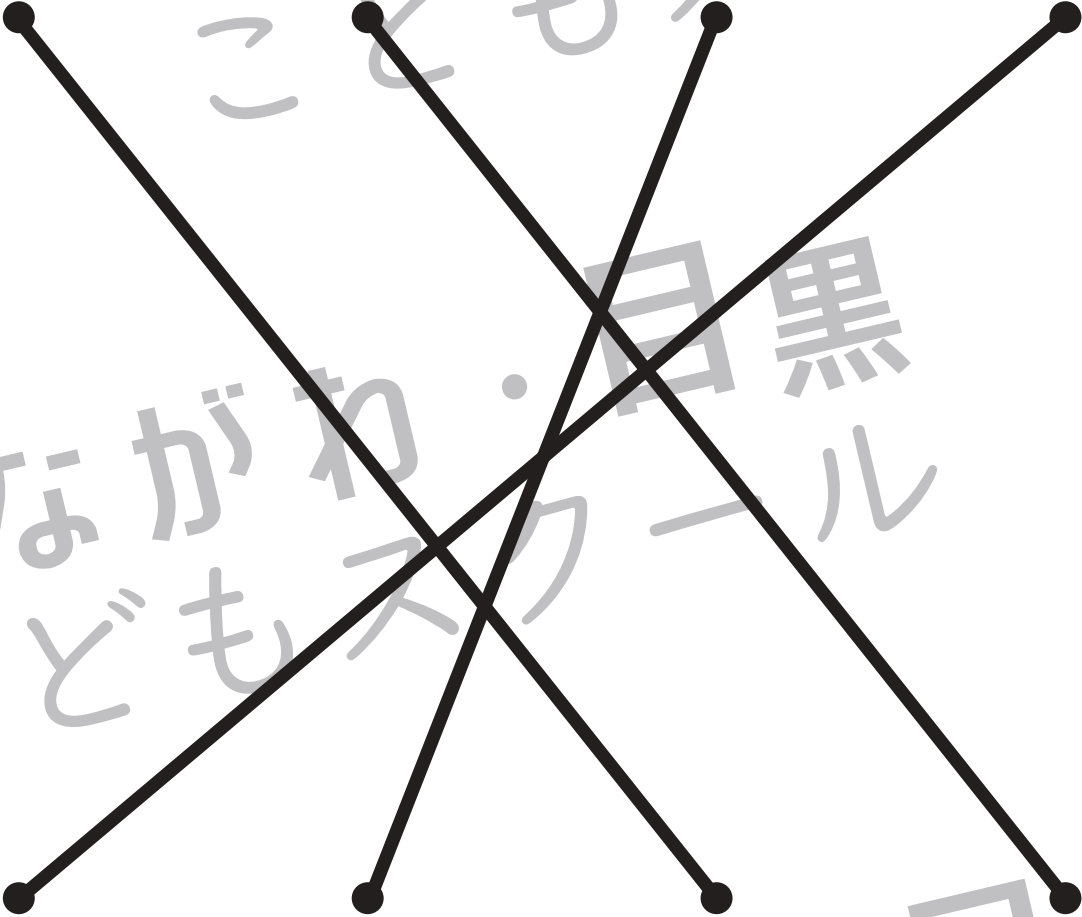






# おうちで、やろう。

Study at home. 小学校受験の家庭学習教材

## 言語：音の理解 14

○は四角の中の絵の音の数を表しています。左端がはじめの音の時、●の場所の音が同じものを上の段と下の段から選んで、点と点を線で結びます。

 ○ ● ○ ○	 ● ○ ○	 ○ ○ ● ○	 ○ ○ ● ○
			
 ● ○ ○ ○	 ○ ○ ○ ●	 ○ ○ ● ○	 ○ ● ○

※1. このプリントは、しながわ・目黒こどもスクールのウェブサイトでダウンロードができます。無断複写・引用はご遠慮ください。  
 ※2. このプリントを活用したオンライン授業のスケジュールは、しながわ・目黒こどもスクールのウェブサイトでご確認ください。




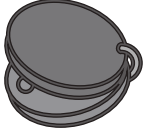
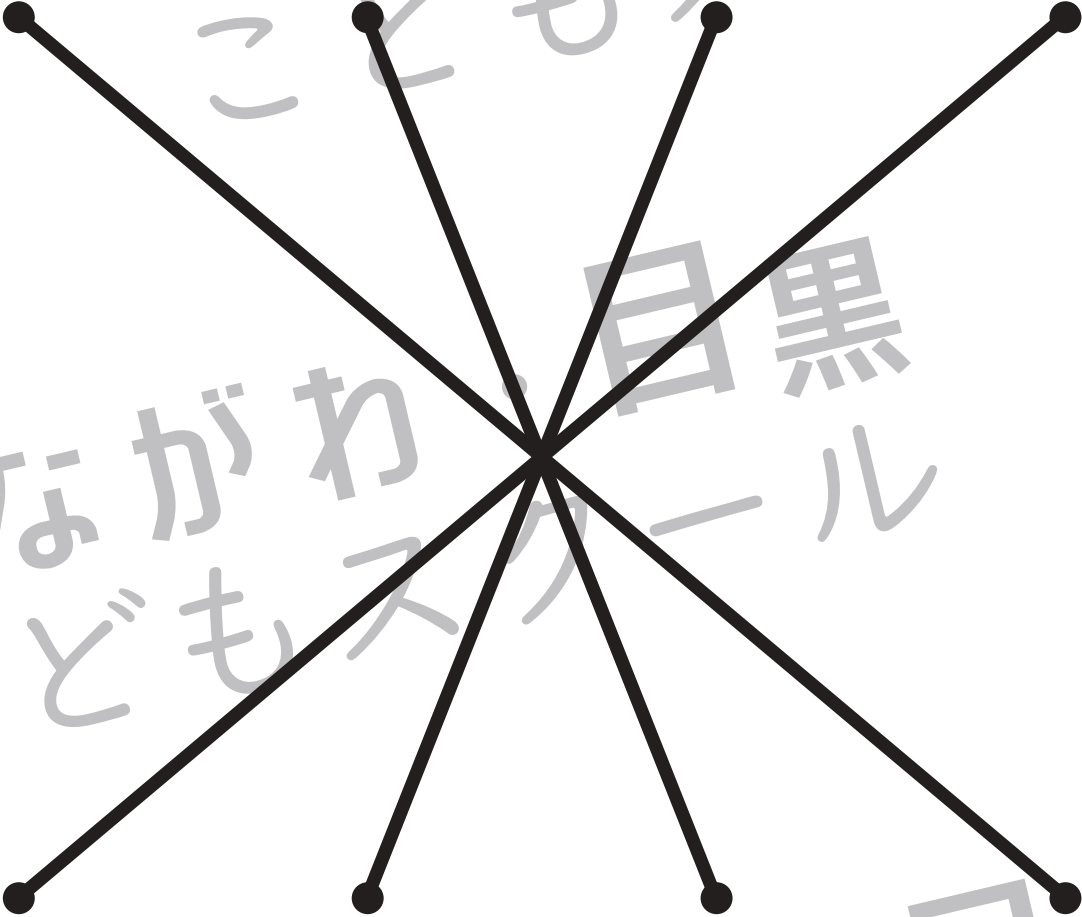






# おうちで、やろう。

Study at home. 小学校受験の家庭学習教材

## 言語：音の理解 15

○は四角の中の絵の音の数を表しています。左端がはじめの音の時、●の場所の音が同じものを上の段と下の段から選んで、点と点を線で結びます。

 <p>○ ○ ○ ● ○</p>	 <p>○ ○ ○ ● ○ ○ ○</p>	 <p>○ ● ○ ○ ○ ○</p>	 <p>○ ○ ○ ○ ○ ● ○</p>
			
 <p>○ ● ○</p>	 <p>● ○</p>	 <p>○ ○ ● ○</p>	 <p>○ ● ○ ○ ○ ○</p>

※1. このプリントは、しながわ・目黒こどもスクールのウェブサイトからダウンロードできます。無断複写・引用はご遠慮ください。  
 ※2. このプリントを活用したオンライン授業のスケジュールは、しながわ・目黒こどもスクールのウェブサイトでご確認ください。

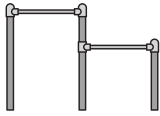














# おうちで、やろう。

Study at home. 小学校受験の家庭学習教材

## 言語：音の理解 16

○は四角の中の絵の音の数を表しています。左端がはじめの音の時、上の絵から下の絵まで順番に●の場所の音をつなげてできるものの絵を下の太い四角の中から見つけて、それぞれの四角の左上の記号をつけます。

○	 ○ ● ○ ○ ↓  ○ ○ ● ↓  ○ ● ○ ○	△	 ○ ○ ● ○ ○ ↓  ○ ● ○ ↓  ○ ● ○ ○ ↓  ● ○ ○ ○	×	 ○ ● ○ ○ ↓  ○ ○ ● ○ ↓  ● ○ ○ ↓  ○ ● ○ ↓  ○ ● ○
---	--	---	---	---	--



※1. このプリントは、しながわ・目黒こどもスクールのウェブサイトからダウンロードできます。無断複写・引用はご遠慮ください。  
 ※2. このプリントを活用したオンライン授業のスケジュールは、しながわ・目黒こどもスクールのウェブサイトでご確認ください。



# おうちで、やろう。

Study at home. 小学校受験の家庭学習教材

## 常識：生物 3

下の四角の中で、海の中に住んでいる生き物には○を、川や池に住んでいる生き物には△を付けます。



※1. このプリントは、しながわ・目黒こどもスクールのウェブサイトでダウンロードができます。無断複写・引用はご遠慮ください。

※2. このプリントを活用したオンライン授業のスケジュールは、しながわ・目黒こどもスクールのウェブサイトでご確認ください。

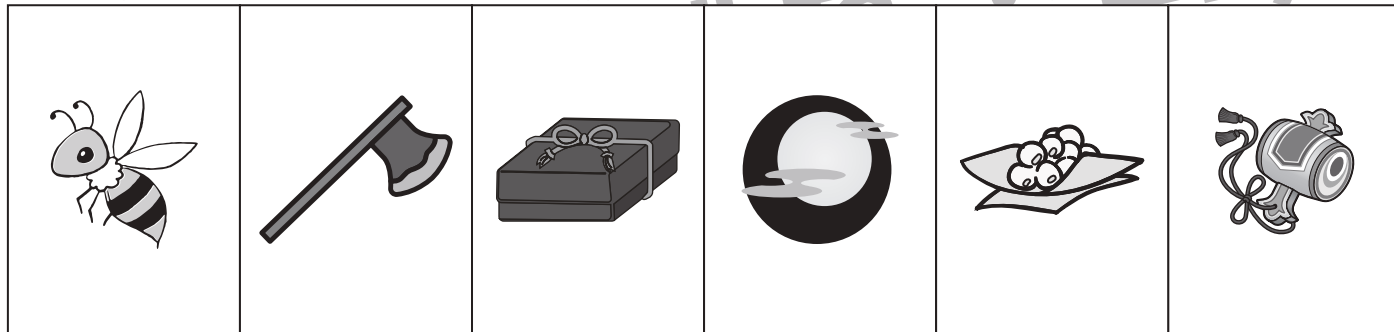
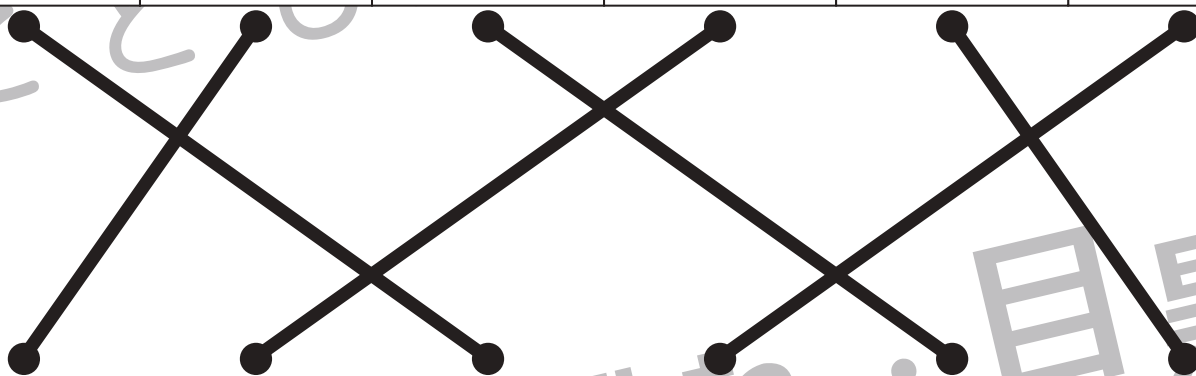





# おうちで、やろう。

Study at home. 小学校受験の家庭学習教材

## 常識：昔話 1

上の四角の昔話に出てくるもの・関係するものを真ん中の段と下の段から選んで、点と点を線で結びます。



※1. このプリントは、しながわ・目黒こどもスクールのウェブサイトからダウンロードできます。無断複写・引用はご遠慮ください。  
 ※2. このプリントを活用したオンライン授業のスケジュールは、しながわ・目黒こどもスクールのウェブサイトでご確認ください。

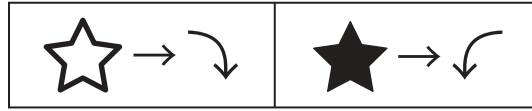


# おうちで、やろう。

Study at home. 小学校受験の家庭学習教材

図形：回転 15

☆は右に1回、★は左に1回倒します。それぞれの四角の左の形を☆と★の数だけ倒すと、右の3つのうちどの形になりますか。正しいものを1つ選んで、点と点を線で結びます。



Problem 1: A square contains a white triangle with a black dot at the top vertex and two white dots at the bottom vertices. To its right are two white stars. A thick black line connects the right dot of the star pair to the top dot of the first option on the right.

Options (from top to bottom):

- Option 1: A white triangle with a black dot at the top vertex and two white dots at the bottom vertices.
- Option 2: A white triangle with a black dot at the bottom-left vertex and two white dots at the top and bottom-right vertices.
- Option 3: A white triangle with a black dot at the bottom-right vertex and two white dots at the top and bottom-left vertices.

Problem 2: A square contains a black five-pointed star with a black dot at the top vertex. To its right are two black stars. A thick black line connects the right dot of the star pair to the top dot of the second option on the right.

Options (from top to bottom):

- Option 1: A black five-pointed star with a black dot at the top vertex.
- Option 2: A black five-pointed star with a black dot at the bottom vertex.
- Option 3: A black five-pointed star with a black dot at the top vertex.

Problem 3: A square contains a circle divided into four quadrants with shapes: top-left (square), top-right (circle), bottom-left (cross), bottom-right (triangle). To its right are one white star and two black stars. A thick black line connects the right dot of the star pair to the top dot of the third option on the right.

Options (from top to bottom):

- Option 1: A circle divided into four quadrants with shapes: top-left (cross), top-right (square), bottom-left (triangle), bottom-right (circle).
- Option 2: A circle divided into four quadrants with shapes: top-left (inverted triangle), top-right (cross), bottom-left (circle), bottom-right (square).
- Option 3: A circle divided into four quadrants with shapes: top-left (circle), top-right (inverted triangle), bottom-left (square), bottom-right (cross).

※1. このプリントは、しながわ・目黒こどもスクールのウェブサイトでダウンロードができます。無断複写・引用はご遠慮ください。  
※2. このプリントを活用したオンライン授業のスケジュールは、しながわ・目黒こどもスクールのウェブサイトでご確認ください。



# おうちで、やろう。

Study at home. 小学校受験の家庭学習教材

図形：回転 16

☆は右に1回、★は左に1回、△は右に2回倒します。それぞれの四角の左の形を☆と★と△の数だけ倒すと、右の3つのうちのどの形になりますか。正しいものを1つ選んで、点と点を線で結びます。



<table border="1"> <tr><td>×</td><td>○</td></tr> <tr><td>○</td><td>△</td></tr> </table>	×	○	○	△	☆   △	●————●	<table border="1"> <tr><td>○</td><td>×</td></tr> <tr><td>▷</td><td>○</td></tr> </table>	○	×	▷	○
×	○										
○	△										
○	×										
▷	○										
			<table border="1"> <tr><td>○</td><td>◁</td></tr> <tr><td>×</td><td>○</td></tr> </table>	○	◁	×	○				
○	◁										
×	○										
			<table border="1"> <tr><td>○</td><td>▷</td></tr> <tr><td>×</td><td>○</td></tr> </table>	○	▷	×	○				
○	▷										
×	○										

<table border="1"> <tr><td>△</td><td>○</td></tr> <tr><td>×</td><td>▷</td></tr> </table>	△	○	×	▷	△ ★   ☆	●————●	<table border="1"> <tr><td>×</td><td>▷</td></tr> <tr><td>▽</td><td>○</td></tr> </table>	×	▷	▽	○
△	○										
×	▷										
×	▷										
▽	○										
			<table border="1"> <tr><td>○</td><td>△</td></tr> <tr><td>◁</td><td>×</td></tr> </table>	○	△	◁	×				
○	△										
◁	×										
			<table border="1"> <tr><td>◁</td><td>×</td></tr> <tr><td>○</td><td>▽</td></tr> </table>	◁	×	○	▽				
◁	×										
○	▽										

<table border="1"> <tr><td>◁</td><td>●</td></tr> <tr><td>●</td><td>◁</td></tr> </table>	◁	●	●	◁	☆ ★   ★	●————●	<table border="1"> <tr><td>▷</td><td>●</td></tr> <tr><td>●</td><td>◁</td></tr> </table>	▷	●	●	◁
◁	●										
●	◁										
▷	●										
●	◁										
			<table border="1"> <tr><td>●</td><td>▷</td></tr> <tr><td>◁</td><td>●</td></tr> </table>	●	▷	◁	●				
●	▷										
◁	●										
			<table border="1"> <tr><td>●</td><td>▽</td></tr> <tr><td>◁</td><td>●</td></tr> </table>	●	▽	◁	●				
●	▽										
◁	●										

※1. このプリントは、しながわ・目黒こどもスクールのウェブサイトでダウンロードができます。無断複写・引用はご遠慮ください。  
※2. このプリントを活用したオンライン授業のスケジュールは、しながわ・目黒こどもスクールのウェブサイトでご確認ください。





# おうちで、よろう。

Study at home. 小学校受験の家庭学習教材

数量：計数 22

太い四角の中の絵の数と同じ数だけ灰色のマスがある四角を、右から選んで○をつけます。


※1. このプリントは、しながわ・目黒こどもスクールのウェブサイトダウンロードができます。無断複写・引用はご遠慮ください。

※2. このプリントを活用したオンライン授業のスケジュールは、しながわ・目黒こどもスクールのウェブサイトでご確認ください。




# おうちで、やろう。


Study at home. 小学校受験の家庭学習教材

数量：対応3


太い四角の中が1人分のセットです。右の四角の中のものをセットにしたとき、全部で何セットできますか。  
その数だけ下の四角に○を書きましょう



○ × 5



○ × 5



○ × 4

※1. このプリントは、しながわ・目黒こどもスクールのウェブサイトでダウンロードができます。無断複写・引用はご遠慮ください。  
※2. このプリントを活用したオンライン授業のスケジュールは、しながわ・目黒こどもスクールのウェブサイトでご確認ください。