

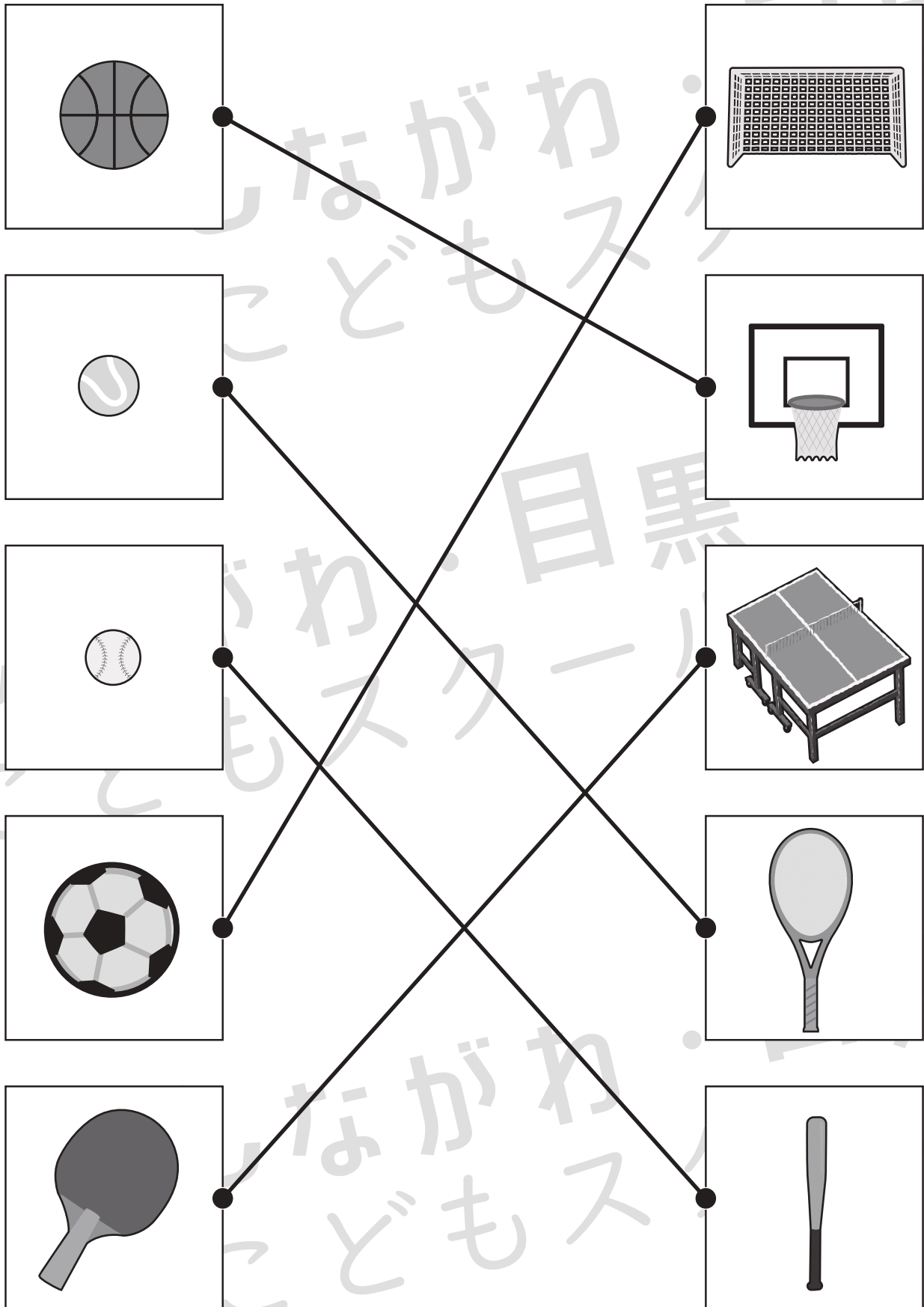


おうちで、やろう。

Study at home. 小学校受験の家庭学習教材

常識：スポーツ1

左側の絵のスポーツで使う道具を右側の絵の中から選んで線で結びましょう。



※1. このプリントは、しながわ・目黒こどもスクールのウェブサイトでダウンロードができます。無断複写・引用はご遠慮ください。

※2. このプリントを活用したオンライン授業のスケジュールは、しながわ・目黒こどもスクールのウェブサイトでご確認ください。





おうちで、やろう。

Study at home. 小学校受験の家庭学習教材

常識：スポーツ2

①～⑤の問題を聞いて、下の四角の中から正しいものを選びます。

①私がやっているのは、黄色いボールをラケットでうつスポーツです。私がやっているスポーツに○をつけてください。

②私がやっているのは、ボールを手で打つスポーツです。私がやっているスポーツに△をつけてください。

③私がやっているのは、ボールを足で蹴るスポーツです。私がやっているスポーツに□をつけてください。

④私がやっているのは、ラケットではねを打つスポーツです。私がやっているスポーツに◎をつけてください。

⑤私がやっているのは、ボールを手でドリブルして、ゴールに入れるスポーツです。私がやっているスポーツに×をつけてください。



※1. このプリントは、しながわ・目黒こどもスクールのウェブサイトでダウンロードができます。無断複写・引用はご遠慮ください。

※2. このプリントを活用したオンライン授業のスケジュールは、しながわ・目黒こどもスクールのウェブサイトでご確認ください。



おうちで、よろう。

Study at home. 小学校受験の家庭学習教材

図形：重ね7

左の2枚の透明な板を向きを変えずにぴったり重ねたときの見え方を考えて、右の四角を塗りましょう。

※1. このプリントは、しながわ・目黒こどもスクールのウェブサイトからダウンロードできます。無断複写・引用はご遠慮ください。

※2. このプリントを活用したオンライン授業のスケジュールは、しながわ・目黒こどもスクールのウェブサイトでご確認ください。



おうちで、やろう。

Study at home. 小学校受験の家庭学習教材

図形：重ね8

左の2枚の透明な板を向きを変えずにぴったり重ねたときの見え方を考えて、右の四角を塗りましょう。

※1. このプリントは、しながわ・目黒こどもスクールのウェブサイトでダウンロードができます。無断複写・引用はご遠慮ください。
 ※2. このプリントを活用したオンライン授業のスケジュールは、しながわ・目黒こどもスクールのウェブサイトでご確認ください。



おうちで、やろう。

Study at home. 小学校受験の家庭学習教材

推理：パズル 3

パズルのピースをすべて組み合わせたときの形が一番左にあります。黒でかくれた場所にはどのピースがはまるのかを考えて、答えに○をつけます。

※1. このプリントは、しながわ・目黒こどもスクールのウェブサイトダウンロードができます。無断複写・引用はご遠慮ください。

※2. このプリントを活用したオンライン授業のスケジュールは、しながわ・目黒こどもスクールのウェブサイトでご確認ください。




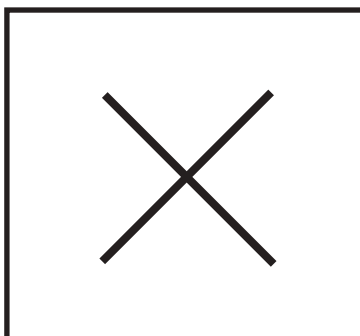








おうちで、やろう。

Study at home. 小学校受験の家庭学習教材

数量：タイヤの数 4

左と右の四角の中にあるタイヤの数を数えます。
どちらも数が同じときは同じタイヤの数だけ〇を書き、ちがうときは × だけ書きましょう。



※1. このプリントは、しながわ・目黒こどもスクールのウェブサイトでダウンロードができます。無断複写・引用はご遠慮ください。
※2. このプリントを活用したオンライン授業のスケジュールは、しながわ・目黒こどもスクールのウェブサイトでご確認ください。





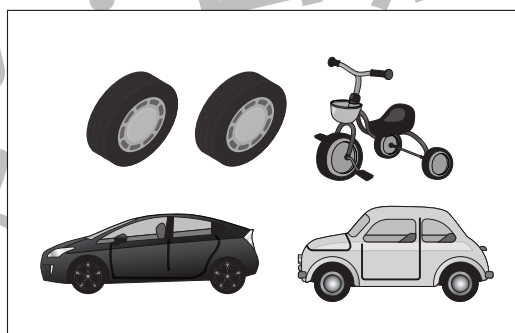

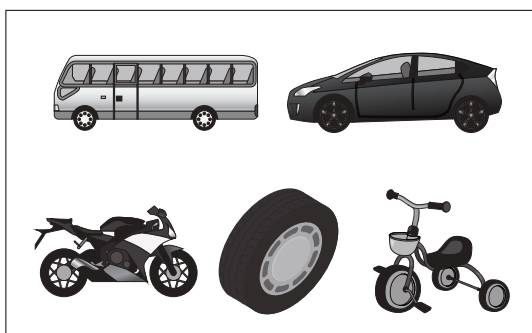





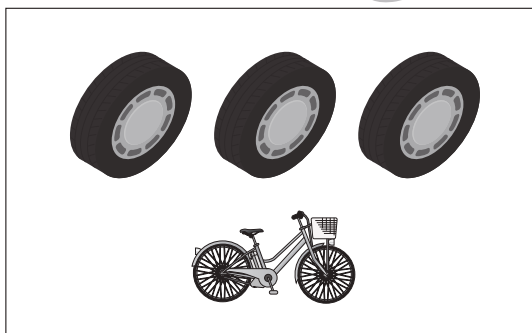



おうちで、やろう。

Study at home. 小学校受験の家庭学習教材

数量：タイヤの数5

左と右の四角の中にあるタイヤの数を数えます。

どちらも数が同じときは同じタイヤの数だけ〇を書き、ちがうときは×だけ書きましょう。



※1. このプリントは、しながわ・目黒こどもスクールのウェブサイトでダウンロードができます。無断複写・引用はご遠慮ください。

※2. このプリントを活用したオンライン授業のスケジュールは、しながわ・目黒こどもスクールのウェブサイトでご確認ください。






おうちで、やろう。

Study at home. 小学校受験の家庭学習教材



数量：タイヤの数6

左と右の四角の中にあるタイヤの数を数えます。

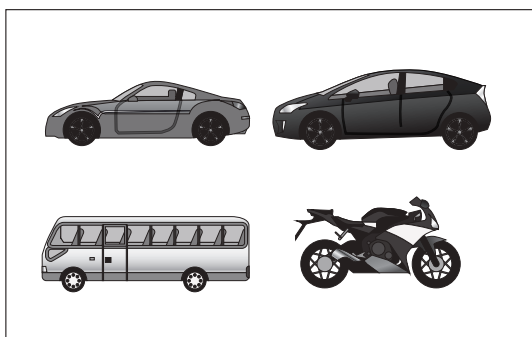

どちらも数が同じときは同じタイヤの数だけ〇を書き、ちがうときは×だけ書きましょう。




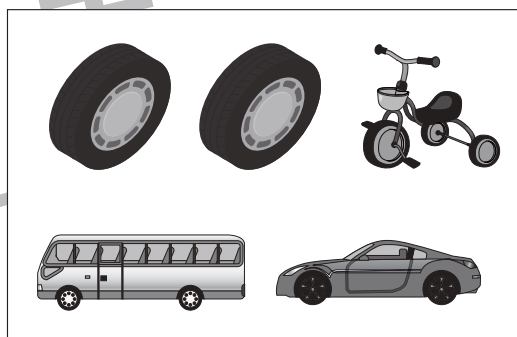
〇 × 4





×




×



〇 × 12



〇 × 10



※1. このプリントは、しながわ・目黒こどもスクールのウェブサイトでダウンロードができます。無断複写・引用はご遠慮ください。

※2. このプリントを活用したオンライン授業のスケジュールは、しながわ・目黒こどもスクールのウェブサイトでご確認ください。




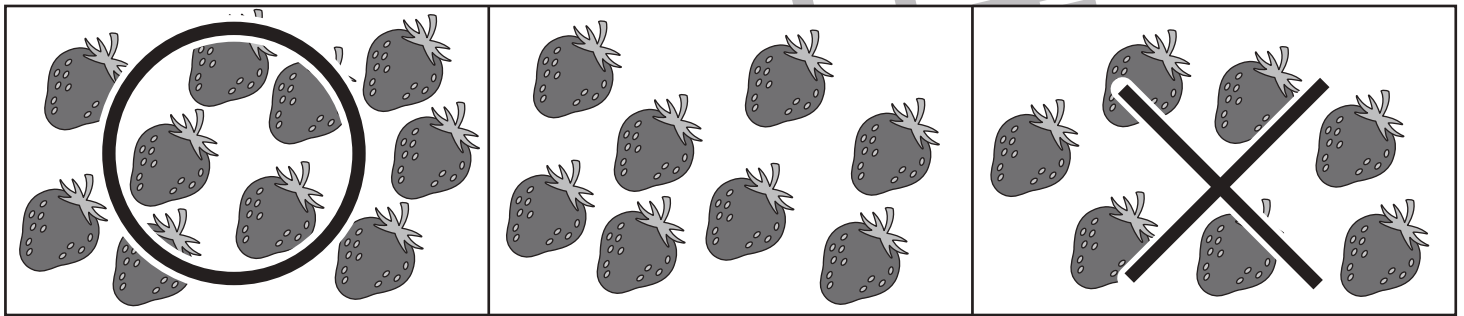




おうちで、やろう。

Study at home. 小学校受験の家庭学習教材

数量：多少3

横に並んだ三つの四角の中で、絵の数が一番少ないものに×、一番多いものに○をつけます。



※1. このプリントは、しながわ・目黒こどもスクールのウェブサイトからダウンロードできます。無断複写・引用はご遠慮ください。
 ※2. このプリントを活用したオンライン授業のスケジュールは、しながわ・目黒こどもスクールのウェブサイトでご確認ください。