



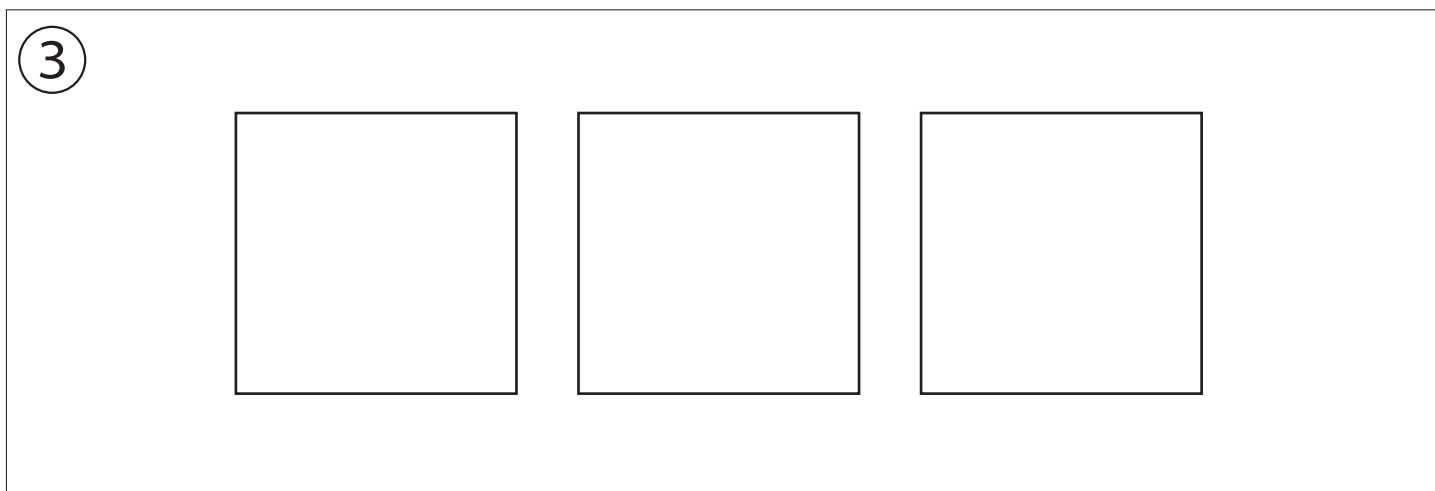

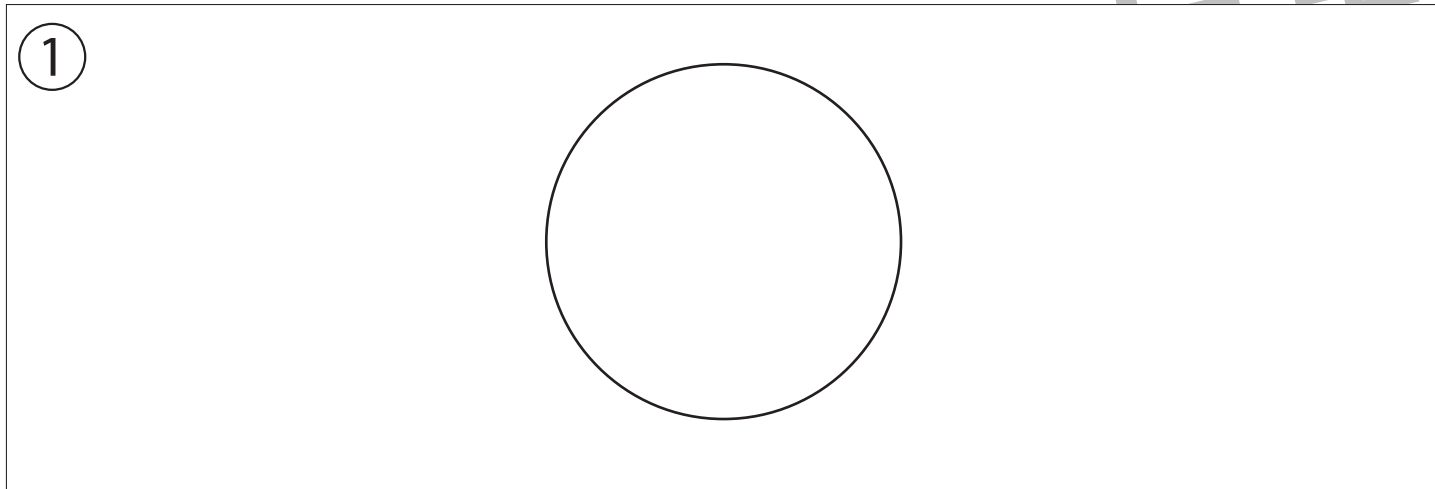
おうちで、やろう。

Study at home. 小学校受験の家庭学習教材

指示の聞き取り 2

それぞれのお話通りになるように色を塗ったり、記号をかきます。問題は1度しか読みませんのでしっかり聞きましょう。

- ①丸の左に四角を、右に三角をかきます。
- ②四角の中に三角を、四角の左に○を、四角の右に×をかきます。
- ③四角を3つ並べてかきます。真ん中の四角は薄く、右の四角は濃く塗ります。左の四角は塗りません。



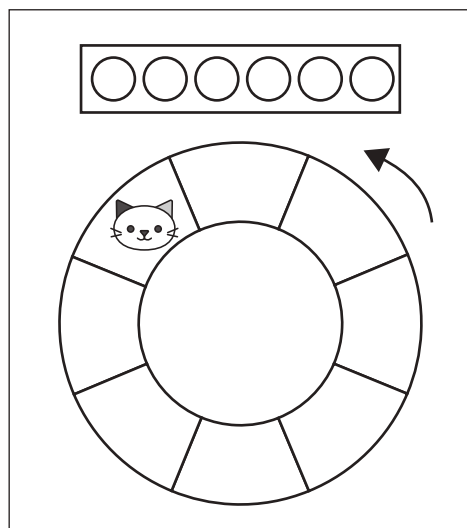
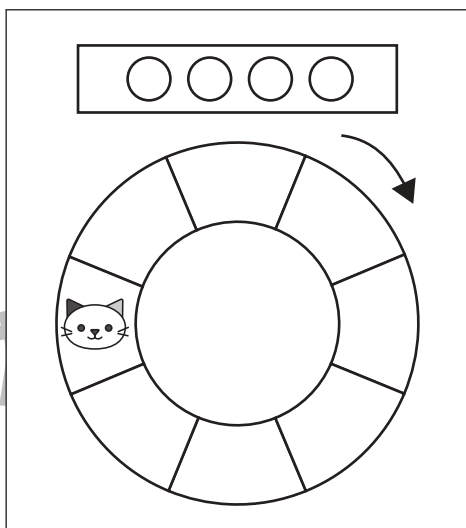
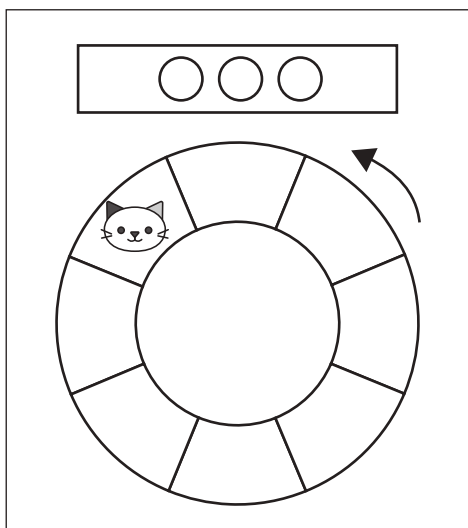
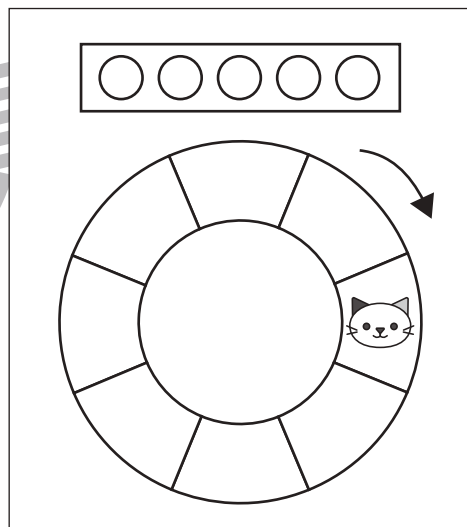
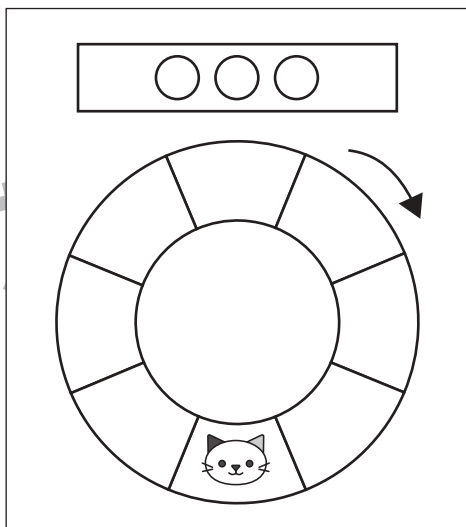
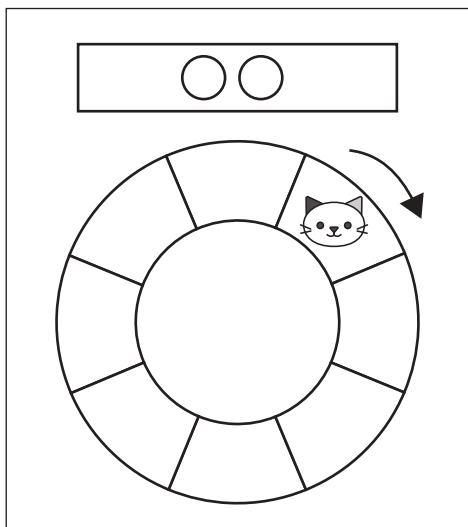
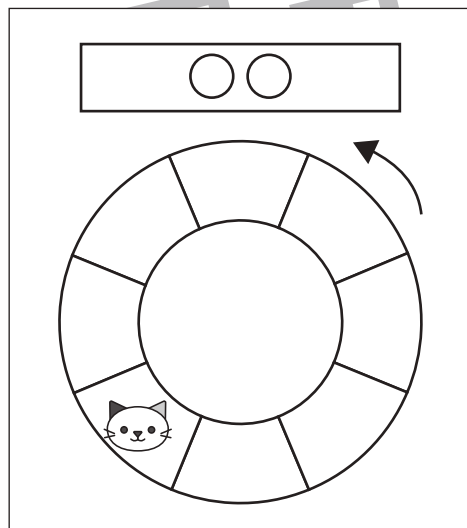
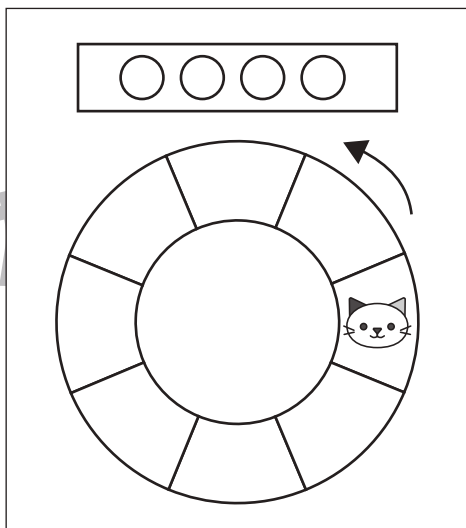
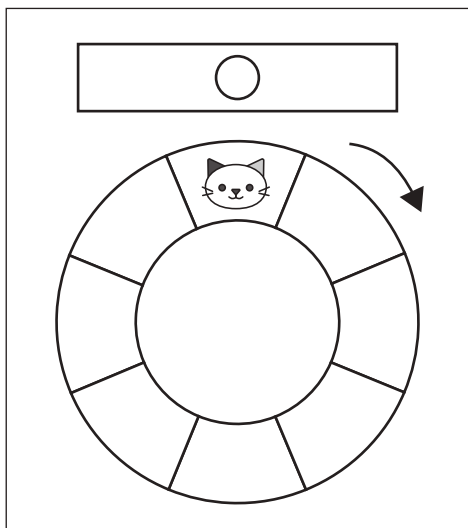


おうちで、やろう。

Study at home. 小学校受験の家庭学習教材

図形：移動 4

ネコはマスを上の方角の中の○の数だけ矢印の方向に動きます。約束通りに進んだあとにネコがいる場所を塗ります。



※1. このプリントは、しながわ・目黒こどもスクールのウェブサイトでダウンロードができます。無断複写・引用はご遠慮ください。
※2. このプリントを活用したオンライン授業のスケジュールは、しながわ・目黒こどもスクールのウェブサイトでご確認ください。

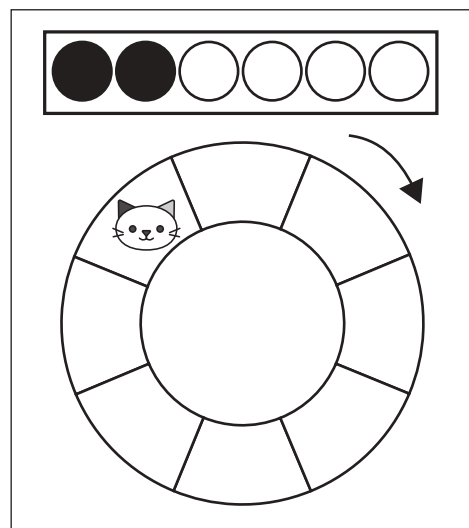
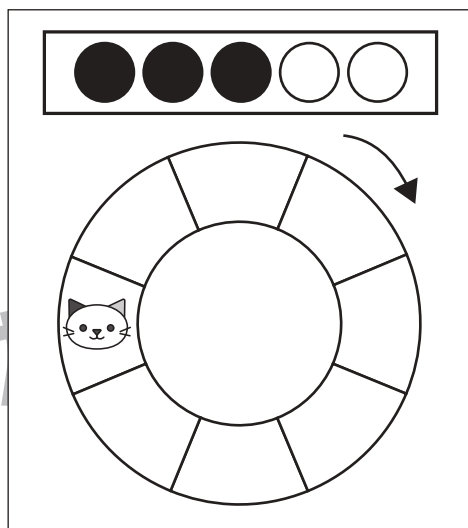
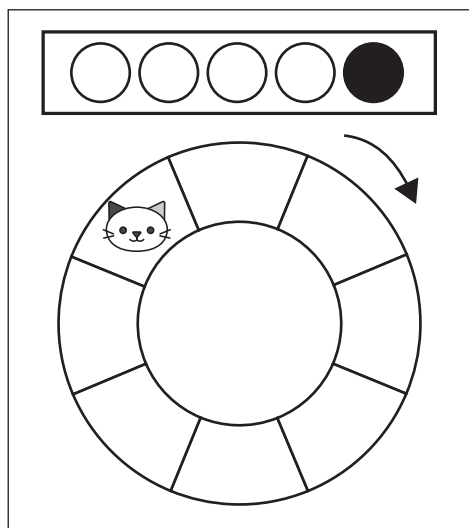
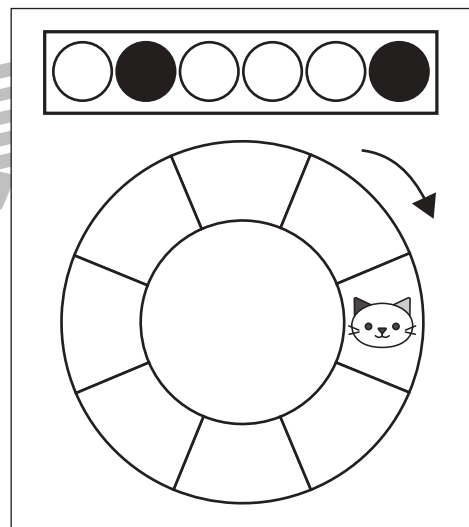
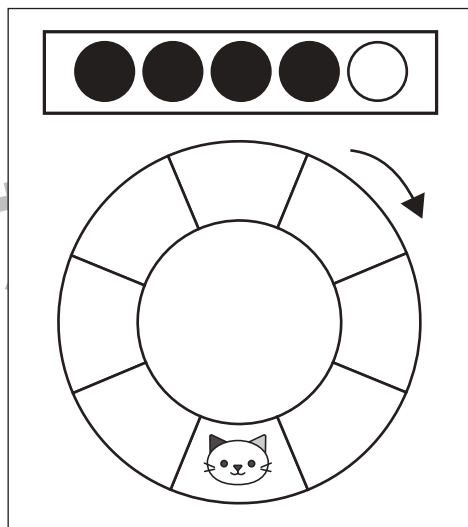
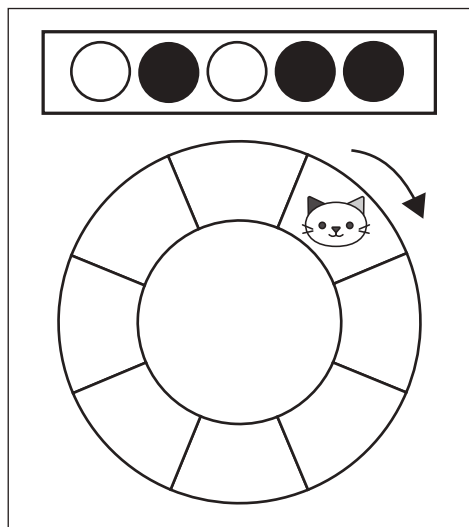
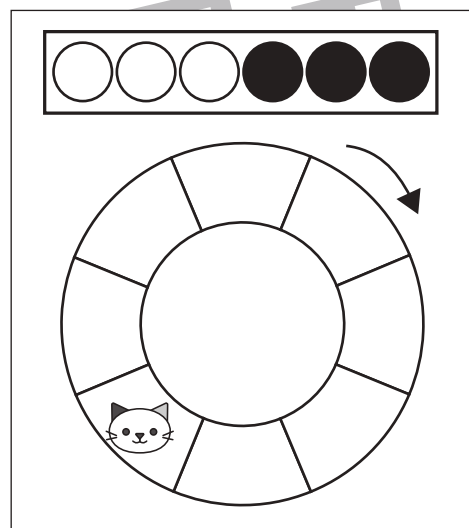
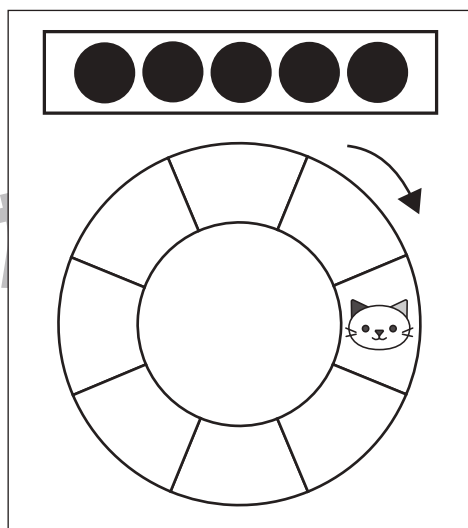
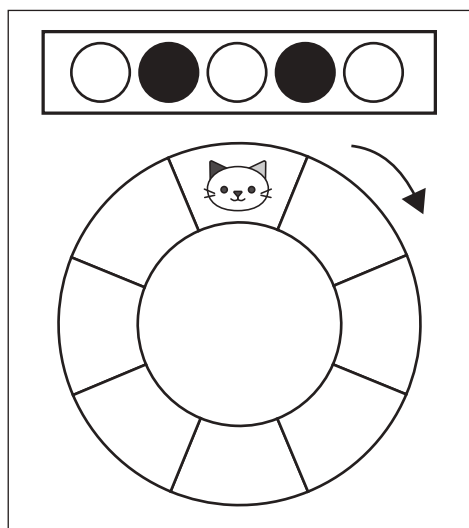


おうちで、やろう。

Study at home. 小学校受験の家庭学習教材

図形：移動5

ネコはマスを上四角の中の○はその数だけ矢印の方向に進み、●はその数だけ矢印と反対方向へ進みます。この約束通りに進んだあとにネコがいる場所を塗ります。



※1. このプリントは、しながわ・目黒こどもスクールのウェブサイトでダウンロードができます。無断複写・引用はご遠慮ください。
※2. このプリントを活用したオンライン授業のスケジュールは、しながわ・目黒こどもスクールのウェブサイトでご確認ください。





おうちで、やろう。

Study at home. 小学校受験の家庭学習教材

図形：回転 10

左の四角を矢印の方向へ矢印の数だけ倒したときの見え方を考えて灰色のマスを塗ります。

※1. このプリントは、しながわ・目黒こどもスクールのウェブサイトでダウンロードができます。無断複写・引用はご遠慮ください。

※2. このプリントを活用したオンライン授業のスケジュールは、しながわ・目黒こどもスクールのウェブサイトでご確認ください。



左の四角を矢印の方向へ矢印の数だけ倒したときの見え方を考えて灰色のマスを塗ります。

※1. このプリントは、しながわ・目黒こどもスクールのウェブサイトでダウンロードができます。無断複写・引用はご遠慮ください。

※2. このプリントを活用したオンライン授業のスケジュールは、しながわ・目黒こどもスクールのウェブサイトでご確認ください。















おうちで、やろう。

Study at home. 小学校受験の家庭学習教材

数量：加減 4

左の四角と右の四角の中の絵の違いはいくつですか。違う数だけ右の四角の中に○をかきます。



わ
→
ス

目
→
黒

→

わ
→
ス

※1. このプリントは、しながわ・目黒こどもスクールのウェブサイトでダウンロードができます。無断複写・引用はご遠慮ください。
※2. このプリントを活用したオンライン授業のスケジュールは、しながわ・目黒こどもスクールのウェブサイトでご確認ください。







おうちで、やろう。




Study at home. 小学校受験の家庭学習教材

数量：加減5




左の四角と右の四角の中の絵の違いはいくつですか。違う数だけ右の四角の中に○をかきます。





わ
→
ス




目
→
黒



→



わ
→
ス



※1. このプリントは、しながわ・目黒こどもスクールのウェブサイトでダウンロードができます。無断複写・引用はご遠慮ください。

※2. このプリントを活用したオンライン授業のスケジュールは、しながわ・目黒こどもスクールのウェブサイトでご確認ください。















おうちで、やろう。

Study at home. 小学校受験の家庭学習教材

数量：加減 6

左の四角と右の四角の中の絵の違いはいくつですか。違う数だけ右の四角の中に○をかきます。



※1. このプリントは、しながわ・目黒こどもスクールのウェブサイトでダウンロードができます。無断複写・引用はご遠慮ください。
※2. このプリントを活用したオンライン授業のスケジュールは、しながわ・目黒こどもスクールのウェブサイトでご確認ください。





おうちで、やろう。

Study at home. 小学校受験の家庭学習教材

数量：計数 15

左のマスの中のうち、右の四角の中にある絵がいくつあるのかをかぞえて、その数だけそれぞれの絵の四角に○をかきます。

※1. このプリントは、しながわ・目黒こどもスクールのウェブサイトでダウンロードができます。無断複写・引用はご遠慮ください。

※2. このプリントを活用したオンライン授業のスケジュールは、しながわ・目黒こどもスクールのウェブサイトでご確認ください。



おうちで、やろう。

Study at home. 小学校受験の家庭学習教材

図形：点図形 11

左のお手本と同じになるように右の四角に線をかきます。 ※このプリントに解答はありません。

※1. このプリントは、しながわ・目黒こどもスクールのウェブサイトでダウンロードができます。無断複写・引用はご遠慮ください。
 ※2. このプリントを活用したオンライン授業のスケジュールは、しながわ・目黒こどもスクールのウェブサイトでご確認ください。