



おうちで、やろう。

Study at home. 小学校受験の家庭学習教材

指示の聞き取り3




それぞれのお話通りに印をつけます。問題は1度しか読みませんのでしっかり聞きましょう。

①右から3番目の子に○、左から2番目の子に×をつけます。

②女の子だけ数えて右から3番目の子に○をつけます。

③-1 両手を開いている男の子に○をつけます。

③-2 気をつけをしていて、髪の毛を耳の上でしばっている女の子に×をつけます。



※1. このプリントは、しながわ・目黒こどもスクールのウェブサイトでダウンロードができます。無断複写・引用はご遠慮ください。

※2. このプリントを活用したオンライン授業のスケジュールは、しながわ・目黒こどもスクールのウェブサイトでご確認ください。



おうちで、やろう。


Study at home. 小学校受験の家庭学習教材

推理：なぞなぞ 1


①～④のなぞなぞをとりて、答えに○をつけましょう。

- ① にわに いる とりは なんでしょう。
- ② うしろにいる どうぶつは なんでしょう。
- ③ いつもあやまっている どうぶつは なんでしょう。
- ④ あくまのような わるいどうぶつは なんでしょう。


①




②



③



④



※1. このプリントは、しながわ・目黒こどもスクールのウェブサイトでダウンロードができます。無断複写・引用はご遠慮ください。
 ※2. このプリントを活用したオンライン授業のスケジュールは、しながわ・目黒こどもスクールのウェブサイトでご確認ください。







おうちで、やろう。

Study at home. 小学校受験の家庭学習教材

推理：条件推理 1

スタートにいる女の子がすべての動物に会って、ゴールの宝箱まで進みます。女の子はマスを進み、マークがあるマスに着くともう一つの同じマークのところまで移動する約束です。この約束ですべての動物に会う進み方を考えて、通った道に線をかきます。

	△	♡	スタート 
			☆
☆		□	○
□	△		♡
 ゴール		☆	

※1. このプリントは、しながわ・目黒こどもスクールのウェブサイトでダウンロードができます。無断複写・引用はご遠慮ください。
※2. このプリントを活用したオンライン授業のスケジュールは、しながわ・目黒こどもスクールのウェブサイトでご確認ください。
















おうちで、やろう。

Study at home. 小学校受験の家庭学習教材

推理：条件推理2

スタートにいる女の子がすべての動物に会って、ゴールの宝箱まで進みます。女の子はマスを進み、マークがあるマスに着くともう一つの同じマークのところまで移動する約束です。この約束ですべての動物に会う進み方を考えて、通った道に線をかきます。

			スタート 
			
			
			
 ゴール			

※1. このプリントは、しながわ・目黒こどもスクールのウェブサイトでダウンロードができます。無断複写・引用はご遠慮ください。

※2. このプリントを活用したオンライン授業のスケジュールは、しながわ・目黒こどもスクールのウェブサイトでご確認ください。



おうちで、やろう。

Study at home. 小学校受験の家庭学習教材

推理：条件推理3

スタートにいる女の子がすべての動物に会って、ゴールの宝箱まで進みます。女の子はマスを進み、マークがあるマスに着くともう一つの同じマークのところまで移動する約束です。この約束ですべての動物に会う進み方を考えて、通った道に線をかきます。

スタート

ゴール

※1. このプリントは、しながわ・目黒こどもスクールのウェブサイトでダウンロードができます。無断複写・引用はご遠慮ください。

※2. このプリントを活用したオンライン授業のスケジュールは、しながわ・目黒こどもスクールのウェブサイトでご確認ください。



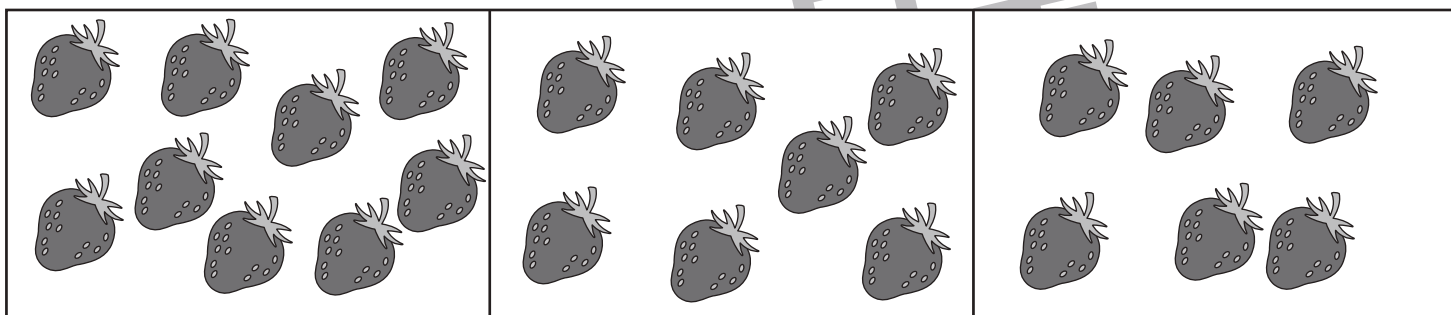
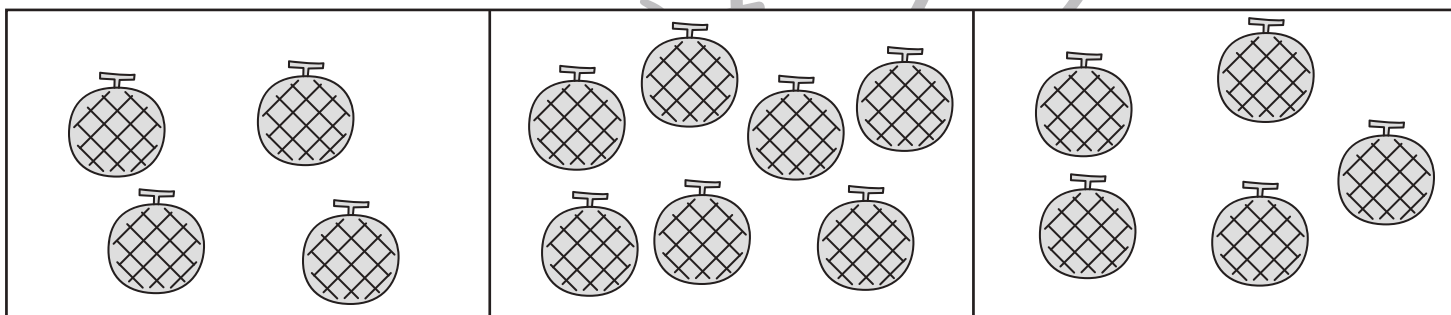
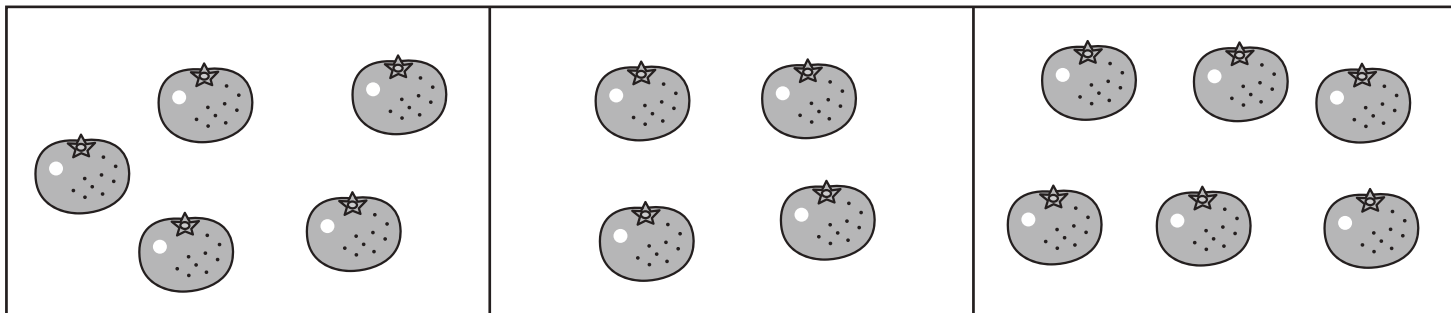


おうちで、やろう。

Study at home. 小学校受験の家庭学習教材

数量：多少4

横に並んだ三つの四角の中で、絵の数が一番目に少ないものに○、二番目に多いものに△をつけます。



※1. このプリントは、しながわ・目黒こどもスクールのウェブサイトでダウンロードができます。無断複写・引用はご遠慮ください。

※2. このプリントを活用したオンライン授業のスケジュールは、しながわ・目黒こどもスクールのウェブサイトでご確認ください。


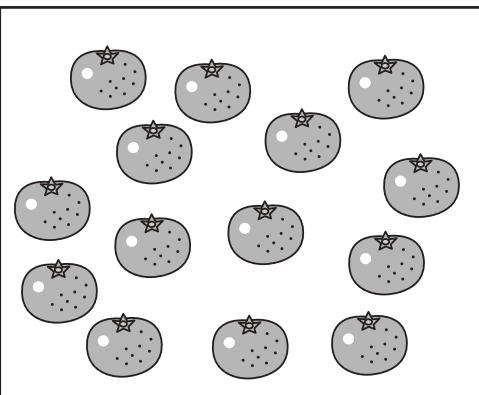

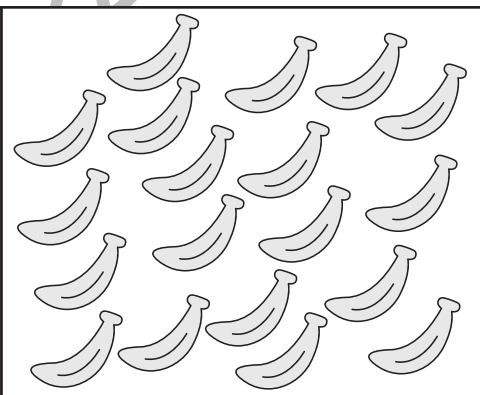
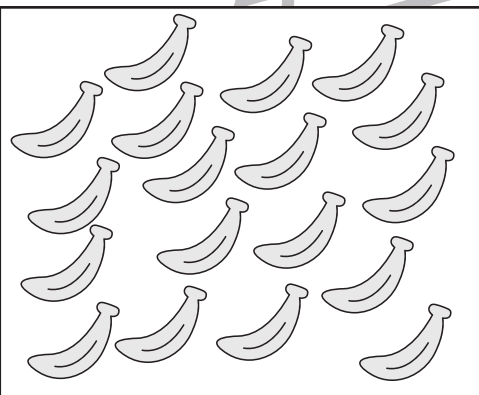

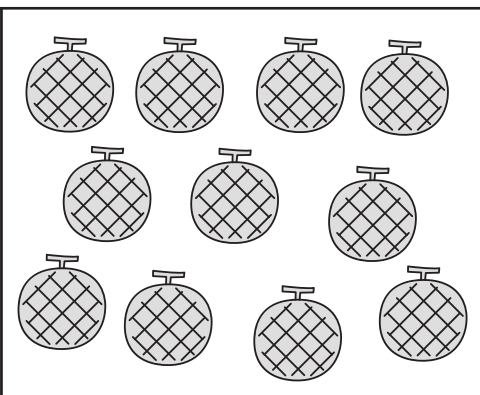
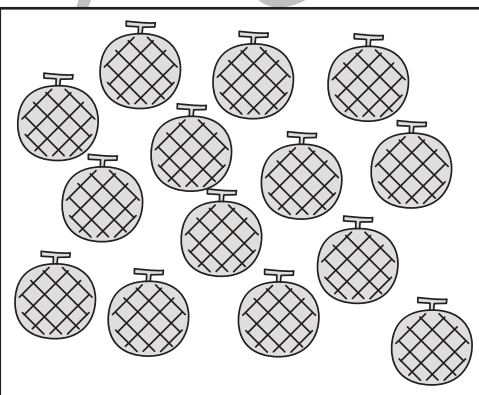
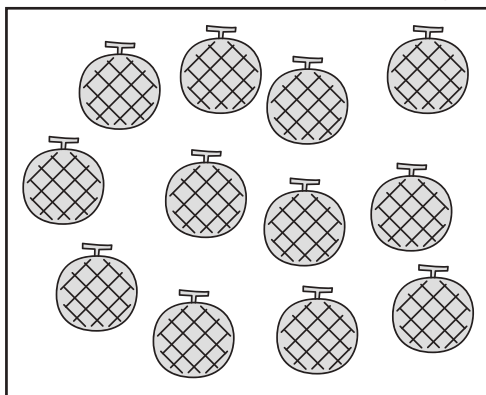
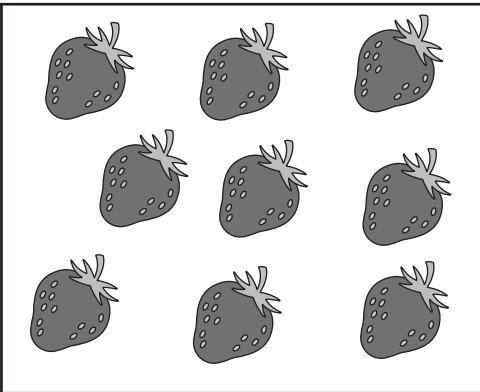
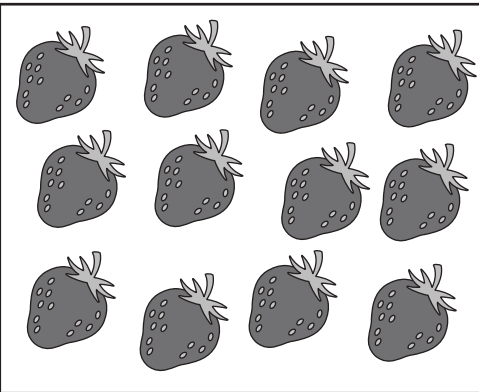
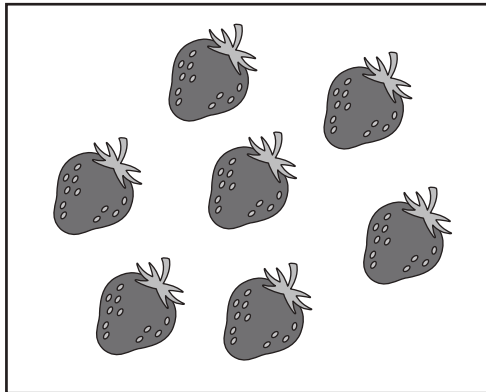


おうちで、やろう。

Study at home. 小学校受験の家庭学習教材

数量：多少5

横に並んだ三つの四角の中で、絵の数が一番目に多いものに○、二番目に多いものに△をつけます。



※1. このプリントは、しながわ・目黒こどもスクールのウェブサイトでダウンロードができます。無断複写・引用はご遠慮ください。

※2. このプリントを活用したオンライン授業のスケジュールは、しながわ・目黒こどもスクールのウェブサイトでご確認ください。





おうちで、やろう。

Study at home. 小学校受験の家庭学習教材

数量：複合2

横に並んだ4つの四角の中の果物のうち、数が一番多いものと一番少ないものの数を合わせるといくつになりますか。
合わせた数だけ、右の四角の中に○をかきます。

--	--	--	--	--

--	--	--	--	--

--	--	--	--	--

--	--	--	--	--

※1. このプリントは、しながわ・目黒こどもスクールのウェブサイトからダウンロードできます。無断複写・引用はご遠慮ください。
※2. このプリントを活用したオンライン授業のスケジュールは、しながわ・目黒こどもスクールのウェブサイトでご確認ください。



おうちで、やろう。

Study at home. 小学校受験の家庭学習教材

数量：複合3

横に並んだ4つの四角の中の果物のうち、数が一番多いものと一番少ないものの数の違いはいくつですか。
違う数だけ右の四角の中に△をかきます。

--	--	--	--	--

--	--	--	--	--

--	--	--	--	--

--	--	--	--	--

※1. このプリントは、しながわ・目黒こどもスクールのウェブサイトでダウンロードができます。無断複写・引用はご遠慮ください。
 ※2. このプリントを活用したオンライン授業のスケジュールは、しながわ・目黒こどもスクールのウェブサイトでご確認ください。



おうちで、よろう。

Study at home. 小学校受験の家庭学習教材

図形：点図形 13

左のお手本と同じになるように右の四角に線をかきます。 ※このプリントに解答はありません。

※1. このプリントは、しながわ・目黒こどもスクールのウェブサイトでダウンロードができます。無断複写・引用はご遠慮ください。

※2. このプリントを活用したオンライン授業のスケジュールは、しながわ・目黒こどもスクールのウェブサイトでご確認ください。