



おうちで、やろう。

Study at home. 小学校受験の家庭学習教材

指示の聞き取り 5

それぞれの設問に答えましょう。指示は1度ですべて読み上げます。しっかり聞いて取り組みましょう。

①鉛筆で左から右へ向かって○→×→◎の順番で3回かきます。枠の中に入るように大きさにも注意しましょう。

②鉛筆で左から右へ向かって×→○→×の順番で3回かきます。枠の中に入るように大きさにも注意しましょう。


③鉛筆で左から右へ向かって△→○→×の順番で3回かきます。枠の中に入るように大きさにも注意しましょう。

④鉛筆で左から右へ向かって○→×→△→◎の順番で3回かきます。枠の中に入るように大きさにも注意しましょう。


①



②



③



④



※1. このプリントは、しながわ・目黒こどもスクールのウェブサイトでダウンロードができます。無断複写・引用はご遠慮ください。

※2. このプリントを活用したオンライン授業のスケジュールは、しながわ・目黒こどもスクールのウェブサイトでご確認ください。




おうちで、やろう。

Study at home. 小学校受験の家庭学習教材

言語：音の数 12

左の2つの絵の音の数を合わせるといくつになりますか。合わせた数だけ右の四角に〇をかきます。



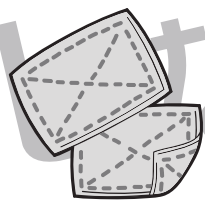
+  =

〇 × 6



+  =

〇 × 7



+  =

〇 × 7



+  =

〇 × 7



+  =

〇 × 5

※1. このプリントは、しながわ・目黒こどもスクールのウェブサイトでダウンロードができます。無断複写・引用はご遠慮ください。

※2. このプリントを活用したオンライン授業のスケジュールは、しながわ・目黒こどもスクールのウェブサイトでご確認ください。





おうちで、やろう。

Study at home. 小学校受験の家庭学習教材

言語：音の数 13

左の2つの絵の音の数を合わせるといくつになりますか。合わせた数だけ右の四角に〇をかきます。



+



=

○ × 7



+



=

○ × 6




+



=

○ × 10



+



=

○ × 8



+



=

○ × 8

※1. このプリントは、しながわ・目黒こどもスクールのウェブサイトでダウンロードができます。無断複写・引用はご遠慮ください。

※2. このプリントを活用したオンライン授業のスケジュールは、しながわ・目黒こどもスクールのウェブサイトでご確認ください。











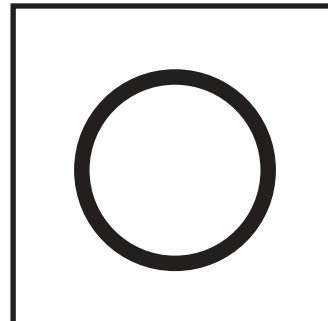
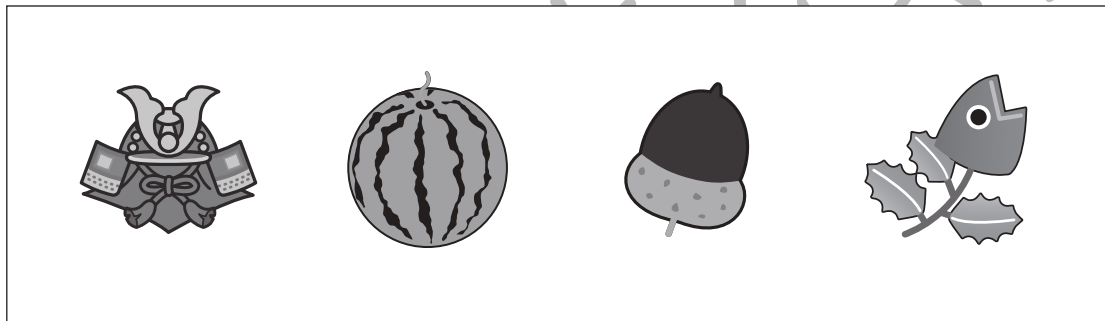


おうちで、やろう。

Study at home. 小学校受験の家庭学習教材

常識：季節5

四角の中は季節の絵が並んでいます。

左から春→夏→秋→冬の順番で並んでいるときは○、順番が違うときは×を右の四角にかきます。



※1. このプリントは、しながわ・目黒こどもスクールのウェブサイトでダウンロードができます。無断複写・引用はご遠慮ください。

※2. このプリントを活用したオンライン授業のスケジュールは、しながわ・目黒こどもスクールのウェブサイトでご確認ください。





おうちで、やろう。

Study at home. 小学校受験の家庭学習教材

図形：折り重ね 10

左の透明な板を真ん中の太い線で折り重ねたあとの見え方を考えて、正しいものを右の4つの中から選んで○をつけます。

--	--	--	--	--

--	--	--	--	--

--	--	--	--	--

--	--	--	--	--

--	--	--	--	--

※1. このプリントは、しながわ・目黒こどもスクールのウェブサイトからダウンロードできます。無断複写・引用はご遠慮ください。

※2. このプリントを活用したオンライン授業のスケジュールは、しながわ・目黒こどもスクールのウェブサイトでご確認ください。



おうちで、やろう。

Study at home. 小学校受験の家庭学習教材

図形：折り重ね 11

左の透明な板を真ん中の太い線で折り重ねたあとの見え方を考えて、正しいものを右の4つの中から選んで○をつけます。

※1. このプリントは、しながわ・目黒こどもスクールのウェブサイトでダウンロードができます。無断複写・引用はご遠慮ください。
※2. このプリントを活用したオンライン授業のスケジュールは、しながわ・目黒こどもスクールのウェブサイトでご確認ください。





おうちで、やろう。

Study at home. 小学校受験の家庭学習教材

図形：折り重ね 12

左の透明な板を真ん中の太い線で折り重ねたあとの見え方を考えて、正しいものを右の4つの中から選んで○をつけます。

--	--	--	--	--

--	--	--	--	--

--	--	--	--	--

--	--	--	--	--

--	--	--	--	--

※1. このプリントは、しながわ・目黒こどもスクールのウェブサイトでダウンロードができます。無断複写・引用はご遠慮ください。
 ※2. このプリントを活用したオンライン授業のスケジュールは、しながわ・目黒こどもスクールのウェブサイトでご確認ください。



おうちで、やろう。

Study at home. 小学校受験の家庭学習教材

図形：折り重ね 13

左の透明な板を真ん中の太い線で折り重ねたあとの見え方を考えて、正しいものを右の4つの中から選んで○をつけます。

--	--	--	--	--

--	--	--	--	--

--	--	--	--	--

--	--	--	--	--

--	--	--	--	--

※1. このプリントは、しながわ・目黒こどもスクールのウェブサイトでダウンロードができます。無断複写・引用はご遠慮ください。

※2. このプリントを活用したオンライン授業のスケジュールは、しながわ・目黒こどもスクールのウェブサイトでご確認ください。

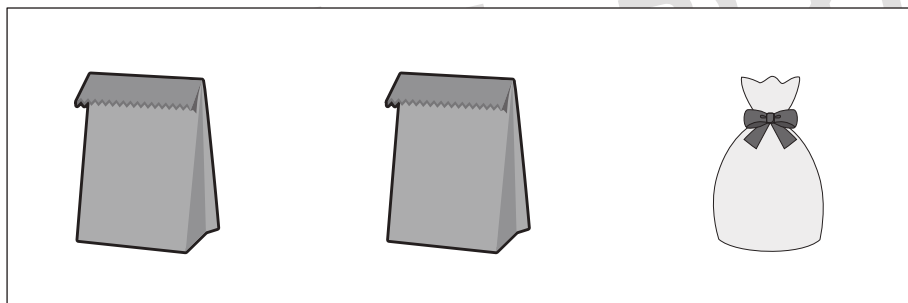
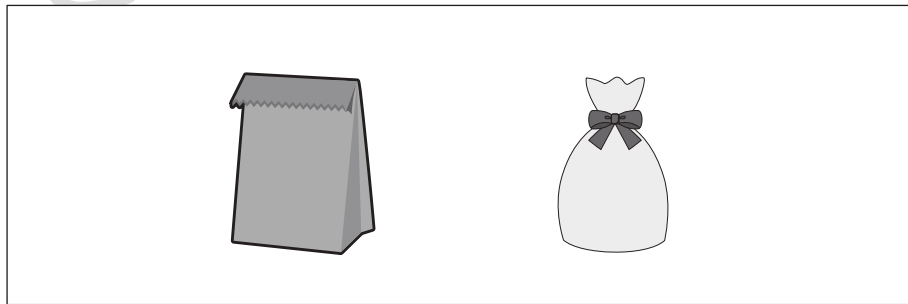
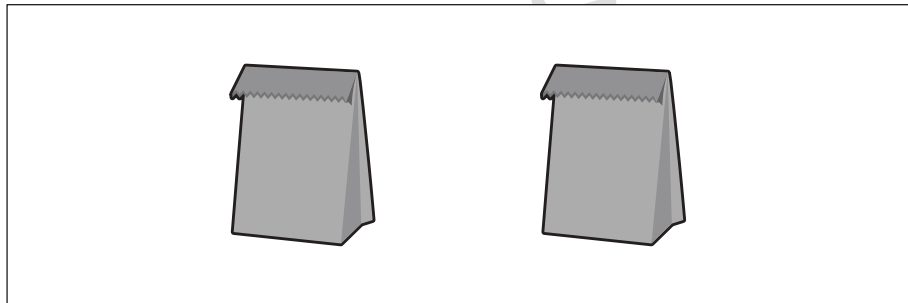
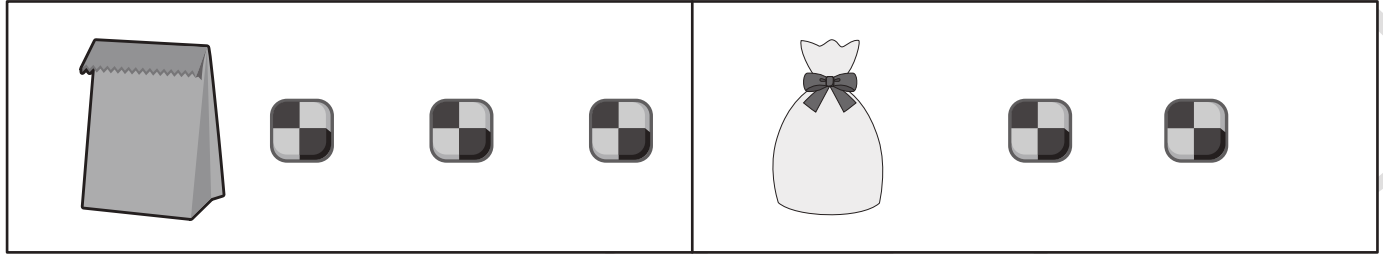


おうちで、やろう。

Study at home. 小学校受験の家庭学習教材

数量：置き換え1

上の太い四角が約束です。それぞれの袋の中には同じ四角の中にある数だけクッキーが入っています。
この約束のとき、左の四角の中にある袋の中のクッキーを合わせるといくつになりますか。その数だけ右の四角に○をかきます。



※1. このプリントは、しながわ・目黒こどもスクールのウェブサイトでダウンロードができます。無断複写・引用はご遠慮ください。
※2. このプリントを活用したオンライン授業のスケジュールは、しながわ・目黒こどもスクールのウェブサイトでご確認ください。






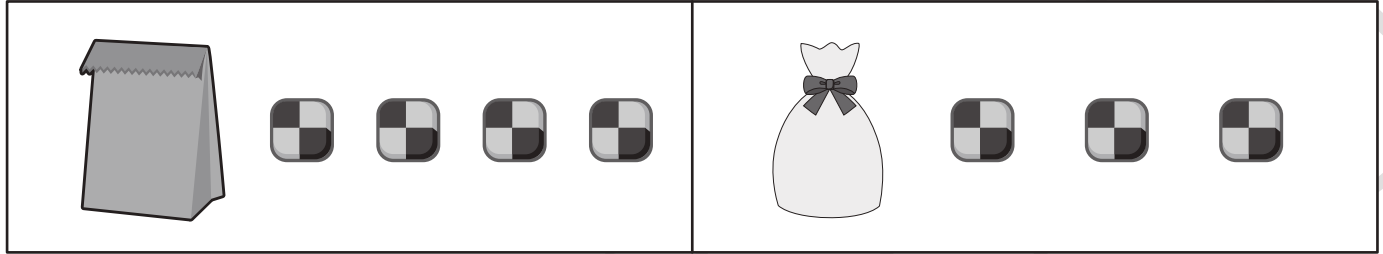


おうちで、やろう。

Study at home. 小学校受験の家庭学習教材

数量：置き換え2

上の太い四角が約束です。それぞれの袋の中には同じ四角の中にある数だけクッキーが入っています。
この約束のとき、左の四角の中にある袋の中のクッキーを合わせるといくつになりますか。その数だけ右の四角に○をかきます。



※1. このプリントは、しながわ・目黒こどもスクールのウェブサイトでダウンロードができます。無断複写・引用はご遠慮ください。
※2. このプリントを活用したオンライン授業のスケジュールは、しながわ・目黒こどもスクールのウェブサイトでご確認ください。

