





おうちで、やろう。 年中児版

Study at home. 小学校受験の家庭学習教材

指示理解 1

下の四角の中には動物たちが住んでいるマンションです。

- ★①一番下の階の一番左に住んでいる動物に○をかきましょう。
- ★②上から二段目の左から二番目に住んでいる動物に×をかきましょう。
- ①一番上の段の一番右に住んでいる動物に○をかきましょう。
- ②上から二段目の一番右に住んでいる動物に×をかきましょう。



※1. このプリントは、しながわ・目黒こどもスクールのウェブサイトでダウンロードができます。無断複写・引用はご遠慮ください。
 ※2. このプリントを活用したオンライン授業のスケジュールは、しながわ・目黒こどもスクールのウェブサイトでご確認ください。

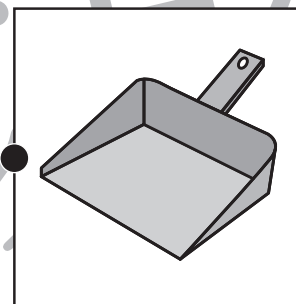

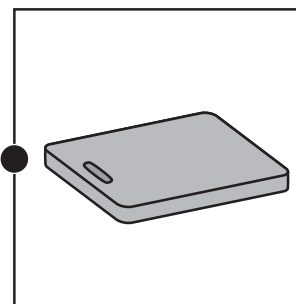

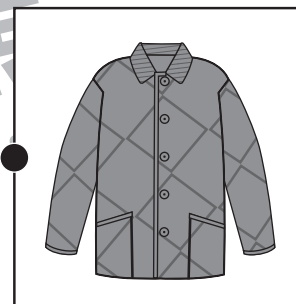


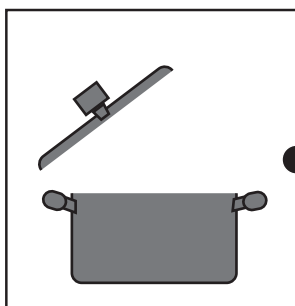




おうちで、やろう。年中児版

Study at home. 小学校受験の家庭学習教材

常識：生活 1

左と右の四角の中から一緒に使うもの同士を選んで、点と点を線で結びましょう。



※1. このプリントは、しながわ・目黒こどもスクールのウェブサイトでダウンロードができます。無断複写・引用はご遠慮ください。

※2. このプリントを活用したオンライン授業のスケジュールは、しながわ・目黒こどもスクールのウェブサイトでご確認ください。



おうちで、やろう。年中児版

Study at home. 小学校受験の家庭学習教材

常識：生物 1

上、真ん中、下の丸が同じ生き物になるように点と点を線でつなぎます。

※1. このプリントは、しながわ・目黒こどもスクールのウェブサイトでダウンロードができます。無断複写・引用はご遠慮ください。
 ※2. このプリントを活用したオンライン授業のスケジュールは、しながわ・目黒こどもスクールのウェブサイトでご確認ください。




おうちで、やろう。 年中児版

Study at home. 小学校受験の家庭学習教材

図形：運筆1

好きな色のクーピーで点線をなぞって絵を完成させましょう。(この問題に解答はありません)



※1. このプリントは、しながわ・目黒こどもスクールのウェブサイトからダウンロードできます。無断複写・引用はご遠慮ください。

※2. このプリントを活用したオンライン授業のスケジュールは、しながわ・目黒こどもスクールのウェブサイトでご確認ください。



おうちで、やろう。 年中児版

Study at home. 小学校受験の家庭学習教材

推理：条件推理5

2枚のお手本をよく見て、どちらも白くなっているマスを探します。その白いマスと同じところを➡の右のマスから選んで○をつけます。

		➡	
		➡	
		➡	
		➡	

※1. このプリントは、しながわ・目黒こどもスクールのウェブサイトからダウンロードできます。無断複写・引用はご遠慮ください。
 ※2. このプリントを活用したオンライン授業のスケジュールは、しながわ・目黒こどもスクールのウェブサイトでご確認ください。



おうちで、やろう。年中児版

Study at home. 小学校受験の家庭学習教材

数量：加減2

①朝、上の四角の中の絵のように車が駐車場にとまっていた。お昼に3台でていきました。
今、駐車場にとまっている車は何台ですか。その数だけ、下の四角に○をかきましょう。

②夜、下の四角の中の絵のように車が駐車場にとまっていた。朝になると3台入ってきました。
今、駐車場にとまっている車は何台ですか。その数だけ、下の四角に○をかきましょう。

①

Diagram for problem 1: A rectangular area divided into four quadrants. The top-left and top-right quadrants each contain one car. The bottom-left and bottom-right quadrants are empty.

②

Diagram for problem 2: A rectangular area divided into four quadrants. The top-left and top-right quadrants each contain one car. The bottom-left quadrant contains one car, and the bottom-right quadrant contains three cars.

※1. このプリントは、しながわ・目黒こどもスクールのウェブサイトでダウンロードができます。無断複写・引用はご遠慮ください。

※2. このプリントを活用したオンライン授業のスケジュールは、しながわ・目黒こどもスクールのウェブサイトでご確認ください。


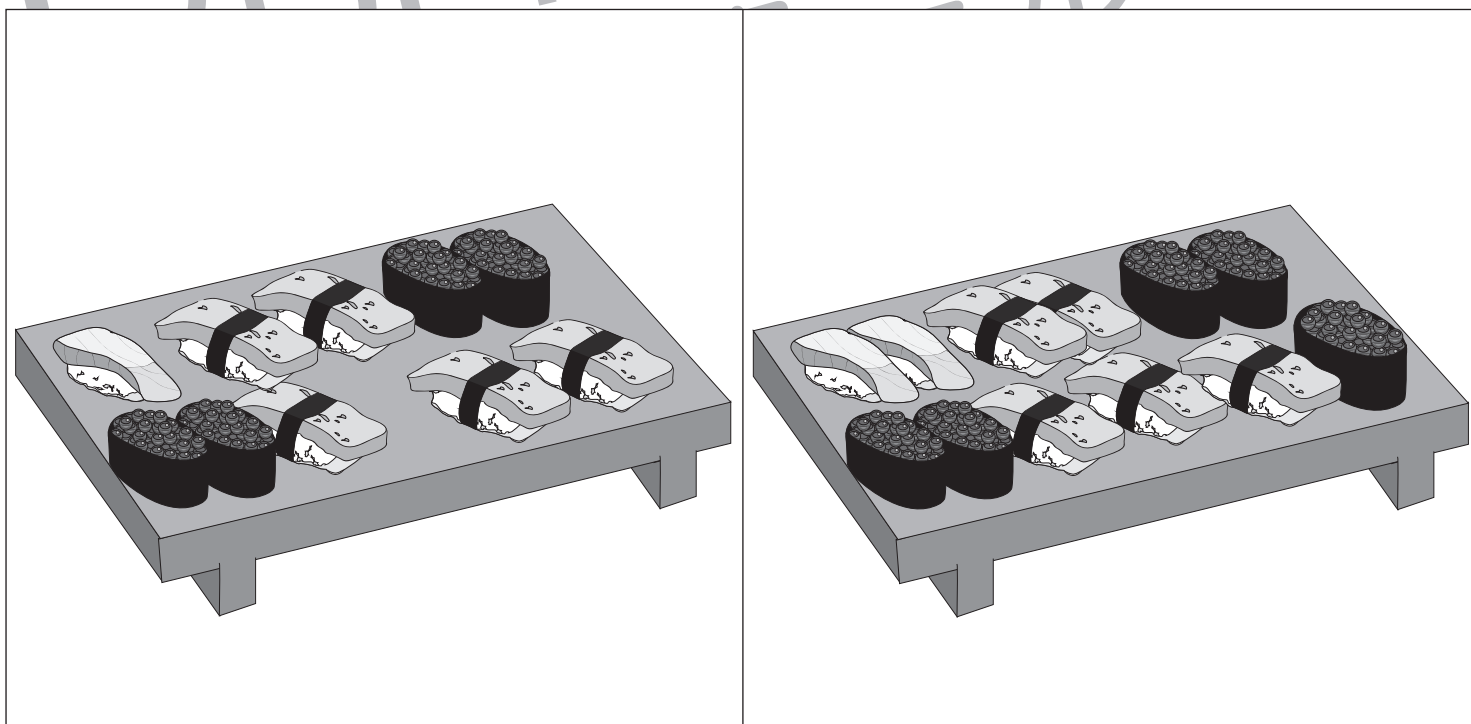

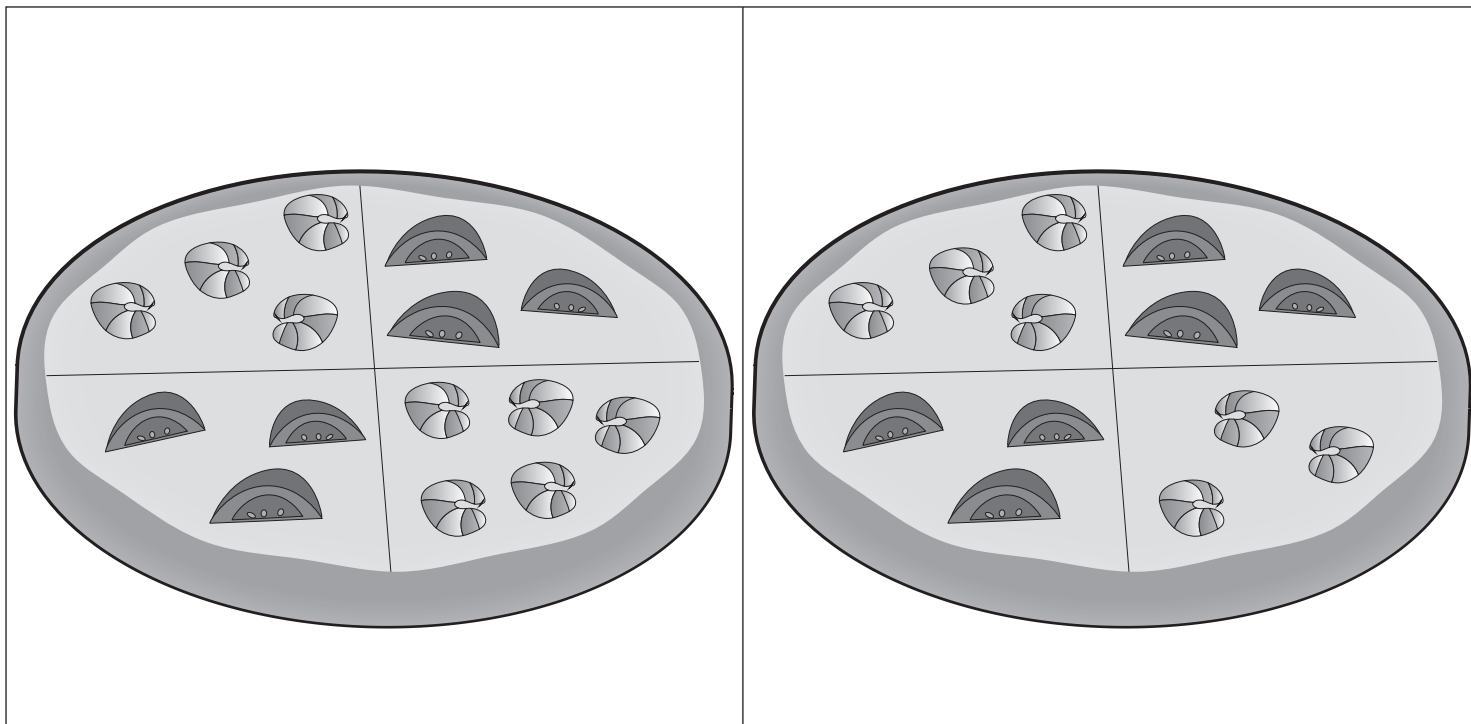


おうちで、やろう。 年中児版

Study at home. 小学校受験の家庭学習教材

数量：計数9

それぞれの四角の上の絵のうち下の四角の中の絵がいくつあるのか数えて、その数だけ〇をかきましょう。



※1. このプリントは、しながわ・目黒こどもスクールのウェブサイトでダウンロードができます。無断複写・引用はご遠慮ください。
※2. このプリントを活用したオンライン授業のスケジュールは、しながわ・目黒こどもスクールのウェブサイトでご確認ください。





おうちで、やろう。 年中児版

Study at home. 小学校受験の家庭学習教材

まちがいさがし4

上下の絵を見比べて、変わっているところを5つ探します。見つけたら、下の絵の変わっている部分に丸をつけます。



ICT 教育の小学校受験

※1. このプリントは、しながわ・目黒こどもスクールのウェブサイトでダウンロードができます。無断複写・引用はご遠慮ください。
 ※2. このプリントを活用したオンライン授業のスケジュールは、しながわ・目黒こどもスクールのウェブサイトでご確認ください。