









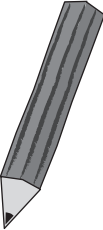



おうちで、やろう。 年中児版

Study at home. 小学校受験の家庭学習教材

常識 - 数詞 1

左と右の絵で同じ数え方をするもの同士を線で結びましょう。

※1. このプリントは、しながわ・目黒こどもスクールのウェブサイトでダウンロードができます。無断複写・引用はご遠慮ください。

※2. このプリントを活用したオンライン授業のスケジュールは、しながわ・目黒こどもスクールのウェブサイトでご確認ください。

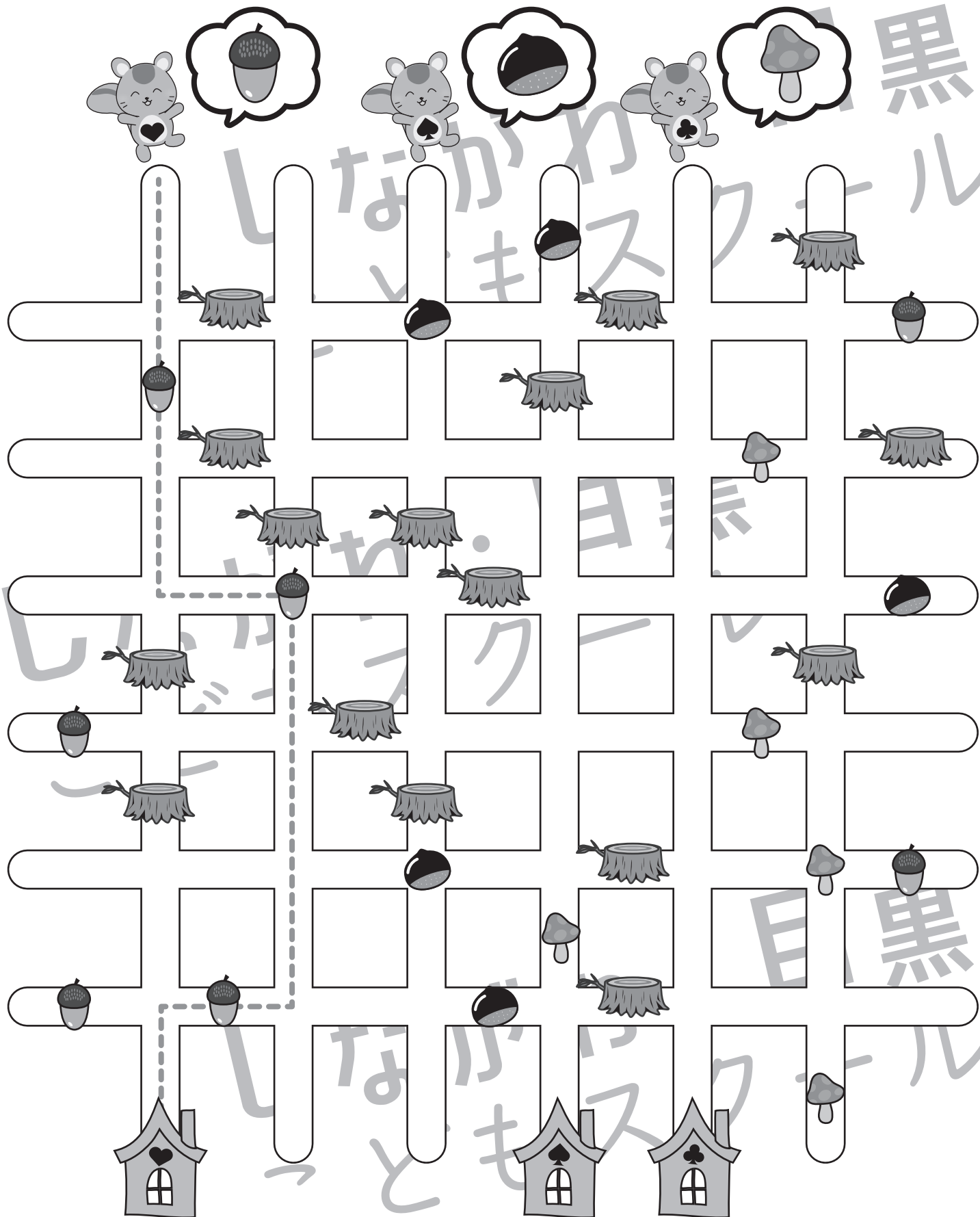


おうちで、やろう。

Study at home. 小学校受験の家庭学習教材

推理：条件迷路1

リスたちがきりかぶの道を進みながら、自分たちのほしいものを3つだけ集めて自分の家まで行きます。自分の欲しいものは、ふき出しの中で自分のお腹のマークの家に帰ります。きりかぶのある場所は通れず、同じ道を二度通ってはけません。この約束で家まで行くと、どのような道順になりますか。線を引いてみましょう。



※1. このプリントは、しながわ・目黒こどもスクールのウェブサイトでダウンロードができます。無断複写・引用はご遠慮ください。
 ※2. このプリントを活用したオンライン授業のスケジュールは、しながわ・目黒こどもスクールのウェブサイトでご確認ください。

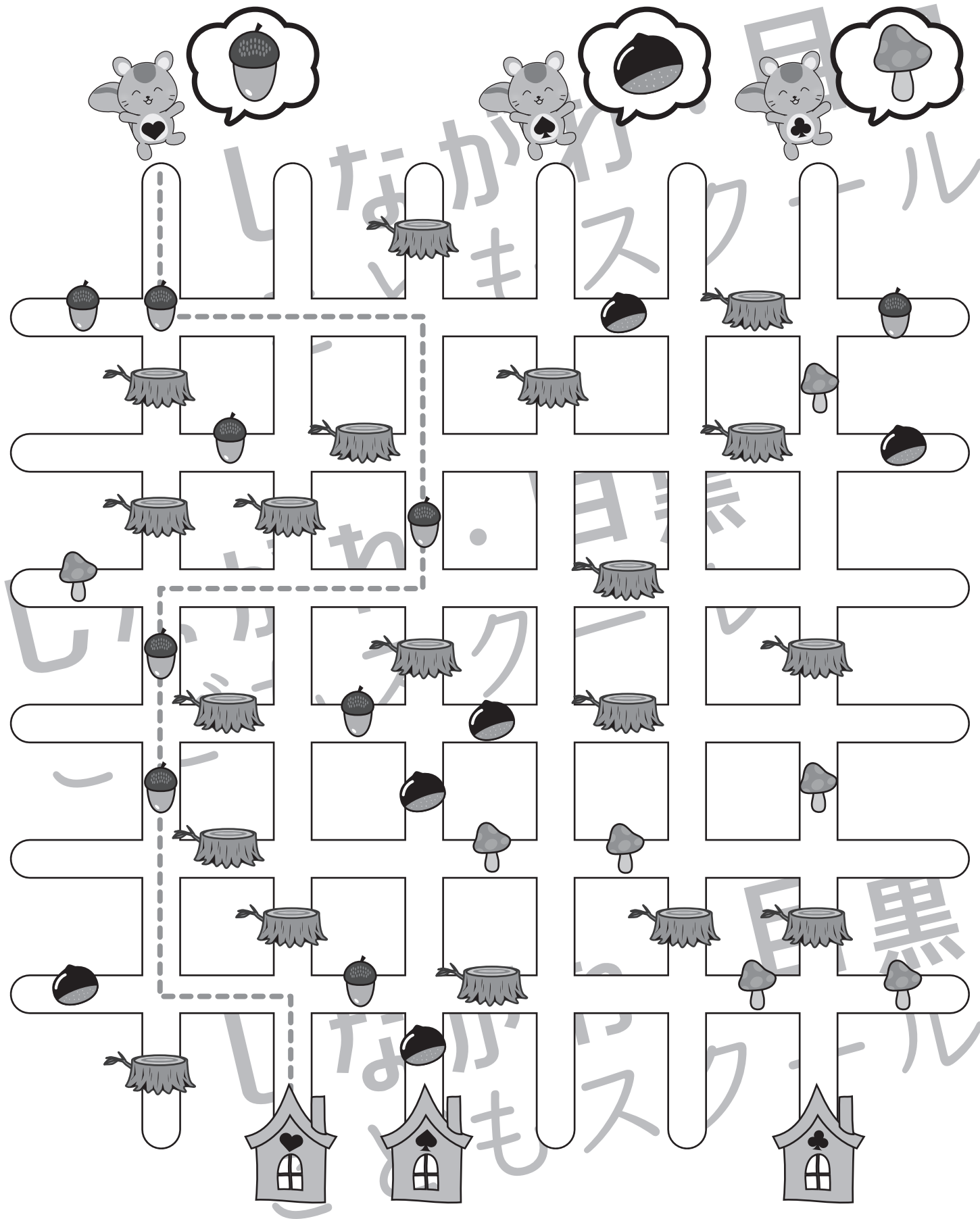


おうちで、やろう。

Study at home. 小学校受験の家庭学習教材

推理：条件迷路2

リスたちがきりかぶの道を進みながら、自分たちのほしいものを3つだけ集めて自分の家まで行きます。自分の欲しいものは、ふき出しの中で自分のお腹のマークの家に帰ります。きりかぶのある場所は通れず、同じ道を二度通ってはいけません。この約束で家まで行くと、どのような道順になりますか。線を引いてみましょう。



※1. このプリントは、しながわ・目黒こどもスクールのウェブサイトでダウンロードができます。無断複写・引用はご遠慮ください。

※2. このプリントを活用したオンライン授業のスケジュールは、しながわ・目黒こどもスクールのウェブサイトでご確認ください。


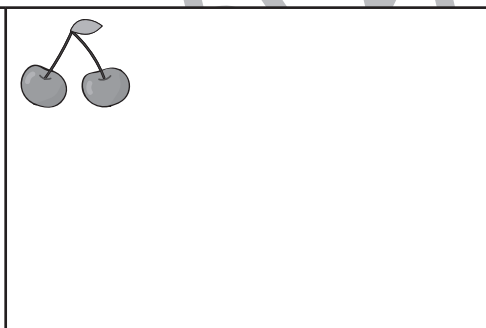
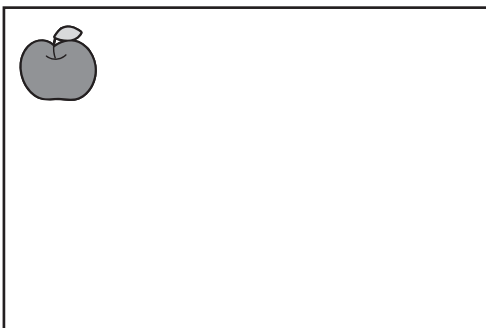





おうちで、やろう。 年中児版

Study at home. 小学校受験の家庭学習教材

数量：計数 10









上の大きな四角の中の果物の数をそれぞれかぞえて、その数だけ下の四角に○をかきます。



※1. このプリントは、しながわ・目黒こどもスクールのウェブサイトでダウンロードができます。無断複写・引用はご遠慮ください。
※2. このプリントを活用したオンライン授業のスケジュールは、しながわ・目黒こどもスクールのウェブサイトでご確認ください。



上の木になっているリンゴの数だけ、下の四角の中にあるリンゴをまとめて○でかこみましょう。



※1. このプリントは、しながわ・目黒こどもスクールのウェブサイトからダウンロードできます。無断複写・引用はご遠慮ください。

※2. このプリントを活用したオンライン授業のスケジュールは、しながわ・目黒こどもスクールのウェブサイトでご確認ください。





おうちで、やろう。 年中児版

Study at home. 小学校受験の家庭学習教材

数量 - 同数 1

棚の中に動物の人形がたくさんあります。この中で3体ある人形を3つ選んで、下の動物に○をつけましょう。



※1. このプリントは、しながわ・目黒こどもスクールのウェブサイトからダウンロードができます。無断複写・引用はご遠慮ください。

※2. このプリントを活用したオンライン授業のスケジュールは、しながわ・目黒こどもスクールのウェブサイトでご確認ください。




おうちで、やろう。 年中児版

Study at home. 小学校受験の家庭学習教材

数量 - 同数 2

棚の中に動物の人形がたくさんあります。この中で2体ある人形を4つ選んで、下の動物に○をつけましょう。



※1. このプリントは、しながわ・目黒こどもスクールのウェブサイトでダウンロードができます。無断複写・引用はご遠慮ください。

※2. このプリントを活用したオンライン授業のスケジュールは、しながわ・目黒こどもスクールのウェブサイトでご確認ください。





おうちで、やろう。 年中児版


Study at home. 小学校受験の家庭学習教材


数量 - 分割1

木に実っているリンゴの数を数えて、2匹のサルに同じ数ずつ分けると一匹のサルはいくつリンゴをもらえますか。
正しいリンゴの数を下の四角に○をつけましょう。









※1. このプリントは、しながわ・目黒こどもスクールのウェブサイトでダウンロードができます。無断複写・引用はご遠慮ください。

※2. このプリントを活用したオンライン授業のスケジュールは、しながわ・目黒こどもスクールのウェブサイトでご確認ください。