

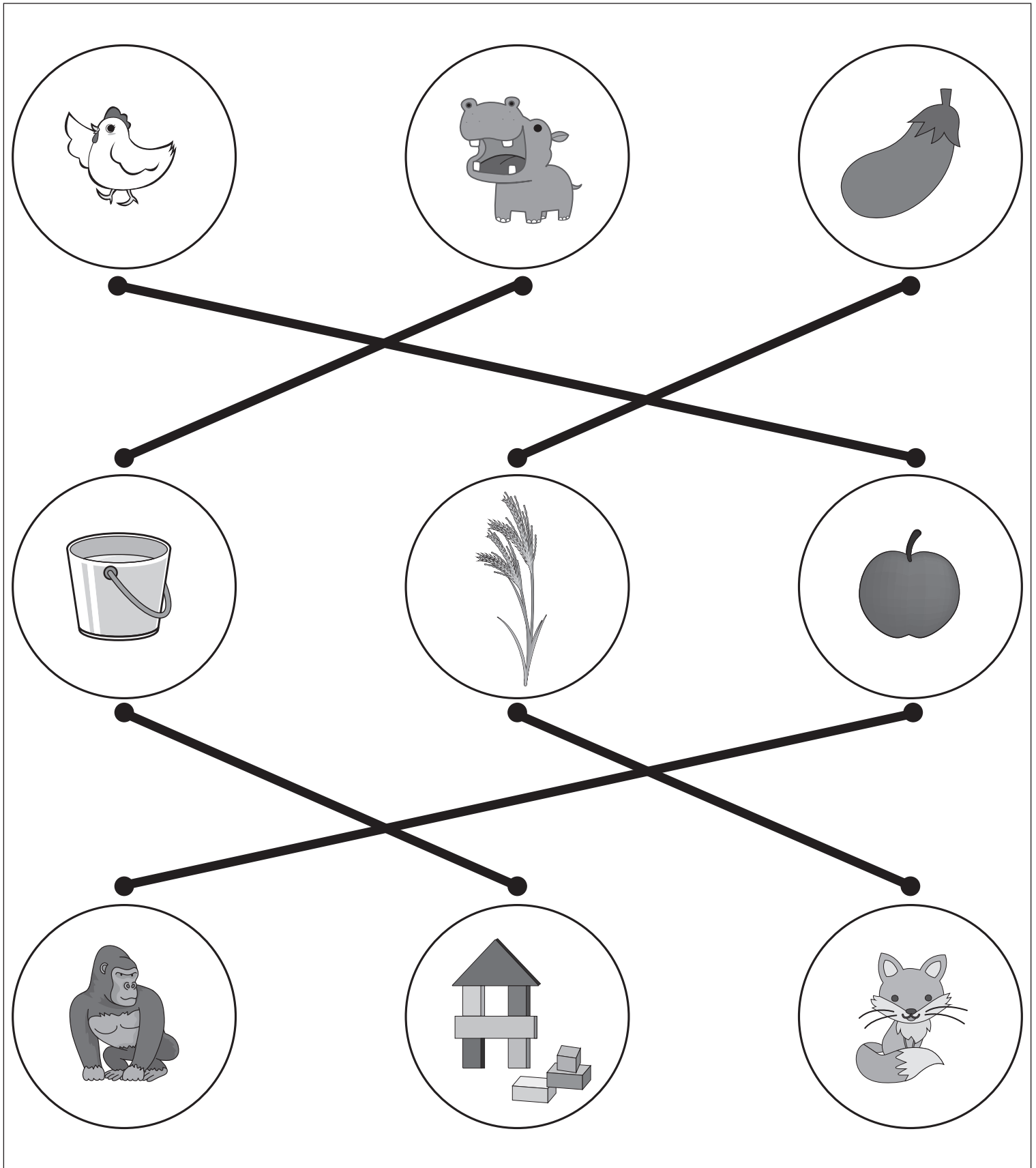


おうちで、やろう。 年中児版

Study at home. 小学校受験の家庭学習教材

言語：しりとり3

上、真ん中、下の中の絵がしりとりで繋がるように点と点を線でつなぎます。



※1. このプリントは、しながわ・目黒こどもスクールのウェブサイトでダウンロードができます。無断複写・引用はご遠慮ください。
※2. このプリントを活用したオンライン授業のスケジュールは、しながわ・目黒こどもスクールのウェブサイトでご確認ください。



おうちで、やろう。 年中児版

Study at home. 小学校受験の家庭学習教材

言語：音の数6

上、真ん中、下の段でそれぞれ同じ音の数のものを見つけて、点と点を線でつなぎます。

※1. このプリントは、しながわ・目黒こどもスクールのウェブサイトからダウンロードできます。無断複写・引用はご遠慮ください。
 ※2. このプリントを活用したオンライン授業のスケジュールは、しながわ・目黒こどもスクールのウェブサイトでご確認ください。





おうちで、やろう。 年中児版

Study at home. 小学校受験の家庭学習教材

常識：気持ち1

- ①下の絵の中から、「うれしいかお」だと思うものに○をつけましょう。
- ②下の絵の中から、「おこっているかお」だと思うものに◎をつけましょう。
- ③下の絵の中から、「かなしそうなかお」だと思うものに△をつけましょう。
- ④下の絵の中から、「おどろいているかお」だと思うものに□をつけましょう。


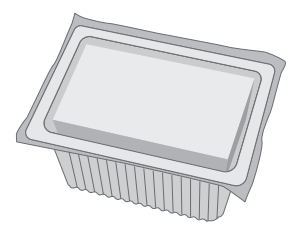






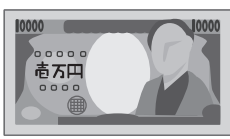
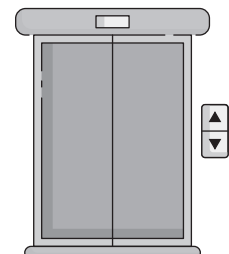
正解は下に紹介した限りではありません。
なぜ選んだか理由を尋ねてみてください。



※1. このプリントは、しながわ・目黒こどもスクールのウェブサイトでダウンロードができます。無断複写・引用はご遠慮ください。
 ※2. このプリントを活用したオンライン授業のスケジュールは、しながわ・目黒こどもスクールのウェブサイトでご確認ください。



左と右の絵で同じ数え方をするもの同士を線で結びましょう。

Connections shown in the image:

- Dog (left) connected to Dog (right)
- T-shirt (left) connected to Notebook (right)
- Knife (left) connected to Van (right)
- Van (left) connected to 500 Yen Coin (right)
- 10,000 Yen Banknote (left) connected to Tray (right)

※1. このプリントは、しながわ・目黒こどもスクールのウェブサイトでダウンロードができます。無断複写・引用はご遠慮ください。

※2. このプリントを活用したオンライン授業のスケジュールは、しながわ・目黒こどもスクールのウェブサイトでご確認ください。



おうちで、やろう。 年中児版

Study at home. 小学校受験の家庭学習教材

推理：条件推理6

左側のバスがバス停で止まり、動物たちが乗ったり降りたりしてから、右側に走りはじめました。バス停で降りた動物には○、乗った動物には×を下の動物の絵につけます。

→

○ ×

→

○ × ○

→

× × ○ ×

ICT 教育の小学校受験

※1. このプリントは、しながわ・目黒こどもスクールのウェブサイトでダウンロードができます。無断複写・引用はご遠慮ください。

※2. このプリントを活用したオンライン授業のスケジュールは、しながわ・目黒こどもスクールのウェブサイトでご確認ください。



おうちで、やろう。 年中児版

Study at home. 小学校受験の家庭学習教材

推理：条件推理7

左側のバスがバス停で止まり、動物たちが乗ったり降りたりしてから、右側に走りはじめました。バス停で降りた動物には○、乗った動物には×を下の動物の絵につけます。

→

Scenario 1: The bus on the left has a rabbit, bear, pig, and cow. The bus on the right has a rabbit, pig, and cow. A monkey is at the bus stop. Below are icons for rabbit, monkey, pig, cow with an X, and bear with an O.

→

Scenario 2: The bus on the left has a cow, bear, pig, and rabbit. The bus on the right has a monkey, rabbit, and pig. A cow is at the bus stop. Below are icons for rabbit, monkey with an X, pig, cow with an O, and bear with an O.

→

Scenario 3: The bus on the left has a bear and rabbit. The bus on the right has a pig and cow. A monkey and pig are at the bus stop. Below are icons for bear with an O, monkey, pig with an X, cow with an X, and bear with an O.

ICT教育の小学校受験

※1. このプリントは、しながわ・目黒こどもスクールのウェブサイトでダウンロードができます。無断複写・引用はご遠慮ください。

※2. このプリントを活用したオンライン授業のスケジュールは、しながわ・目黒こどもスクールのウェブサイトでご確認ください。



おうちで、やろう。 年中児版

Study at home. 小学校受験の家庭学習教材

推理：条件推理 8

下の四角の中の、ライオンが動物たちの写真を撮ろうとしています。どの動物を撮ろうとしているのか答えましょう。

①★の四角の中を見てください。ライオンは一番上の段の真ん中の動物を撮ろうとしています。その動物に○をつけましょう。

②○の四角の中を見てください。ライオンは真ん中の段の一番左の動物を撮ろうとしています。その動物に○をつけましょう。

③●の四角の中を見てください。ライオンは一番下の段の一番右の動物を撮ろうとしています。その動物に○をつけましょう。

④▲の四角の中を見てください。ライオンは一番上の段の一番左と一番下の段の真ん中の動物を撮ろうとしています。その動物に○をつけましょう。

★		○	
●		▲	

※1. このプリントは、しながわ・目黒こどもスクールのウェブサイトダウンロードできます。無断複写・引用はご遠慮ください。
 ※2. このプリントを活用したオンライン授業のスケジュールは、しながわ・目黒こどもスクールのウェブサイトでご確認ください。






























おうちで、やろう。 年中児版

Study at home. 小学校受験の家庭学習教材

数量：計数 12

真ん中の太い四角の中の絵を数えて、それぞれの記号がかかれている四角の中にその数だけ○をかきましょう。
※答えは矢印の書かれている方の四角にかきます。

 ↓	   	 ←
  	          	  
 →	 	 ↑

※1. このプリントは、しながわ・目黒こどもスクールのウェブサイトでダウンロードができます。無断複写・引用はご遠慮ください。
※2. このプリントを活用したオンライン授業のスケジュールは、しながわ・目黒こどもスクールのウェブサイトでご確認ください。