






おうちで、やろう。 年中児版

Study at home. 小学校受験の家庭学習教材

推理：条件推理5

- ①金魚の住む池は、メダカの住む池より広いです。鯉の住む池は金魚の住む池より広いです。住む池が一番広い魚に○をつけます。
- ②ウサギとイヌとネコが並んでいます。ウサギの前がイヌです。イヌの前はネコです。一番後ろにいる動物に○をつけます。
- ③ペンギンとニワトリとアヒルがかけっこをしました。ニワトリはペンギンよりも速く、アヒルは誰よりも速いです。2番目に早い動物に○をつけます。
- ④ミカンとリンゴとバナナがテーブルの上にあります。リンゴはミカンより多く、バナナはリンゴより多いです。一番少ない果物に○をつけます。



※1. このプリントは、しながわ・目黒こどもスクールのウェブサイトでダウンロードができます。無断複写・引用はご遠慮ください。
※2. このプリントを活用したオンライン授業のスケジュールは、しながわ・目黒こどもスクールのウェブサイトでご確認ください。








おうちで、やろう。 年中児版

Study at home. 小学校受験の家庭学習教材

言語：音の数5

左のお手本の絵と、音の数が同じものを右の四角の中から2つ選び、○をつけます。



※1. このプリントは、しながわ・目黒こどもスクールのウェブサイトからダウンロードできます。無断複写・引用はご遠慮ください。
 ※2. このプリントを活用したオンライン授業のスケジュールは、しながわ・目黒こどもスクールのウェブサイトでご確認ください。



太い四角の中の絵を矢印の方向に1回倒すと、右の3つのどの絵になりますか。その絵に○をつけましょう。

--	--	--	--

--	--	--	--

--	--	--	--

--	--	--	--

※1. このプリントは、しながわ・目黒こどもスクールのウェブサイトでダウンロードができます。無断複写・引用はご遠慮ください。
 ※2. このプリントを活用したオンライン授業のスケジュールは、しながわ・目黒こどもスクールのウェブサイトでご確認ください。



太い四角の中の絵を矢印の方向に1回倒すと、右の3つのどの絵になりますか。その絵に○をつけましょう。

--	--	--	--

--	--	--	--

--	--	--	--

--	--	--	--

※1. このプリントは、しながわ・目黒こどもスクールのウェブサイトでダウンロードができます。無断複写・引用はご遠慮ください。
 ※2. このプリントを活用したオンライン授業のスケジュールは、しながわ・目黒こどもスクールのウェブサイトでご確認ください。







おうちで、やろう。 年中児版

Study at home. 小学校受験の家庭学習教材

図形：鏡1

左の四角の中の絵を太い線のところで鏡に写すと、右の3つのどの絵になりますか。その絵に○をつけましょう。



※1. このプリントは、しながわ・目黒こどもスクールのウェブサイトでダウンロードができます。無断複写・引用はご遠慮ください。
 ※2. このプリントを活用したオンライン授業のスケジュールは、しながわ・目黒こどもスクールのウェブサイトでご確認ください。







おうちで、やろう。 年中児版

Study at home. 小学校受験の家庭学習教材

図形：鏡2

左の四角の中の絵を太い線のところで鏡に写すと、右の3つのどの絵になりますか。その絵に○をつけましょう。



※1. このプリントは、しながわ・目黒こどもスクールのウェブサイトでダウンロードができます。無断複写・引用はご遠慮ください。

※2. このプリントを活用したオンライン授業のスケジュールは、しながわ・目黒こどもスクールのウェブサイトでご確認ください。


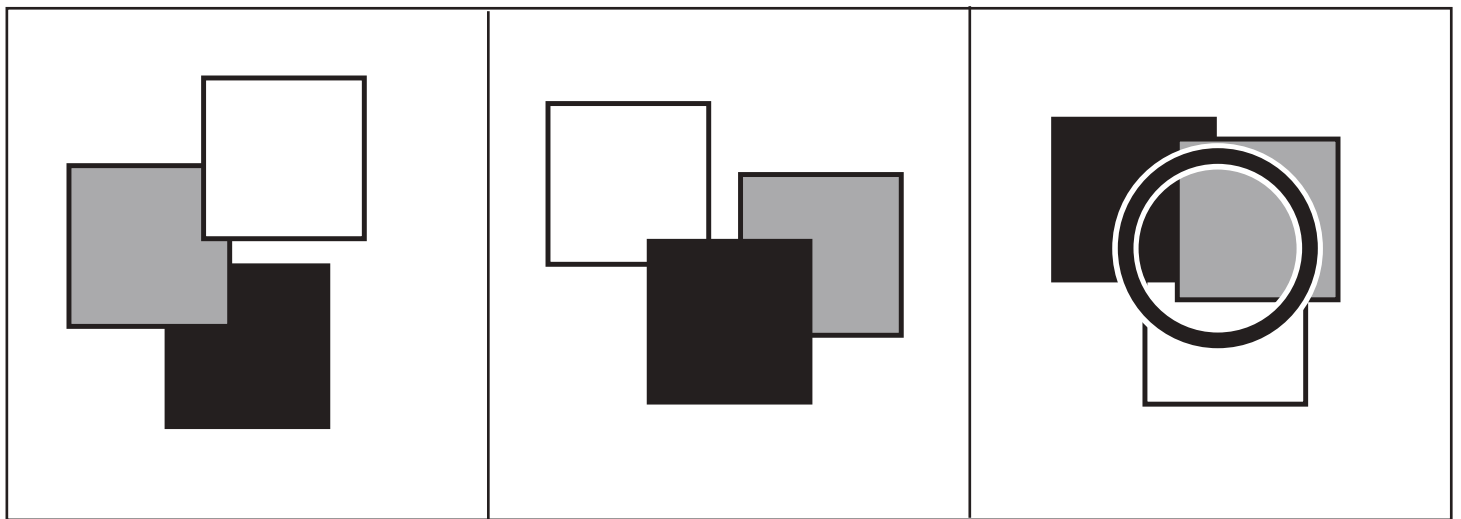
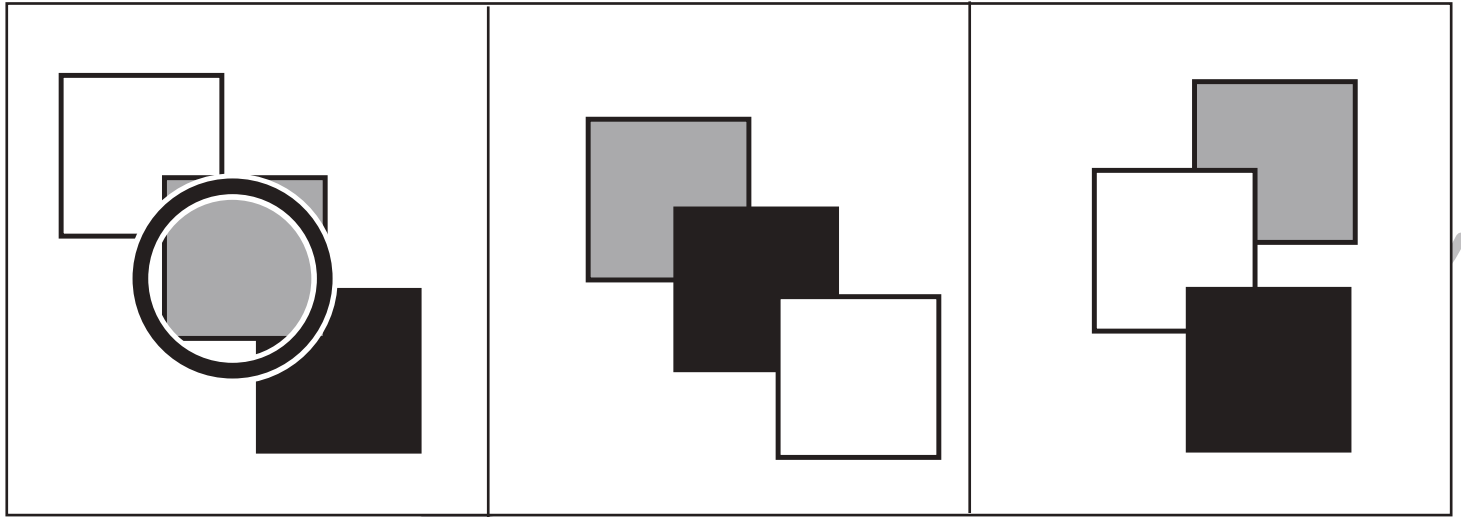


おうちで、やろう。 年中児版

Study at home. 小学校受験の家庭学習教材

図形：重なり1

白・黒・灰色の折り紙が重なっています。灰色の折り紙が1番上にあるものを見つけて○をつけます。



※1. このプリントは、しながわ・目黒こどもスクールのウェブサイトでダウンロードができます。無断複写・引用はご遠慮ください。
 ※2. このプリントを活用したオンライン授業のスケジュールは、しながわ・目黒こどもスクールのウェブサイトでご確認ください。

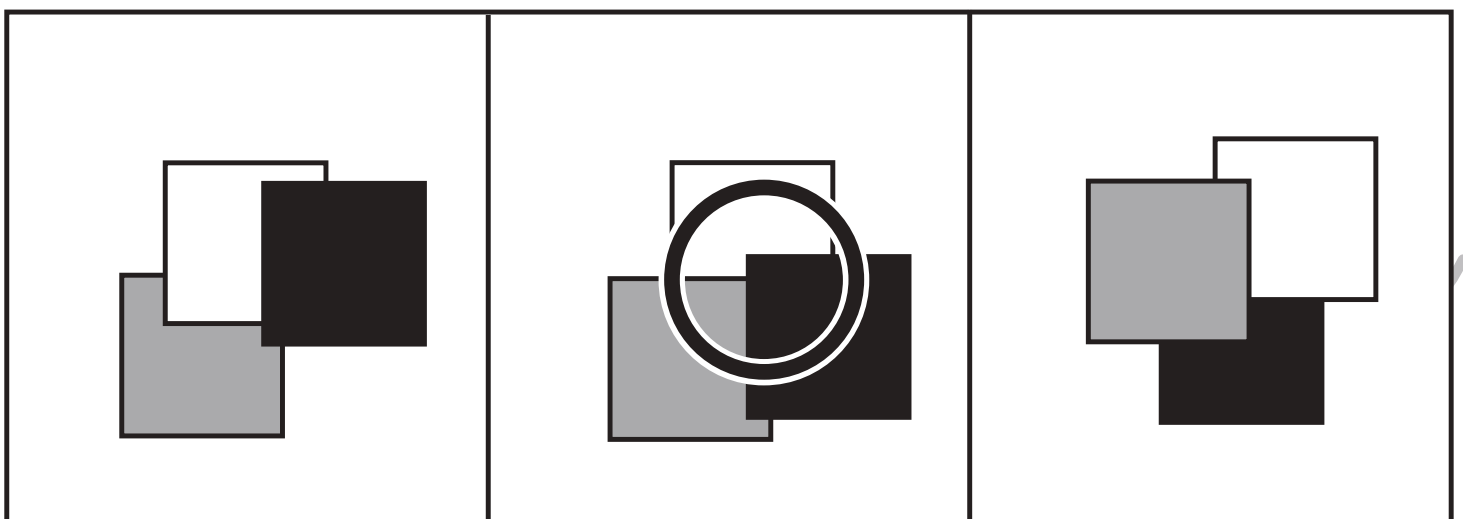
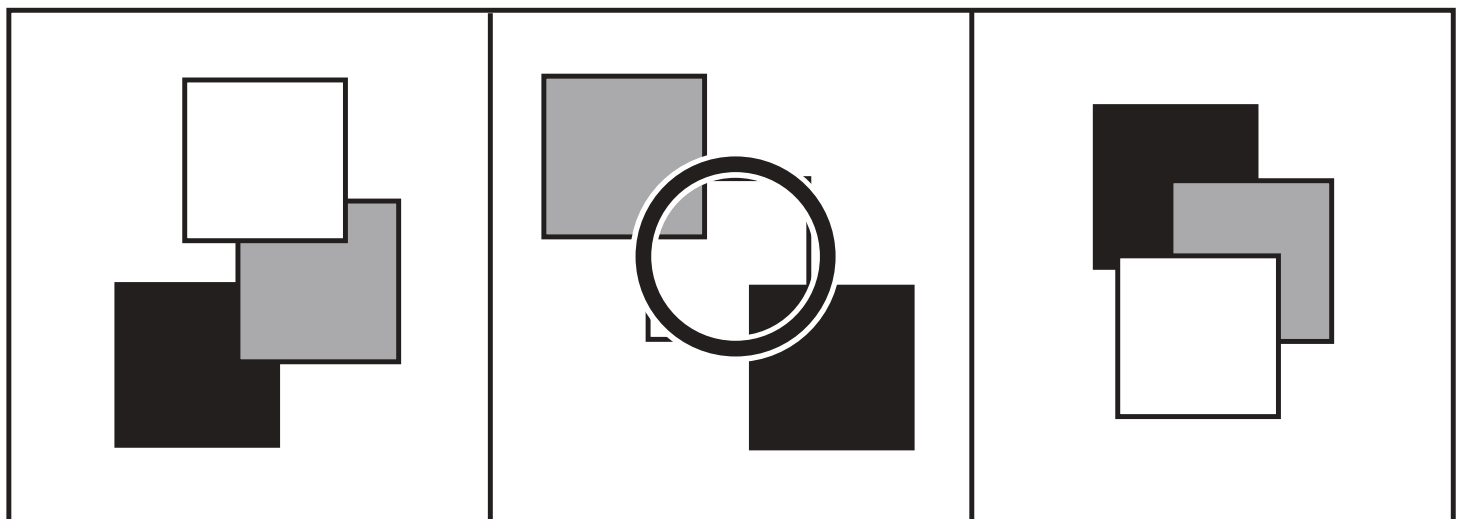
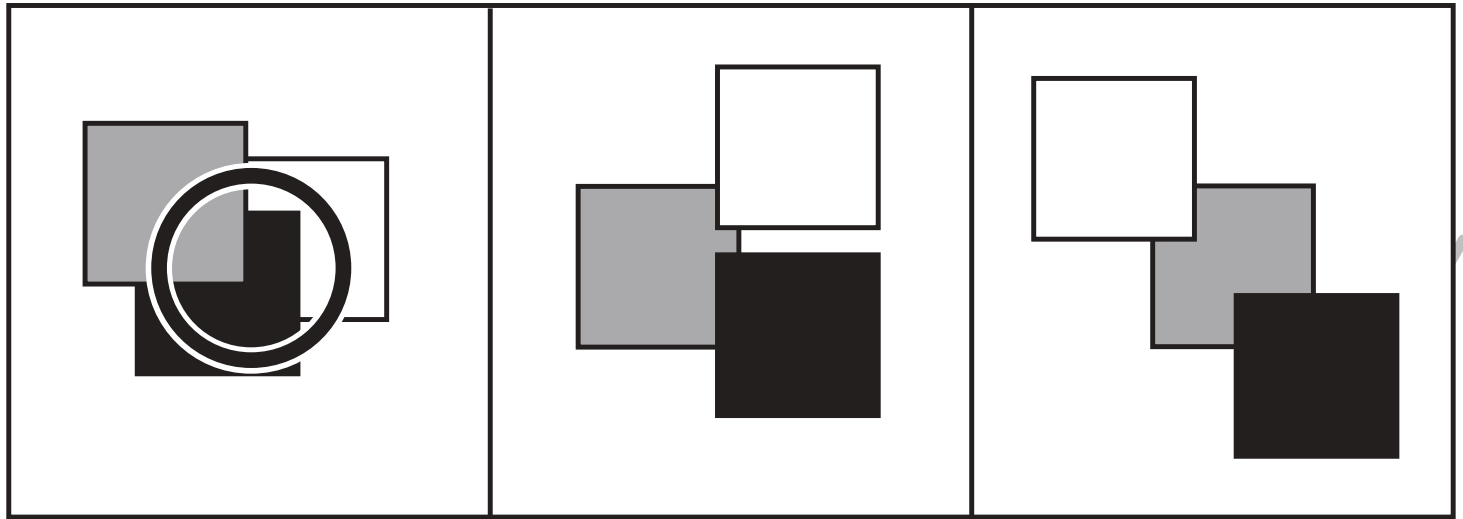


おうちで、やろう。 年中児版

Study at home. 小学校受験の家庭学習教材

図形：重なり2

白・黒・灰色の折り紙が重なっています。白の折り紙が1番下にあるものを見つけて○をつけます。



※1. このプリントは、しながわ・目黒こどもスクールのウェブサイトからダウンロードできます。無断複写・引用はご遠慮ください。
※2. このプリントを活用したオンライン授業のスケジュールは、しながわ・目黒こどもスクールのウェブサイトでご確認ください。