



おうちで、やろう。 年中児版

Study at home. 小学校受験の家庭学習教材

言語：音の理解3


絵の下には音の数だけマスがあります。はじめの音が左のマスするとき①～③の音の場所を考えて、そのマスに○をかきましょう。

①「さ」のつくマスを考えて○をかきましょう。

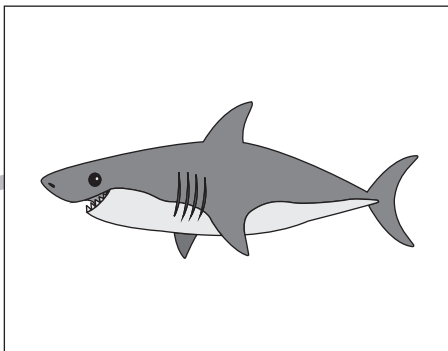
②「か」のつくマスを考えて○をかきましょう。

③「い」のつくマスを考えて○をかきましょう。


①



--	--




--	--

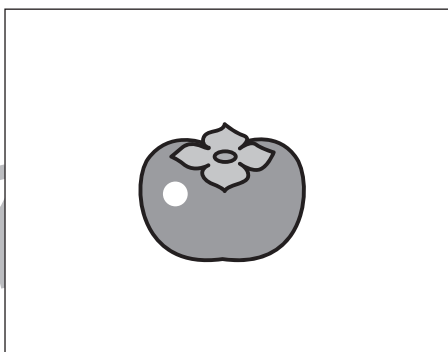


--	--	--


②



--	--

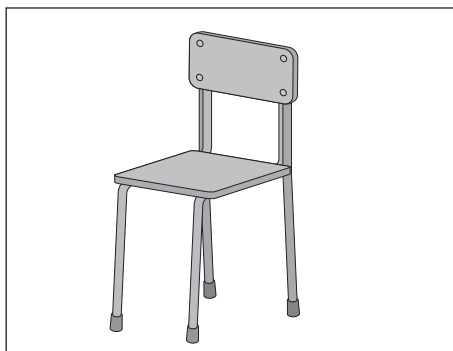


--	--




--	--	--


③



--	--



--	--



--	--	--

※1. このプリントは、しながわ・目黒こどもスクールのウェブサイトでダウンロードができます。無断複写・引用はご遠慮ください。

※2. このプリントを活用したオンライン授業のスケジュールは、しながわ・目黒こどもスクールのウェブサイトでご確認ください。



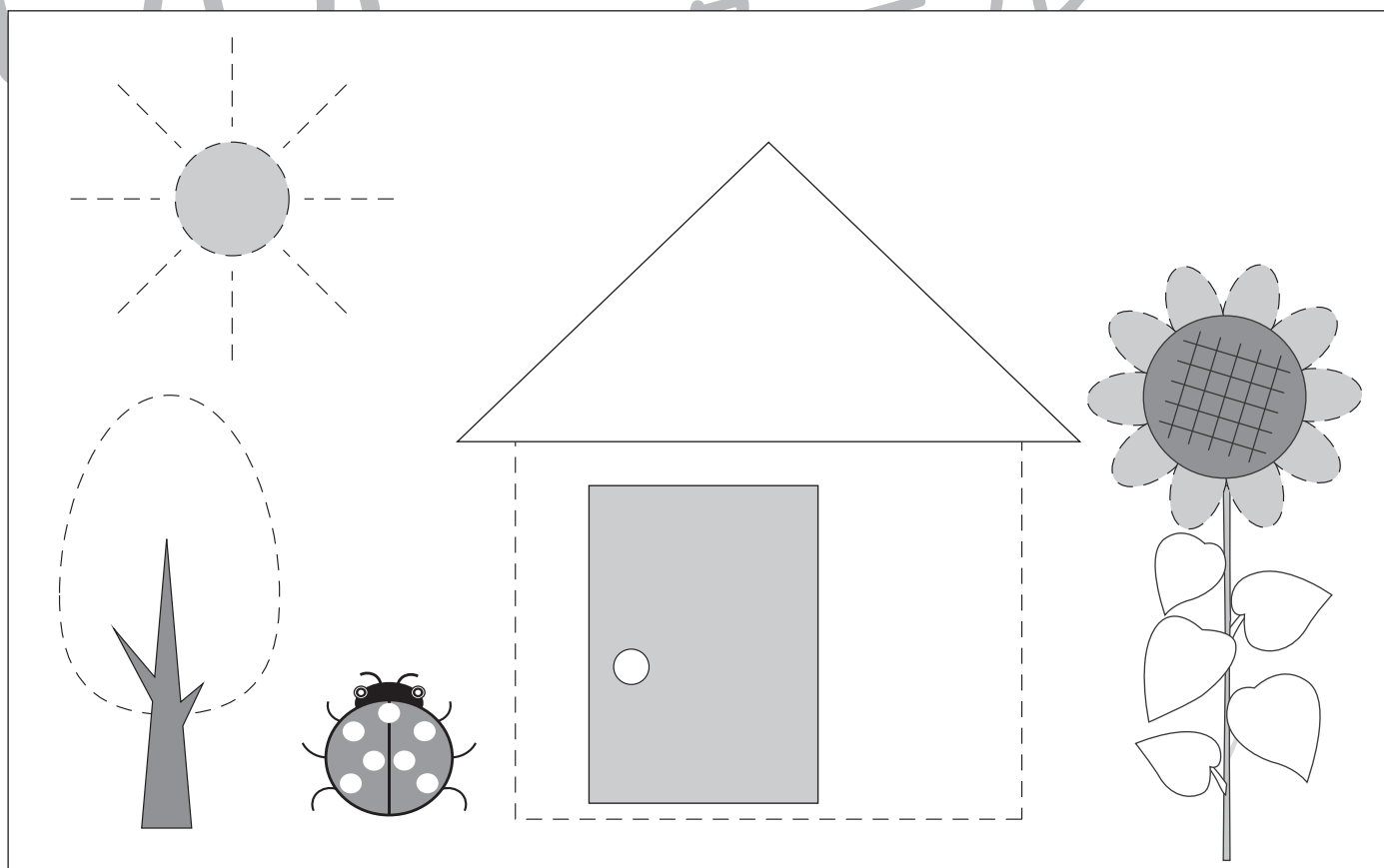
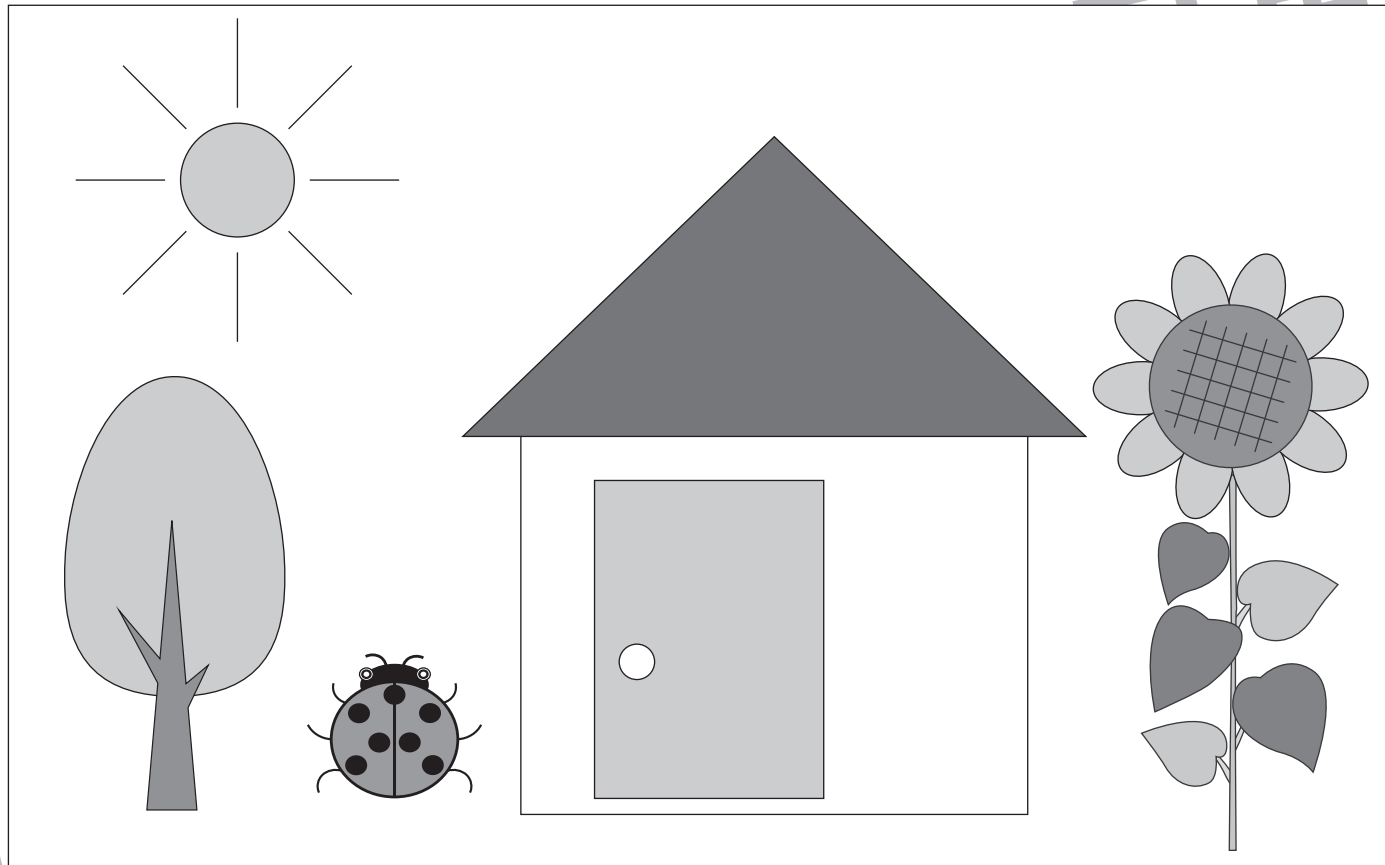


おうちで、やろう。 年中児版

Study at home. 小学校受験の家庭学習教材

巧緻性：模写1

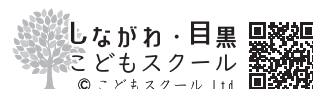
上の四角のお手本と同じになるように鉛筆で色を塗ったり、点線をなぞります。色を塗る時は濃さの違いが分かるように塗りましょう。 ※この問題に解答はありません。



ICT 教育の小学校受験

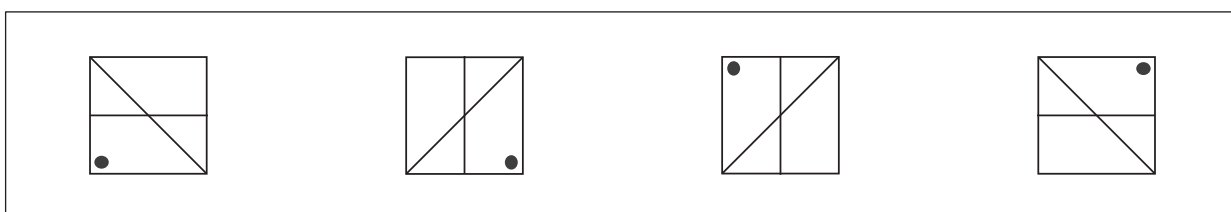
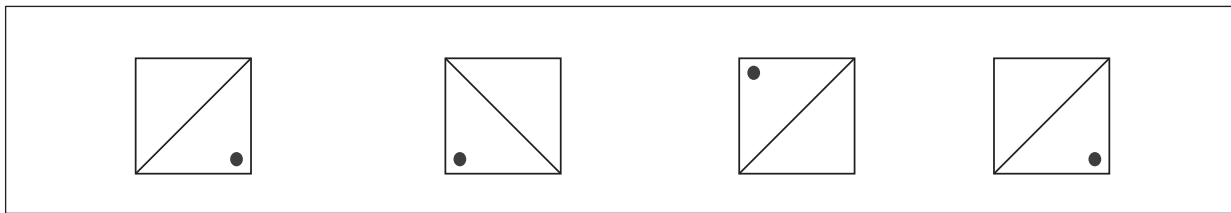
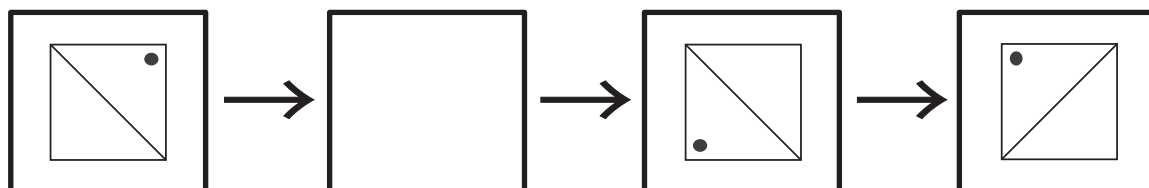
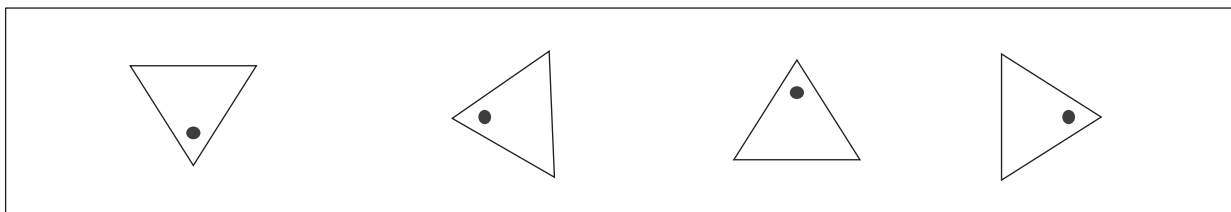
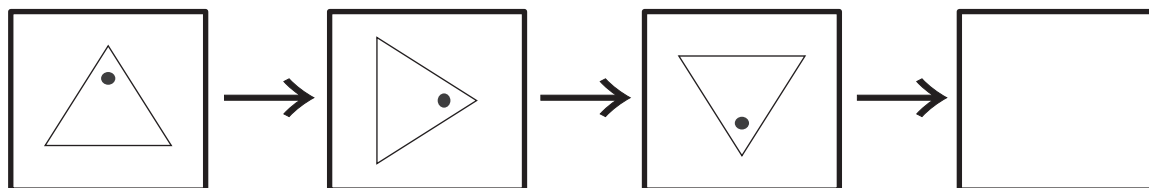
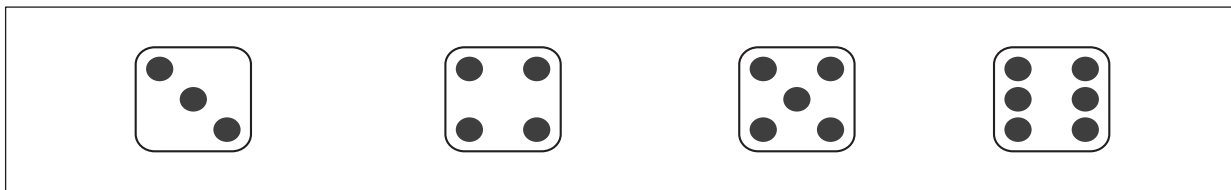
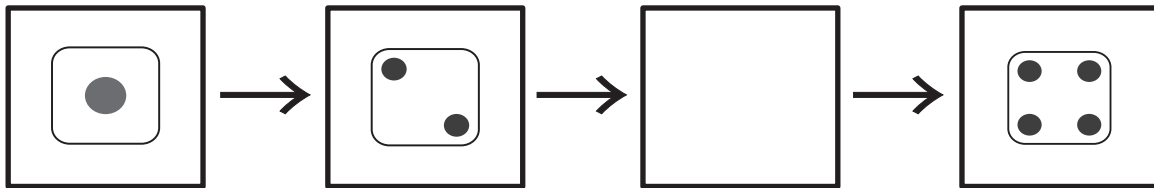
※1. このプリントは、しながわ・目黒こどもスクールのウェブサイトからダウンロードできます。無断複写・引用はご遠慮ください。

※2. このプリントを活用したオンライン授業のスケジュールは、しながわ・目黒こどもスクールのウェブサイトでご確認ください。





それぞれの太い四角の中に、形や印がある決まりに並んでいます。空いている四角に入るものを下の四角から選んで○を書きましょう。



※1. このプリントは、しながわ・目黒こどもスクールのウェブサイトでダウンロードができます。無断複写・引用はご遠慮ください。
※2. このプリントを活用したオンライン授業のスケジュールは、しながわ・目黒こどもスクールのウェブサイトでご確認ください。





おうちで、やろう。 年中児版

Study at home. 小学校受験の家庭学習教材

推理：条件推理4

左側のバスがバス停で止まり、動物たちが乗ったり降りたりしてから、右側に走りはじめました。バス停で降りた動物には○、乗った動物には×を下の動物の絵につけます。

→

○ ×

→

○ ×

→

○ ×

ICT 教育の小学校受験

※1. このプリントは、しながわ・目黒こどもスクールのウェブサイトからダウンロードできます。無断複写・引用はご遠慮ください。

※2. このプリントを活用したオンライン授業のスケジュールは、しながわ・目黒こどもスクールのウェブサイトでご確認ください。




おうちで、やろう。 年中児版

Study at home. 小学校受験の家庭学習教材

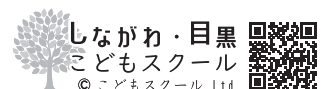
推理：条件推理 3

木のある方に進んでいる車を見つけて、その車に○をつけます。



ICT 教育の小学校受験

※1. このプリントは、しながわ・目黒こどもスクールのウェブサイトでダウンロードができます。無断複写・引用はご遠慮ください。
※2. このプリントを活用したオンライン授業のスケジュールは、しながわ・目黒こどもスクールのウェブサイトでご確認ください。




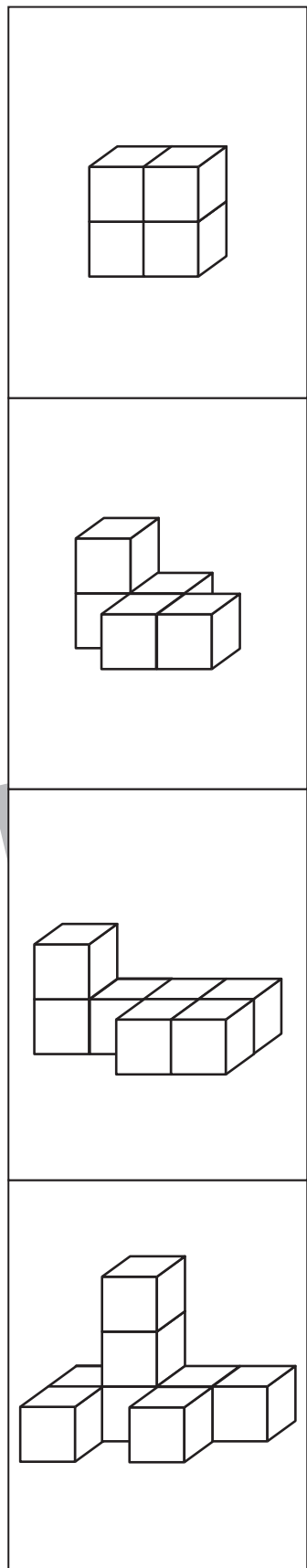


おうちで、やろう。 年中児版

Study at home. 小学校受験の家庭学習教材

数量：計数8

左の積み木と同じ数のものを右から選んで点と点を線で結びましょう。



しながわ
こどもスクール
目黒
こどもスクール

※1. このプリントは、しながわ・目黒こどもスクールのウェブサイトでダウンロードができます。無断複写・引用はご遠慮ください。
 ※2. このプリントを活用したオンライン授業のスケジュールは、しながわ・目黒こどもスクールのウェブサイトでご確認ください。




おうちで、やろう。 年中児版


Study at home. 小学校受験の家庭学習教材

数量：加減1


- ①女の子が持っている風船は合わせていくつありますか。
- ②男の子が持っている風船は合わせていくつありますか。
- ③全員がもっている風船は合わせていくつありますか。



Blank space for writing the answer to question 1.



Blank space for writing the answer to question 2.



Blank space for writing the answer to question 3.

※1. このプリントは、しながわ・目黒こどもスクールのウェブサイトからダウンロードができます。無断複写・引用はご遠慮ください。
 ※2. このプリントを活用したオンライン授業のスケジュールは、しながわ・目黒こどもスクールのウェブサイトでご確認ください。



おうちで、やろう。 年中児版

Study at home. 小学校受験の家庭学習教材

まちがいさがし3

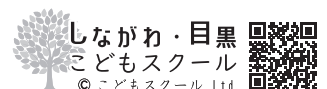
上下の絵を見比べて、変わっているところを5つ探します。見つけたら、下の絵の変わっている部分に丸をつけます。



ICT教育の小学校受験

※1. このプリントは、しながわ・目黒こどもスクールのウェブサイトからダウンロードできます。無断複写・引用はご遠慮ください。

※2. このプリントを活用したオンライン授業のスケジュールは、しながわ・目黒こどもスクールのウェブサイトでご確認ください。



しながわ・目黒
こどもスクール
©こどもスクール Ltd.