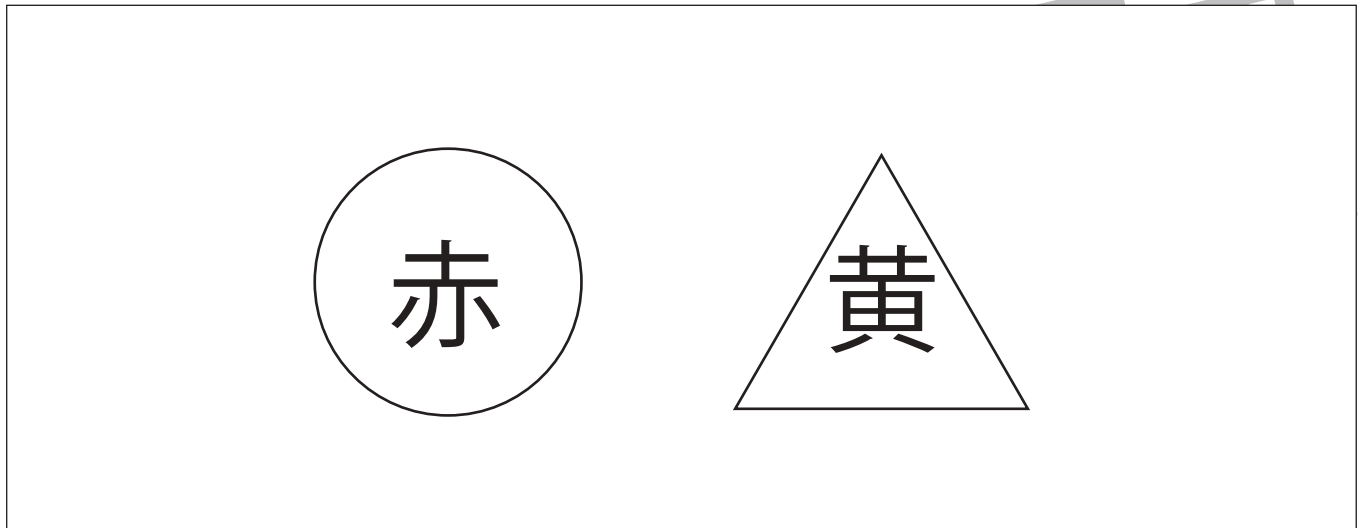


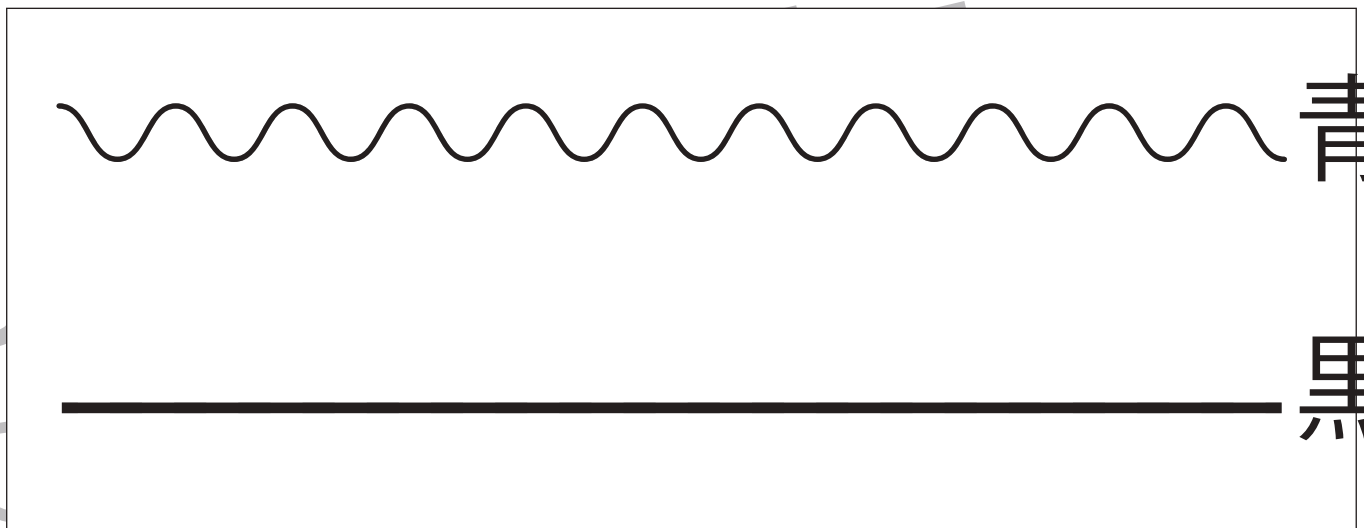


- ①丸を赤のクーピー、三角を黄色のクーピーで塗ります。
- ②なみなみの点々の線を青のクーピー、真っすぐの点々の線を黒のクーピーでなぞります。
- ③左から2番目の丸を橙色のクーピーで塗ります。

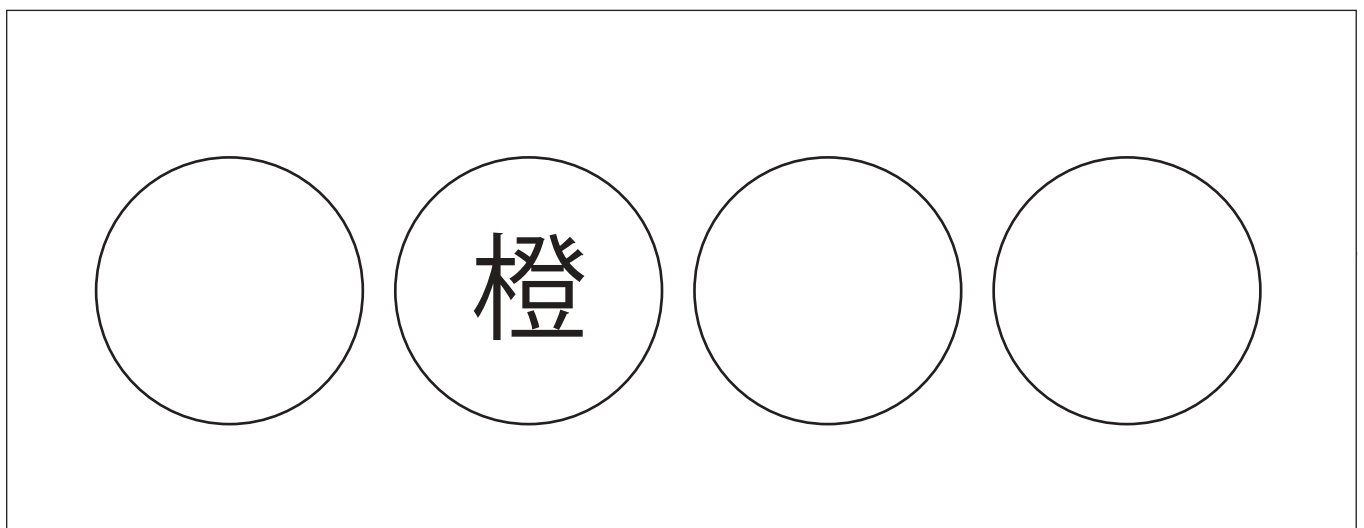
①



②



③



※1. このプリントは、しながわ・目黒こどもスクールのウェブサイトからダウンロードできます。無断複写・引用はご遠慮ください。  
※2. このプリントを活用したオンライン授業のスケジュールは、しながわ・目黒こどもスクールのウェブサイトでご確認ください。



# おうちで、やろう。 年中児版

Study at home. 小学校受験の家庭学習教材

言語：しりとり1

左の絵からはじめて一番右の絵までしりとりでつなげます。全ての絵がしりとりでつながるときは○、つながるときは×を右の四角に書きます。

--	--

--	--

--	--

--	--

※1. このプリントは、しながわ・目黒こどもスクールのウェブサイトでダウンロードができます。無断複写・引用はご遠慮ください。  
※2. このプリントを活用したオンライン授業のスケジュールは、しながわ・目黒こどもスクールのウェブサイトでご確認ください。

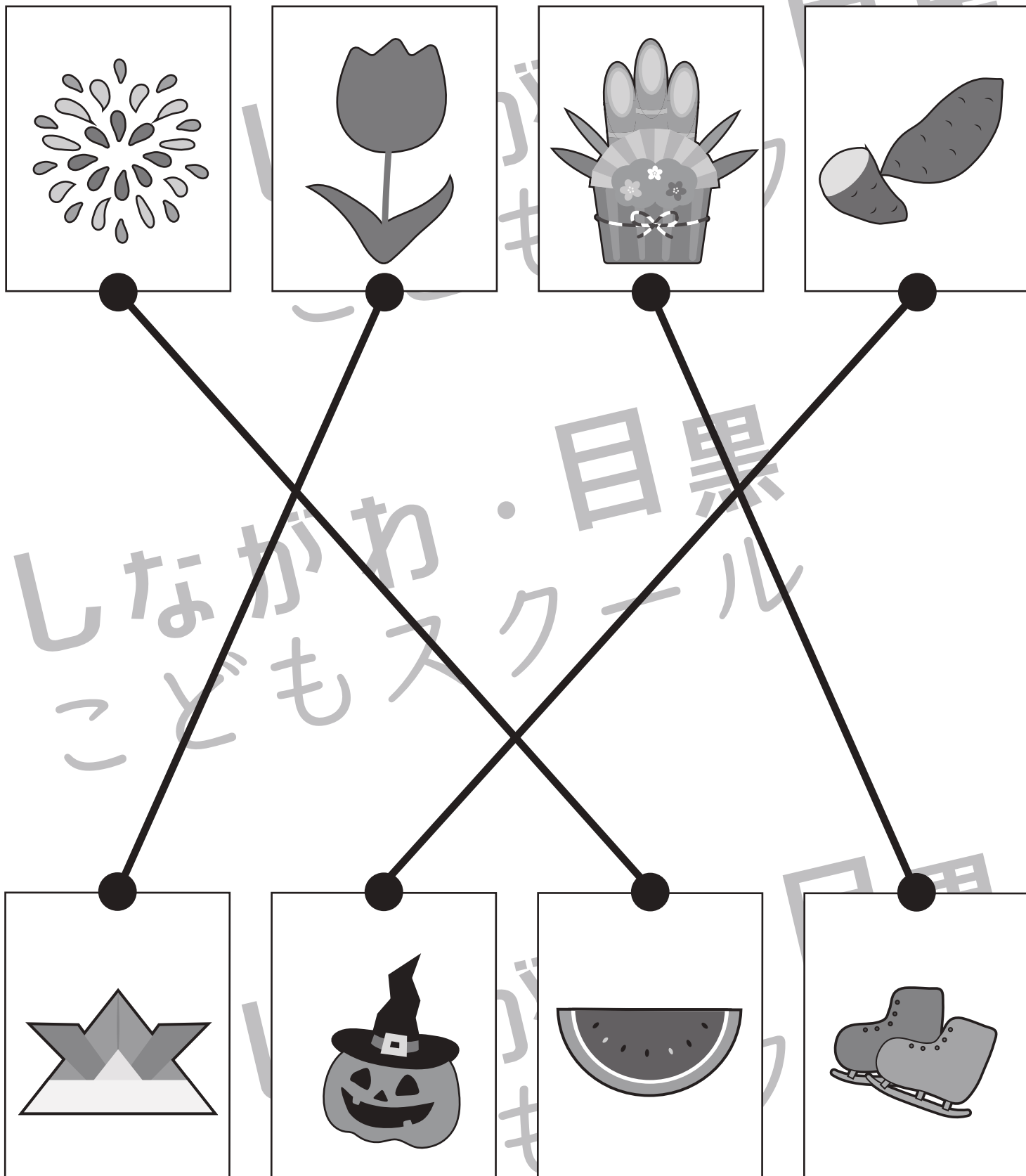


# おうちで、やろう。 年中児版

Study at home. 小学校受験の家庭学習教材

常識：季節3

上の絵と下の絵で同じ季節のものを見つけて点と点を結びましょう。



※1. このプリントは、しながわ・目黒こどもスクールのウェブサイトでダウンロードができます。無断複写・引用はご遠慮ください。  
※2. このプリントを活用したオンライン授業のスケジュールは、しながわ・目黒こどもスクールのウェブサイトでご確認ください。






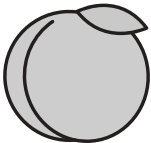
# おうちで、やろう。年中児版

Study at home. 小学校受験の家庭学習教材

数量：計数9

上の太い四角の中の果物はそれぞれいくつありますか。その数だけ下の四角の中に○を書きましょう。



	$\bigcirc \times 7$
	$\bigcirc \times 4$
	$\bigcirc \times 5$

※1. このプリントは、しながわ・目黒こどもスクールのウェブサイトからダウンロードできます。無断複写・引用はご遠慮ください。

※2. このプリントを活用したオンライン授業のスケジュールは、しながわ・目黒こどもスクールのウェブサイトでご確認ください。

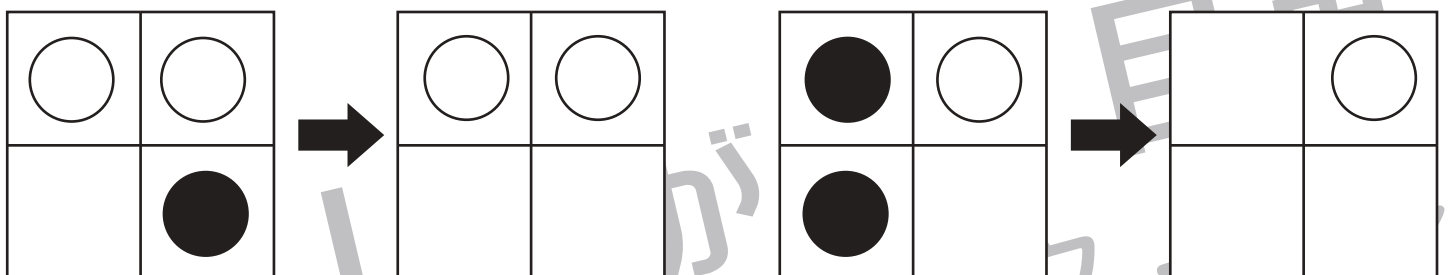

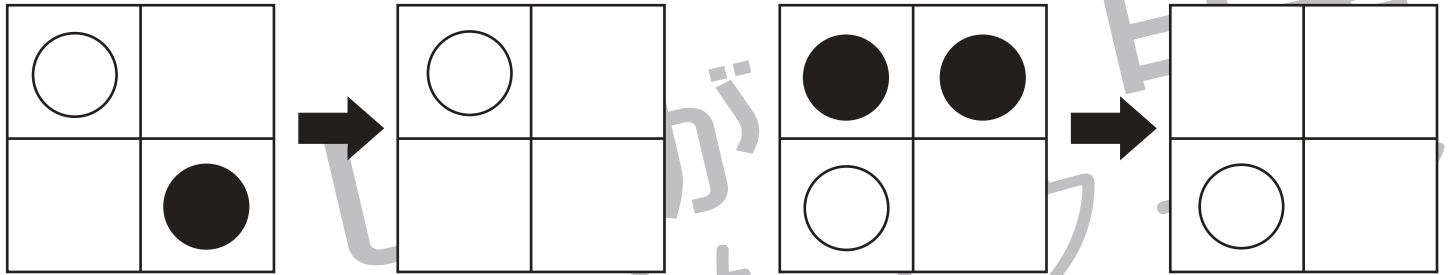


# おうちで、やろう。 年中児版

Study at home. 小学校受験の家庭学習教材

図形：模写1

左のお手本の白い○だけを右の四角の同じ場所に書きます。



※1. このプリントは、しながわ・目黒こどもスクールのウェブサイトでダウンロードができます。無断複写・引用はご遠慮ください。  
 ※2. このプリントを活用したオンライン授業のスケジュールは、しながわ・目黒こどもスクールのウェブサイトでご確認ください。

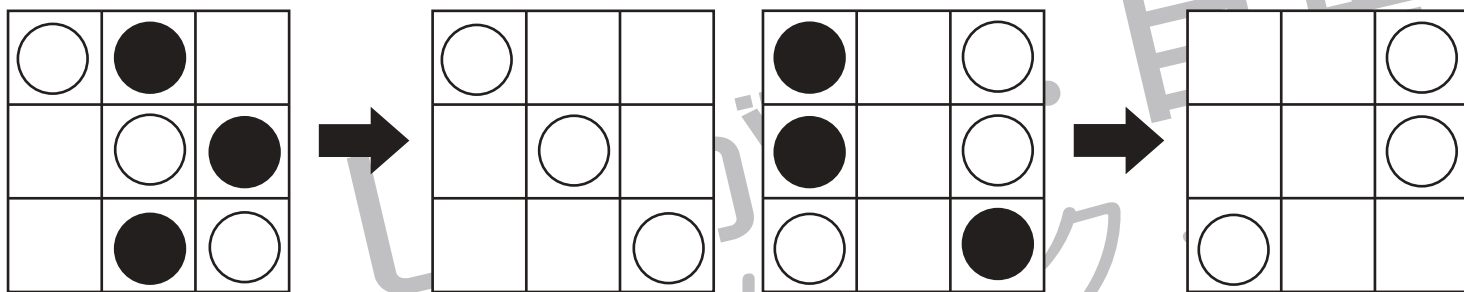
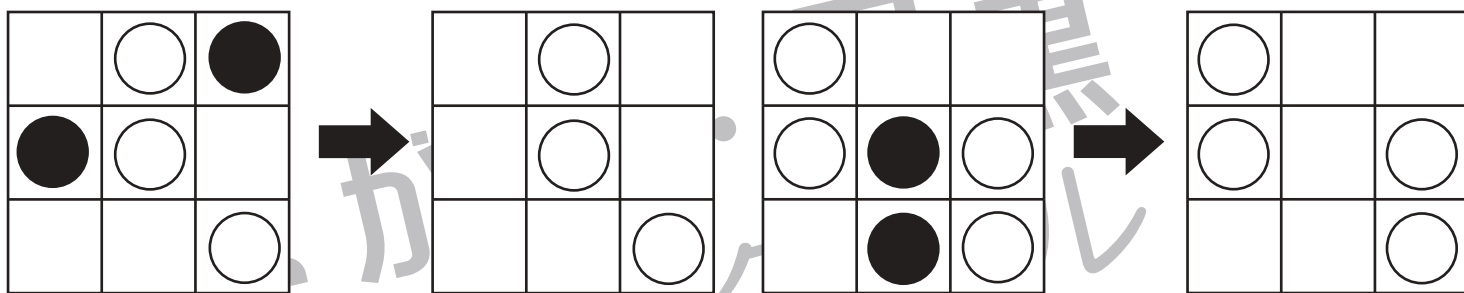
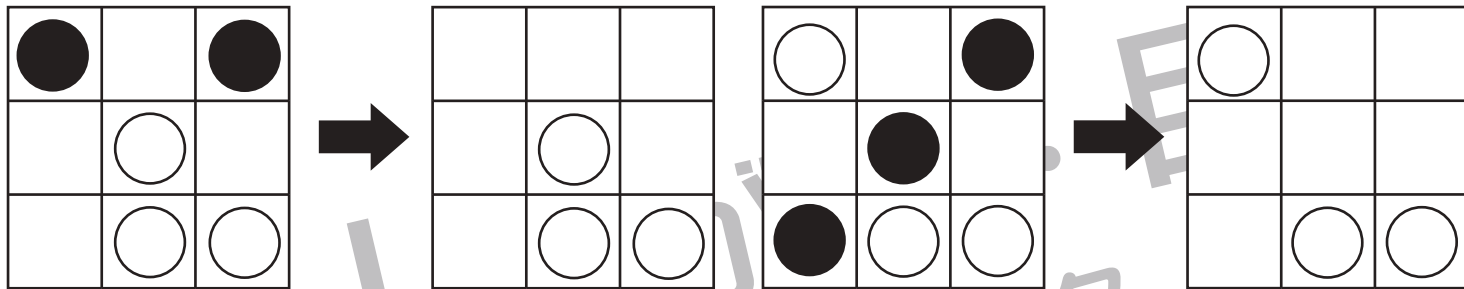


# おうちで、やろう。 年中児版

Study at home. 小学校受験の家庭学習教材

図形：模写2

左のお手本の白い○だけを右の四角の同じ場所に書きます。



※1. このプリントは、しながわ・目黒こどもスクールのウェブサイトからダウンロードできます。無断複写・引用はご遠慮ください。  
 ※2. このプリントを活用したオンライン授業のスケジュールは、しながわ・目黒こどもスクールのウェブサイトでご確認ください。