



おうちで、やろう。

Study at home. 小学校受験の家庭学習教材

推理：なぞなぞ4

①～④のなぞなぞをといて、答えに○をつけましょう。

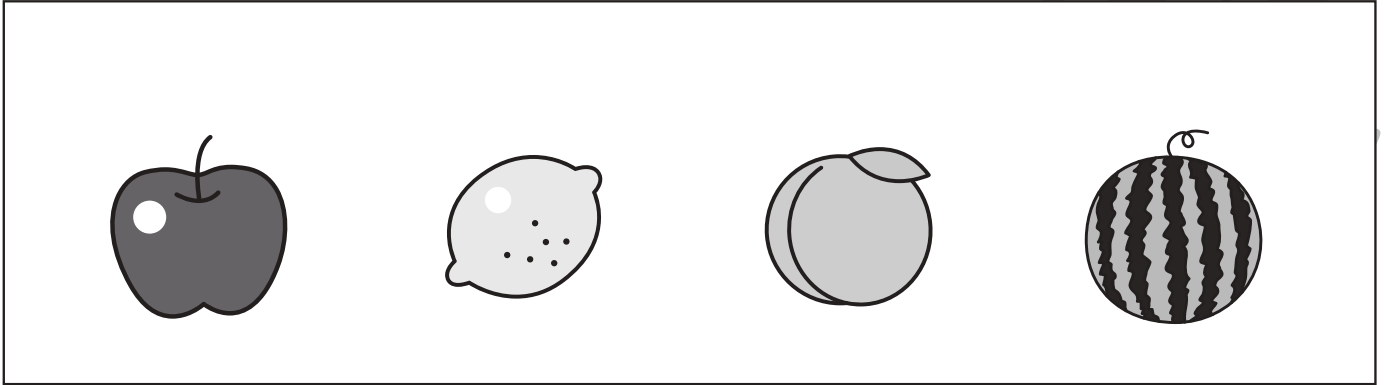
①「りんりんりんりんりん」と べるが5回なる たべものは なんでしょう。

②3つの「かん」に はいっている くだものは なんでしょう。


③とびらを「こんこん」と たたく どうぶつは なんでしょう。

④かためを つむって ういんくを している いきものは なんでしょう。


①




②



③



④



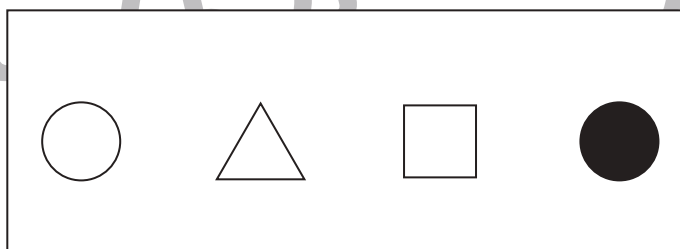
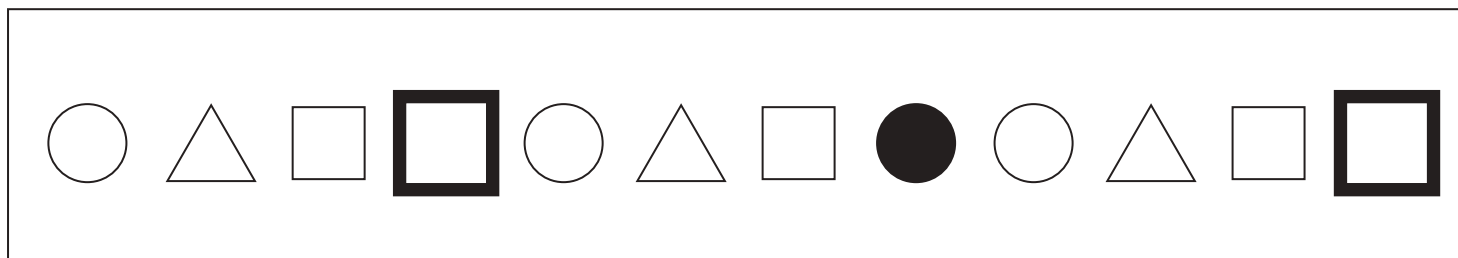
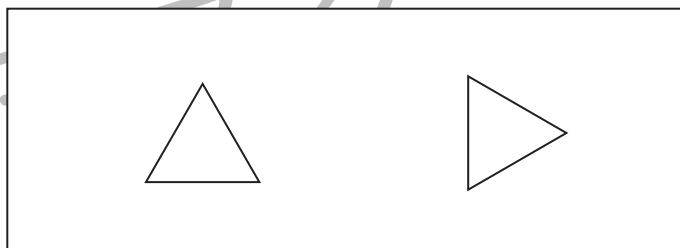


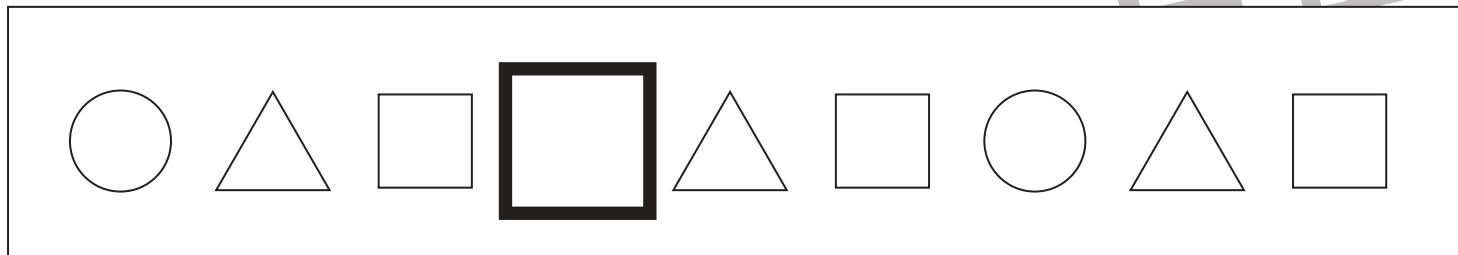
※1. このプリントは、しながわ・目黒こどもスクールのウェブサイトでダウンロードができます。無断複写・引用はご遠慮ください。

※2. このプリントを活用したオンライン授業のスケジュールは、しながわ・目黒こどもスクールのウェブサイトでご確認ください。





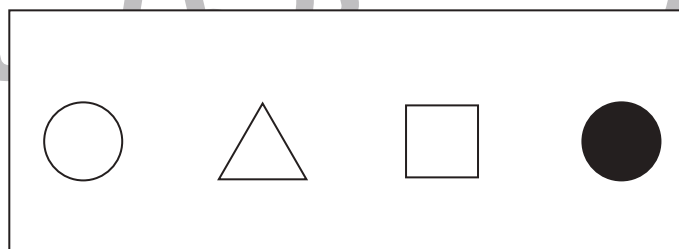
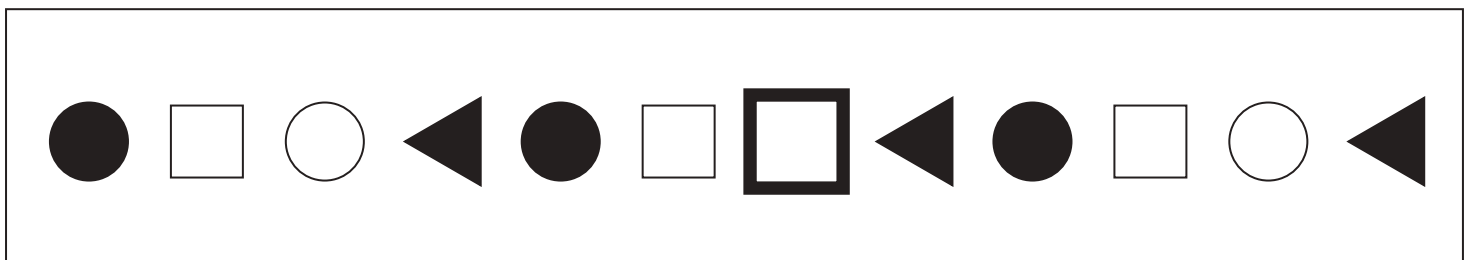


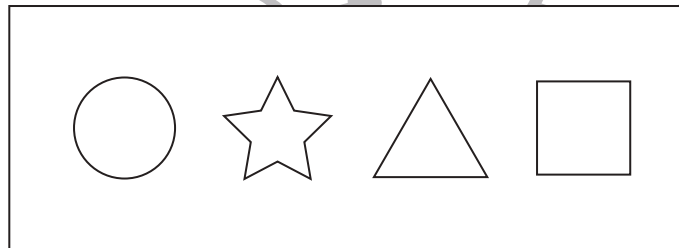
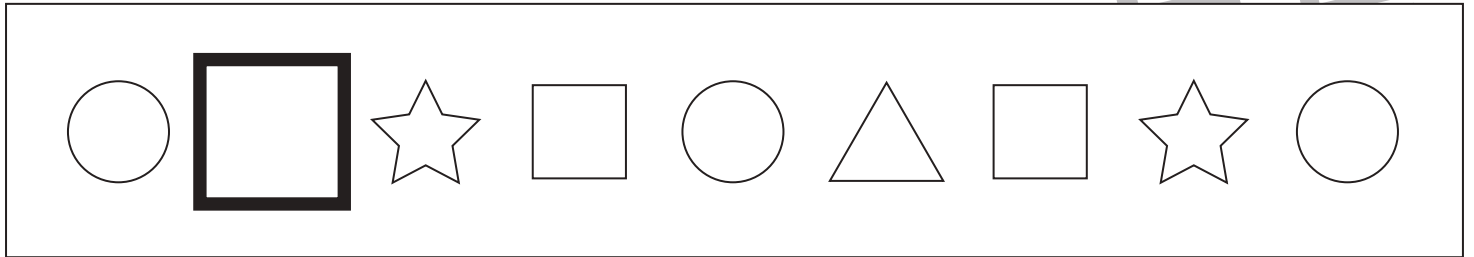
ある約束の通りに絵や形が並んでいます。太い四角の中にはいる記号を、下の四角の中から選んで○をつけます。



※1. このプリントは、しながわ・目黒こどもスクールのウェブサイトでダウンロードができます。無断複写・引用はご遠慮ください。
 ※2. このプリントを活用したオンライン授業のスケジュールは、しながわ・目黒こどもスクールのウェブサイトでご確認ください。



ある約束の通りに絵や形が並んでいます。太い四角の中にはいる記号を、下の四角の中から選んで○をつけます。



※1. このプリントは、しながわ・目黒こどもスクールのウェブサイトでダウンロードができます。無断複写・引用はご遠慮ください。
 ※2. このプリントを活用したオンライン授業のスケジュールは、しながわ・目黒こどもスクールのウェブサイトでご確認ください。

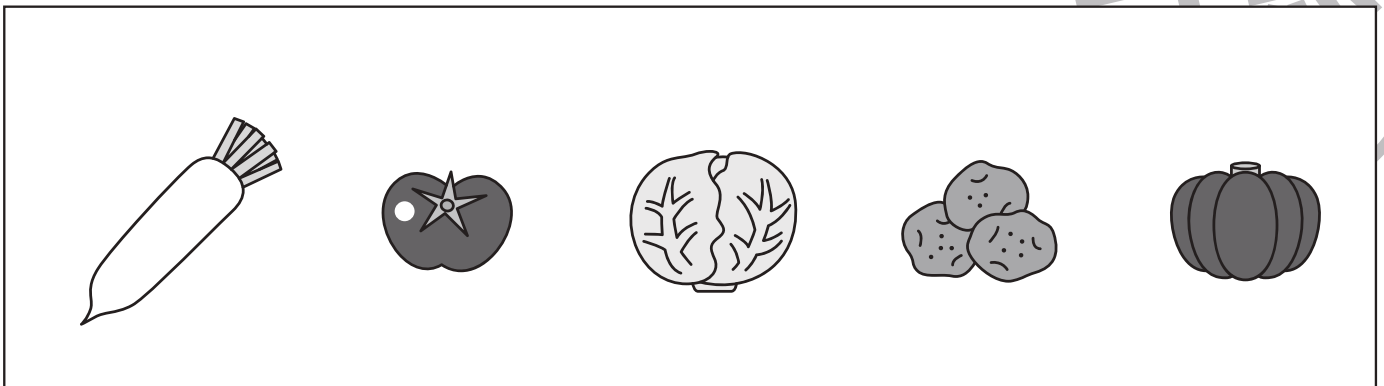




おうちで、やろう。年中児版

Study at home. 小学校受験の家庭学習教材

常識：生活2

- ①マスクを正しくつけている様子はどれですか。正しいものに○をつけましょう。
- ②1週間は何日ありますか。その数だけ○を描きましょう。
- ③1年に月はいくつありますか。その数だけ○を描きましょう。
- ④食べるところが土の中で育つものはどれですか。正しいものに○をつけましょう。



※1. このプリントは、しながわ・目黒こどもスクールのウェブサイトでダウンロードができます。無断複写・引用はご遠慮ください。
※2. このプリントを活用したオンライン授業のスケジュールは、しながわ・目黒こどもスクールのウェブサイトでご確認ください。









おうちで、やろう。 年中児版

Study at home. 小学校受験の家庭学習教材

数量：分割2

男の子と女の子で机の上のお菓子を分け合います。2人で仲良く同じ数ずつ分ける時、1人分はいくつになりますか。その数だけ下の四角に○を描きましょう。



※1. このプリントは、しながわ・目黒こどもスクールのウェブサイトでダウンロードができます。無断複写・引用はご遠慮ください。
※2. このプリントを活用したオンライン授業のスケジュールは、しながわ・目黒こどもスクールのウェブサイトでご確認ください。















おうちで、やろう。 年中児版

Study at home. 小学校受験の家庭学習教材

数量：加減2

左の四角と右の四角の中の生き物の数を比べます。何匹違いますか。違いの数だけ矢印の右の四角に○を描きます。



※1. このプリントは、しながわ・目黒こどもスクールのウェブサイトでダウンロードができます。無断複写・引用はご遠慮ください。

※2. このプリントを活用したオンライン授業のスケジュールは、しながわ・目黒こどもスクールのウェブサイトでご確認ください。













おうちで、やろう。 年中児版

Study at home. 小学校受験の家庭学習教材

数量：加減3

左の四角と右の四角の中の生き物の数を比べます。何匹違いますか。違いの数だけ矢印の右の四角に○を描きます。



※1. このプリントは、しながわ・目黒こどもスクールのウェブサイトでダウンロードができます。無断複写・引用はご遠慮ください。

※2. このプリントを活用したオンライン授業のスケジュールは、しながわ・目黒こどもスクールのウェブサイトでご確認ください。





おうちで、やろう。 年中児版

Study at home. 小学校受験の家庭学習教材

言語：様子言葉1

- ① 「ごろごろ」という言葉に合う絵はどれですか。その絵に青のクーピーで○をつけます。
- ② 「ころころ」という言葉に合う絵はどれですか。その絵に緑のクーピーで○をつけます。
- ③ 「ぴかぴか」という言葉に合う絵はどれですか。その絵にオレンジ色のクーピーで○をつけます。
- ④ 「びゅーびゅー」という言葉に合う絵はどれですか。その絵に紫色のクーピーで○をつけます。
- ⑤ 「しくしく」という言葉に合う絵はどれですか。その絵に水色のクーピーで○をつけます。

※1. このプリントは、しながわ・目黒こどもスクールのウェブサイトでダウンロードができます。無断複写・引用はご遠慮ください。

※2. このプリントを活用したオンライン授業のスケジュールは、しながわ・目黒こどもスクールのウェブサイトでご確認ください。