



# おうちで、やろう。

Study at home. 小学校受験の家庭学習教材

推理：なぞなぞ4

①～④のなぞなぞをといて、答えに○をつけましょう。

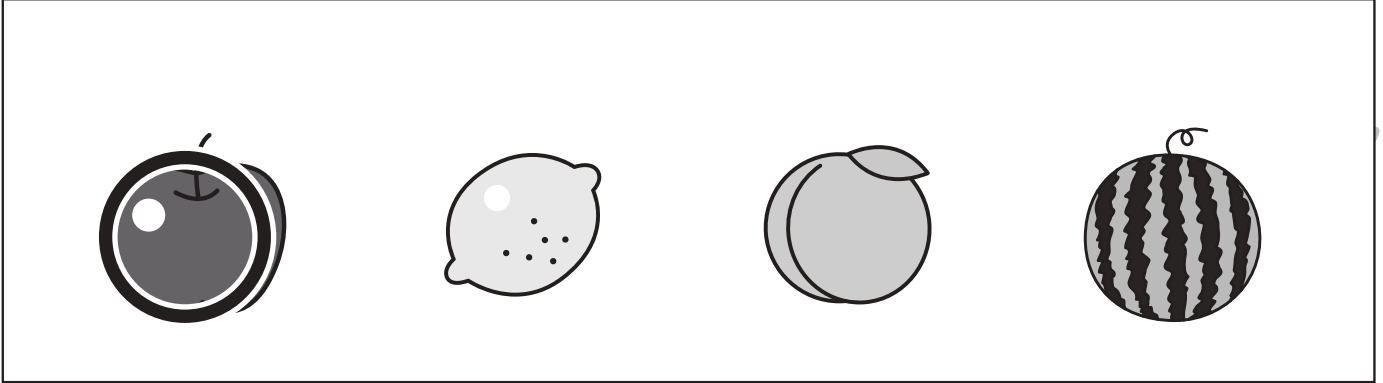
①「りんりんりんりんりん」と べるが5回なる たべものは なんでしょう。

②3つの「かん」に はいっている くだものは なんでしょう。


③とびらを「こんこん」と たたく どうぶつは なんでしょう。

④かためを つむって ういんくを している いきものは なんでしょう。


①




②



③



④



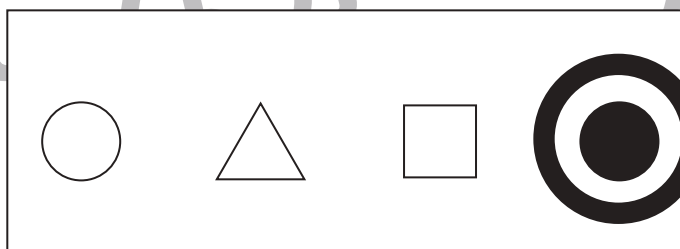
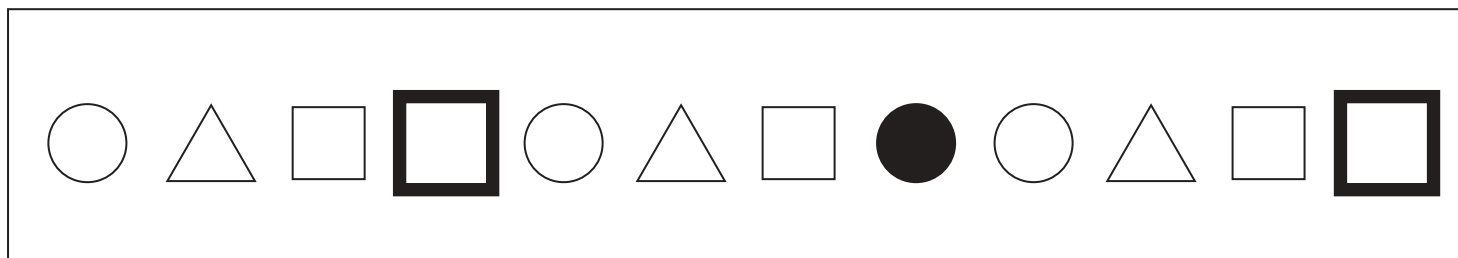


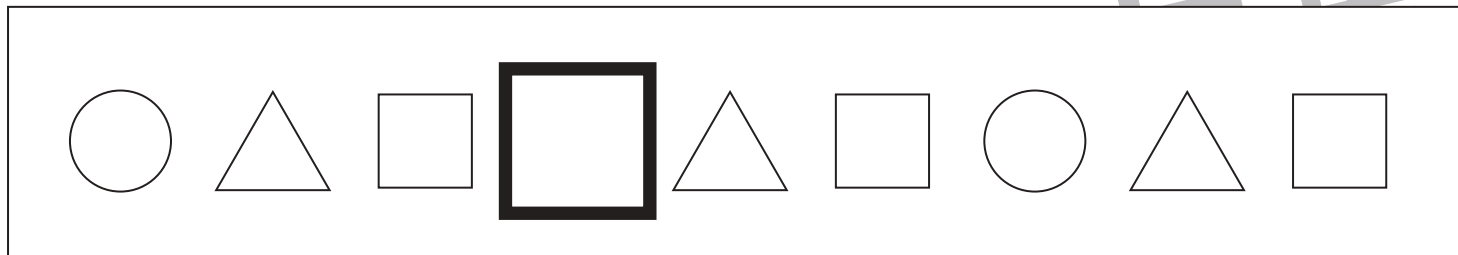
※1. このプリントは、しながわ・目黒こどもスクールのウェブサイトでダウンロードができます。無断複写・引用はご遠慮ください。

※2. このプリントを活用したオンライン授業のスケジュールは、しながわ・目黒こどもスクールのウェブサイトでご確認ください。





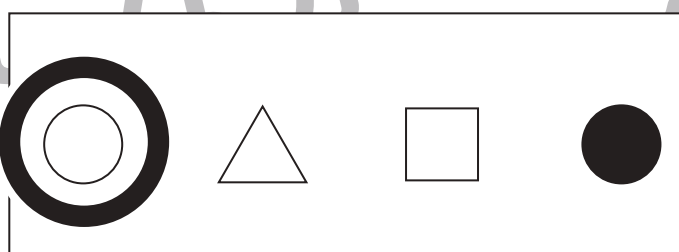
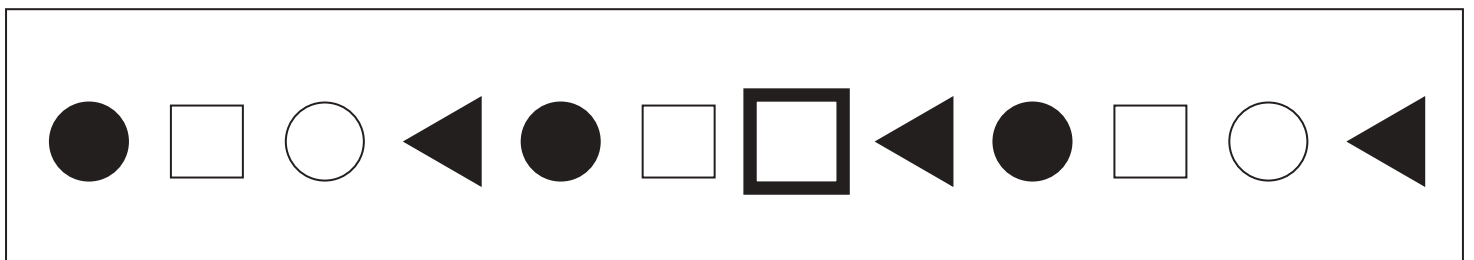



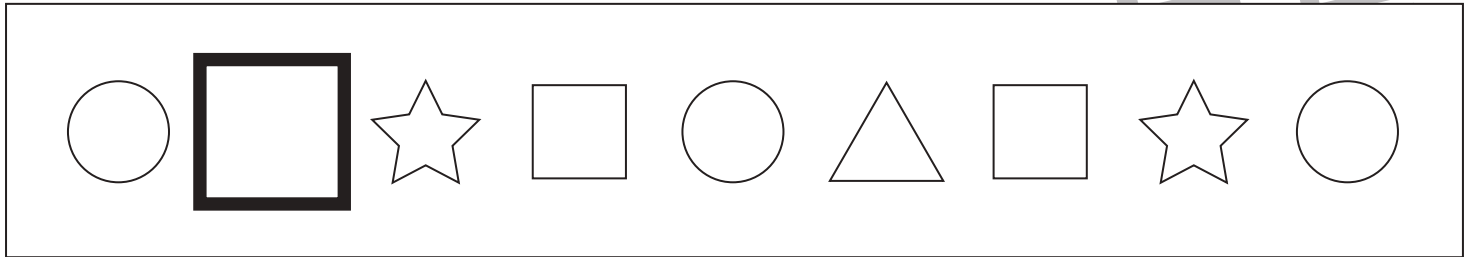
ある約束の通りに絵や形が並んでいます。太い四角の中にはいる記号を、下の四角の中から選んで○をつけます。



※1. このプリントは、しながわ・目黒こどもスクールのウェブサイトでダウンロードができます。無断複写・引用はご遠慮ください。  
 ※2. このプリントを活用したオンライン授業のスケジュールは、しながわ・目黒こどもスクールのウェブサイトでご確認ください。



ある約束の通りに絵や形が並んでいます。太い四角の中にはいる記号を、下の四角の中から選んで○をつけます。



※1. このプリントは、しながわ・目黒こどもスクールのウェブサイトでダウンロードができます。無断複写・引用はご遠慮ください。  
 ※2. このプリントを活用したオンライン授業のスケジュールは、しながわ・目黒こどもスクールのウェブサイトでご確認ください。



# おうちで、やろう。年中児版

Study at home. 小学校受験の家庭学習教材

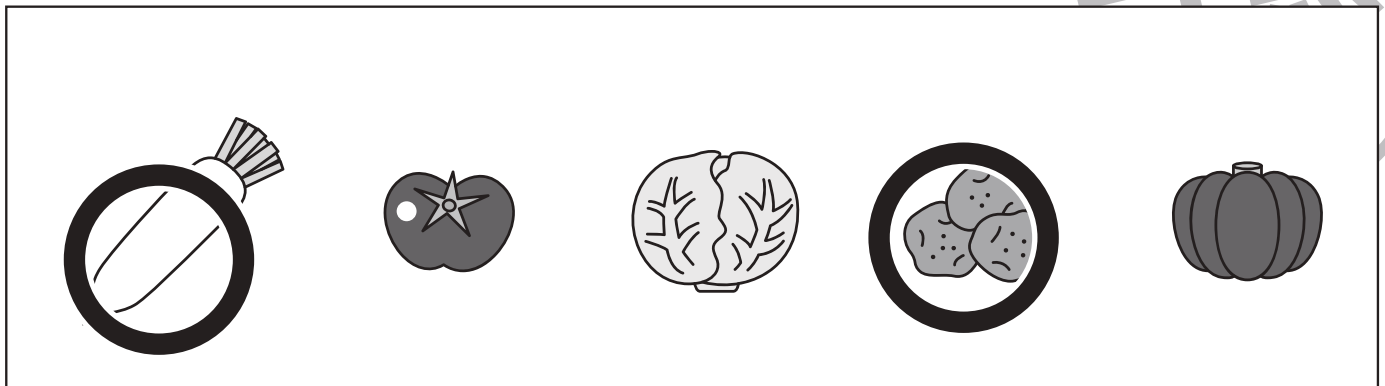
常識：生活2

- ①マスクを正しくつけている様子はどれですか。正しいものに○をつけましょう。
- ②1週間は何日ありますか。その数だけ○を描きましょう。
- ③1年に月はいくつありますか。その数だけ○を描きましょう。
- ④食べるところが土の中で育つものはどれですか。正しいものに○をつけましょう。



○×7

○×12



※1. このプリントは、しながわ・目黒こどもスクールのウェブサイトでダウンロードができます。無断複写・引用はご遠慮ください。  
※2. このプリントを活用したオンライン授業のスケジュールは、しながわ・目黒こどもスクールのウェブサイトでご確認ください。




# おうちで、やろう。 年中児版


Study at home. 小学校受験の家庭学習教材

数量：分割2


男の子と女の子で机の上のお菓子を分け合います。2人で仲良く同じ数ずつ分ける時、1人分はいくつになりますか。その数だけ下の四角に○を描きましょう。




○× 1



○× 2



○× 3



○× 4

※1. このプリントは、しながわ・目黒こどもスクールのウェブサイトでダウンロードができます。無断複写・引用はご遠慮ください。  
※2. このプリントを活用したオンライン授業のスケジュールは、しながわ・目黒こどもスクールのウェブサイトでご確認ください。





# おうちで、やろう。 年中児版



Study at home. 小学校受験の家庭学習教材

数量：加減2



左の四角と右の四角の中の生き物の数を比べます。何匹違いますか。違いの数だけ矢印の右の四角に○を描きます。





**○×2**



**○×3**



**○×2**



**○×3**

※1. このプリントは、しながわ・目黒こどもスクールのウェブサイトからダウンロードができます。無断複写・引用はご遠慮ください。

※2. このプリントを活用したオンライン授業のスケジュールは、しながわ・目黒こどもスクールのウェブサイトでご確認ください。







# おうちで、やろう。 年中児版



Study at home. 小学校受験の家庭学習教材

数量：加減3



左の四角と右の四角の中の生き物の数を比べます。何匹違いますか。違いの数だけ矢印の右の四角に○を描きます。





○×4



○×2



○×4



○×5

※1. このプリントは、しながわ・目黒こどもスクールのウェブサイトでダウンロードができます。無断複写・引用はご遠慮ください。

※2. このプリントを活用したオンライン授業のスケジュールは、しながわ・目黒こどもスクールのウェブサイトでご確認ください。





# おうちで、やろう。年中児版

Study at home. 小学校受験の家庭学習教材

言語：様子言葉1

- ①「ごろごろ」という言葉に合う絵はどれですか。その絵に青のクーピーで○をつけます。
- ②「ころころ」という言葉に合う絵はどれですか。その絵に緑のクーピーで○をつけます。
- ③「ぴかぴか」という言葉に合う絵はどれですか。その絵にオレンジ色のクーピーで○をつけます。
- ④「びゅーびゅー」という言葉に合う絵はどれですか。その絵に紫色のクーピーで○をつけます。
- ⑤「しくしく」という言葉に合う絵はどれですか。その絵に水色のクーピーで○をつけます。



※1. このプリントは、しながわ・目黒こどもスクールのウェブサイトでダウンロードができます。無断複写・引用はご遠慮ください。

※2. このプリントを活用したオンライン授業のスケジュールは、しながわ・目黒こどもスクールのウェブサイトでご確認ください。