

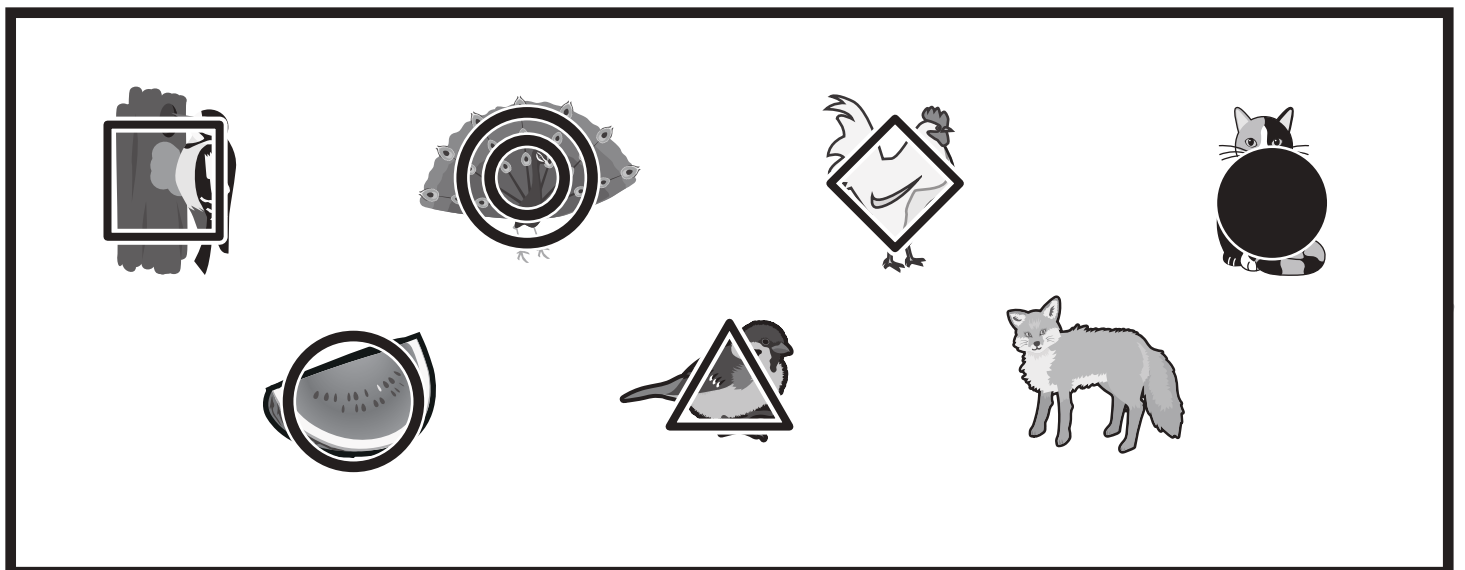
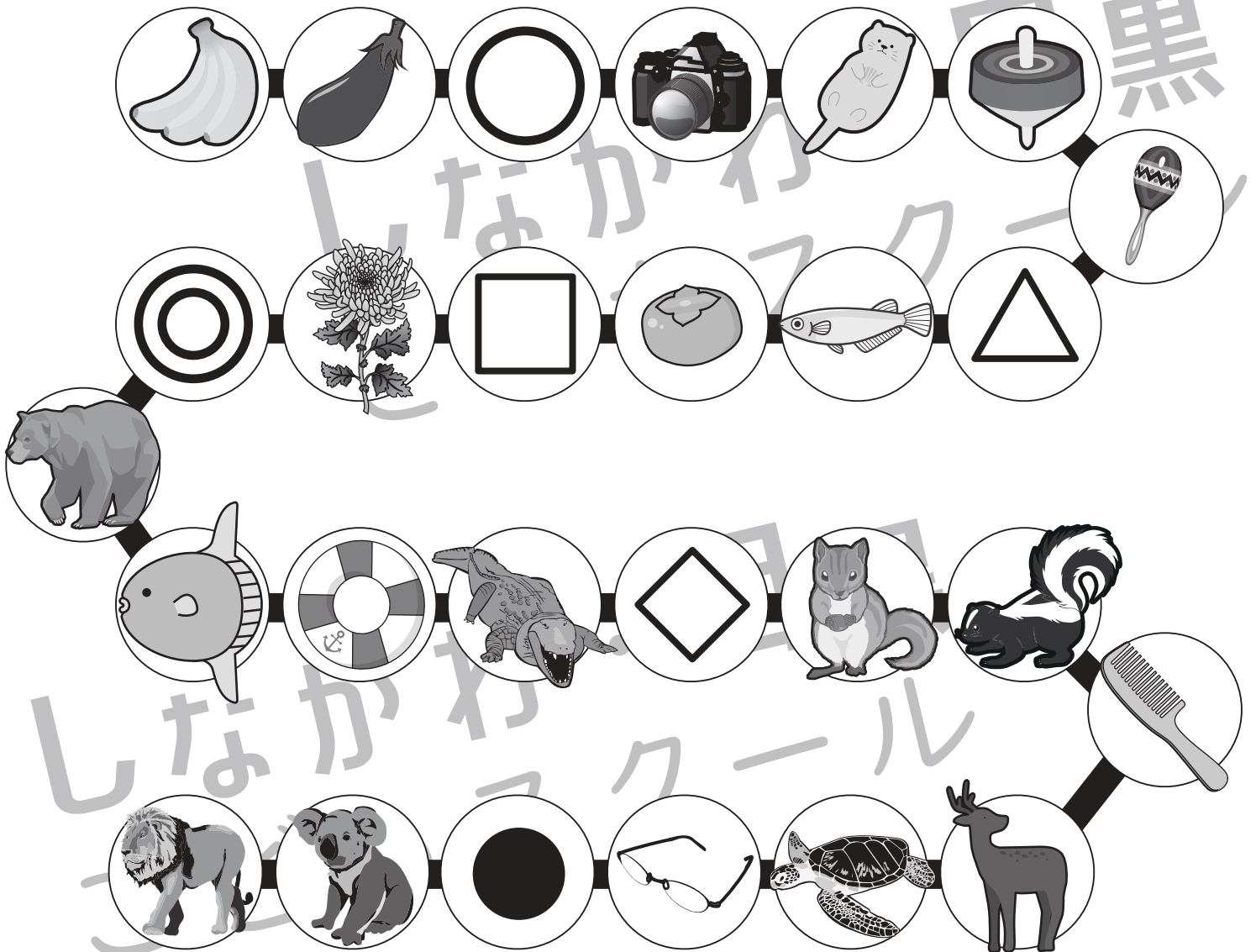


おうちで、やろう。

Study at home. 小学校受験の家庭学習教材

言語：しりとり6

左上のバナナから左下のライオンまで順番にしりとりをしてつなげていきます。このとき、印が描かれている場所に入る絵を下の四角の中から選び、それぞれの印をつけます。



※1. このプリントは、しながわ・目黒こどもスクールのウェブサイトでダウンロードができます。無断複写・引用はご遠慮ください。
 ※2. このプリントを活用したオンライン授業のスケジュールは、しながわ・目黒こどもスクールのウェブサイトでご確認ください。








おうちで、やろう。




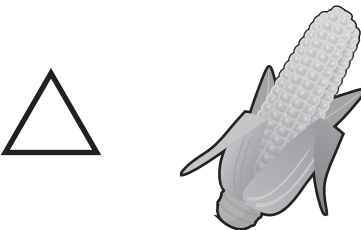

Study at home. 小学校受験の家庭学習教材






言語：音の数 15




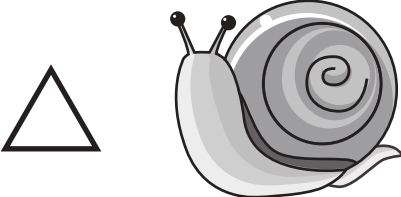

それぞれの絵の名前の音の数だけ下のマスの中を塗ります。

また、左と右の絵の音の数を比べて、数が多い方の印を真ん中の太い四角の中にかきます。

 		 
---	---	--

 		 
--	--	---

 		 
---	---	--

 		 
---	---	--

※1. このプリントは、しながわ・目黒こどもスクールのウェブサイトからダウンロードできます。無断複写・引用はご遠慮ください。

※2. このプリントを活用したオンライン授業のスケジュールは、しながわ・目黒こどもスクールのウェブサイトでご確認ください。



おうちで、やろう。

Study at home. 小学校受験の家庭学習教材

図形：重ね9

それぞれの四角は透明な板です。太い四角の中のマスと隣の四角の中のマスの●がぴったり合うように重ねたときの見え方を考えて右の四角の中から見つけて○をつけましょう。

※1. このプリントは、しながわ・目黒こどもスクールのウェブサイトでダウンロードができます。無断複写・引用はご遠慮ください。

※2. このプリントを活用したオンライン授業のスケジュールは、しながわ・目黒こどもスクールのウェブサイトでご確認ください。



おうちで、よろう。

Study at home. 小学校受験の家庭学習教材

図形：重ね 10

それぞれの四角は透明な板です。太い四角の中のマスと隣の四角の中のマスの●がぴったり合うように重ねたときの見え方を考えて右の四角の中から見つけて○をつけましょう。

※1. このプリントは、しながわ・目黒こどもスクールのウェブサイトでダウンロードができます。無断複写・引用はご遠慮ください。

※2. このプリントを活用したオンライン授業のスケジュールは、しながわ・目黒こどもスクールのウェブサイトでご確認ください。



おうちで、よろう。

Study at home. 小学校受験の家庭学習教材

図形：重ね 11

それぞれの四角は透明な板です。太い四角の中のマスと隣の四角の中のマスの●がぴったり合うように重ねたときの見え方を考えて右の四角の中から見つけて○をつけましょう。

※1. このプリントは、しながわ・目黒こどもスクールのウェブサイトでダウンロードができます。無断複写・引用はご遠慮ください。

※2. このプリントを活用したオンライン授業のスケジュールは、しながわ・目黒こどもスクールのウェブサイトでご確認ください。



おうちで、やろう。

Study at home. 小学校受験の家庭学習教材

図形：折り線1

左の四角の中にある折り紙を開いた時、折り線がどのようになっているかを考えて右の中から選んで○をつけます。

※1. このプリントは、しながわ・目黒こどもスクールのウェブサイトでダウンロードができます。無断複写・引用はご遠慮ください。

※2. このプリントを活用したオンライン授業のスケジュールは、しながわ・目黒こどもスクールのウェブサイトでご確認ください。




おうちで、やろう。

Study at home. 小学校受験の家庭学習教材

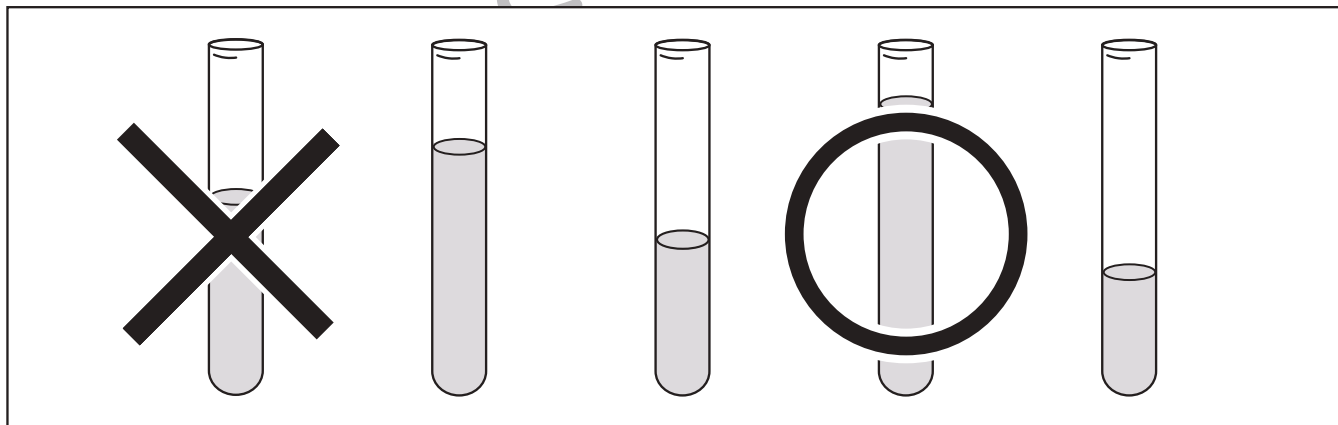
推理：水量6

水の量が一番多いものに○を三番目に多いものに×をつけます。


①




②



③



④



※1. このプリントは、しながわ・目黒こどもスクールのウェブサイトでダウンロードができます。無断複写・引用はご遠慮ください。

※2. このプリントを活用したオンライン授業のスケジュールは、しながわ・目黒こどもスクールのウェブサイトでご確認ください。





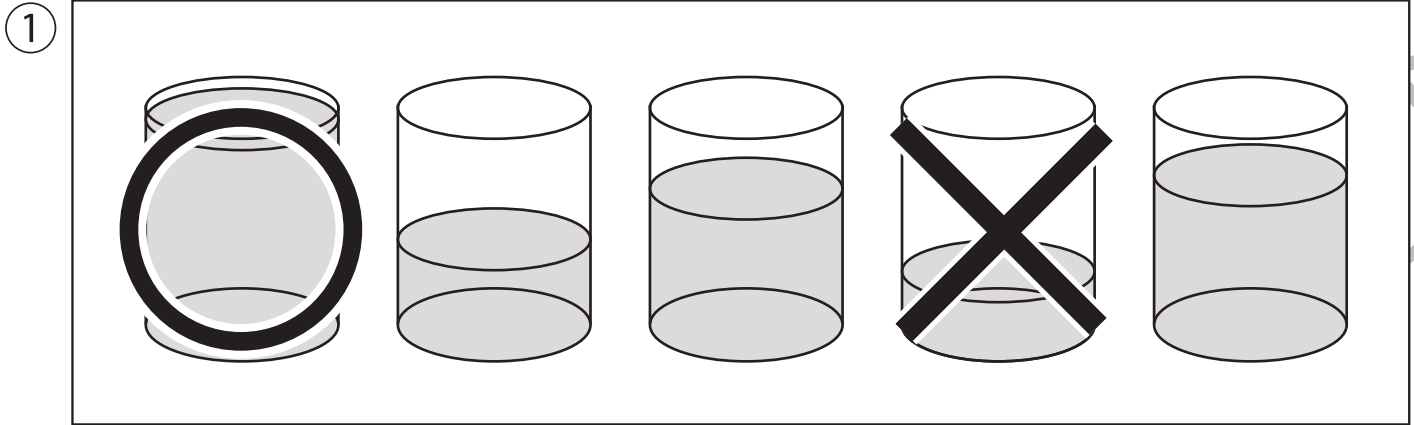


おうちで、やろう。

Study at home. 小学校受験の家庭学習教材

推理：水量7

水の量が一番多いものに○を、一番目に少ないものに×をつけます。



※1. このプリントは、しながわ・目黒こどもスクールのウェブサイトでダウンロードができます。無断複写・引用はご遠慮ください。

※2. このプリントを活用したオンライン授業のスケジュールは、しながわ・目黒こどもスクールのウェブサイトでご確認ください。