



# おうちで、やろう。

Study at home. 小学校受験の家庭学習教材

## 指示の聞き取り 6

それぞれの設問に答えましょう。指示は1度ですべて読み上げます。しっかり聞いて取り組みましょう。

- ①一番上の段の左から2番目のマスに青のクーピーで○をかきます。
- ②上から2段目の右端のマスに黒のクーピーで○をかきます。
- ③上から3段目の真ん中のマスに橙色のクーピーで□をかきます。
- ④下から2段目の右から4番目のマスに緑のクーピーで△をかきます。
- ⑤一番下の段の左から4番目のマスを鉛筆で薄く塗ります。

	○ (青)			
				○ (黒)
		□ (橙)		
	△ (緑)			
			鉛筆で 薄く塗る	

※1. このプリントは、しながわ・目黒こどもスクールのウェブサイトでダウンロードができます。無断複写・引用はご遠慮ください。

※2. このプリントを活用したオンライン授業のスケジュールは、しながわ・目黒こどもスクールのウェブサイトでご確認ください。



# おうちで、やろう。

Study at home. 小学校受験の家庭学習教材

## 図形：重ね 12

それぞれの四角は透明な板です。一番左の四角がお手本です。このお手本は透明な2枚の四角の板を重ねたものです。お手本を作るためには真ん中の四角と右の3つの中のどの四角を重ねればよいか考えて1つ選んで○をつけます。


※1. このプリントは、しながわ・目黒こどもスクールのウェブサイトからダウンロードできます。無断複写・引用はご遠慮ください。

※2. このプリントを活用したオンライン授業のスケジュールは、しながわ・目黒こどもスクールのウェブサイトでご確認ください。



# おうちで、やろう。

Study at home. 小学校受験の家庭学習教材

## 図形：重ね 13

それぞれの四角は透明な板です。一番左の四角がお手本です。このお手本は透明な2枚の四角の板を重ねたものです。お手本を作るためには真ん中の四角と右の3つの中のどの四角を重ねればよいか考えて1つ選んで○をつけます。


※1. このプリントは、しながわ・目黒こどもスクールのウェブサイトでダウンロードができます。無断複写・引用はご遠慮ください。

※2. このプリントを活用したオンライン授業のスケジュールは、しながわ・目黒こどもスクールのウェブサイトでご確認ください。



# おうちで、よろう。

Study at home. 小学校受験の家庭学習教材

## 図形：重ね 14

それぞれの四角は透明な板です。一番左の四角がお手本です。このお手本は透明な2枚の四角の板を重ねたものです。お手本を作るためには真ん中の四角と右の3つの中のどの四角を重ねればよいか考えて1つ選んで○をつけます。


※1. このプリントは、しながわ・目黒こどもスクールのウェブサイトでダウンロードができます。無断複写・引用はご遠慮ください。

※2. このプリントを活用したオンライン授業のスケジュールは、しながわ・目黒こどもスクールのウェブサイトでご確認ください。



# おうちで、やろう。

Study at home. 小学校受験の家庭学習教材

## 図形：模写3

左の太い四角の中がお手本です。お手本の上のある印が○のときはお手本と同じになるように灰色のマス場所を右のマスに塗ります。  
●のときはお手本の白いマス場所を右のマスに塗ります。


※1. このプリントは、しながわ・目黒こどもスクールのウェブサイトからダウンロードできます。無断複写・引用はご遠慮ください。

※2. このプリントを活用したオンライン授業のスケジュールは、しながわ・目黒こどもスクールのウェブサイトでご確認ください。

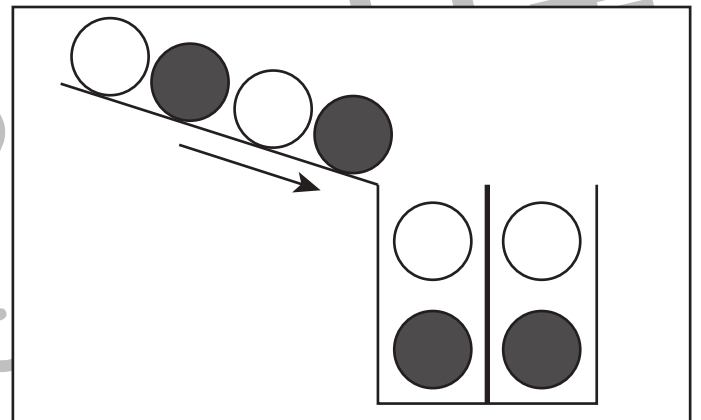
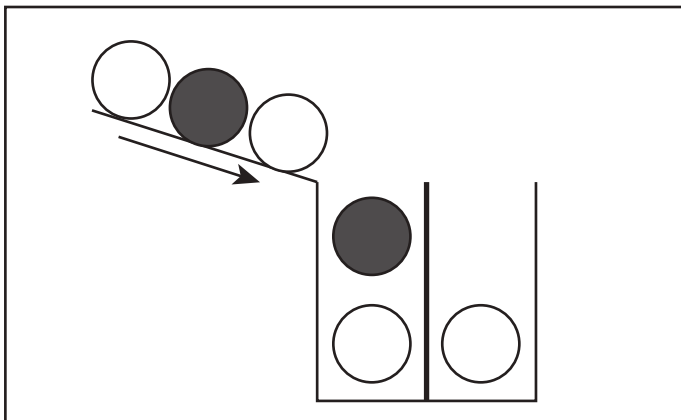
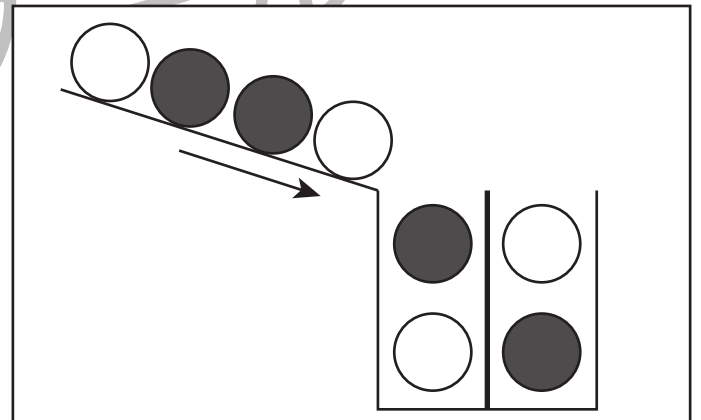
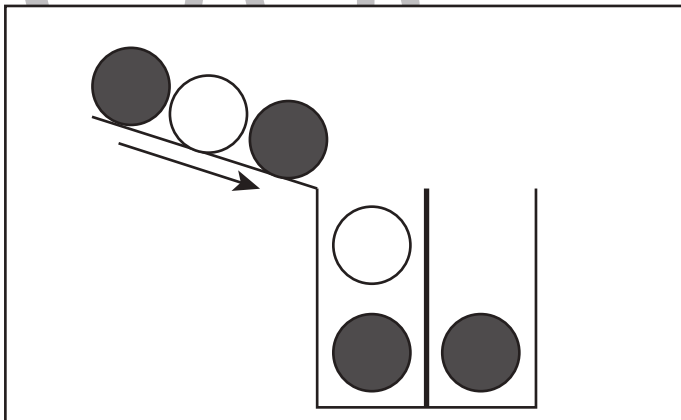
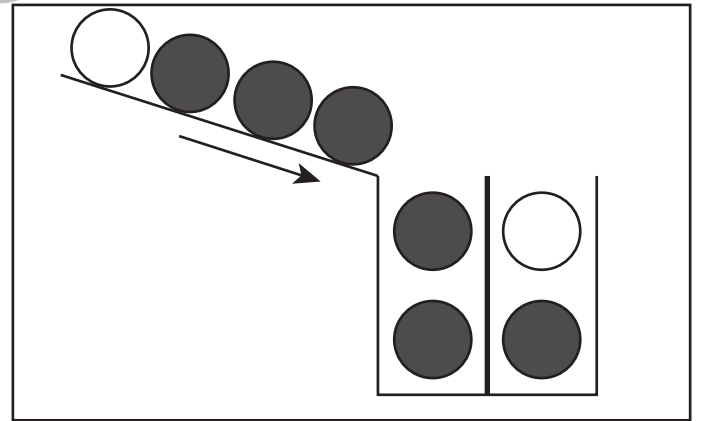
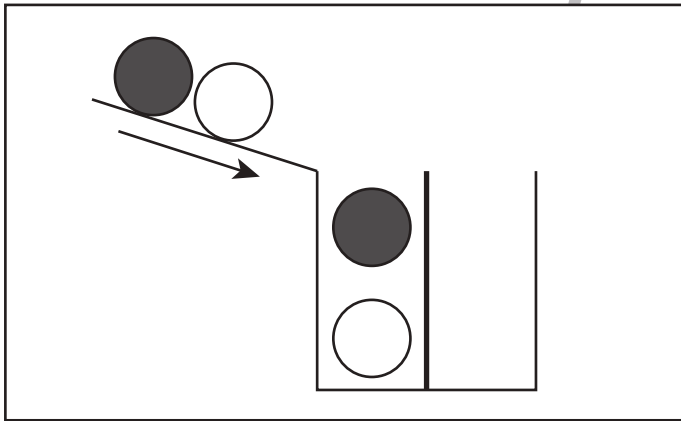
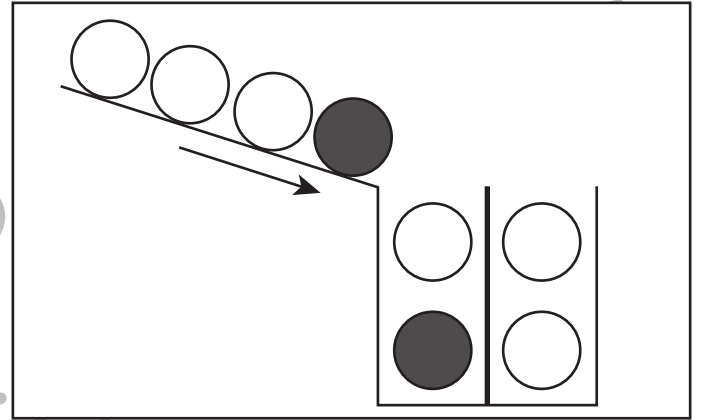
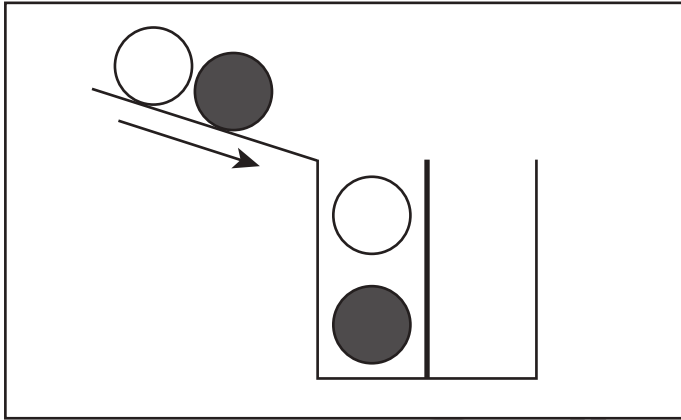


# おうちで、やろう。

Study at home. 小学校受験の家庭学習教材

## 推理：条件推理 4

坂道をボールが転がってきます。坂道から近い箱にボールが2個ずつ入っていくとき、箱のどの場所にボールが入るのかを考えてかきます。



※1. このプリントは、しながわ・目黒こどもスクールのウェブサイトでダウンロードができます。無断複写・引用はご遠慮ください。

※2. このプリントを活用したオンライン授業のスケジュールは、しながわ・目黒こどもスクールのウェブサイトでご確認ください。

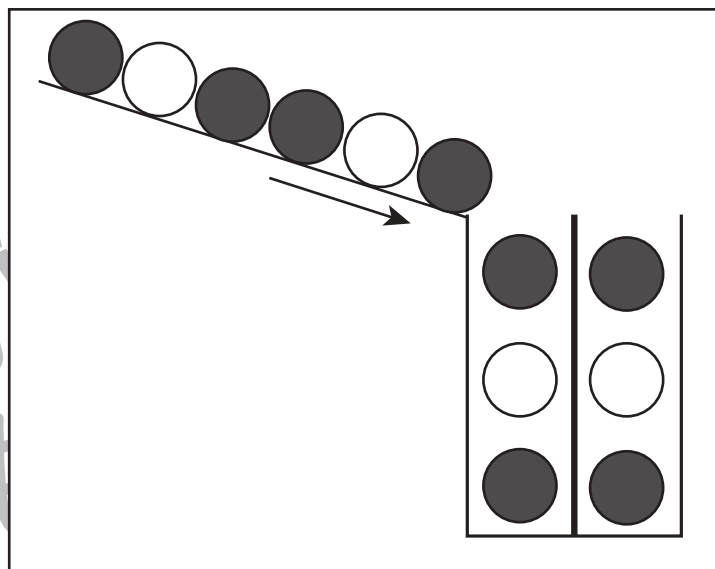
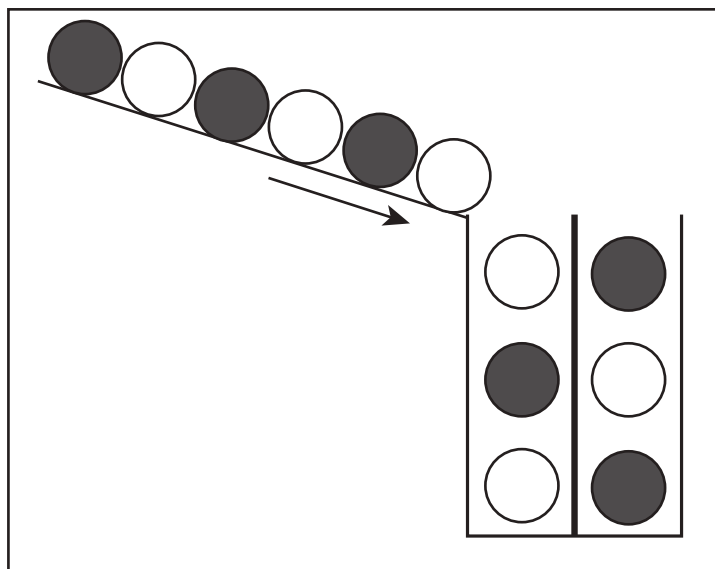
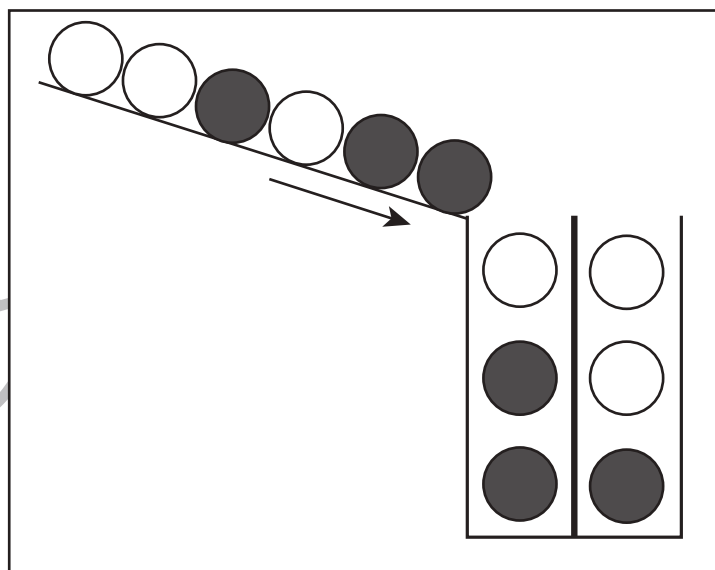
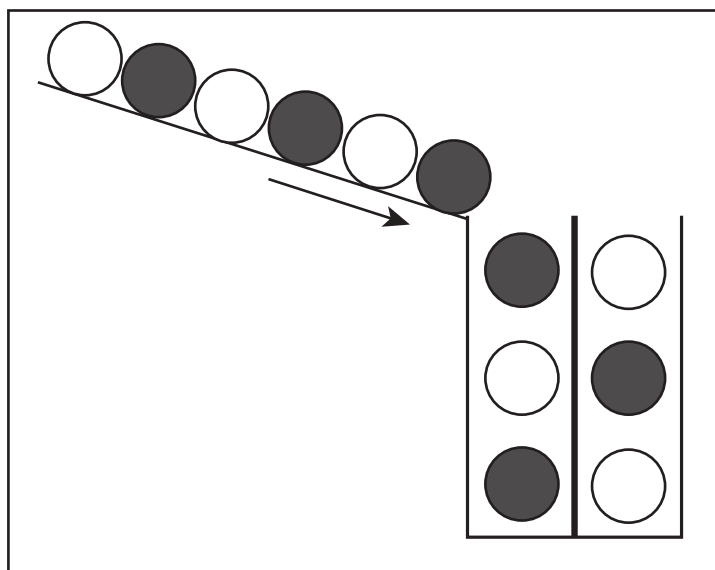
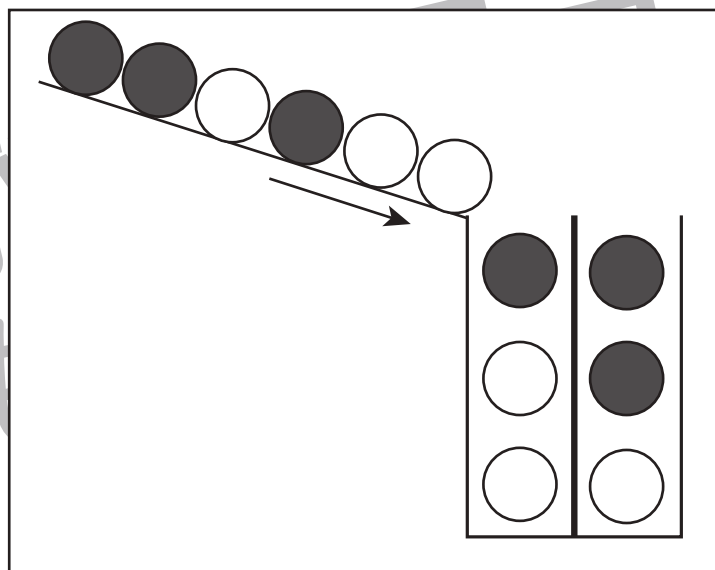
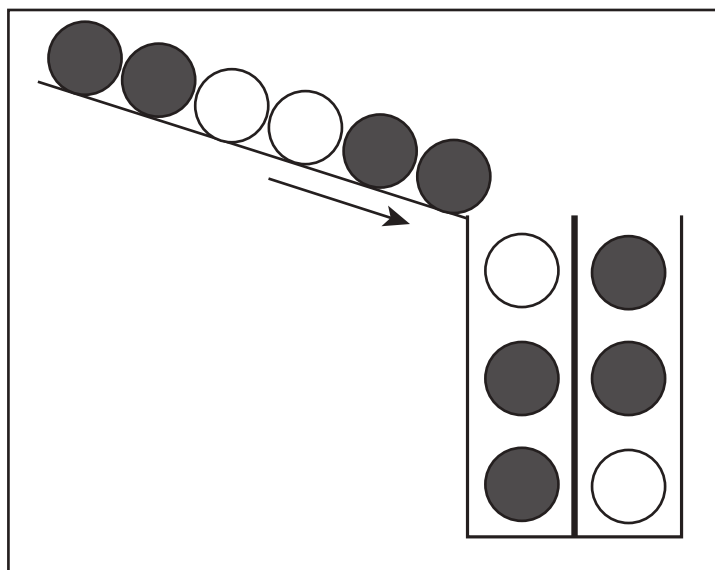


# おうちで、やろう。

Study at home. 小学校受験の家庭学習教材

## 推理：条件推理5

坂道をボールが転がってきます。坂道から近い箱にボールが3個ずつ入っていくとき、箱のどの場所にボールが入るのかを考えてかきま



※1. このプリントは、しながわ・目黒こどもスクールのウェブサイトでダウンロードができます。無断複写・引用はご遠慮ください。  
※2. このプリントを活用したオンライン授業のスケジュールは、しながわ・目黒こどもスクールのウェブサイトでご確認ください。



# おうちで、やろう。

Study at home. 小学校受験の家庭学習教材

数量：合わせた数1

左の白い星と右の灰色の星が合わせて8になるように点と点を線で結びます。

The diagram shows a matching exercise. On the left, there are 10 boxes with white stars. On the right, there are 10 boxes with grey stars. Lines connect the boxes to show the correct pairings. The connections are: (1,4), (2,10), (3,9), (4,8), (5,7), (6,5), (7,3), (8,2), (9,6), (10,1).

※1. このプリントは、しながわ・目黒こどもスクールのウェブサイトでダウンロードができます。無断複写・引用はご遠慮ください。

※2. このプリントを活用したオンライン授業のスケジュールは、しながわ・目黒こどもスクールのウェブサイトでご確認ください。





# おうちで、やろう。

Study at home. 小学校受験の家庭学習教材

数量：合わせた数 2

左の白い星と右の灰色の星が合わせて 10 になるように点と点を線で結びます。

8 white stars	2 grey stars
7 white stars	3 grey stars
5 white stars	5 grey stars
3 white stars	7 grey stars
2 white stars	8 grey stars

※1. このプリントは、しながわ・目黒こどもスクールのウェブサイトでダウンロードができます。無断複写・引用はご遠慮ください。  
※2. このプリントを活用したオンライン授業のスケジュールは、しながわ・目黒こどもスクールのウェブサイトでご確認ください。