


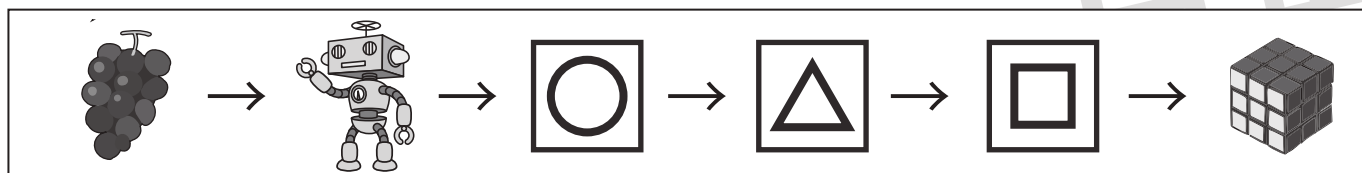
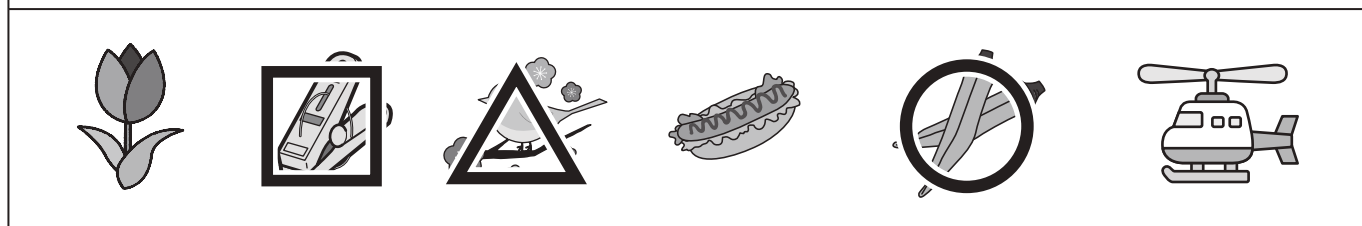
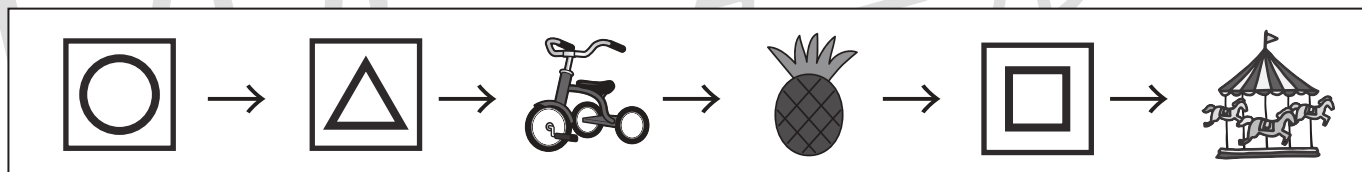

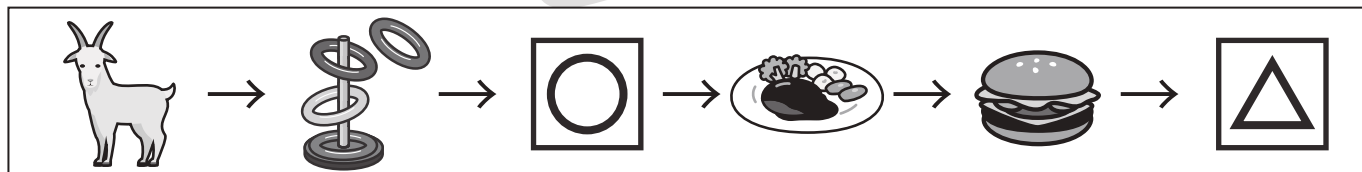
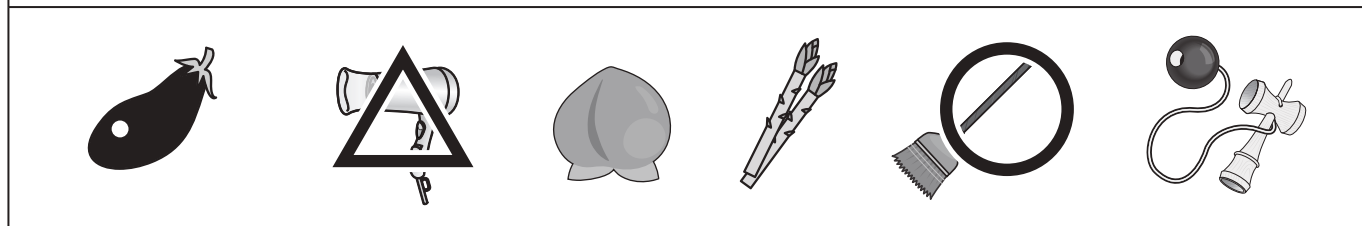
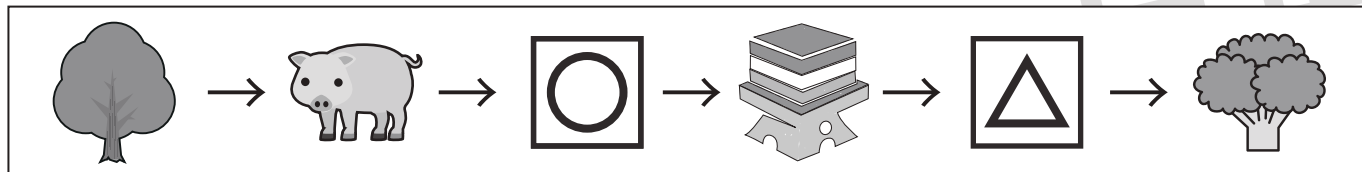


# おうちで、やろう。

Study at home. 小学校受験の家庭学習教材

## 言語：音の数 16

左から順番に絵の音の数が1つずつ増えていきます。空いている所に入る絵を下から見つけて、四角の中の記号をつけます。



※1. このプリントは、しながわ・目黒こどもスクールのウェブサイトでダウンロードができます。無断複写・引用はご遠慮ください。

※2. このプリントを活用したオンライン授業のスケジュールは、しながわ・目黒こどもスクールのウェブサイトでご確認ください。

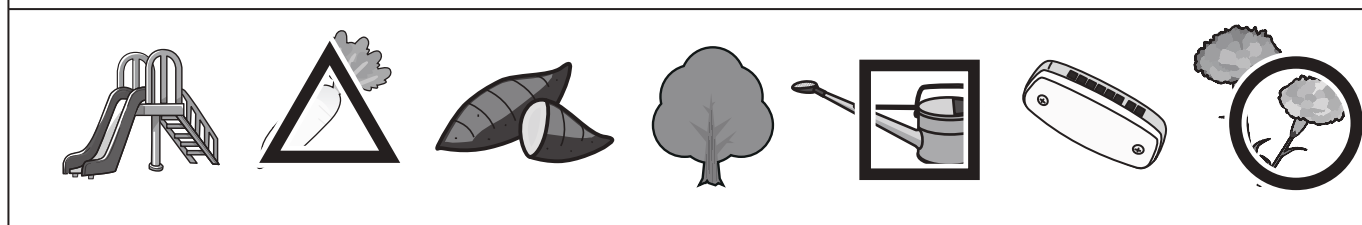
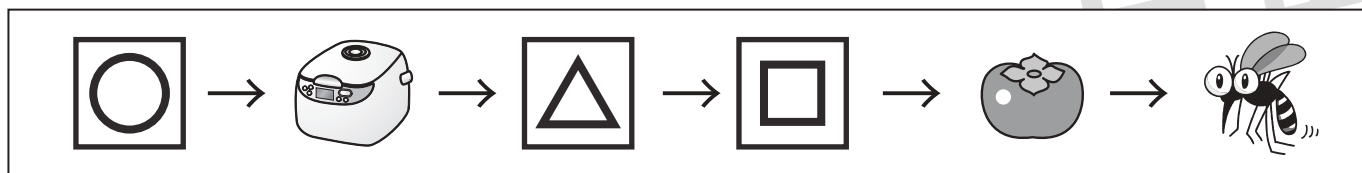
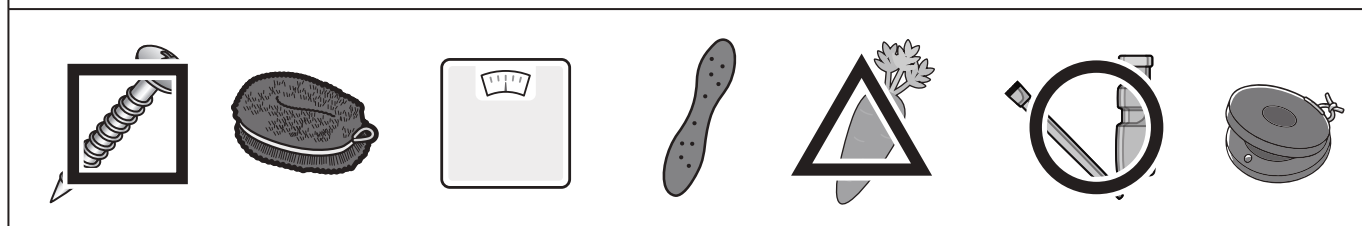
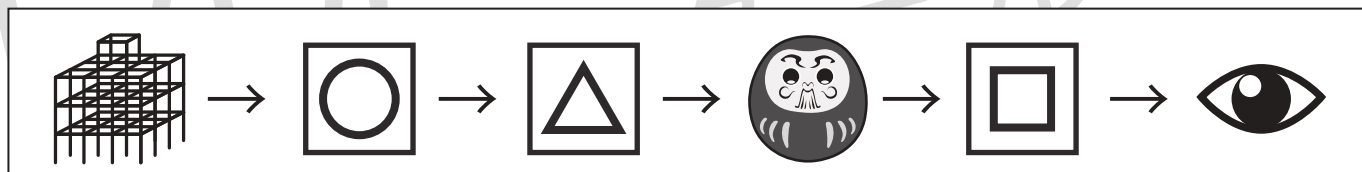




# おうちで、やろう。

Study at home. 小学校受験の家庭学習教材

言語：音の数 17

左から順番に絵の音の数が1つずつ減っていきます。空いている所に入る絵を下から見つけて、四角の中の記号をつけます。



※1. このプリントは、しながわ・目黒こどもスクールのウェブサイトダウンロードができます。無断複写・引用はご遠慮ください。

※2. このプリントを活用したオンライン授業のスケジュールは、しながわ・目黒こどもスクールのウェブサイトでご確認ください。












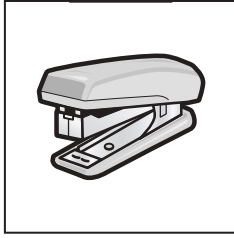
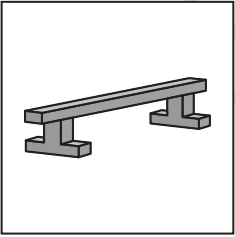






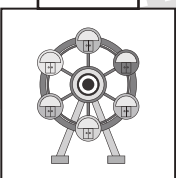


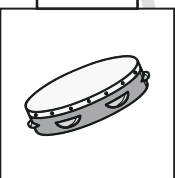


# おうちで、やろう。

Study at home. 小学校受験の家庭学習教材

言語：音の数 18

音の数が1つ前の四角の中の絵より増えた場合は○を、音の数が減った場合は×を、音の数が同じ場合は△を、それぞれの絵の上の四角にかきます。

	→		→		→		→			
		×		○		○		△		
	→		→		→		→			
		△		△		×		○		
	→		→		→		→			
		×		△		×		×		
	→		→		→		→		→	
		○		○		×		○		△

※1. このプリントは、しながわ・目黒こどもスクールのウェブサイトからダウンロードできます。無断複写・引用はご遠慮ください。  
 ※2. このプリントを活用したオンライン授業のスケジュールは、しながわ・目黒こどもスクールのウェブサイトでご確認ください。

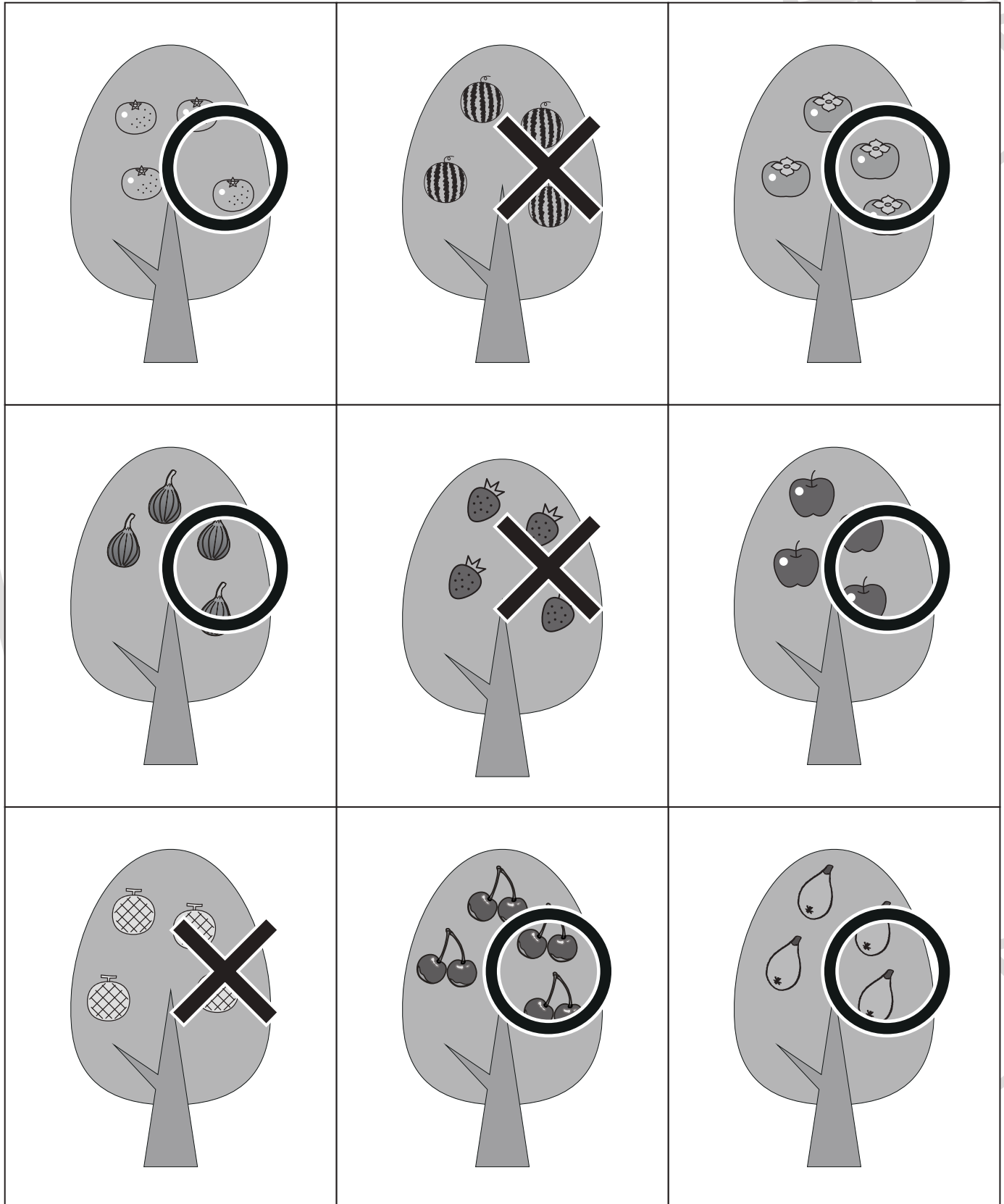


# おうちで、やろう。

Study at home. 小学校受験の家庭学習教材

## 推理：果物 3

下の四角の中で、木になる果物には○を、木にならない果物には×を、それぞれの木の上につけます。



※1. このプリントは、しながわ・目黒こどもスクールのウェブサイトからダウンロードできます。無断複写・引用はご遠慮ください。

※2. このプリントを活用したオンライン授業のスケジュールは、しながわ・目黒こどもスクールのウェブサイトでご確認ください。

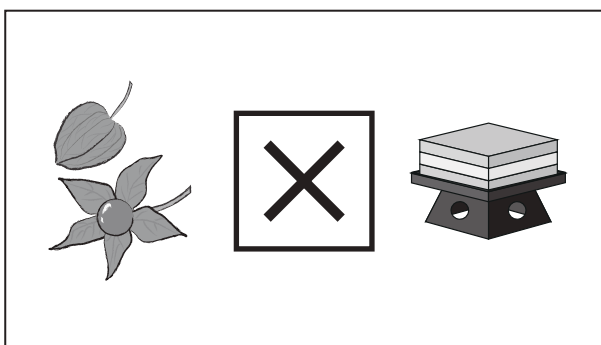

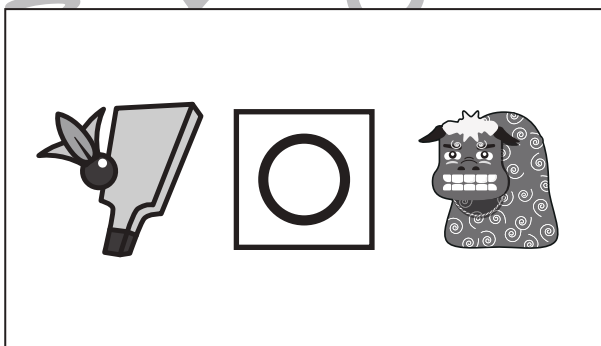

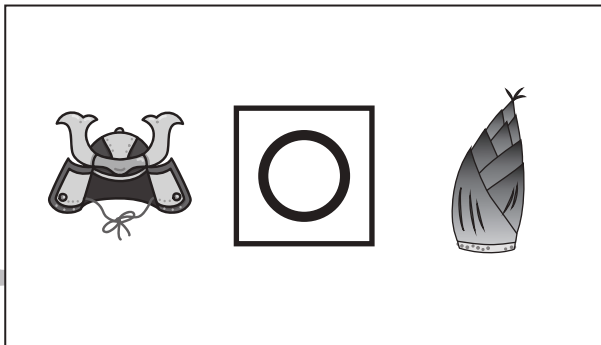






# おうちで、やろう。

Study at home. 小学校受験の家庭学習教材

## 常識：季節9

四角の中の2つの絵の季節が同じときは○を、違うときは×を、真ん中の太い四角の中にかきます。



※1. このプリントは、しながわ・目黒こどもスクールのウェブサイトからダウンロードできます。無断複写・引用はご遠慮ください。  
※2. このプリントを活用したオンライン授業のスケジュールは、しながわ・目黒こどもスクールのウェブサイトでご確認ください。



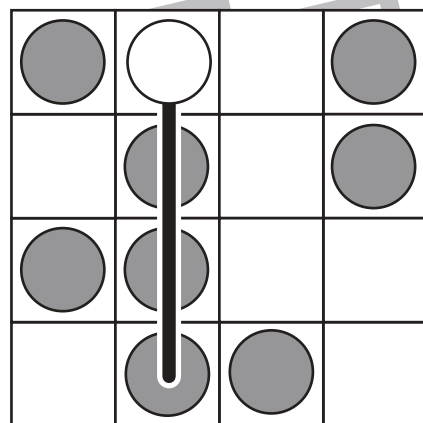
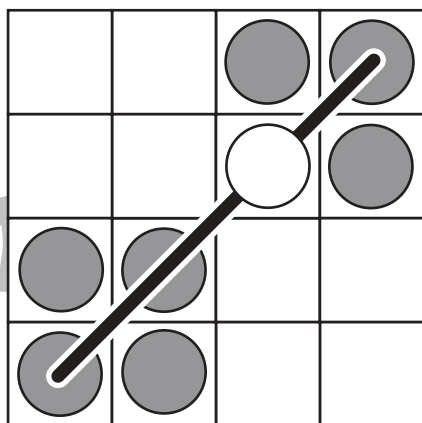
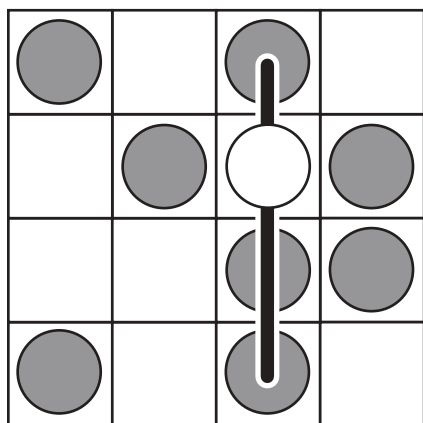
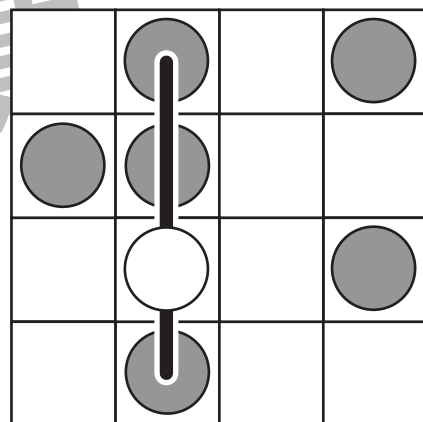
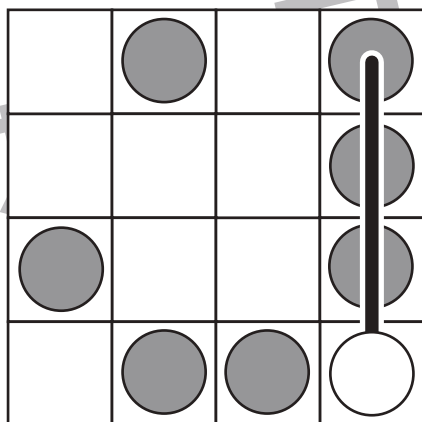
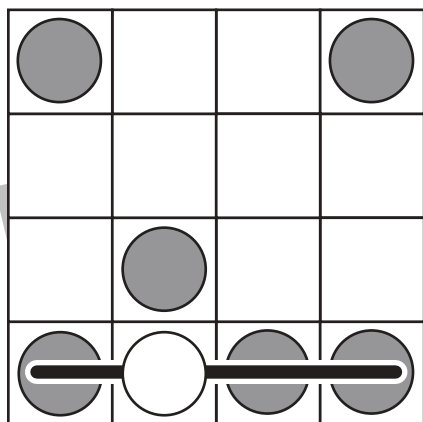
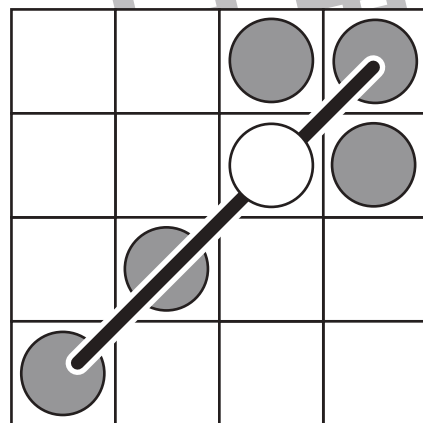
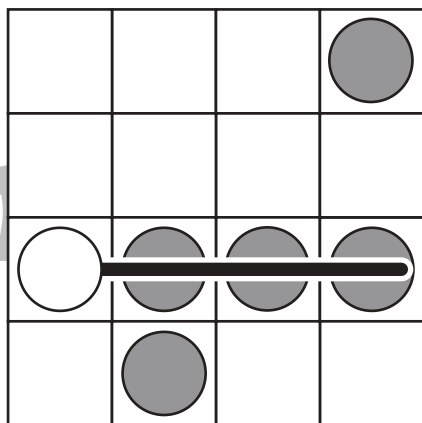
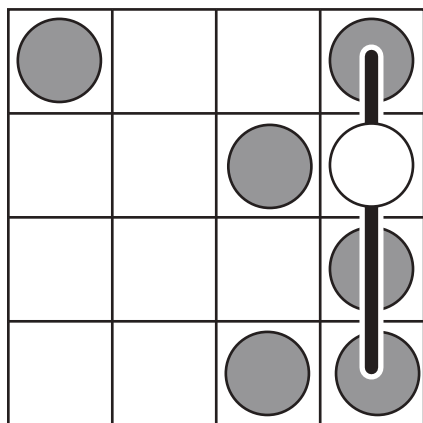


# おうちで、やろう。

Study at home. 小学校受験の家庭学習教材

## 図形：ビンゴ4

空いているどこかのマスに丸を1つだけかくと縦・横・斜めのどこかに4つの丸がある列ができます。  
空いているマスに1つだけ丸をかきます。



※1. このプリントは、しながわ・目黒こどもスクールのウェブサイトでダウンロードができます。無断複写・引用はご遠慮ください。  
※2. このプリントを活用したオンライン授業のスケジュールは、しながわ・目黒こどもスクールのウェブサイトでご確認ください。






# おうちで、やろう。

Study at home. 小学校受験の家庭学習教材

数量：計数 23

四角の中にある絵を数えます。それぞれの数だけ〇を下の四角に書きましょう。かぞえない絵も混ざっていますので、注意して探しましょう。



○ × 7



○ × 6



○ × 8



○ × 11

※1. このプリントは、しながわ・目黒こどもスクールのウェブサイトでダウンロードができます。無断複写・引用はご遠慮ください。

※2. このプリントを活用したオンライン授業のスケジュールは、しながわ・目黒こどもスクールのウェブサイトでご確認ください。







# おうちで、やろう。

Study at home. 小学校受験の家庭学習教材

数量：余る数3

左の四角の中にお友だちが真ん中の大きな四角の中のクッキーを同じ数になるように分けます。このとき、余るクッキーの数だけ右の四角に○をかきます。ぴったり分けることができるときは△を1つかきます。

		$\bigcirc \times 1$
		$\bigcirc \times 1$
		$\bigcirc \times 1$

※1. このプリントは、しながわ・目黒こどもスクールのウェブサイトでダウンロードができます。無断複写・引用はご遠慮ください。

※2. このプリントを活用したオンライン授業のスケジュールは、しながわ・目黒こどもスクールのウェブサイトでご確認ください。





# おうちで、やろう。

Study at home. 小学校受験の家庭学習教材

数量：余る数 4

左の四角の中にお友だちが真ん中の大きな四角の中のクッキーを4枚ずつ、みんな同じ数になるように分けます。このとき、余るクッキーの数だけ右の四角に○をかきます。

		$\bigcirc \times 2$
		$\bigcirc \times 1$
		$\bigcirc \times 3$
		$\bigcirc \times 2$
		$\bigcirc \times 1$

※1. このプリントは、しながわ・目黒こどもスクールのウェブサイトでダウンロードができます。無断複写・引用はご遠慮ください。

※2. このプリントを活用したオンライン授業のスケジュールは、しながわ・目黒こどもスクールのウェブサイトでご確認ください。