


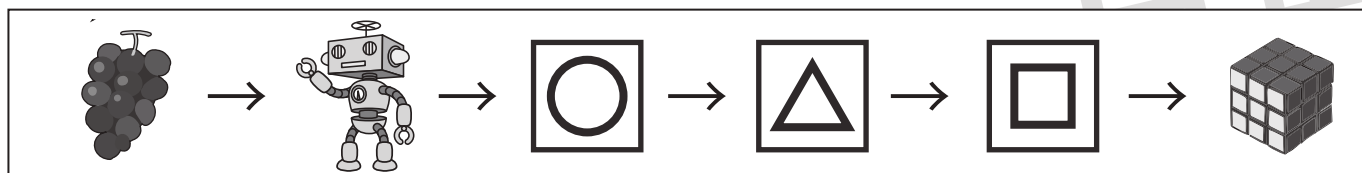
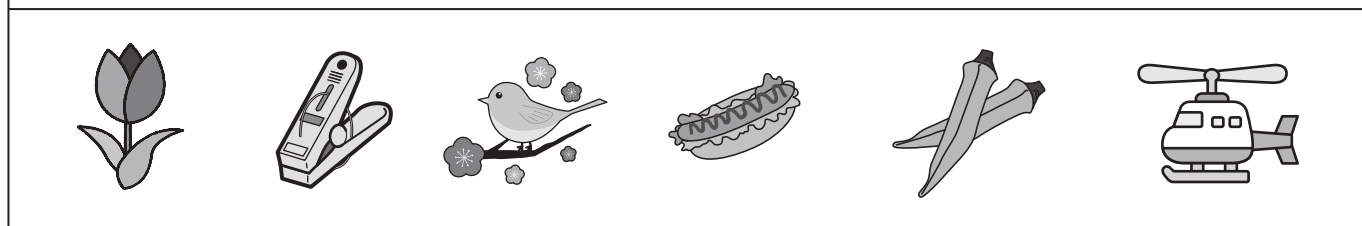
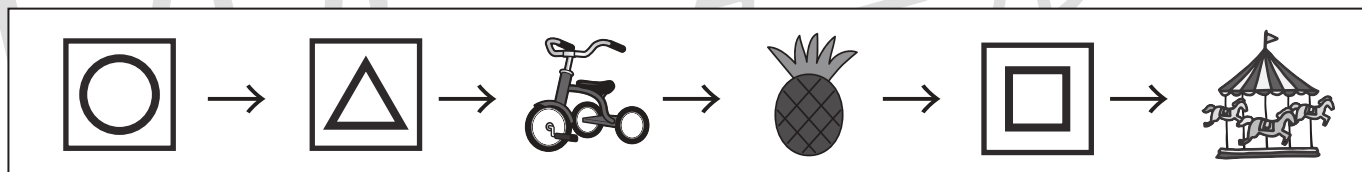

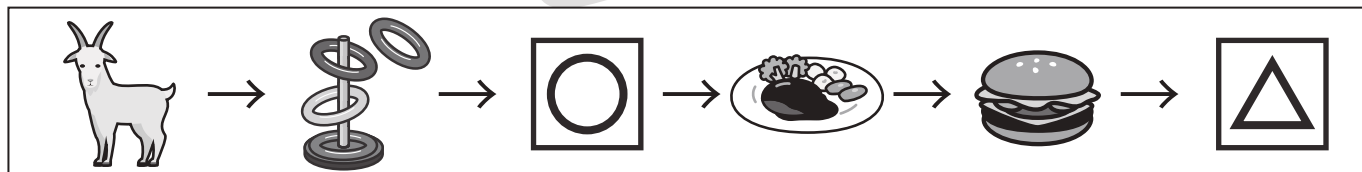
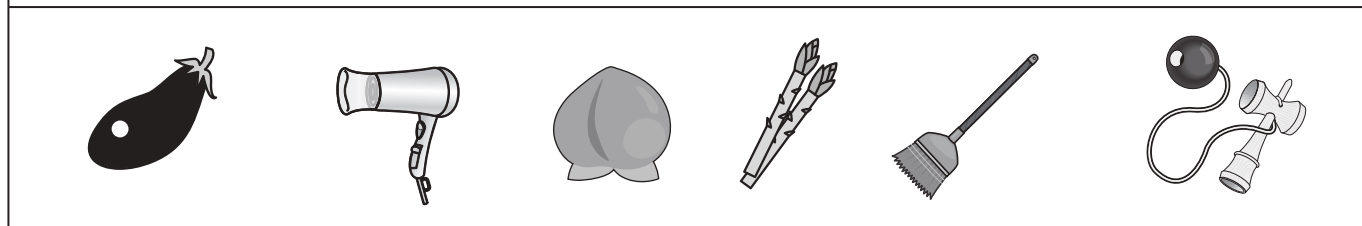
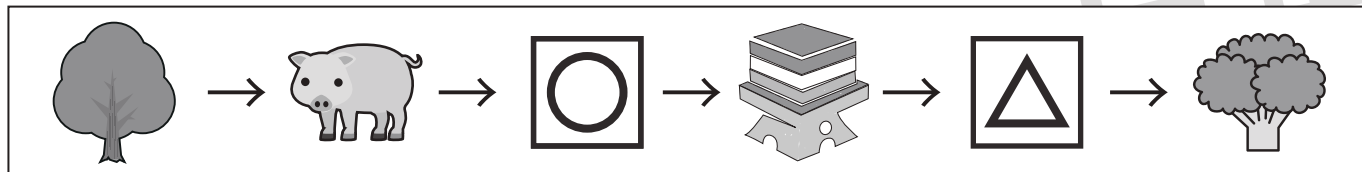


おうちで、やろう。

Study at home. 小学校受験の家庭学習教材

言語：音の数 16

左から順番に絵の音の数が1つずつ増えていきます。空いている所に入る絵を下から見つけて、四角の中の記号をつけます。



※1. このプリントは、しながわ・目黒こどもスクールのウェブサイトでダウンロードができます。無断複写・引用はご遠慮ください。

※2. このプリントを活用したオンライン授業のスケジュールは、しながわ・目黒こどもスクールのウェブサイトでご確認ください。

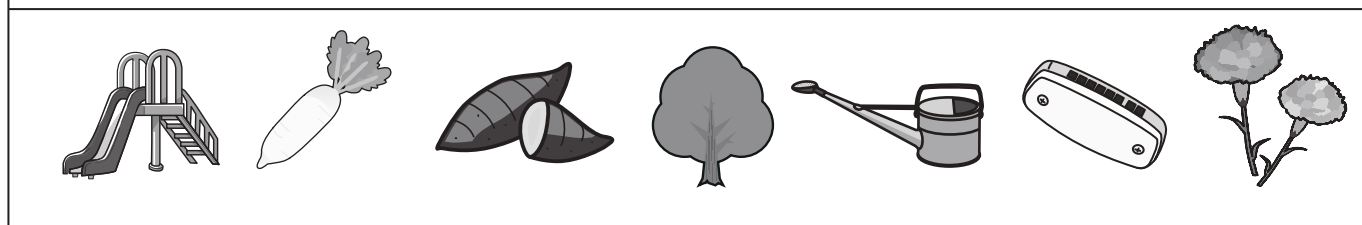
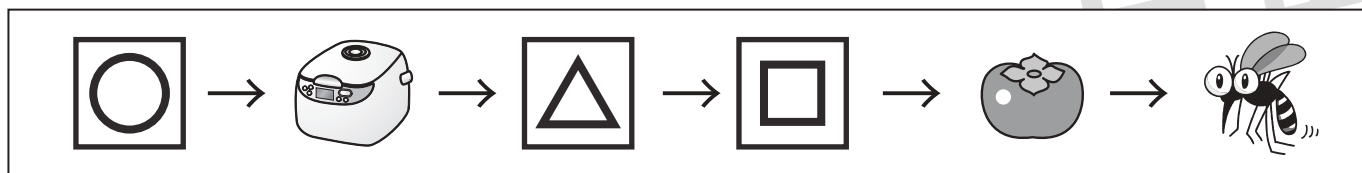
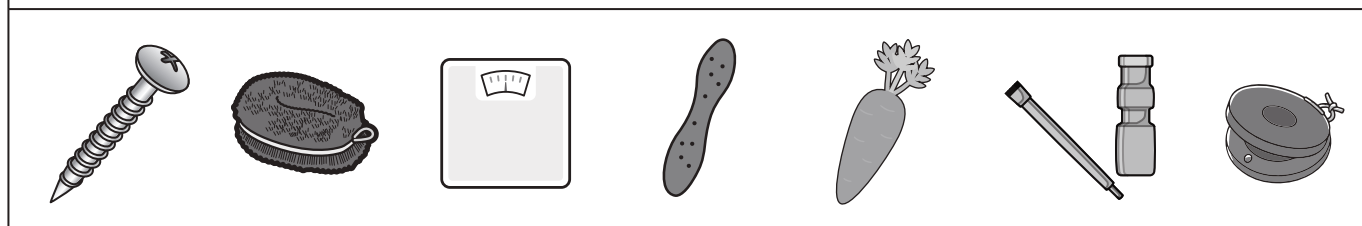
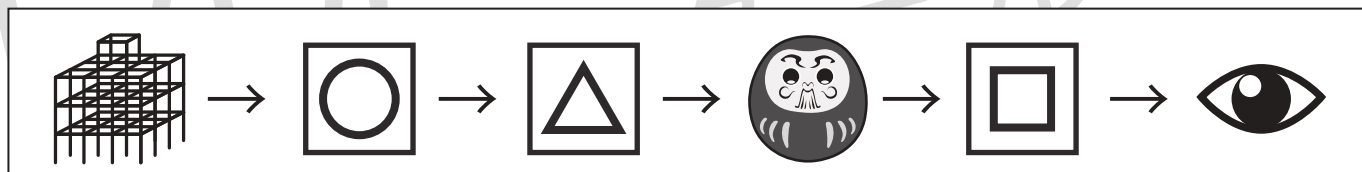



おうちで、やろう。

Study at home. 小学校受験の家庭学習教材

言語：音の数 17

左から順番に絵の音の数が1つずつ減っていきます。空いている所に入る絵を下から見つけて、四角の中の記号をつけます。



※1. このプリントは、しながわ・目黒こどもスクールのウェブサイトからダウンロードできます。無断複写・引用はご遠慮ください。

※2. このプリントを活用したオンライン授業のスケジュールは、しながわ・目黒こどもスクールのウェブサイトでご確認ください。


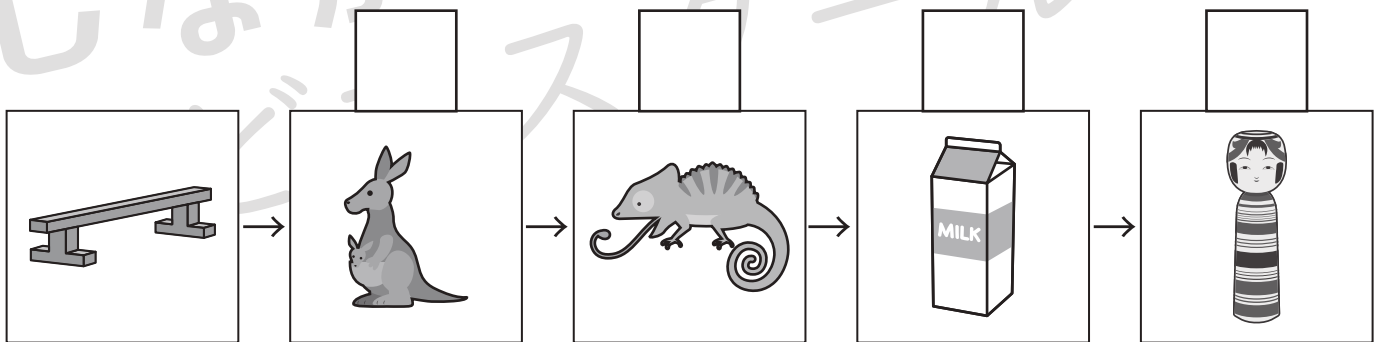
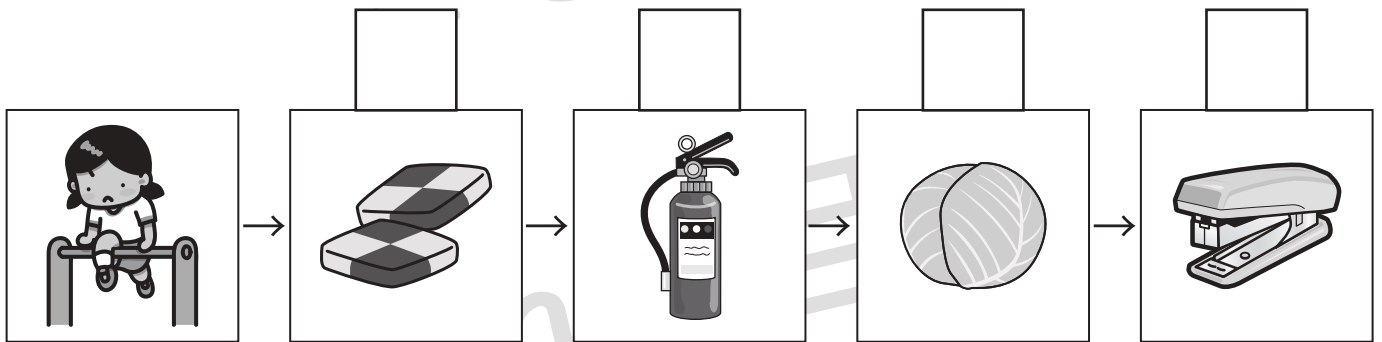
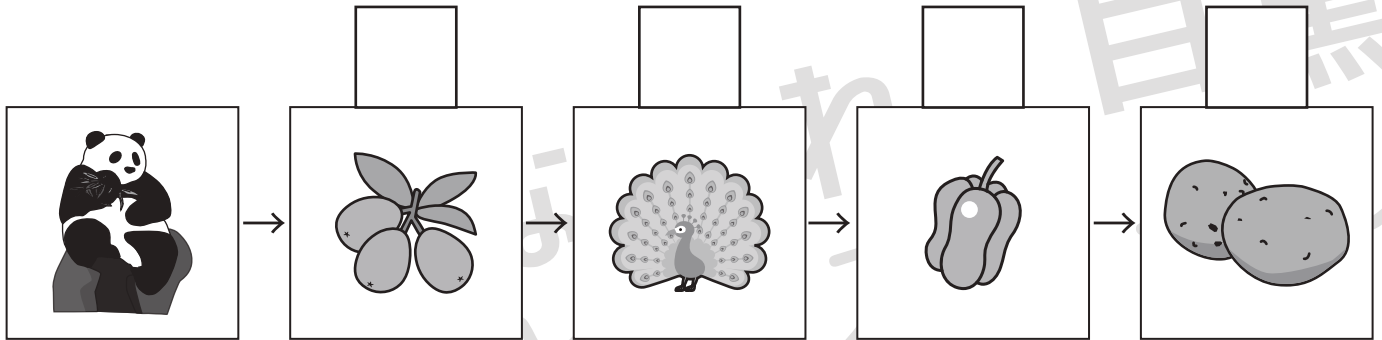


おうちで、やろう。

Study at home. 小学校受験の家庭学習教材

言語：音の数 18

音の数が1つ前の四角の中の絵より増えた場合は○を、音の数が減った場合は×を、音の数が同じ場合は△を、それぞれの絵の上の四角にかきます。



※1. このプリントは、しながわ・目黒こどもスクールのウェブサイトからダウンロードできます。無断複写・引用はご遠慮ください。
 ※2. このプリントを活用したオンライン授業のスケジュールは、しながわ・目黒こどもスクールのウェブサイトでご確認ください。




おうちで、やろう。

Study at home. 小学校受験の家庭学習教材

推理：果物 3

下の四角の中で、木になる果物には○を、木にならない果物には×を、それぞれの木の上につけます。



※1. このプリントは、しながわ・目黒こどもスクールのウェブサイトからダウンロードできます。無断複写・引用はご遠慮ください。
※2. このプリントを活用したオンライン授業のスケジュールは、しながわ・目黒こどもスクールのウェブサイトでご確認ください。

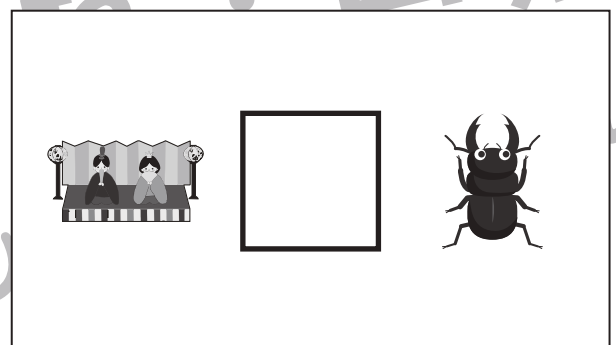
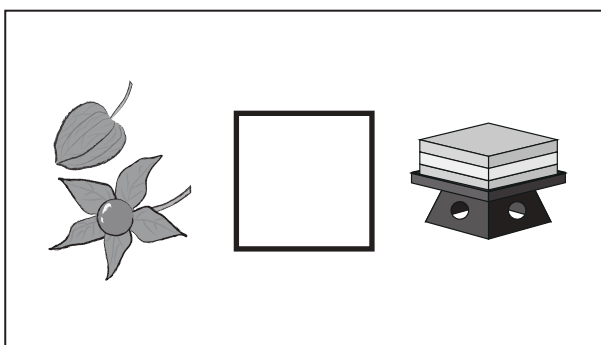

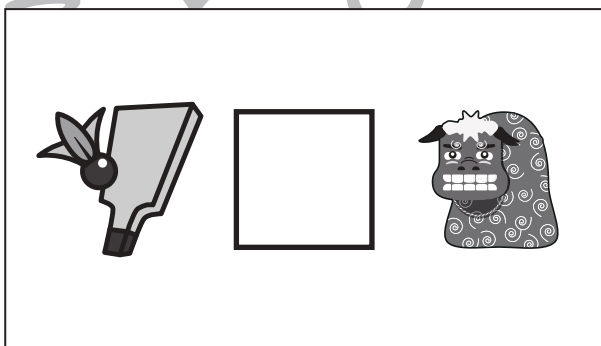

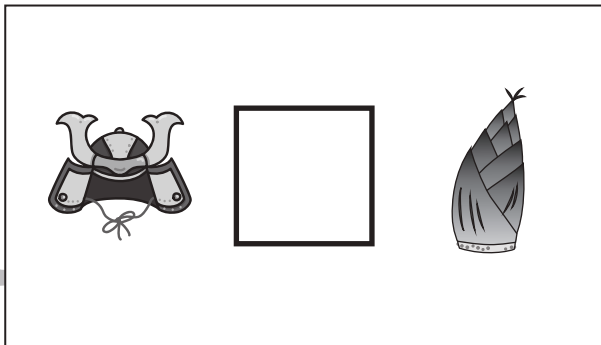






おうちで、やろう。

Study at home. 小学校受験の家庭学習教材

常識：季節9

四角の中の2つの絵の季節が同じときは○を、違うときは×を、真ん中の太い四角の中にかきます。



※1. このプリントは、しながわ・目黒こどもスクールのウェブサイトからダウンロードできます。無断複写・引用はご遠慮ください。
※2. このプリントを活用したオンライン授業のスケジュールは、しながわ・目黒こどもスクールのウェブサイトでご確認ください。

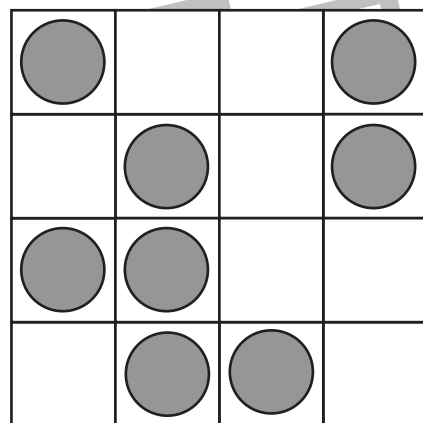
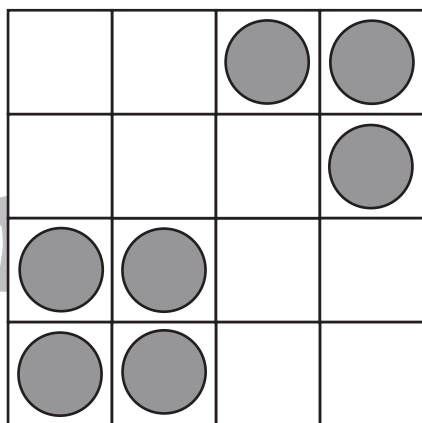
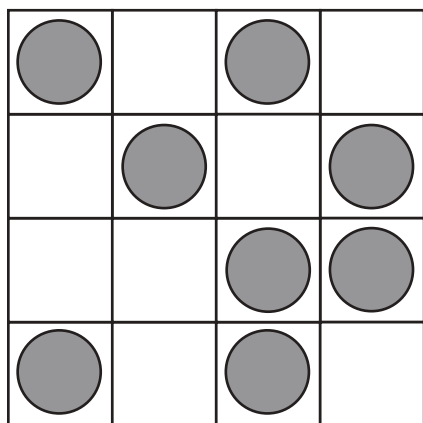
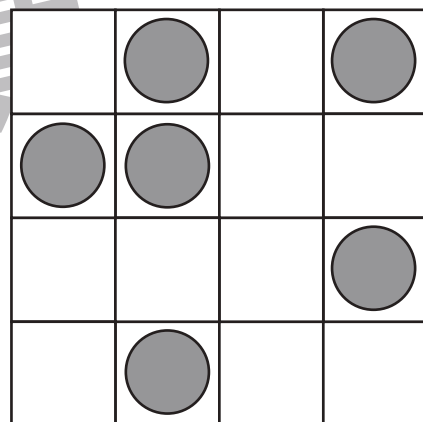
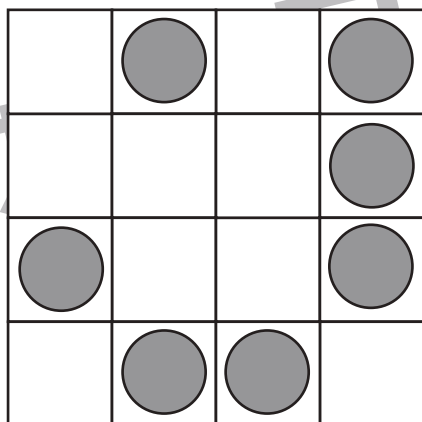
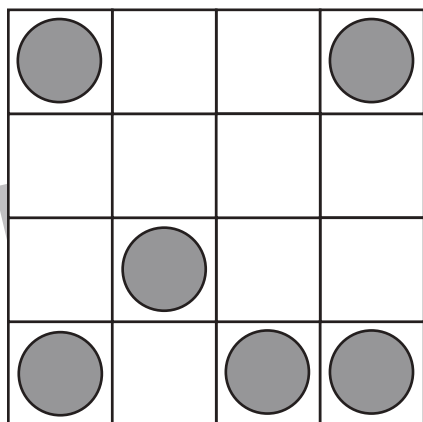
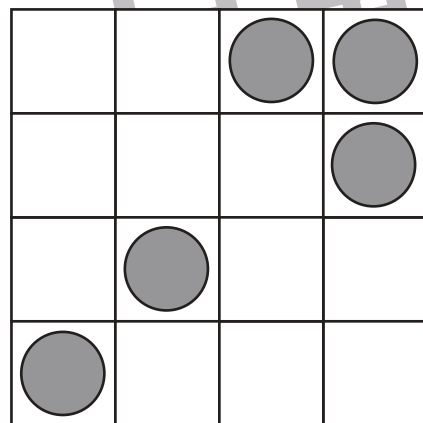
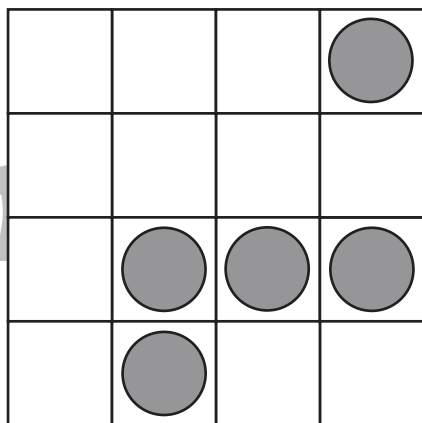
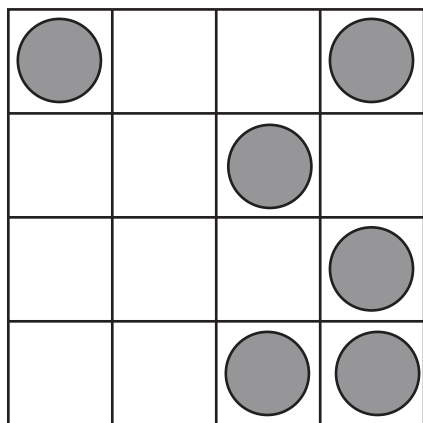


おうちで、やろう。

Study at home. 小学校受験の家庭学習教材

図形：ビンゴ4

空いているどこかのマスに丸を1つだけかくと縦・横・斜めのどこかに4つの丸がある列ができます。
空いているマスに1つだけ丸をかきます。



※1. このプリントは、しながわ・目黒こどもスクールのウェブサイトでダウンロードができます。無断複写・引用はご遠慮ください。
※2. このプリントを活用したオンライン授業のスケジュールは、しながわ・目黒こどもスクールのウェブサイトでご確認ください。






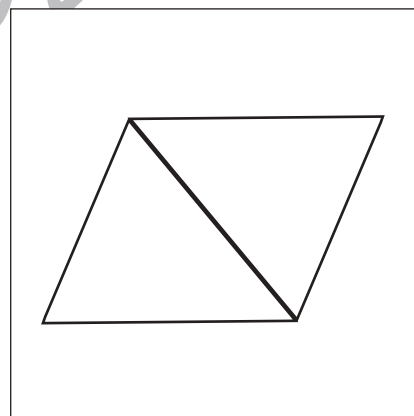





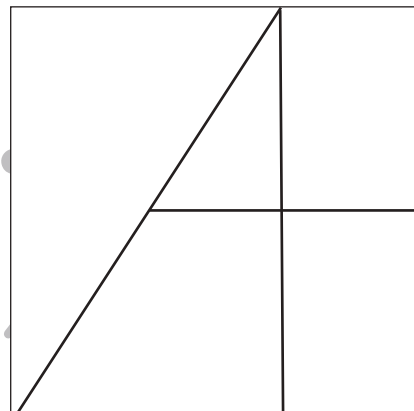
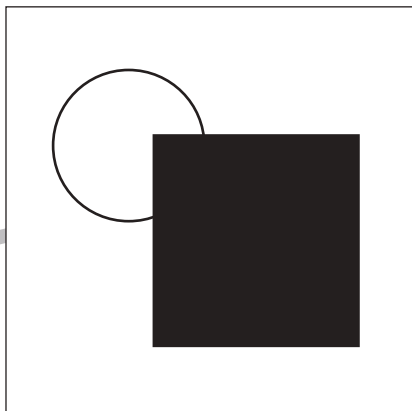



おうちで、やろう。

Study at home. 小学校受験の家庭学習教材

図形：模写 4

上のお手本を見ながら、下の四角に同じ形をかきます。(この問題に解答はありません)



※1. このプリントは、しながわ・目黒こどもスクールのウェブサイトでダウンロードができます。無断複写・引用はご遠慮ください。
※2. このプリントを活用したオンライン授業のスケジュールは、しながわ・目黒こどもスクールのウェブサイトでご確認ください。



おうちで、やろう。

Study at home. 小学校受験の家庭学習教材

数量：余る数3

左の四角の中にお友だちが真ん中の大きな四角の中のクッキーを同じ数になるように分けます。このとき、余るクッキーの数だけ右の四角に○をかきます。ぴったり分けることができるときは△を1つかきます。

※1. このプリントは、しながわ・目黒こどもスクールのウェブサイトでダウンロードができます。無断複写・引用はご遠慮ください。

※2. このプリントを活用したオンライン授業のスケジュールは、しながわ・目黒こどもスクールのウェブサイトでご確認ください。



おうちで、やろう。

Study at home. 小学校受験の家庭学習教材

数量：余る数 4

左の四角の中にお友だちが真ん中の大きな四角の中のクッキーを4枚ずつ、みんな同じ数になるように分けます。このとき、余るクッキーの数だけ右の四角に○をかきます。

※1. このプリントは、しながわ・目黒こどもスクールのウェブサイトからダウンロードできます。無断複写・引用はご遠慮ください。
 ※2. このプリントを活用したオンライン授業のスケジュールは、しながわ・目黒こどもスクールのウェブサイトでご確認ください。




おうちで、やろう。

Study at home. 小学校受験の家庭学習教材

数量：計数 23

四角の中にある絵を数えます。それぞれの数だけ〇を下の四角に書きましょう。かぞえない絵も混ざっていますので、注意して探しましょう。



※1. このプリントは、しながわ・目黒こどもスクールのウェブサイトでダウンロードができます。無断複写・引用はご遠慮ください。

※2. このプリントを活用したオンライン授業のスケジュールは、しながわ・目黒こどもスクールのウェブサイトでご確認ください。

