



おうちで、やろう。

Study at home. 小学校受験の家庭学習教材

指示の聞き取り 8


それぞれの設問に答えましょう。指示は1度ですべて読み上げます。しっかり聞いて取り組みましょう。

- ①鉛筆で左から右へ向かって○→×→△の順番で3回かきます。枠の中に入るように大きさにも注意しましょう。
- ②鉛筆で左から右へ向かって×→○→×の順番で3回かきます。枠の中に入るように大きさにも注意しましょう。
- ③鉛筆で左から右へ向かって△→□→×の順番で3回かきます。枠の中に入るように大きさにも注意しましょう。
- ④鉛筆で左から右へ向かって×→○→○→◎の順番で3回かきます。枠の中に入るように大きさにも注意しましょう。

①



②



③



④



※1. このプリントは、しながわ・目黒こどもスクールのウェブサイトでダウンロードができます。無断複写・引用はご遠慮ください。
 ※2. このプリントを活用したオンライン授業のスケジュールは、しながわ・目黒こどもスクールのウェブサイトでご確認ください。

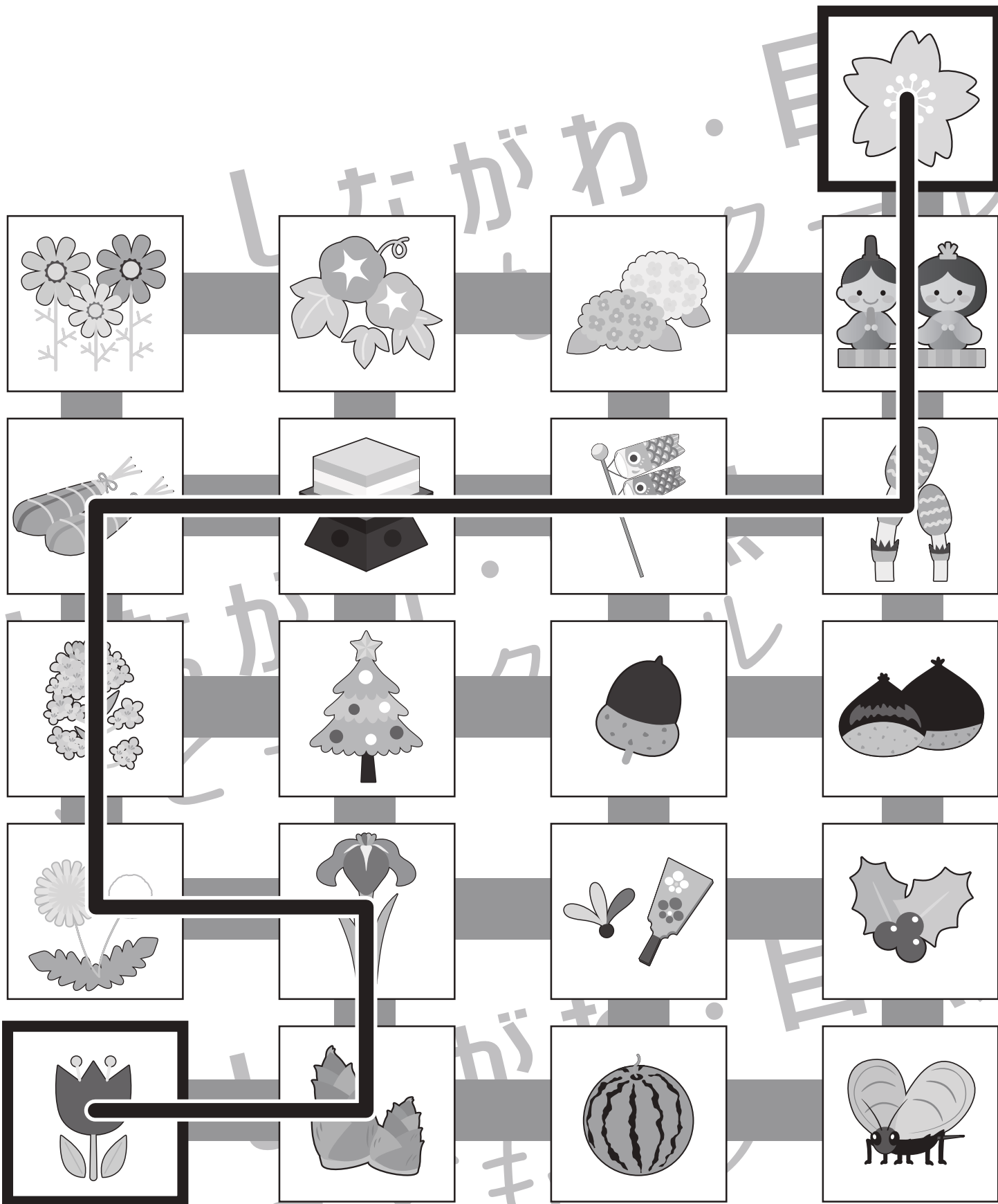


おうちで、やろう。

Study at home. 小学校受験の家庭学習教材

常識：季節 10

右上の桜から、左下のチューリップまで、春の季節のものだけをすべて通って進み、線をひきます。



※1. このプリントは、しながわ・目黒こどもスクールのウェブサイトからダウンロードできます。無断複写・引用はご遠慮ください。
 ※2. このプリントを活用したオンライン授業のスケジュールは、しながわ・目黒こどもスクールのウェブサイトでご確認ください。



おうちで、やろう。

Study at home. 小学校受験の家庭学習教材

図形：移動 17

上のパズルが矢印の向きにそのまま下に落ちます。すべてのパズルが下に落ちたとき、灰色になる場所を考えて塗ります。

※1. このプリントは、しながわ・目黒こどもスクールのウェブサイトでダウンロードができます。無断複写・引用はご遠慮ください。
 ※2. このプリントを活用したオンライン授業のスケジュールは、しながわ・目黒こどもスクールのウェブサイトでご確認ください。



おうちで、やろう。

Study at home. 小学校受験の家庭学習教材

図形：移動 18

上のパズルが矢印の向きにそのまま下に落ちます。下の入れ物に黒いマスがあるときはその上に落ちます。すべてのパズルが下に落ちたとき、灰色になる場所を考えて塗ります。

The puzzle consists of four columns of falling pieces. Each piece is a 2x2 square with one white and one grey square. The pieces are arranged in four columns. Arrows point down from each piece to its corresponding position in the grid. The grid shows the pieces falling and the resulting grey and black cells.

※1. このプリントは、しながわ・目黒こどもスクールのウェブサイトでダウンロードができます。無断複写・引用はご遠慮ください。

※2. このプリントを活用したオンライン授業のスケジュールは、しながわ・目黒こどもスクールのウェブサイトでご確認ください。

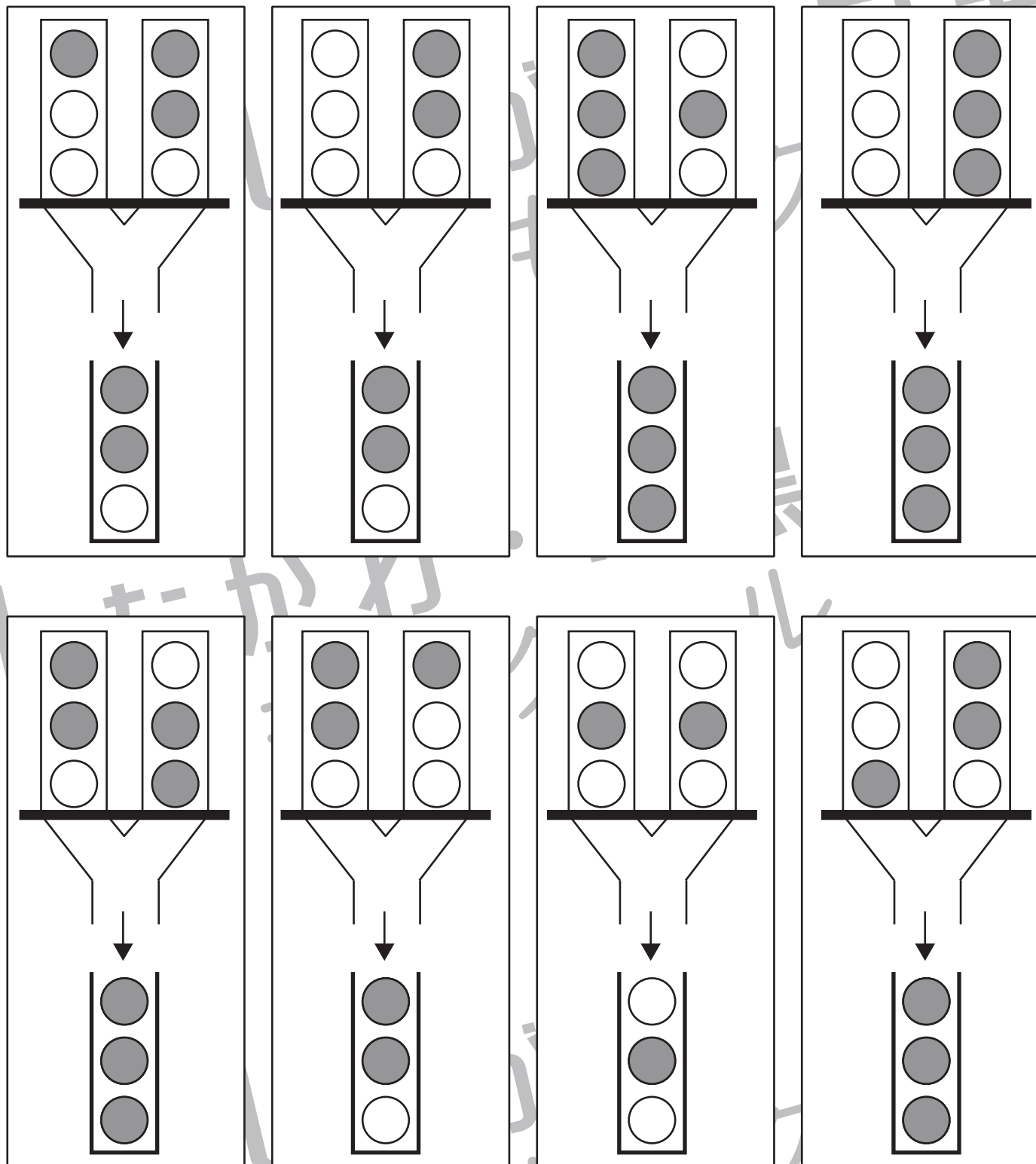


おうちで、やろう。

Study at home. 小学校受験の家庭学習教材

図形：重ね 15

上の2つの入れ物に入っている透明な丸い板を落とします。黒い板を外すと2つ入れ物の丸い板が1つずつ同時に落ちて下の1つの入れ物に入って重なります。全部の板は入って重なった見え方を考えて、灰色になる場所を塗ります。



※1. このプリントは、しながわ・目黒こどもスクールのウェブサイトでダウンロードができます。無断複写・引用はご遠慮ください。
 ※2. このプリントを活用したオンライン授業のスケジュールは、しながわ・目黒こどもスクールのウェブサイトでご確認ください。

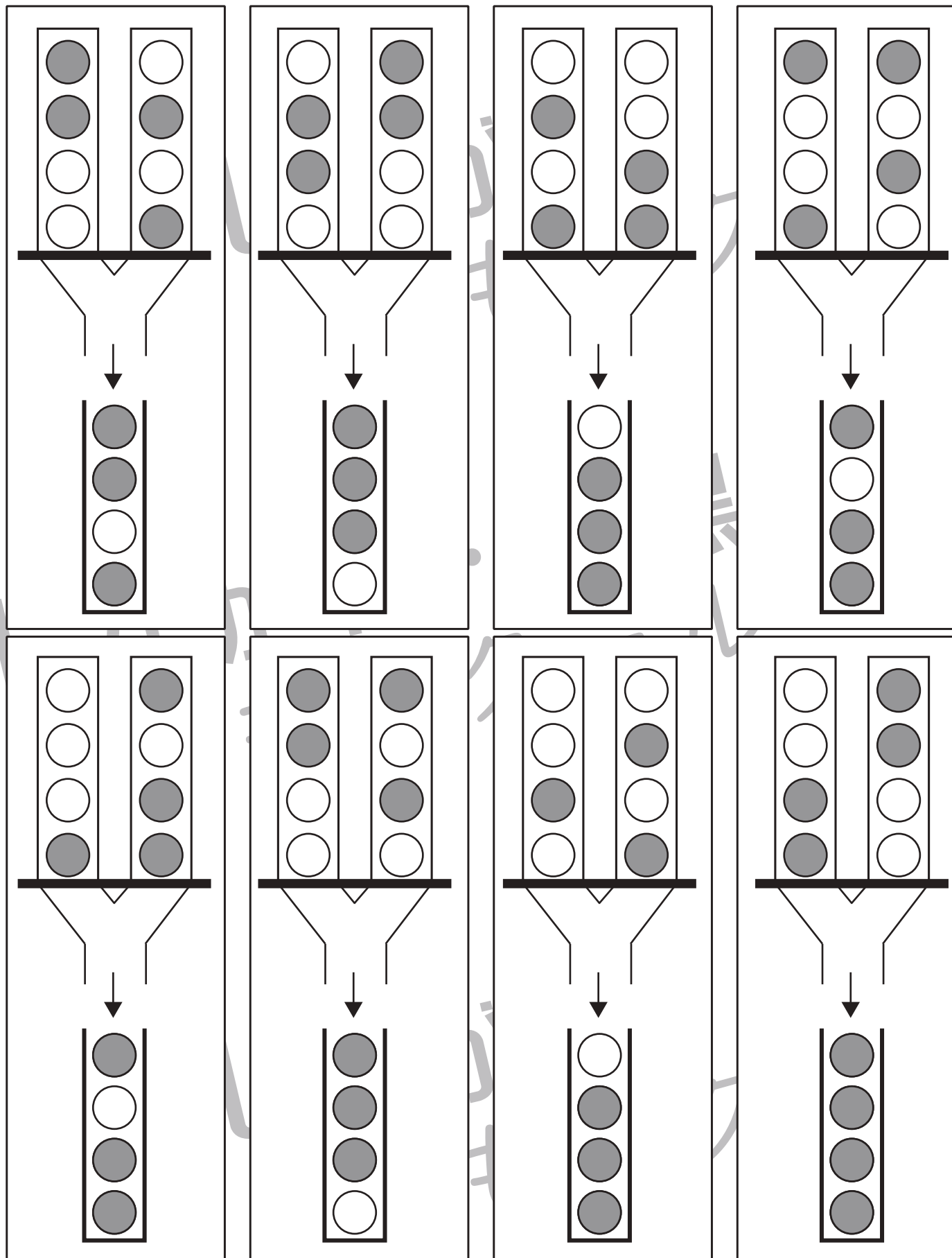


おうちで、やろう。

Study at home. 小学校受験の家庭学習教材

図形：重ね 16

上の2つの入れ物に入っている透明な丸い板を落とします。黒い板を外すと2つ入れ物の丸い板が1つずつ同時に落ちて下の1つの入れ物に入って重なります。全部の板は入って重なった見え方を考えて、灰色になる場所を塗ります。



※1. このプリントは、しながわ・目黒こどもスクールのウェブサイトでダウンロードができます。無断複写・引用はご遠慮ください。

※2. このプリントを活用したオンライン授業のスケジュールは、しながわ・目黒こどもスクールのウェブサイトでご確認ください。

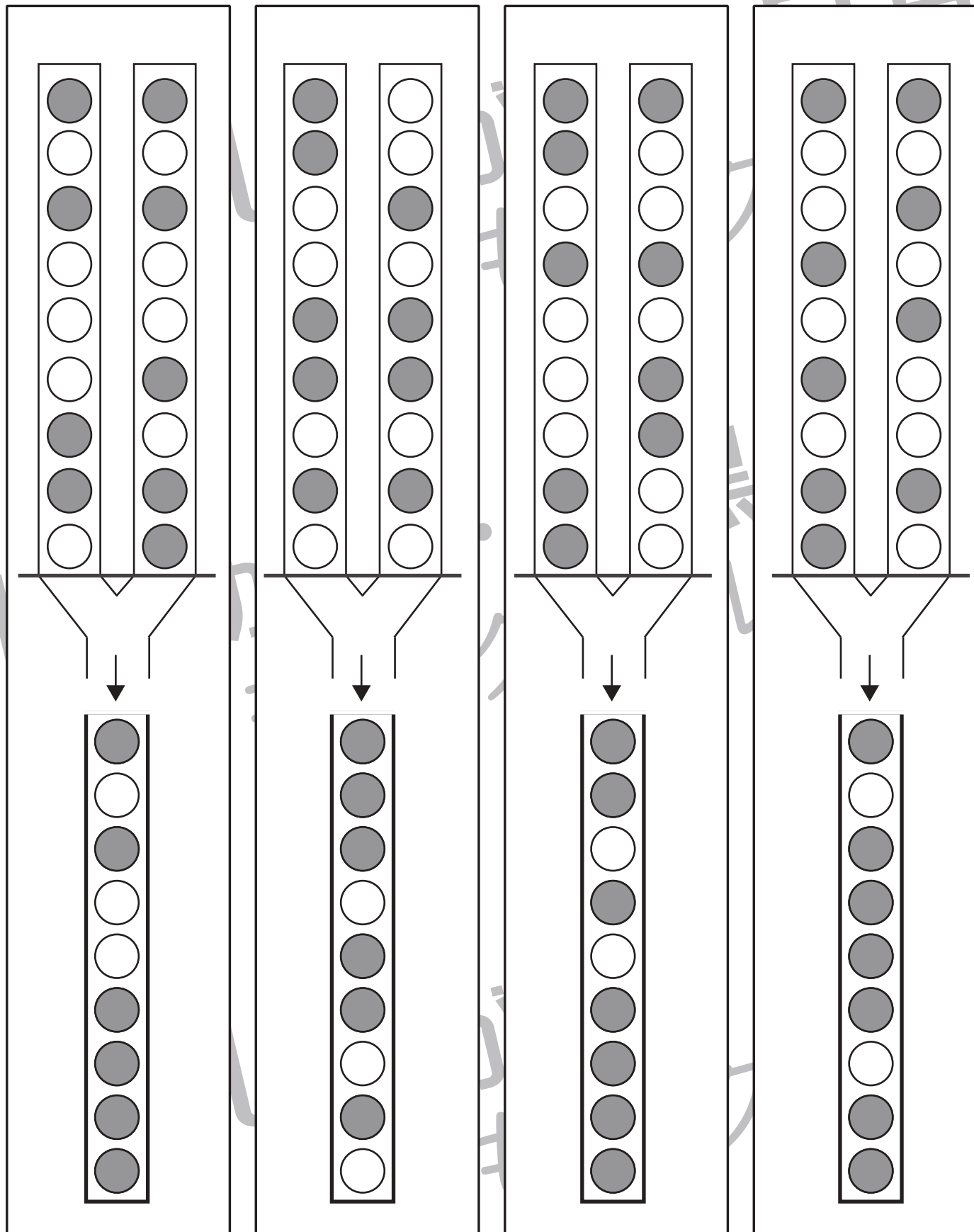


おうちで、やろう。

Study at home. 小学校受験の家庭学習教材

図形：重ね 17

上の2つの入れ物に入っている透明な丸い板を落とします。黒い板を外すと2つ入れ物の丸い板が1つずつ同時に落ちて下の1つの入れ物に入って重なります。全部の板は入って重なった見え方を考えて、灰色になる場所を塗ります。



※1. このプリントは、しながわ・目黒こどもスクールのウェブサイトからダウンロードができます。無断複写・引用はご遠慮ください。

※2. このプリントを活用したオンライン授業のスケジュールは、しながわ・目黒こどもスクールのウェブサイトでご確認ください。



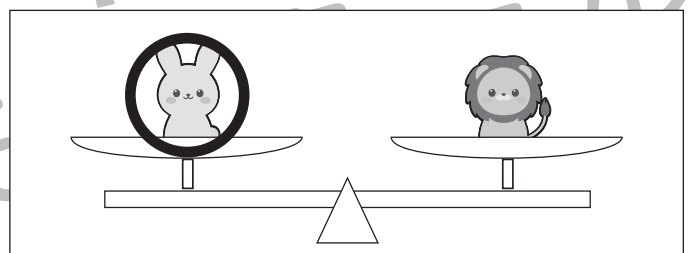

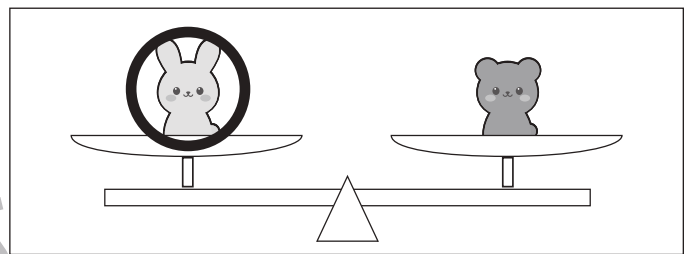
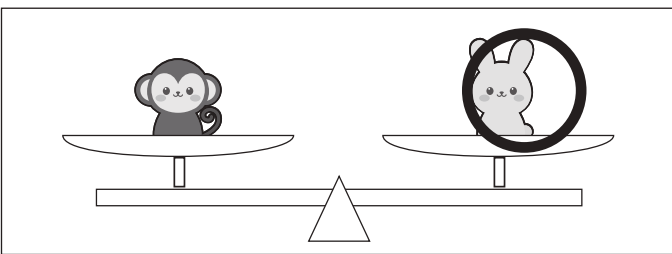
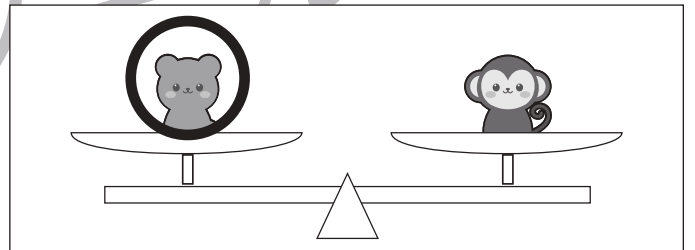
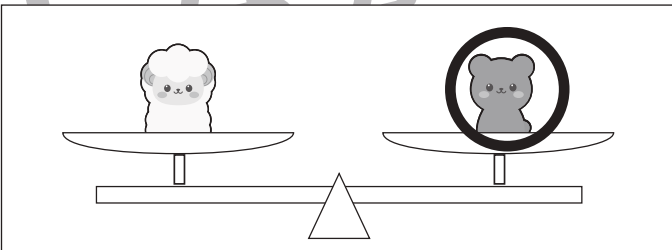
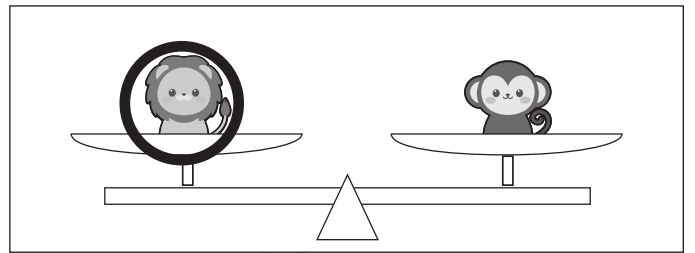
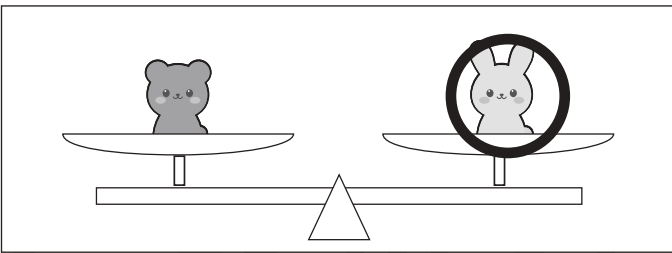

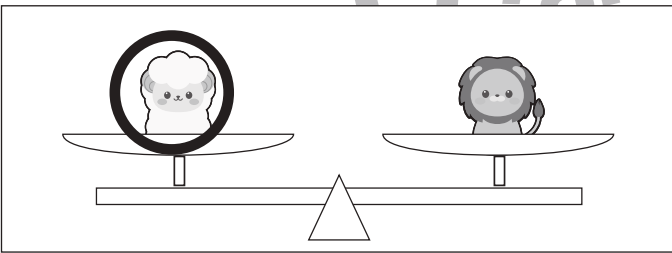


おうちで、やろう。

Study at home. 小学校受験の家庭学習教材

推理：重さ 1

上の四角は動物たちが左から重い順番に並んでいます。一番重いのはウサギ、一番軽いのはサルです。このとき、下のシーソーのように重さ比べをしました。このとき、それぞれのシーソーで下がってしまう動物に○をつけます。



※1. このプリントは、しながわ・目黒こどもスクールのウェブサイトからダウンロードできます。無断複写・引用はご遠慮ください。
 ※2. このプリントを活用したオンライン授業のスケジュールは、しながわ・目黒こどもスクールのウェブサイトでご確認ください。

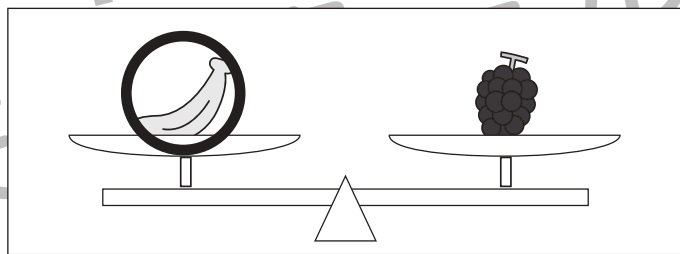

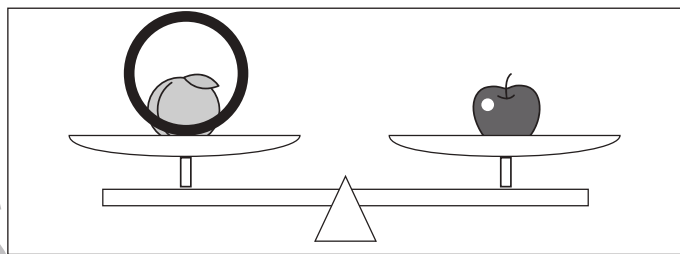
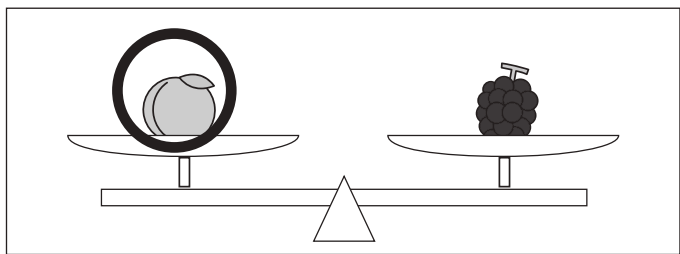

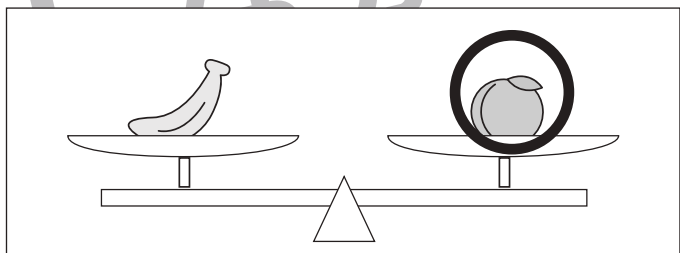
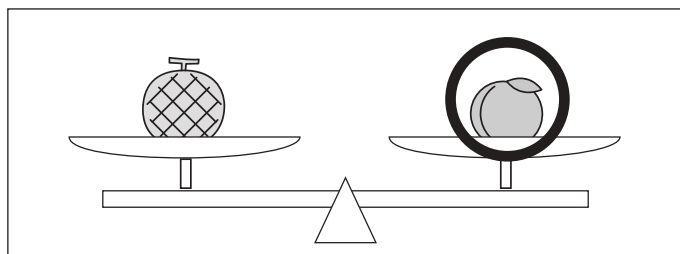
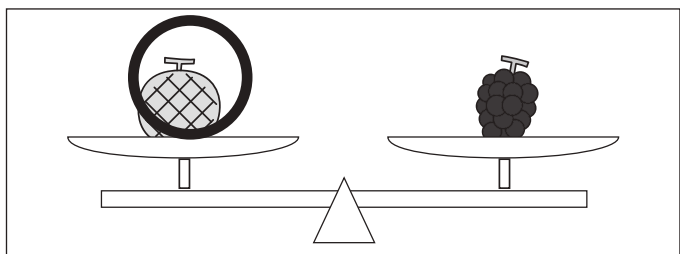

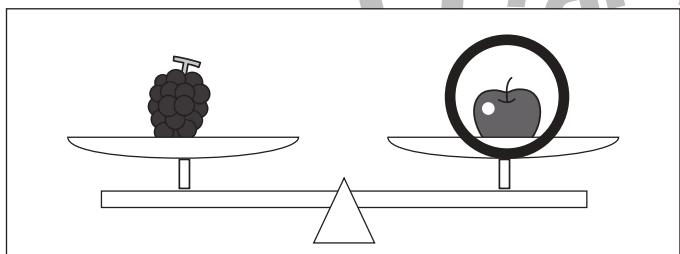
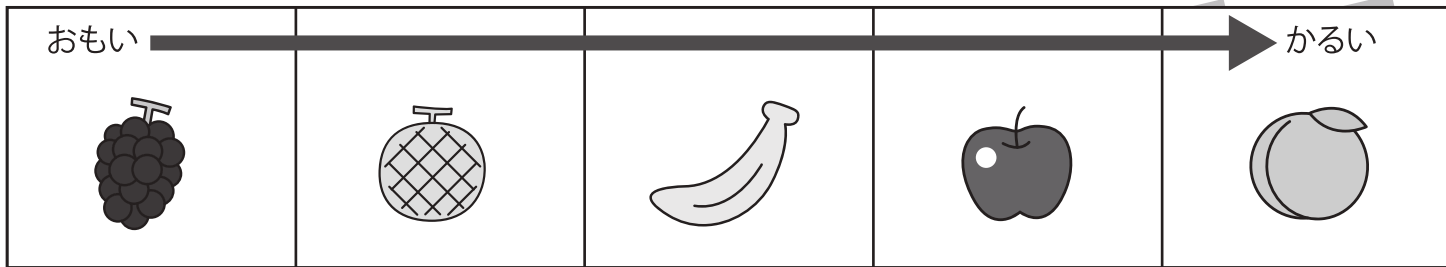


おうちで、やろう。

Study at home. 小学校受験の家庭学習教材

推理：重さ2

上の四角は果物が左から重い順番に並んでいます。一番重いのはブドウ、一番軽いのはモモです。このとき、下のシーソーのように重さ比べをしました。それぞれのシーソーで上がる果物に○をつけます。



※1. このプリントは、しながわ・目黒こどもスクールのウェブサイトからダウンロードできます。無断複写・引用はご遠慮ください。

※2. このプリントを活用したオンライン授業のスケジュールは、しながわ・目黒こどもスクールのウェブサイトでご確認ください。




おうちで、やろう。

Study at home. 小学校受験の家庭学習教材

処理：計数 1

上の四角の中の絵の数をかぞえて、下の四角の同じ絵の右にその数だけ〇をかきます。
この問題はスピードを意識して取り組む練習をしてみましょう。(1分～1分30秒)



○ × 8



○ × 10



○ × 7



○ × 6