



# おうちで、やろう。

Study at home. 小学校受験の家庭学習教材

## 指示の聞き取り 8

それぞれの設問に答えましょう。指示は1度ですべて読み上げます。しっかり聞いて取り組みましょう。

- ①鉛筆で左から右へ向かってO→X→△の順番で3回かきます。枠の中に入るように大きさにも注意しましょう。
- ②鉛筆で左から右へ向かってX→O→Xの順番で3回かきます。枠の中に入るように大きさにも注意しましょう。
- ③鉛筆で左から右へ向かって△→□→Xの順番で3回かきます。枠の中に入るように大きさにも注意しましょう。
- ④鉛筆で左から右へ向かってX→O→O→◎の順番で3回かきます。枠の中に入るように大きさにも注意しましょう。

①

②

③

④




# おうちで、やろう。

Study at home. 小学校受験の家庭学習教材

## 常識：季節 10

右上の桜から、左下のチューリップまで、春の季節のものだけをすべて通って進み、線をひきます。



※1. このプリントは、しながわ・目黒こどもスクールのウェブサイトからダウンロードできます。無断複写・引用はご遠慮ください。  
 ※2. このプリントを活用したオンライン授業のスケジュールは、しながわ・目黒こどもスクールのウェブサイトでご確認ください。



# おうちで、やろう。

Study at home. 小学校受験の家庭学習教材

## 図形：移動 17

上のパズルが矢印の向きにそのまま下に落ちます。すべてのパズルが下に落ちたとき、灰色になる場所を考えて塗ります。



※1. このプリントは、しながわ・目黒こどもスクールのウェブサイトでダウンロードができます。無断複写・引用はご遠慮ください。  
 ※2. このプリントを活用したオンライン授業のスケジュールは、しながわ・目黒こどもスクールのウェブサイトでご確認ください。



# おうちで、やろう。

Study at home. 小学校受験の家庭学習教材

## 図形：移動 18

上のパズルが矢印の向きにそのまま下に落ちます。下の入れ物に黒いマスがあるときはその上に落ちます。すべてのパズルが下に落ちたとき、灰色になる場所を考えて塗ります。


※1. このプリントは、しながわ・目黒こどもスクールのウェブサイトでダウンロードができます。無断複写・引用はご遠慮ください。

※2. このプリントを活用したオンライン授業のスケジュールは、しながわ・目黒こどもスクールのウェブサイトでご確認ください。

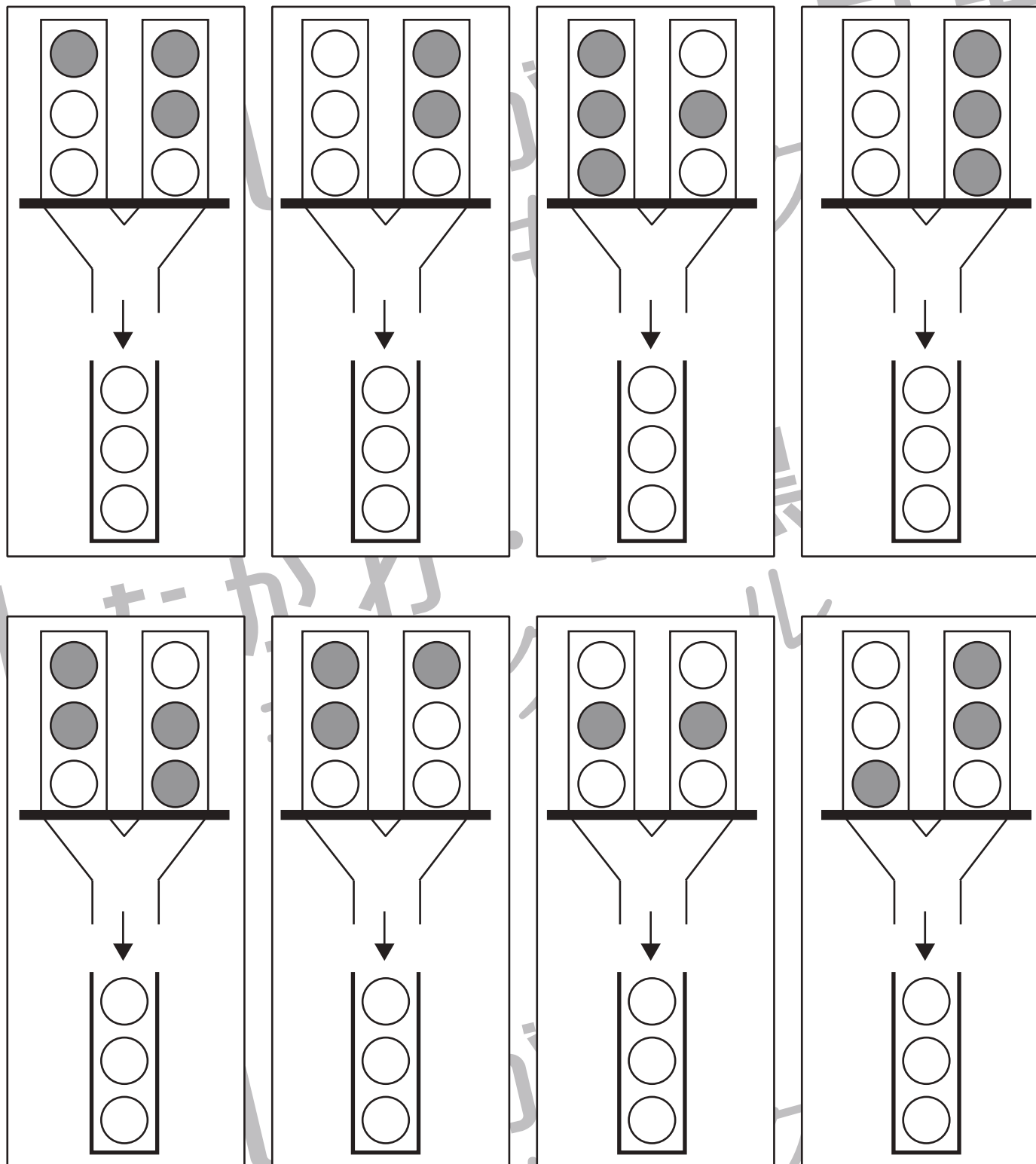


# おうちで、やろう。

Study at home. 小学校受験の家庭学習教材

図形：重ね 15

上の2つの入れ物に入っている透明な丸い板を落とします。黒い板を外すと2つ入れ物の丸い板が1つずつ同時に落ちて下の1つの入れ物に入って重なります。全部の板は入って重なった見え方を考えて、灰色になる場所を塗ります。



※1. このプリントは、しながわ・目黒こどもスクールのウェブサイトでダウンロードができます。無断複写・引用はご遠慮ください。  
 ※2. このプリントを活用したオンライン授業のスケジュールは、しながわ・目黒こどもスクールのウェブサイトでご確認ください。

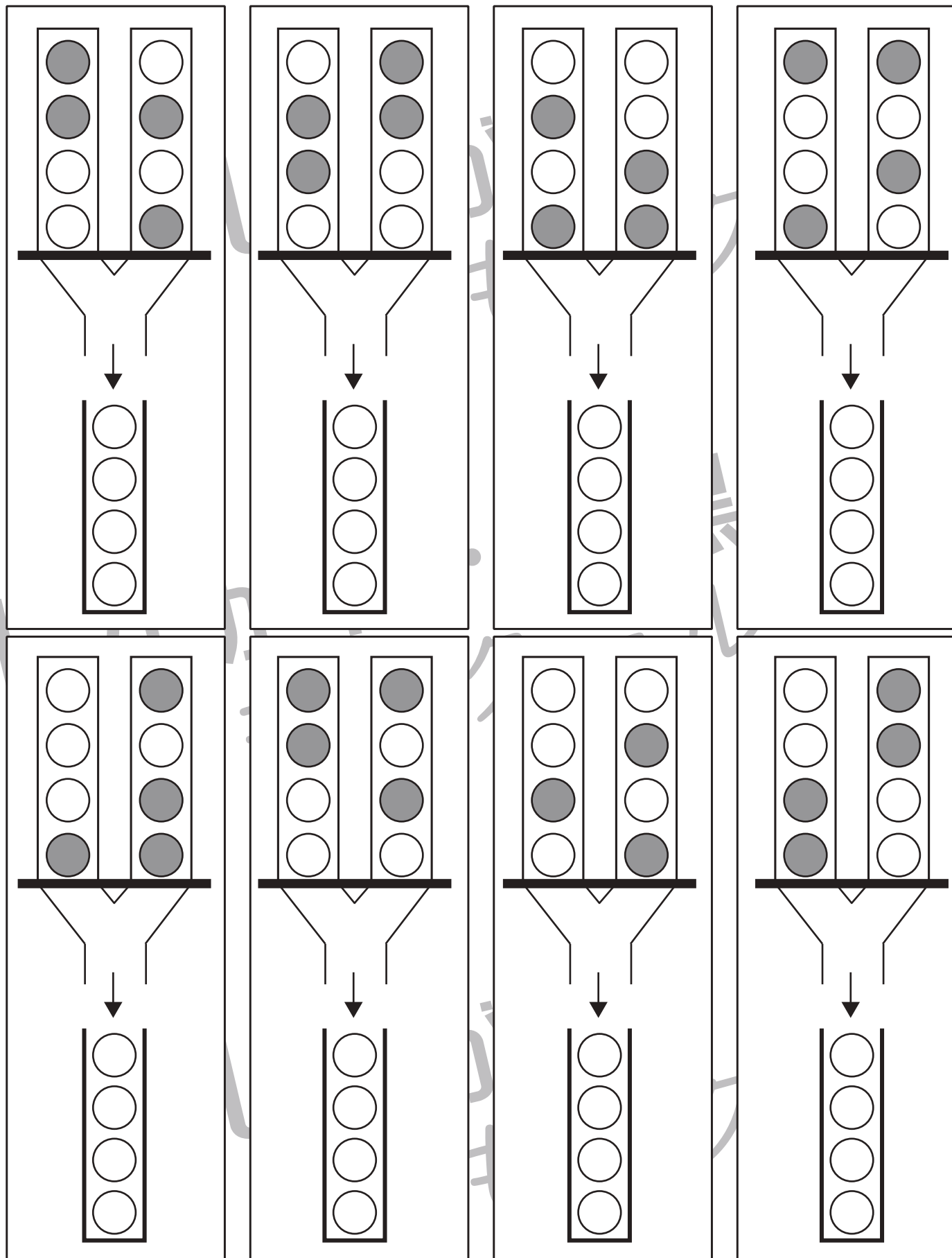


# おうちで、やろう。

Study at home. 小学校受験の家庭学習教材

## 図形：重ね 16

上の2つの入れ物に入っている透明な丸い板を落とします。黒い板を外すと2つ入れ物の丸い板が1つずつ同時に落ちて下の1つの入れ物に入って重なります。全部の板は入って重なった見え方を考えて、灰色になる場所を塗ります。



※1. このプリントは、しながわ・目黒こどもスクールのウェブサイトでダウンロードができます。無断複写・引用はご遠慮ください。

※2. このプリントを活用したオンライン授業のスケジュールは、しながわ・目黒こどもスクールのウェブサイトでご確認ください。

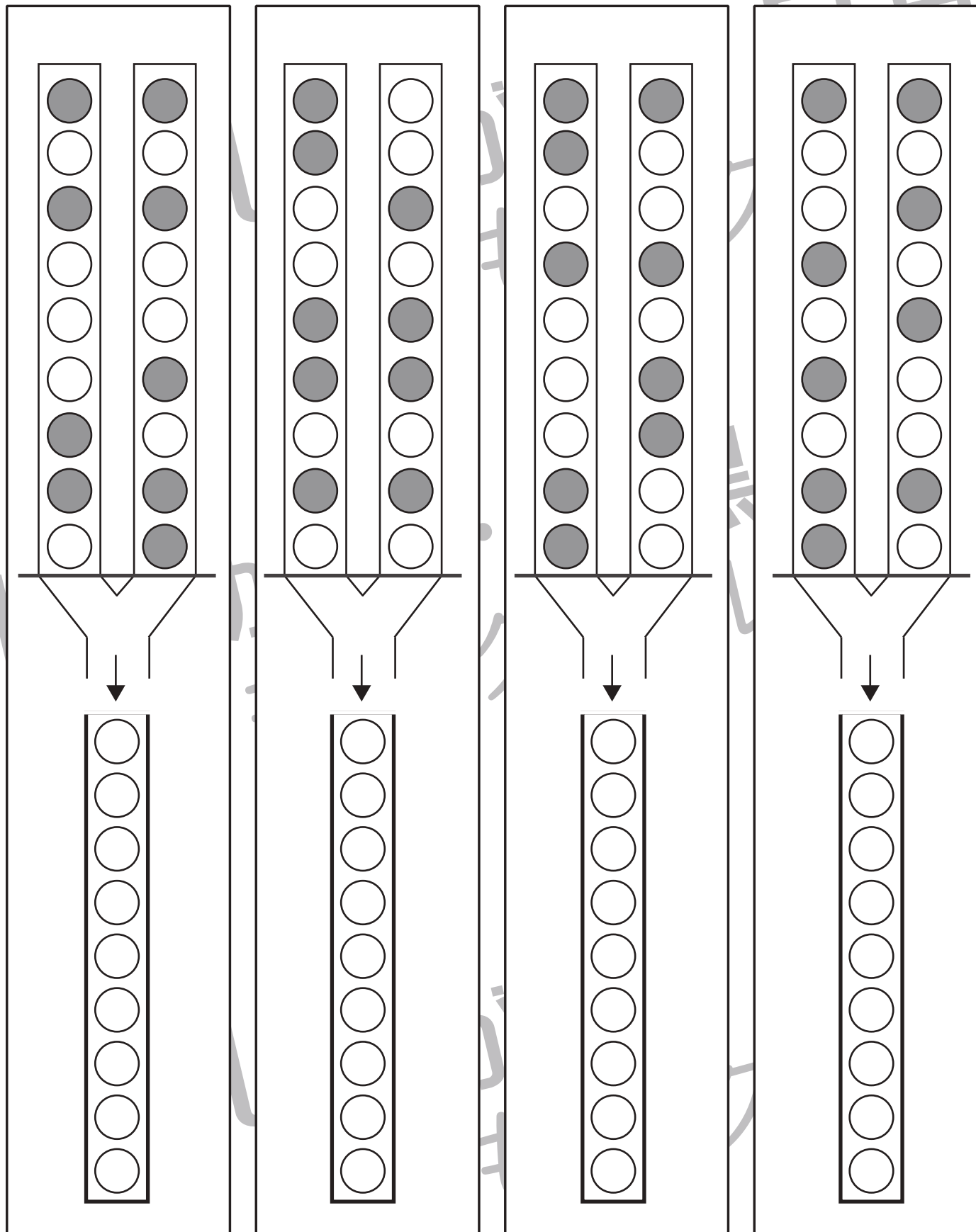


# おうちで、やろう。

Study at home. 小学校受験の家庭学習教材

図形：重ね 17

上の2つの入れ物に入っている透明な丸い板を落とします。黒い板を外すと2つ入れ物の丸い板が1つずつ同時に落ちて下の1つの入れ物に入って重なります。全部の板は入って重なった見え方を考えて、灰色になる場所を塗ります。



※1. このプリントは、しながわ・目黒こどもスクールのウェブサイトからダウンロードできます。無断複写・引用はご遠慮ください。

※2. このプリントを活用したオンライン授業のスケジュールは、しながわ・目黒こどもスクールのウェブサイトでご確認ください。






# おうちで、やろう。

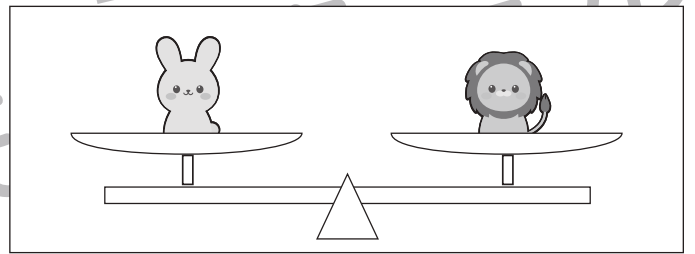
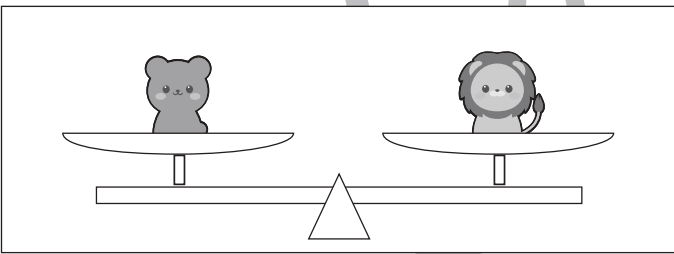
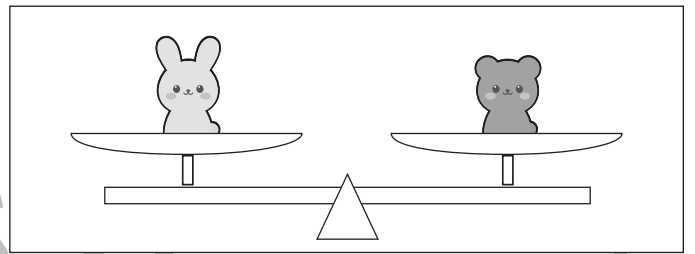
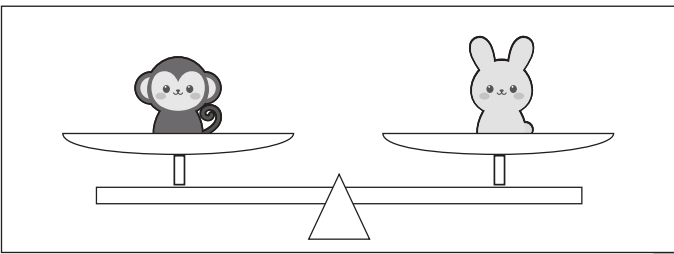
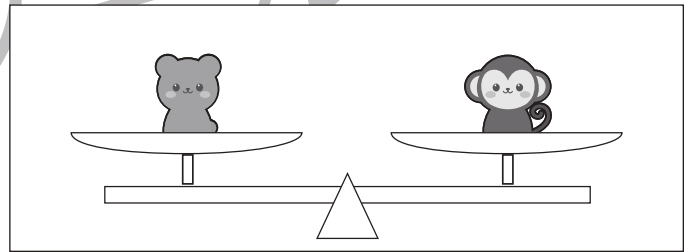
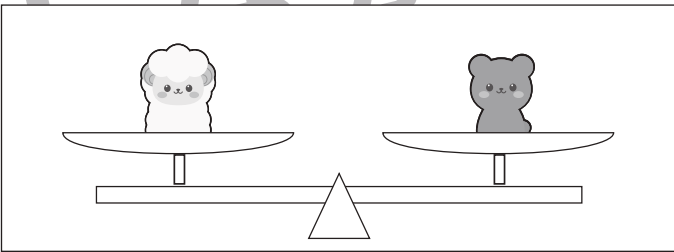
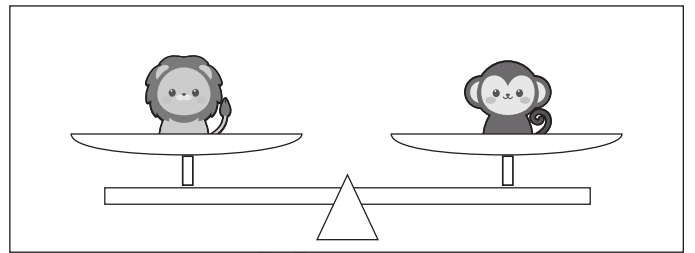
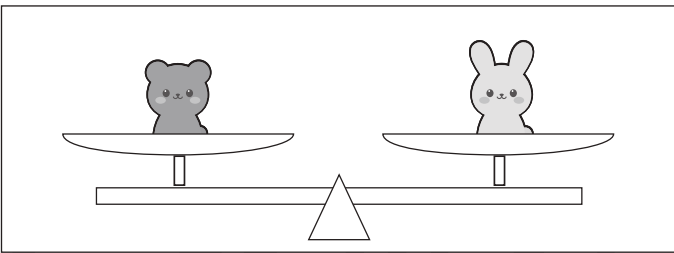
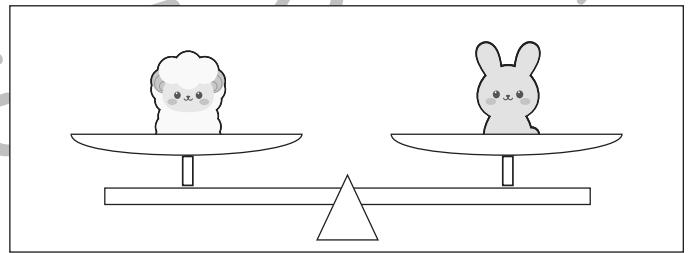
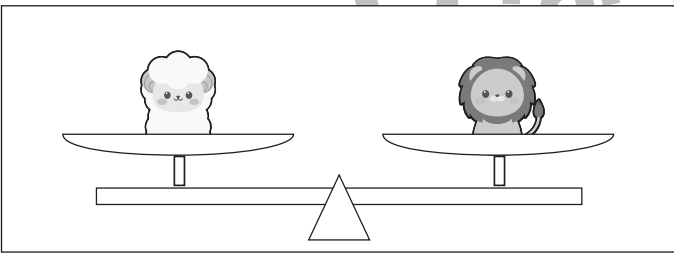
Study at home. 小学校受験の家庭学習教材

推理：重さ 1

上の四角は動物たちが左から重い順番に並んでいます。一番重いのはウサギ、一番軽いのはサルです。このとき、下のシーソーのように重さ比べをしました。このとき、それぞれのシーソーで下がってしまう動物に○をつけます。

おもい  ▶ かるい

				
---	---	---	---	---



※1. このプリントは、しながわ・目黒こどもスクールのウェブサイトでダウンロードができます。無断複写・引用はご遠慮ください。  
※2. このプリントを活用したオンライン授業のスケジュールは、しながわ・目黒こどもスクールのウェブサイトでご確認ください。



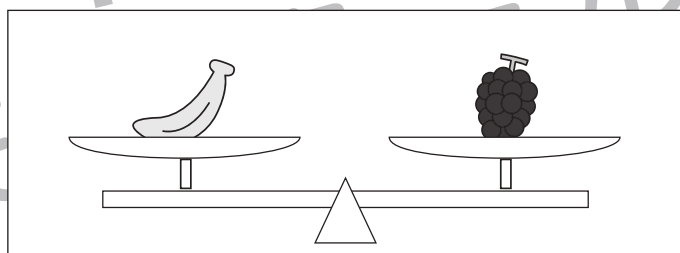
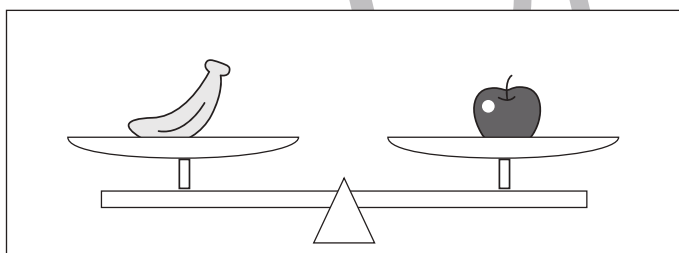
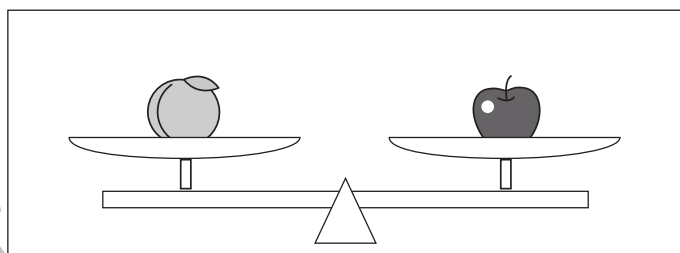
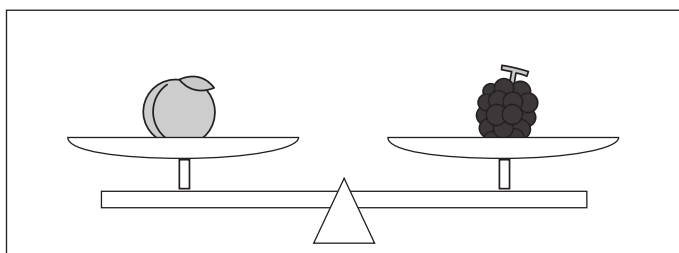
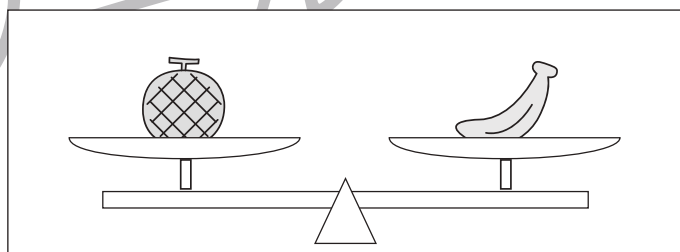
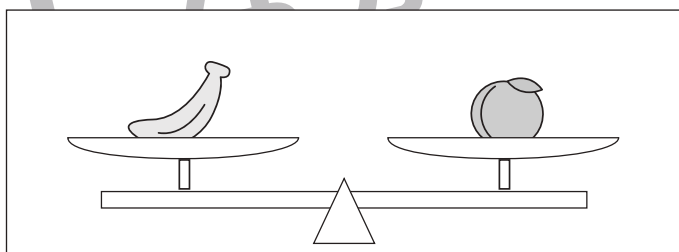
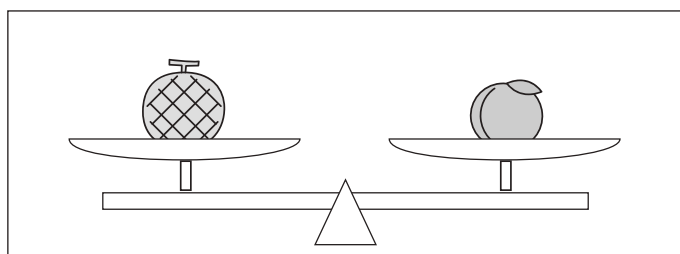
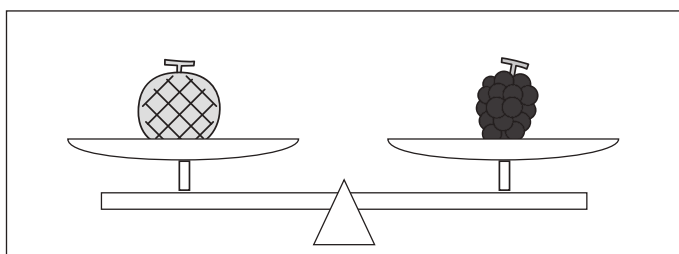
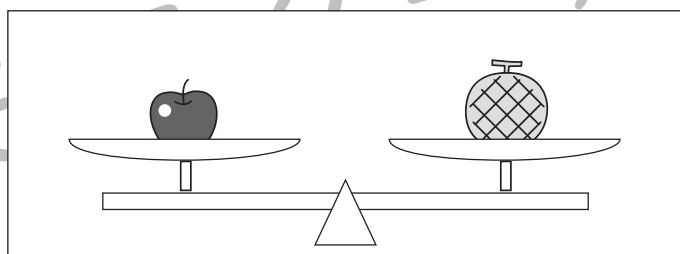
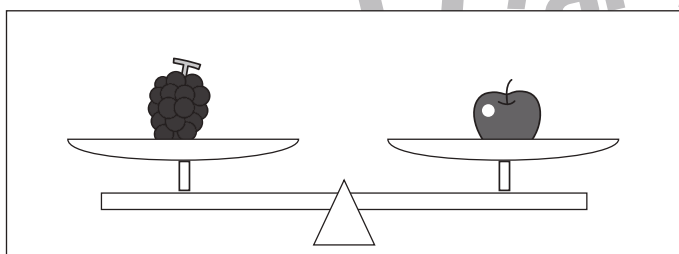
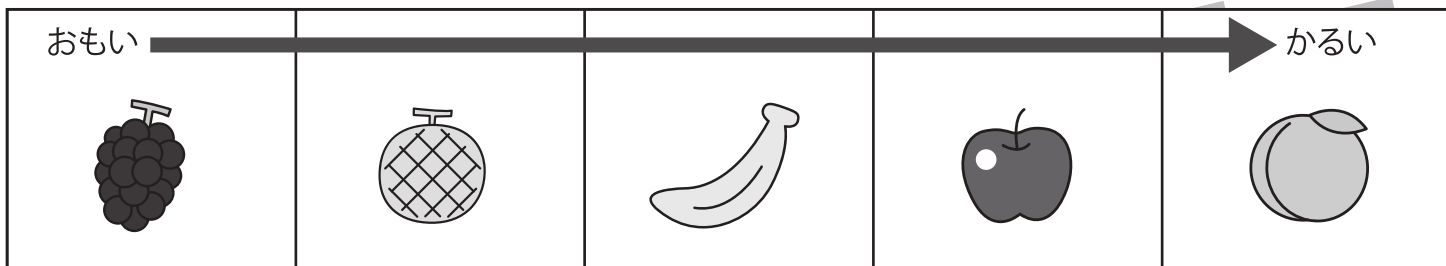


# おうちで、やろう。

Study at home. 小学校受験の家庭学習教材

## 推理：重さ2

上の四角は果物が左から重い順番に並んでいます。一番重いのはブドウ、一番軽いのはモモです。このとき、下のシーソーのように重さ比べをしました。それぞれのシーソーで上がる果物に○をつけます。



※1. このプリントは、しながわ・目黒こどもスクールのウェブサイトからダウンロードできます。無断複写・引用はご遠慮ください。

※2. このプリントを活用したオンライン授業のスケジュールは、しながわ・目黒こどもスクールのウェブサイトでご確認ください。




# おうちで、やろう。

Study at home. 小学校受験の家庭学習教材

処理：計数 1

上の四角の中の絵の数をかぞえて、下の四角の同じ絵の右にその数だけ〇をかきます。  
この問題はスピードを意識して取り組む練習をしてみましょう。(1分～1分30秒)



※1. このプリントは、しながわ・目黒こどもスクールのウェブサイトからダウンロードができます。無断複写・引用はご遠慮ください。  
※2. このプリントを活用したオンライン授業のスケジュールは、しながわ・目黒こどもスクールのウェブサイトでご確認ください。