



# おうちで、やろう。

Study at home. 小学校受験の家庭学習教材

## 図形：移動 19

上のパズルが矢印の向きにそのまま下に落ちます。下の入れ物に黒いマスがあるときはその上に落ちます。すべてのパズルが下に落ちたとき、灰色になる場所を考えて塗ります。


※1. このプリントは、しながわ・目黒こどもスクールのウェブサイトからダウンロードできます。無断複写・引用はご遠慮ください。

※2. このプリントを活用したオンライン授業のスケジュールは、しながわ・目黒こどもスクールのウェブサイトでご確認ください。



# おうちで、やろう。

Study at home. 小学校受験の家庭学習教材

## 図形：移動 20

上のパズルが矢印の向きにそのまま下に落ちます。下の入れ物に黒いマスがあるときはその上に落ちます。すべてのパズルが下に落ちたとき、灰色になる場所を考えて塗ります。

※1. このプリントは、しながわ・目黒こどもスクールのウェブサイトでダウンロードができます。無断複写・引用はご遠慮ください。  
 ※2. このプリントを活用したオンライン授業のスケジュールは、しながわ・目黒こどもスクールのウェブサイトでご確認ください。



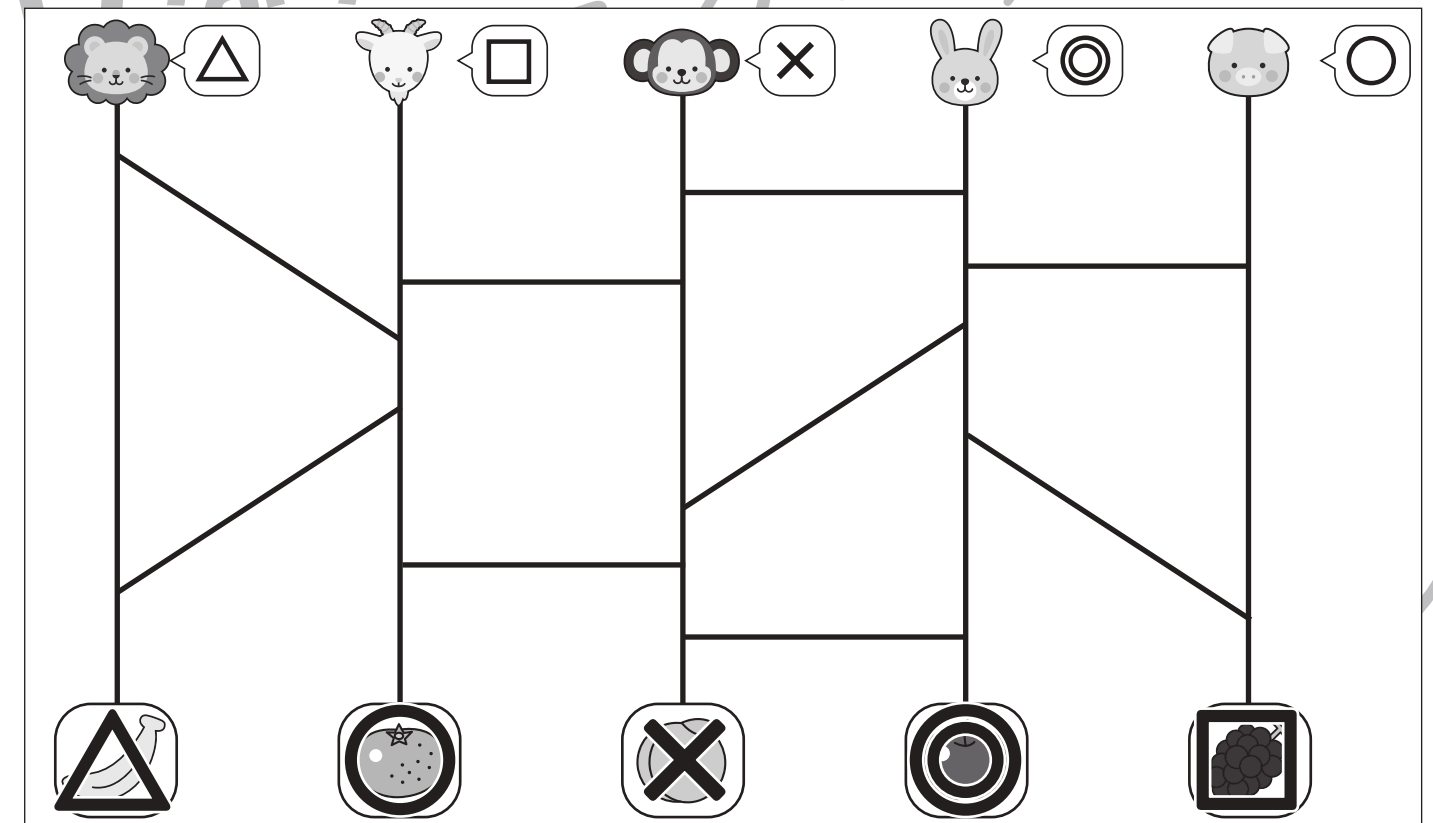
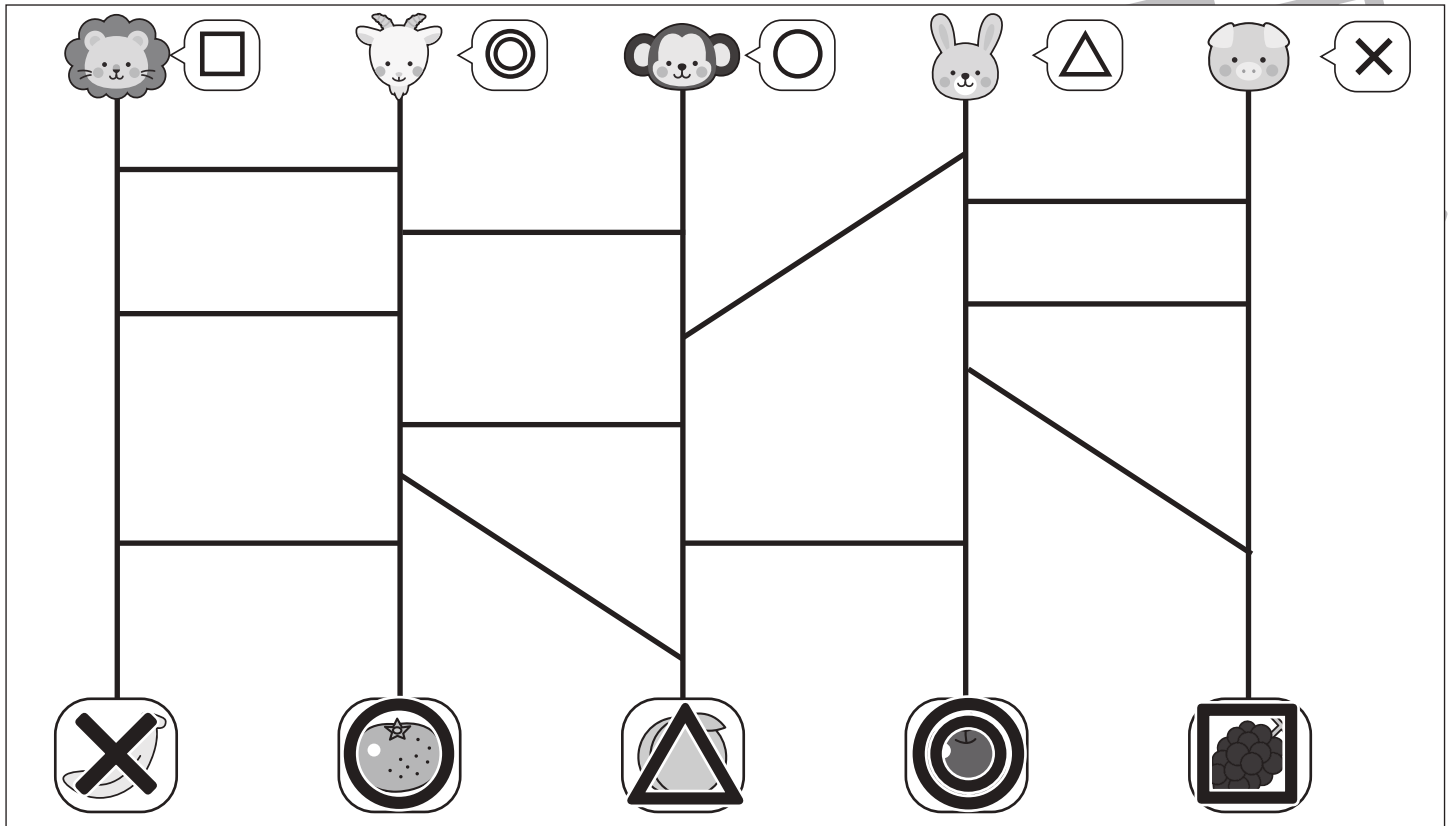
# おうちで、やろう。

Study at home. 小学校受験の家庭学習教材

## 推理：あみだくじ4

上の動物たちがあみだくじを進んでいくと下のどの食べ物に着きますか。それぞれの動物の吹き出しの中にある記号を、着いた果物につけます。

※あみだくじのルール：①道は戻ってはいけません。②途中で曲がり角があったら必ず曲がります。



※1. このプリントは、しながわ・目黒こどもスクールのウェブサイトでダウンロードができます。無断複写・引用はご遠慮ください。

※2. このプリントを活用したオンライン授業のスケジュールは、しながわ・目黒こどもスクールのウェブサイトでご確認ください。



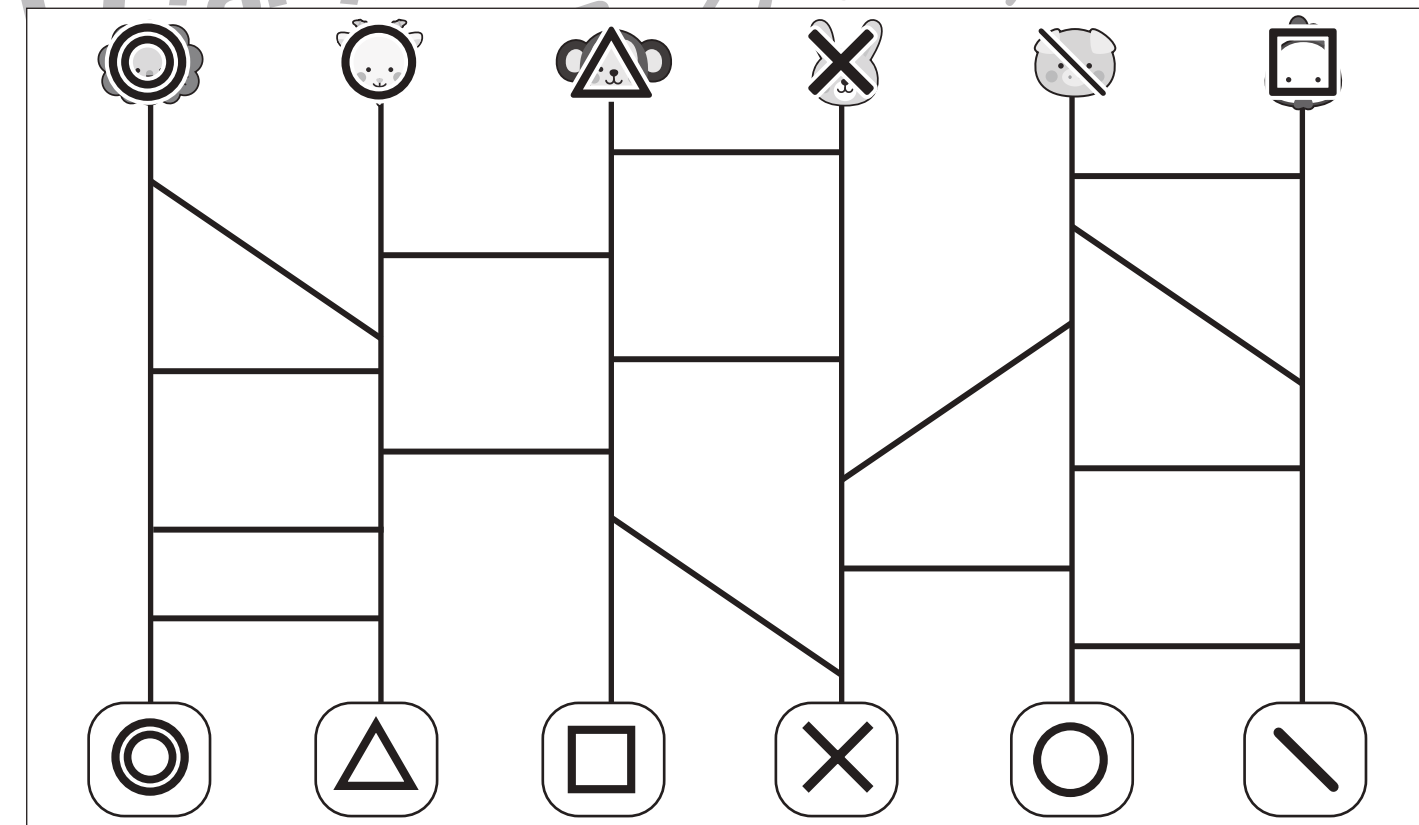
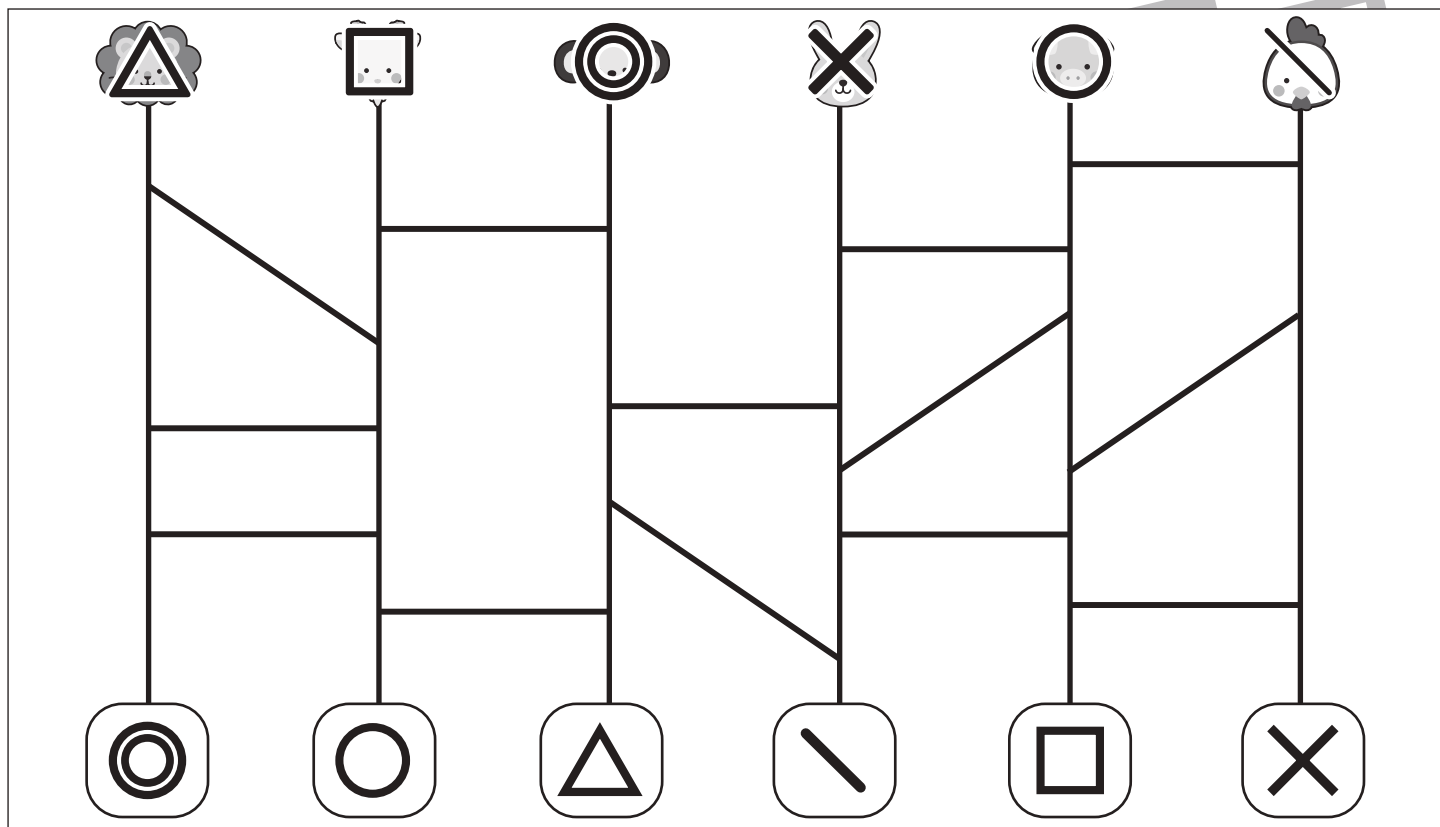
# おうちで、やろう。

Study at home. 小学校受験の家庭学習教材

推理：あみだくじ5

上の動物たちがあみだくじを進んでいくと下のどれかの記号に着きます。それぞれの動物の顔に着いた記号をかきます。

※あみだくじのルール：①道は戻ってはいけません。②途中で曲がり角があったら必ず曲がります。



※1. このプリントは、しながわ・目黒こどもスクールのウェブサイトでダウンロードができます。無断複写・引用はご遠慮ください。

※2. このプリントを活用したオンライン授業のスケジュールは、しながわ・目黒こどもスクールのウェブサイトでご確認ください。





# おうちで、やろう。



Study at home. 小学校受験の家庭学習教材

数量：加減 12

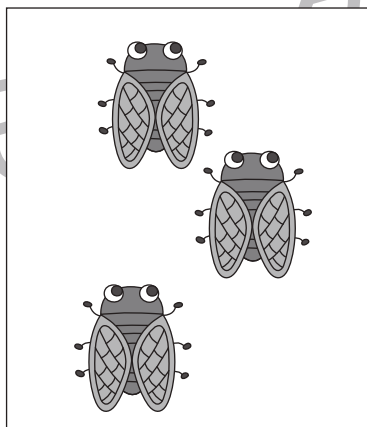
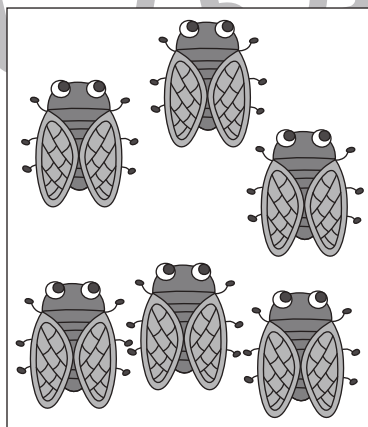
左の四角と右の四角の中の生き物の数を比べます。何匹違いますか。違いの数だけ矢印の右の四角に○をかきます。





○ × 1



○ × 2



○ × 3



○ × 1

※1. このプリントは、しながわ・目黒こどもスクールのウェブサイトでダウンロードができます。無断複写・引用はご遠慮ください。

※2. このプリントを活用したオンライン授業のスケジュールは、しながわ・目黒こどもスクールのウェブサイトでご確認ください。






# おうちで、やろう。


Study at home. 小学校受験の家庭学習教材

数量：計数18


太い四角の中が1人分のセットです。右の四角の中のものをセットにしたとき、全部で何セットできますか。その数だけ下の四角に○をかきましょう。



○ × 5



○ × 5



○ × 4

※1. このプリントは、しながわ・目黒こどもスクールのウェブサイトでダウンロードができます。無断複写・引用はご遠慮ください。  
※2. このプリントを活用したオンライン授業のスケジュールは、しながわ・目黒こどもスクールのウェブサイトでご確認ください。











# おうちで、やろう。

Study at home. 小学校受験の家庭学習教材

数量：置き換え 7

上の太い四角が約束です。それぞれのおやつは真ん中の枠にあるドングリや葉っぱで買うことができます。  
この約束のとき、左の四角の中のおやつを全部買うために必要などんぐりはいくつですか。その数だけ右の四角に○をかきます。



※1. このプリントは、しながわ・目黒こどもスクールのウェブサイトでダウンロードができます。無断複写・引用はご遠慮ください。  
※2. このプリントを活用したオンライン授業のスケジュールは、しながわ・目黒こどもスクールのウェブサイトでご確認ください。





# おうちで、やろう。

Study at home. 小学校受験の家庭学習教材

数量：置き換え 8

上の太い四角が約束です。それぞれのおやつは真ん中の枠にあるドングリや葉っぱで買うことができます。  
この約束のとき、左の四角の中のおやつを全部買うために必要なドングリはいくつですか。その数だけ右の四角に○をかきます。



		$\bigcirc \times 3$
		$\bigcirc \times 7$
		$\bigcirc \times 4$
		$\bigcirc \times 5$
		$\bigcirc \times 9$

※1. このプリントは、しながわ・目黒こどもスクールのウェブサイトでダウンロードができます。無断複写・引用はご遠慮ください。

※2. このプリントを活用したオンライン授業のスケジュールは、しながわ・目黒こどもスクールのウェブサイトでご確認ください。



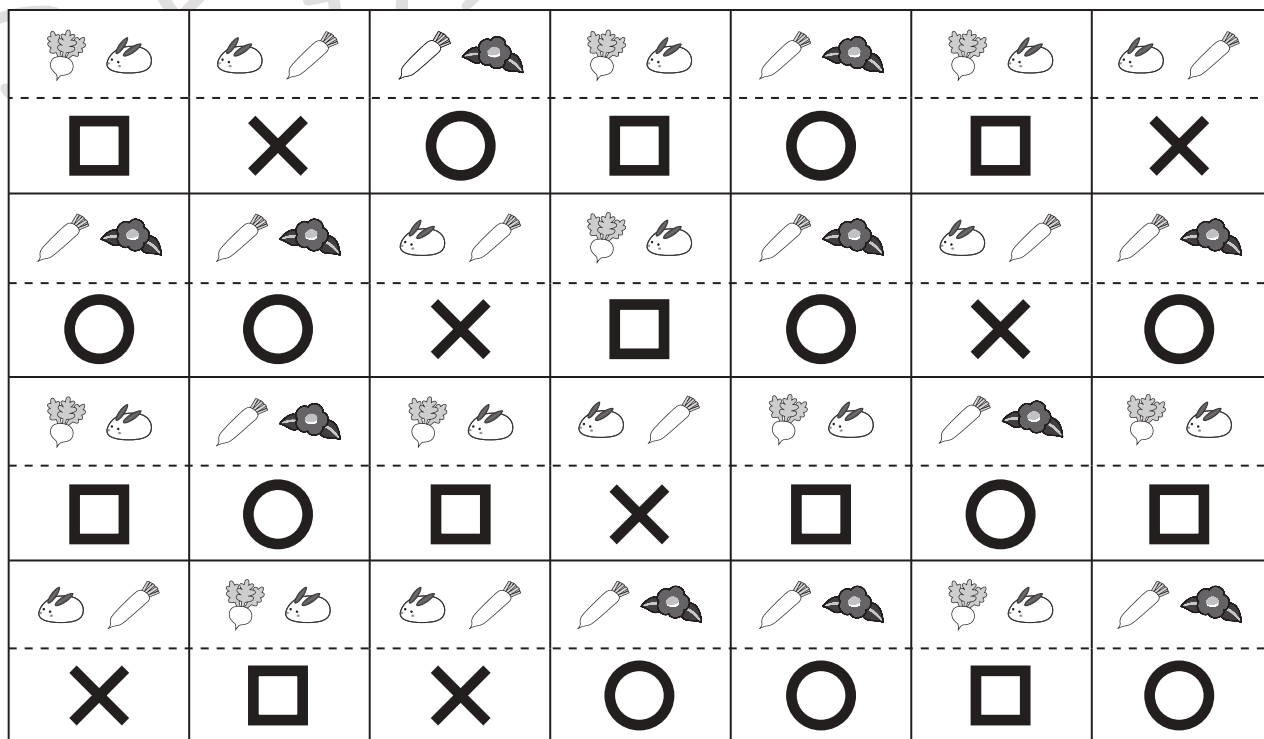


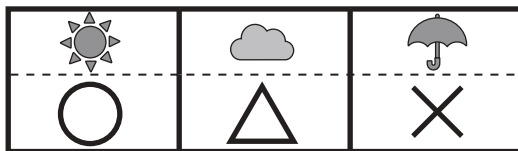


# おうちで、やろう。

Study at home. 小学校受験の家庭学習教材

数量：置き換え 9

太い四角がお手本です。お手本のお約束どおりに、絵の下の四角の中にしるしをかきます。



※1. このプリントは、しながわ・目黒こどもスクールのウェブサイトからダウンロードできます。無断複写・引用はご遠慮ください。

※2. このプリントを活用したオンライン授業のスケジュールは、しながわ・目黒こどもスクールのウェブサイトでご確認ください。