




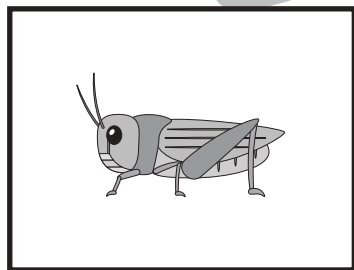
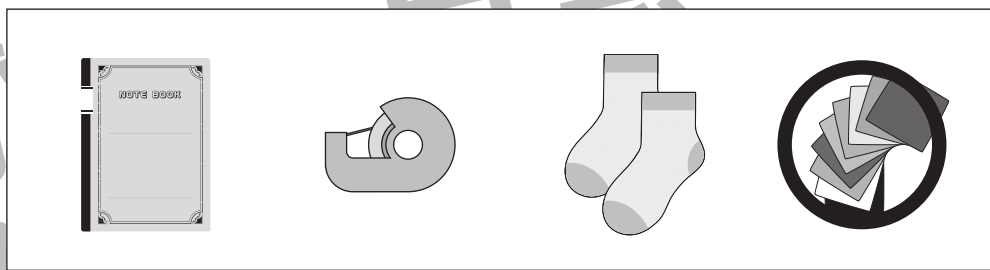
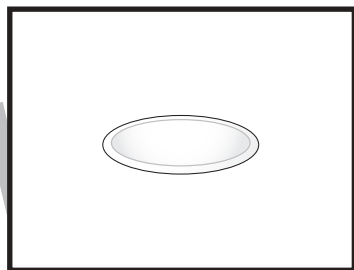

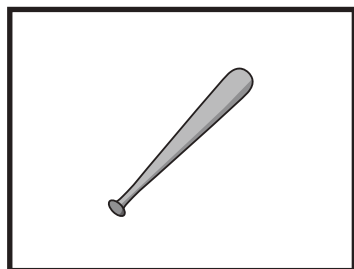



おうちで、やろう。

Study at home. 小学校受験の家庭学習教材

言語：数え方 4

左の四角の中と同じ数え方をするものを右の中から見つけて○をつけます。



※1. このプリントは、しながわ・目黒こどもスクールのウェブサイトでダウンロードができます。無断複写・引用はご遠慮ください。
※2. このプリントを活用したオンライン授業のスケジュールは、しながわ・目黒こどもスクールのウェブサイトでご確認ください。









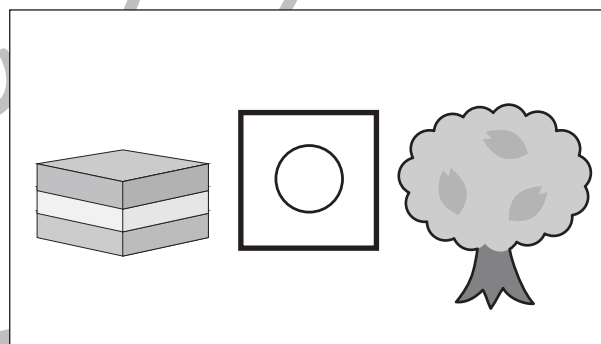

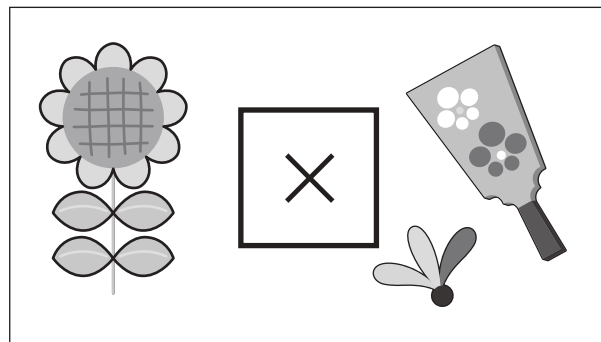
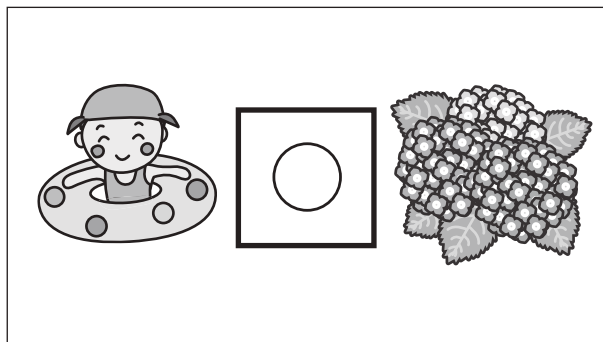


おうちで、やろう。

Study at home. 小学校受験の家庭学習教材

常識：季節8

四角の中の2つの絵の季節が同じときは○を、違うときは×を真ん中の太い四角の中にかきます。



※1. このプリントは、しながわ・目黒こどもスクールのウェブサイトからダウンロードできます。無断複写・引用はご遠慮ください。

※2. このプリントを活用したオンライン授業のスケジュールは、しながわ・目黒こどもスクールのウェブサイトでご確認ください。





おうちで、やろう。

Study at home. 小学校受験の家庭学習教材

図形：移動 13

星が矢印の方向へ灰色の丸の数だけ動きました。最後についた場所の色を塗ります。

※1. このプリントは、しながわ・目黒こどもスクールのウェブサイトダウンロードができます。無断複写・引用はご遠慮ください。

※2. このプリントを活用したオンライン授業のスケジュールは、しながわ・目黒こどもスクールのウェブサイトでご確認ください。



おうちで、やろう。

Study at home. 小学校受験の家庭学習教材

図形：移動 14

星が矢印の方向へ灰色の丸の数だけ動きました。最後についた場所の色を塗ります。

※1. このプリントは、しながわ・目黒こどもスクールのウェブサイトでダウンロードができます。無断複写・引用はご遠慮ください。

※2. このプリントを活用したオンライン授業のスケジュールは、しながわ・目黒こどもスクールのウェブサイトでご確認ください。



おうちで、やろう。

Study at home. 小学校受験の家庭学習教材

推理：積み木1

上の四角の中の積み木の数数を数えてその数だけ下の四角に○を書きます。

○	○	○	○
○	○	○	

○	○	○	○
○	○	○	

○	○	○	○
○	○		

○	○	○	○
○	○	○	

○	○	○	○
○	○	○	○
○			

○	○	○	○
○	○	○	○
○	○	○	

※1. このプリントは、しながわ・目黒こどもスクールのウェブサイトでダウンロードができます。無断複写・引用はご遠慮ください。
 ※2. このプリントを活用したオンライン授業のスケジュールは、しながわ・目黒こどもスクールのウェブサイトでご確認ください。



おうちで、やろう。

Study at home. 小学校受験の家庭学習教材

推理：積み木2

上の四角の中の積み木の数数を数えてその数だけ下の四角に○を書きます。

○	○	○	○
○			

○	○	○	○
○	○		

○	○	○	○
○	○	○	

○	○	○	○
○	○	○	○
○			

○	○	○	○
○	○	○	○
○	○		

○	○	○	○
○	○	○	○
○			

※1. このプリントは、しながわ・目黒こどもスクールのウェブサイトからダウンロードできます。無断複写・引用はご遠慮ください。
 ※2. このプリントを活用したオンライン授業のスケジュールは、しながわ・目黒こどもスクールのウェブサイトでご確認ください。



おうちで、やろう。

Study at home. 小学校受験の家庭学習教材

推理：積み木 3

上の四角の中の積み木の数数を数えてその数だけ下の四角に○を書きます。

○	○	○	○
○	○	○	

○	○	○	○
○	○	○	○
○			

○	○	○	○
○	○	○	○
○	○		

○	○	○	○
○	○	○	○
○	○	○	

○	○	○	○
○	○	○	○
○	○	○	○

○	○	○	○
○	○	○	○
○	○	○	○
○			

※1. このプリントは、しながわ・目黒こどもスクールのウェブサイトでダウンロードができます。無断複写・引用はご遠慮ください。
 ※2. このプリントを活用したオンライン授業のスケジュールは、しながわ・目黒こどもスクールのウェブサイトでご確認ください。

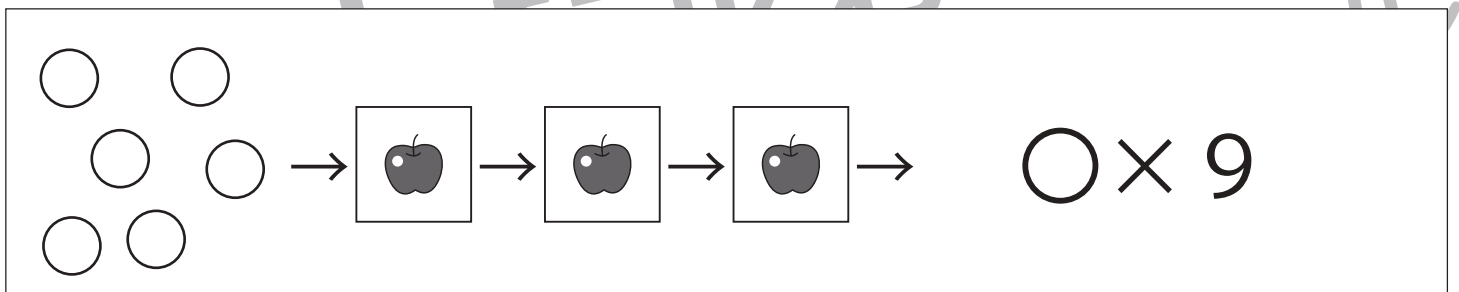
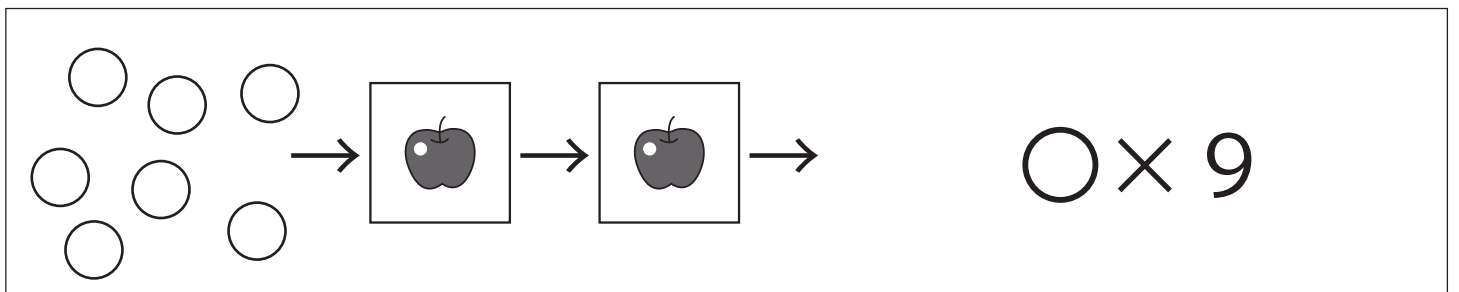
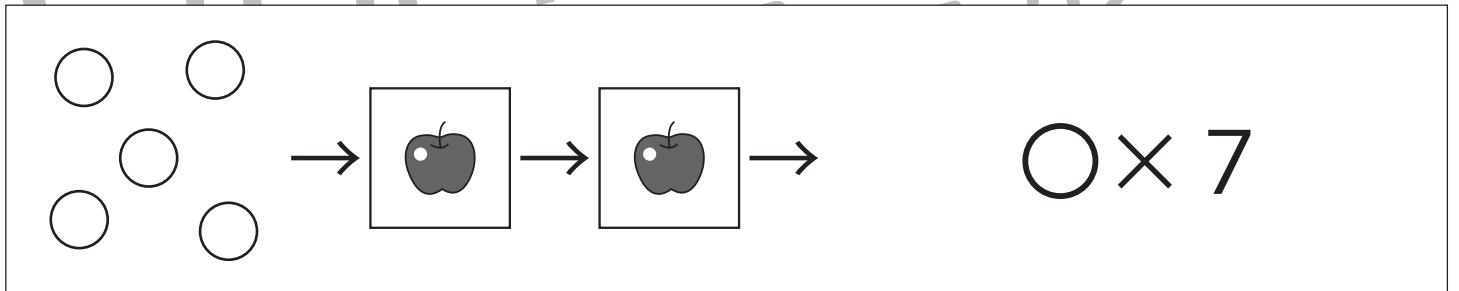
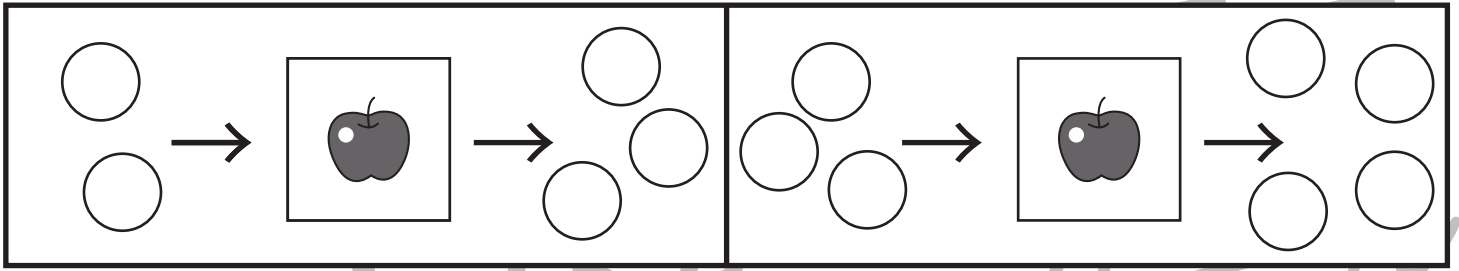


おうちで、やろう。

Study at home. 小学校受験の家庭学習教材

推理：ブラックボックス2

上の太い四角の中が約束です。リンゴの箱は魔法で、この箱の左にある丸をリンゴの箱にいれると矢印の右のようになって出てきます。リンゴの箱にはどんな約束があるのかを考えて、左の○が箱に入ってでてきた数だけ矢印の右の空いている場所に○をかきます。箱がいくつか並んでいるときは、一度出てきた形が次の箱に入り、最後に出てきた丸をかきます。



※1. このプリントは、しながわ・目黒こどもスクールのウェブサイトでダウンロードができます。無断複写・引用はご遠慮ください。

※2. このプリントを活用したオンライン授業のスケジュールは、しながわ・目黒こどもスクールのウェブサイトでご確認ください。

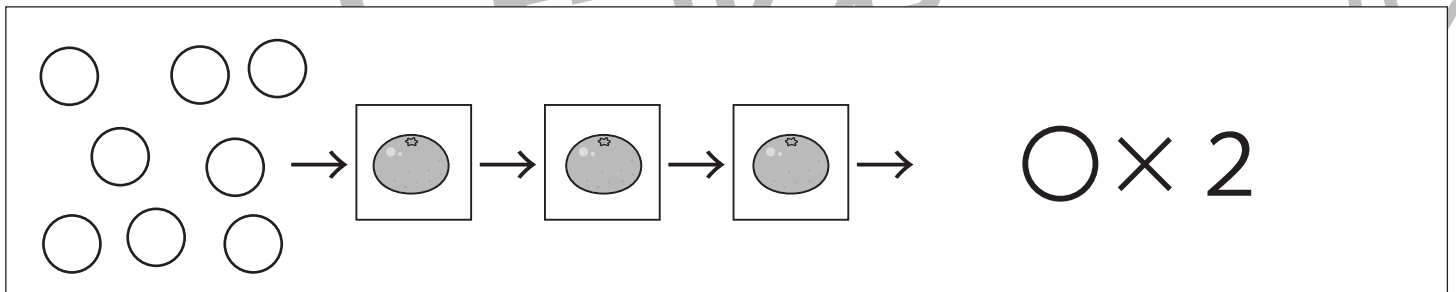
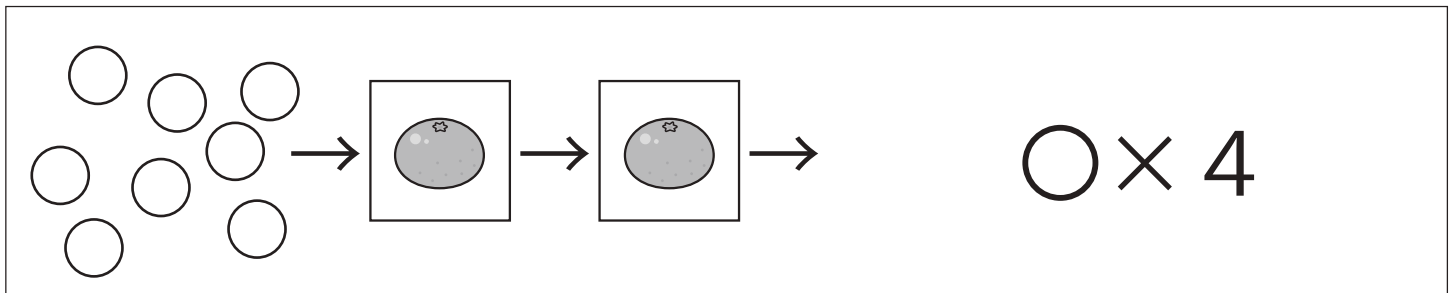
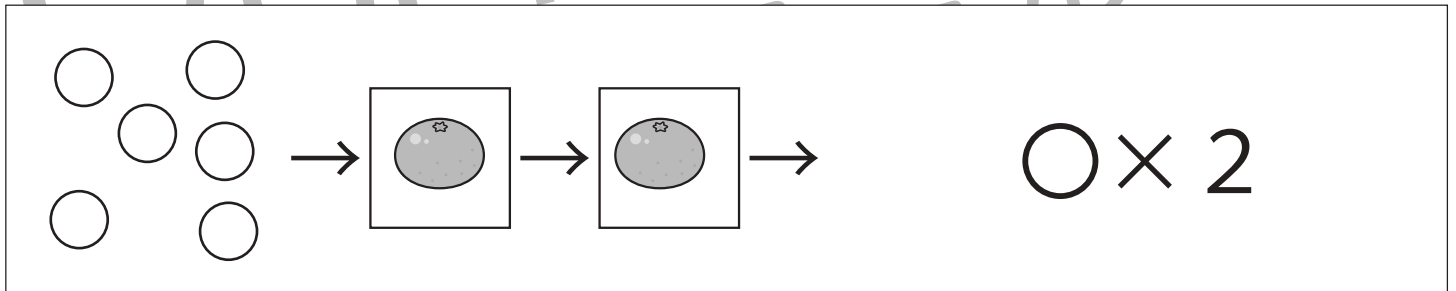


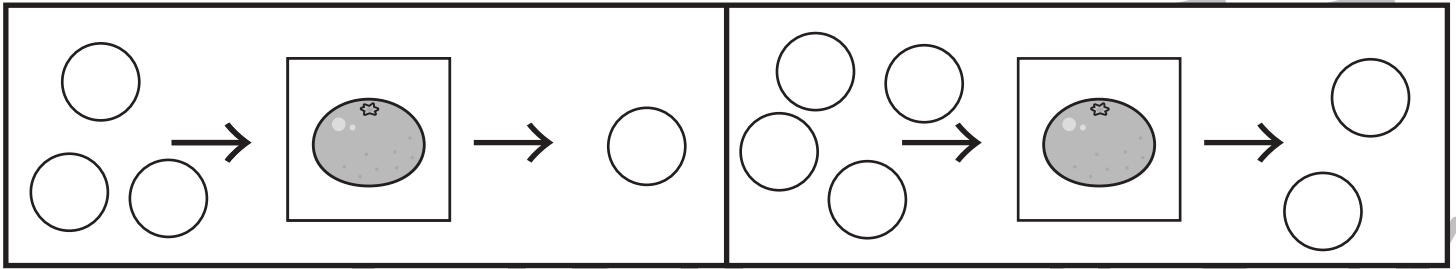


おうちで、やろう。

Study at home. 小学校受験の家庭学習教材

推理：ブラックボックス3

上の太い四角の中が約束です。ミカンの箱は魔法で、この箱の左にある丸をミカンの箱にいれると矢印の右のようになって出てきます。ミカンの箱にはどんな約束があるのかを考えて、左の○が箱に入ってきた数だけ矢印の右の空いている場所に○をかきます。箱がいくつか並んでいるときは、一度出てきた形が次の箱に入り、最後に出てきた丸をかきます。



※1. このプリントは、しながわ・目黒こどもスクールのウェブサイトでダウンロードができます。無断複写・引用はご遠慮ください。

※2. このプリントを活用したオンライン授業のスケジュールは、しながわ・目黒こどもスクールのウェブサイトでご確認ください。

