



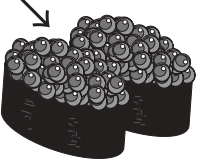






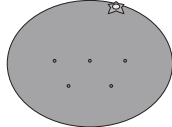


# おうちで、やろう。






Study at home. 小学校受験の家庭学習教材



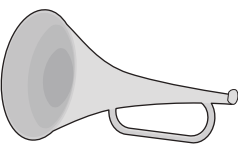


言語：しりとり7


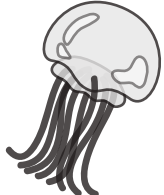



左の四角の中の絵からはじめて右の四角の中の絵でしりとりをします。すべての絵がしりとりでつながるときは○、つながらないときは×を一番右の四角にかきます。

	→				
---	---	---	---	--	---

	→				
---	---	---	---	--	---

	→				
---	---	---	---	--	---

	→				
---	---	---	---	--	---

	→				
---	---	---	---	--	---

※1. このプリントは、しながわ・目黒こどもスクールのウェブサイトからダウンロードできます。無断複写・引用はご遠慮ください。  
 ※2. このプリントを活用したオンライン授業のスケジュールは、しながわ・目黒こどもスクールのウェブサイトでご確認ください。


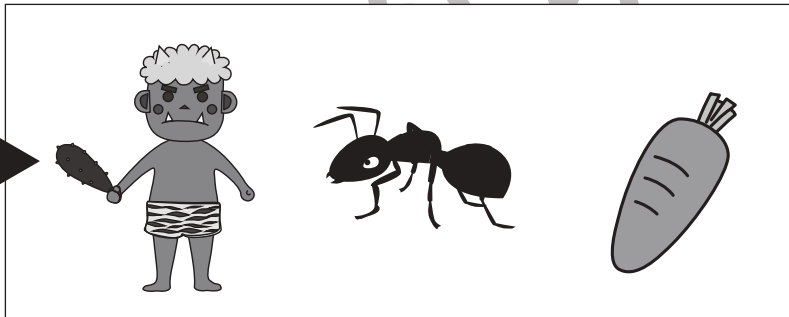




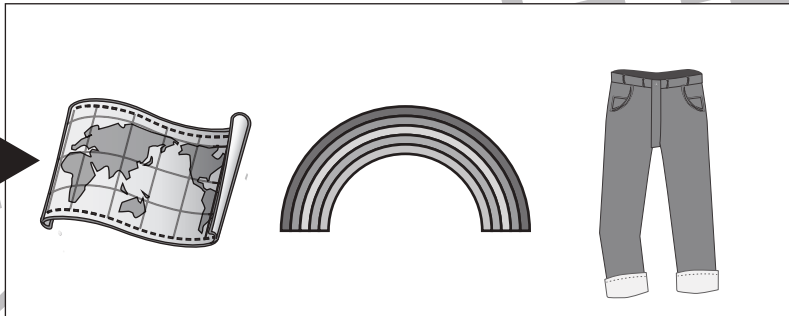


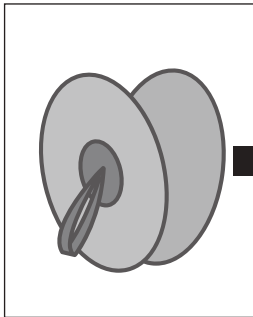




# おうちで、やろう。

Study at home. 小学校受験の家庭学習教材

言語：しりとり 8

左の四角の中の絵からはじめて右の四角の中の絵でしりとりをします。すべての絵がしりとりでつながるときは○、つながらないときは×を一番右の四角にかきます。



※1. このプリントは、しながわ・目黒こどもスクールのウェブサイトからダウンロードできます。無断複写・引用はご遠慮ください。  
※2. このプリントを活用したオンライン授業のスケジュールは、しながわ・目黒こどもスクールのウェブサイトでご確認ください。




# おうちで、やろう。

Study at home. 小学校受験の家庭学習教材

言語：数え方5

太い四角の中の絵がお手本です。お手本と同じ数え方をするものを下の四角から見つけて、お手本の四角の上についている記号をつけます。



※1. このプリントは、しながわ・目黒こどもスクールのウェブサイトでダウンロードができます。無断複写・引用はご遠慮ください。  
 ※2. このプリントを活用したオンライン授業のスケジュールは、しながわ・目黒こどもスクールのウェブサイトでご確認ください。






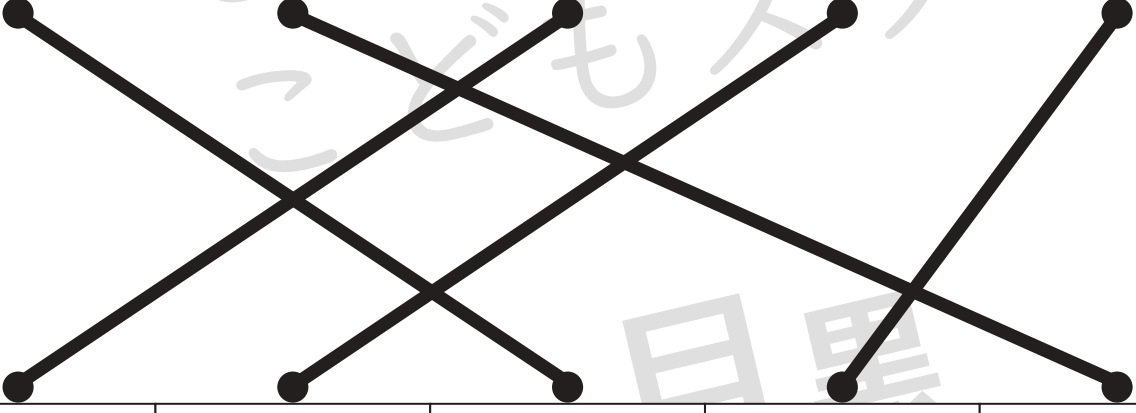













# おうちで、やろう。

Study at home. 小学校受験の家庭学習教材

## 常識：仕事1

上の四角のお仕事をしている人が使うものを真ん中と下の四角から選んで、点と点を線で結びます。

※1. このプリントは、しながわ・目黒こどもスクールのウェブサイトでダウンロードができます。無断複写・引用はご遠慮ください。  
 ※2. このプリントを活用したオンライン授業のスケジュールは、しながわ・目黒こどもスクールのウェブサイトでご確認ください。



# おうちで、やろう。

Study at home. 小学校受験の家庭学習教材

数量：積み木7

右と左の積み木の数を比べて、数が多い方に○をつけます。


※1. このプリントは、しながわ・目黒こどもスクールのウェブサイトでダウンロードができます。無断複写・引用はご遠慮ください。

※2. このプリントを活用したオンライン授業のスケジュールは、しながわ・目黒こどもスクールのウェブサイトでご確認ください。



# おうちで、やろう。

Study at home. 小学校受験の家庭学習教材

数量：積み木 8

太い四角の中のお手本と同じ数の積み木を、大きな四角の中から見つけて○をつけます。


※1. このプリントは、しながわ・目黒こどもスクールのウェブサイトからダウンロードできます。無断複写・引用はご遠慮ください。  
 ※2. このプリントを活用したオンライン授業のスケジュールは、しながわ・目黒こどもスクールのウェブサイトでご確認ください。

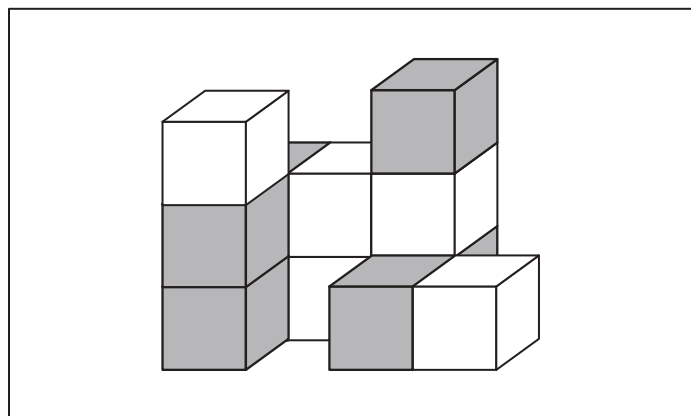


# おうちで、やろう。

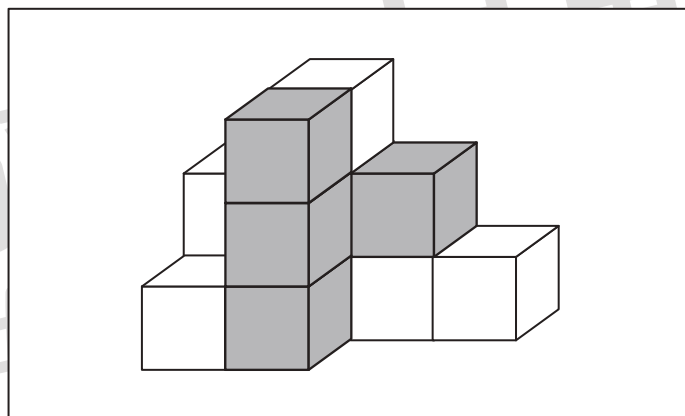
Study at home. 小学校受験の家庭学習教材

数量：積み木 9

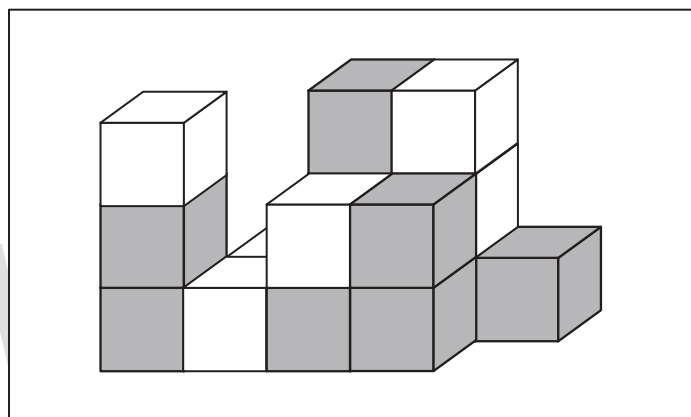
四角の中の白い積み木の数だけ数えて、下の四角に○をかきます。見えない積み木は、全て白い積み木になります。



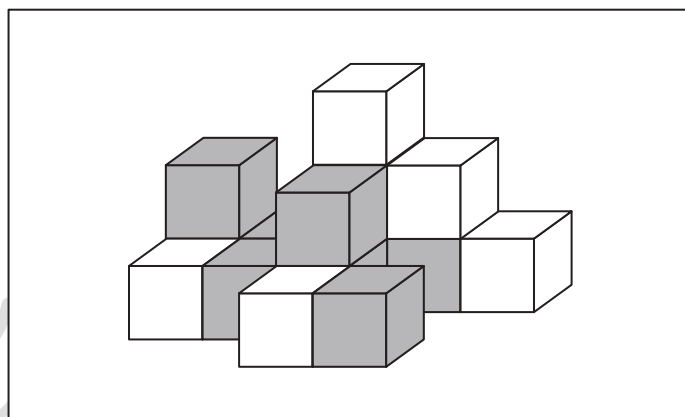
○×6



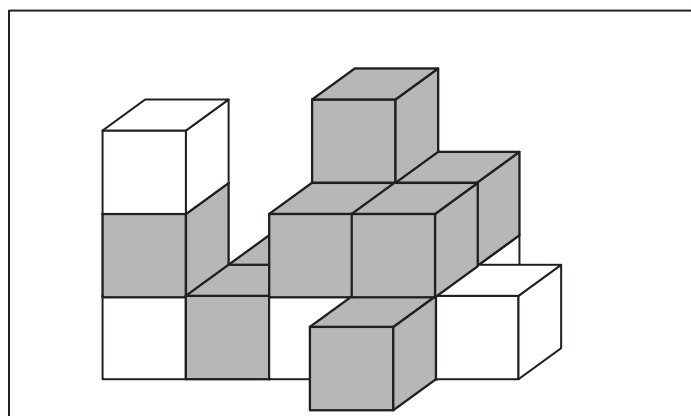
○×8



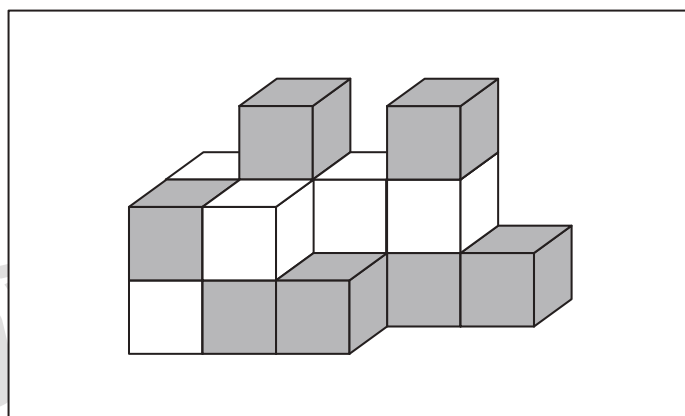
○×9



○×8



○×7



○×9

※1. このプリントは、しながわ・目黒こどもスクールのウェブサイトでダウンロードができます。無断複写・引用はご遠慮ください。  
※2. このプリントを活用したオンライン授業のスケジュールは、しながわ・目黒こどもスクールのウェブサイトでご確認ください。

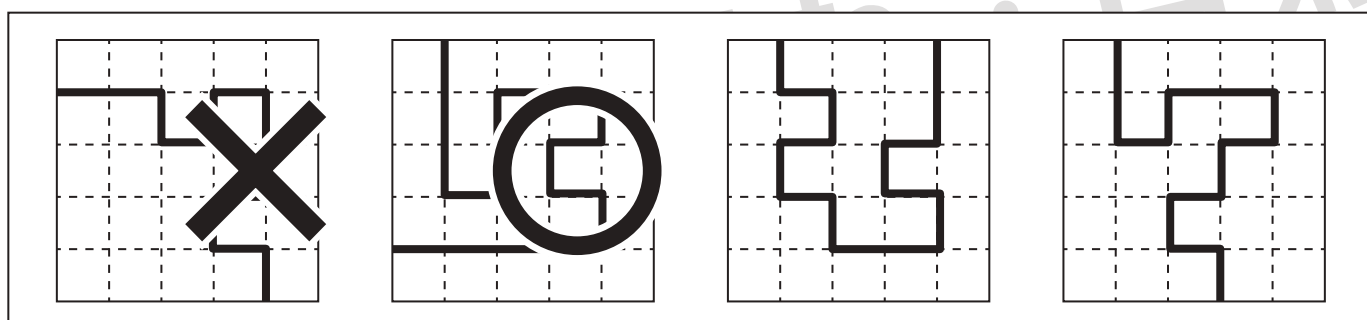
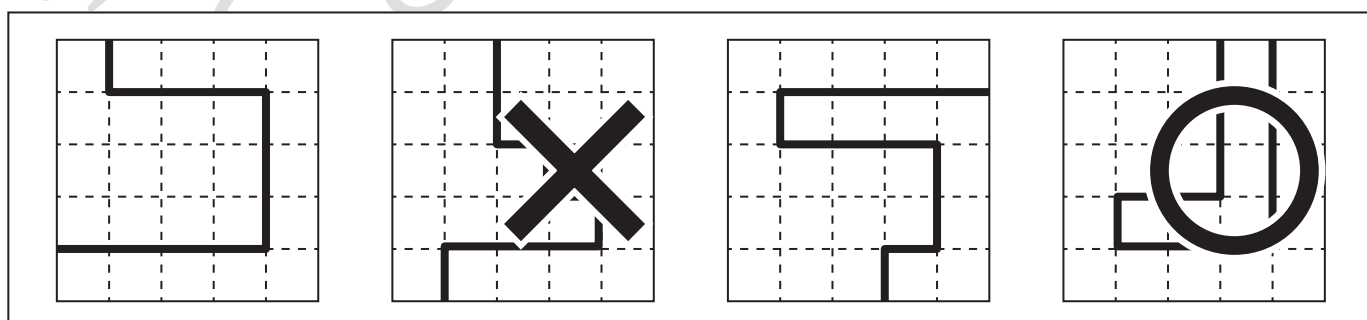
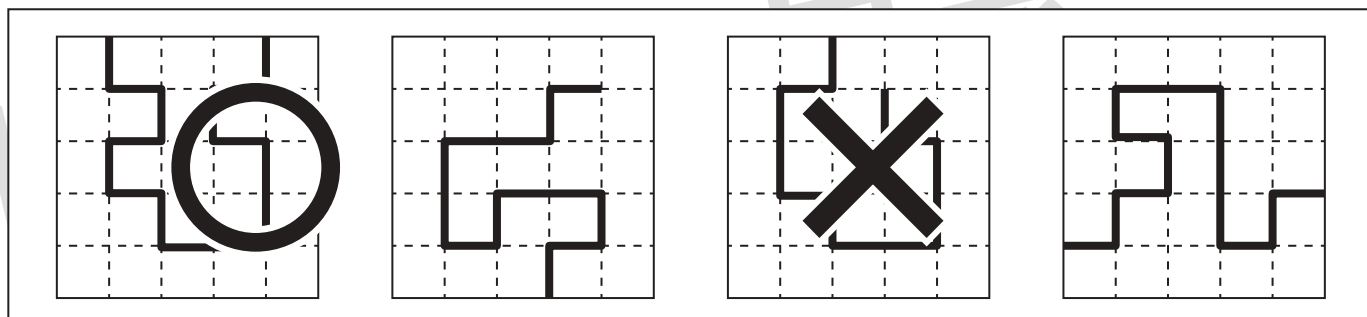
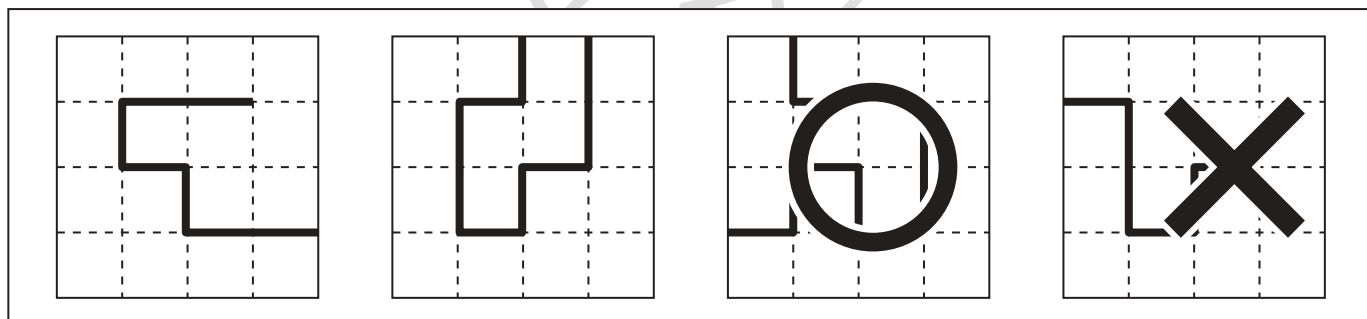
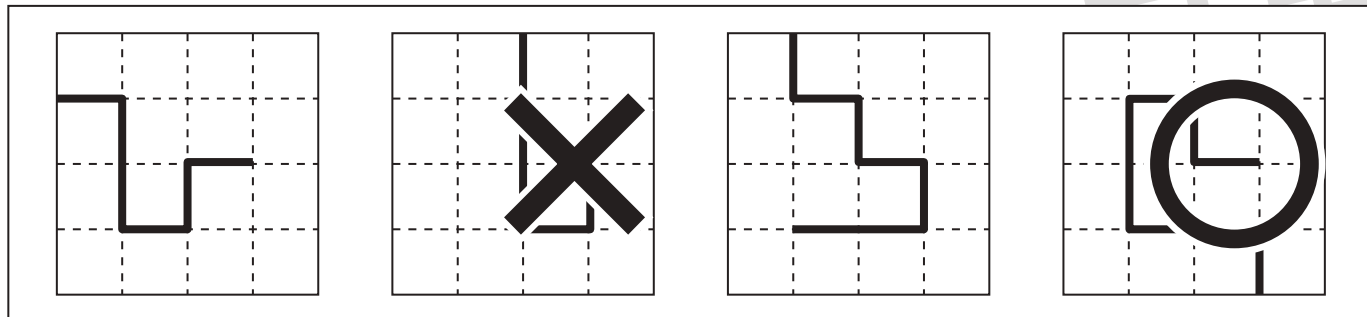


# おうちで、やろう。

Study at home. 小学校受験の家庭学習教材

数量：比較 4

横に並んだ4つの四角の中にある線の長さを比べます。まっすぐに伸ばした時、線の長さが1番長いものに○を、1番短いものに×をつけます。



※1. このプリントは、しながわ・目黒こどもスクールのウェブサイトでダウンロードができます。無断複写・引用はご遠慮ください。

※2. このプリントを活用したオンライン授業のスケジュールは、しながわ・目黒こどもスクールのウェブサイトでご確認ください。





# おうちで、やろう。

Study at home. 小学校受験の家庭学習教材

数量：比較 5

横に並んだ4つの四角の中にある線の長さを比べます。まっすぐに伸ばした時、線の長さが2番目に長いものに○を、1番短いものに×をつけます。


※1. このプリントは、しながわ・目黒こどもスクールのウェブサイトでダウンロードができます。無断複写・引用はご遠慮ください。

※2. このプリントを活用したオンライン授業のスケジュールは、しながわ・目黒こどもスクールのウェブサイトでご確認ください。



# おうちで、やろう。

Study at home. 小学校受験の家庭学習教材

数量：比較 6

横に並んだ4つの四角の中にある線の長さを比べます。まっすぐに伸ばした時、長さが違うものを1つ探して○をつけます。


※1. このプリントは、しながわ・目黒こどもスクールのウェブサイトでダウンロードができます。無断複写・引用はご遠慮ください。

※2. このプリントを活用したオンライン授業のスケジュールは、しながわ・目黒こどもスクールのウェブサイトでご確認ください。

