



おうちで、やろう。

Study at home. 小学校受験の家庭学習教材

推理：条件推理 6

スタートにいる女の子がすべての動物に会って、ゴールの宝箱まで進みます。女の子はマスを進み、マークがあるマスに着くともう一つの同じマークのところまで移動する約束です。この約束ですべての動物に会う進み方を考えて、通った道に線をかきます。

			スタート
		ゴール	

※1. このプリントは、しながわ・目黒こどもスクールのウェブサイトでダウンロードができます。無断複写・引用はご遠慮ください。
※2. このプリントを活用したオンライン授業のスケジュールは、しながわ・目黒こどもスクールのウェブサイトでご確認ください。










おうちで、やろう。

Study at home. 小学校受験の家庭学習教材

推理：条件推理 7

スタートにいる女の子がすべての動物に会って、ゴールの宝箱まで進みます。女の子はマスを進み、マークがあるマスに着くともう一つの同じマークのところまで移動する約束です。この約束ですべての動物に会う進み方を考えて、通った道に線をかきます。

スタート 		○	♡		○
		△			☆
△		□			
		♡	□		
☆	□			○	♡
○					 ゴール

※1. このプリントは、しながわ・目黒こどもスクールのウェブサイトでダウンロードができます。無断複写・引用はご遠慮ください。
※2. このプリントを活用したオンライン授業のスケジュールは、しながわ・目黒こどもスクールのウェブサイトでご確認ください。



おうちで、やろう。

Study at home. 小学校受験の家庭学習教材

推理：条件推理 8

スタートにいる女の子がすべての動物に会って、ゴールの宝箱まで進みます。女の子はマスを進み、マークがあるマスに着くともう一つの同じマークのところまで移動する約束です。この約束ですべての動物に会う進み方を考えて、通った道に線をかきます。

			スタート 		
	ゴール				

※1. このプリントは、しながわ・目黒こどもスクールのウェブサイトでダウンロードができます。無断複写・引用はご遠慮ください。

※2. このプリントを活用したオンライン授業のスケジュールは、しながわ・目黒こどもスクールのウェブサイトでご確認ください。

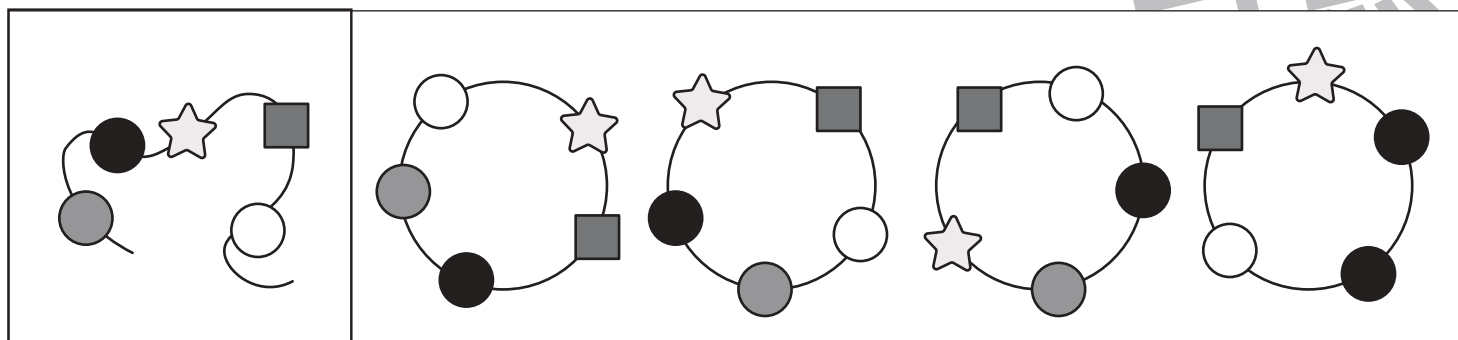
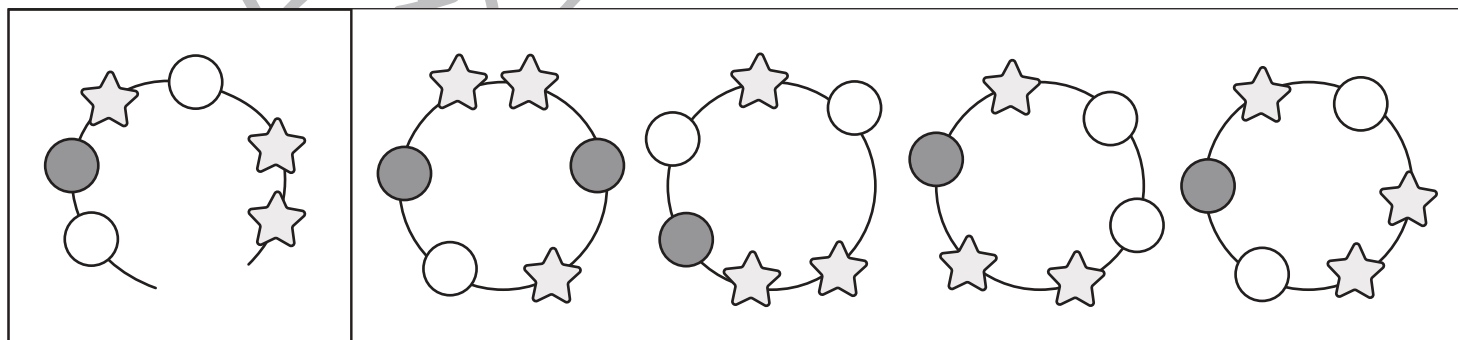
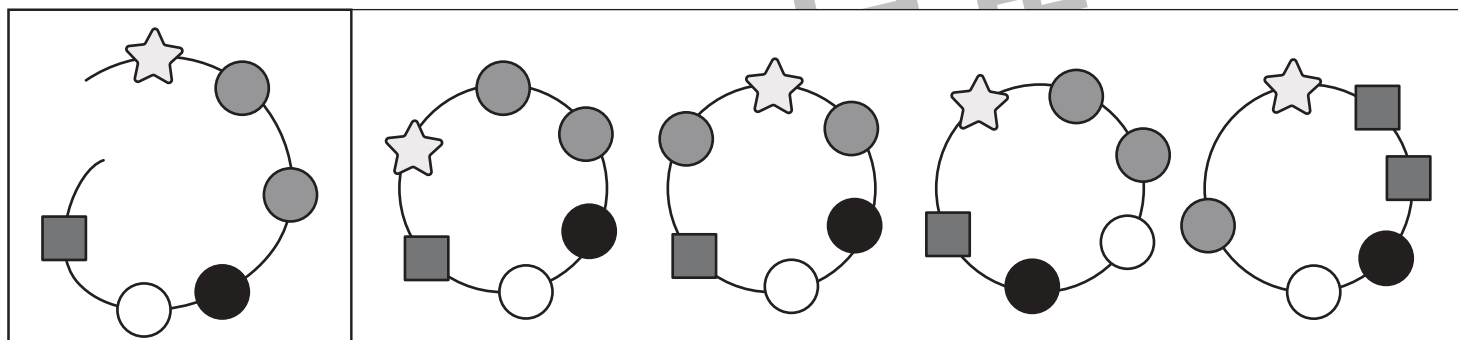
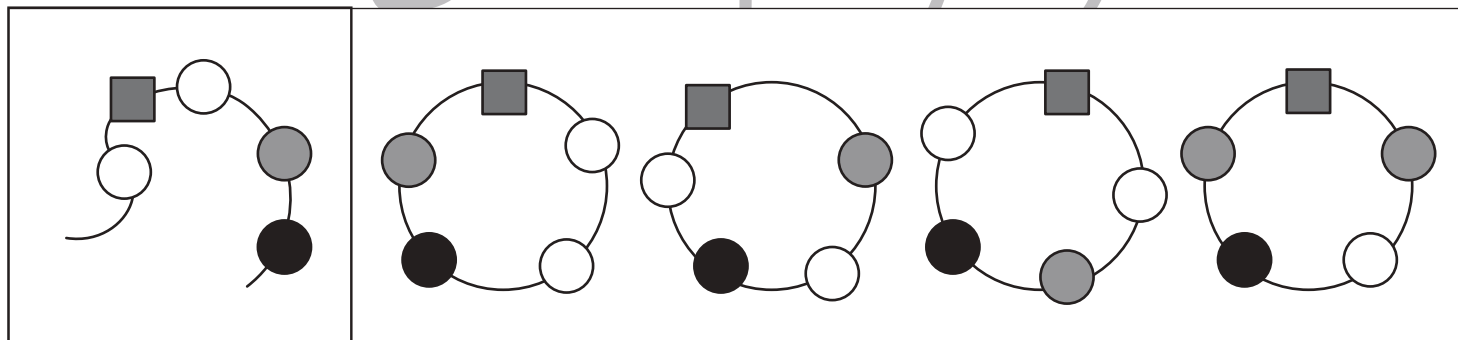
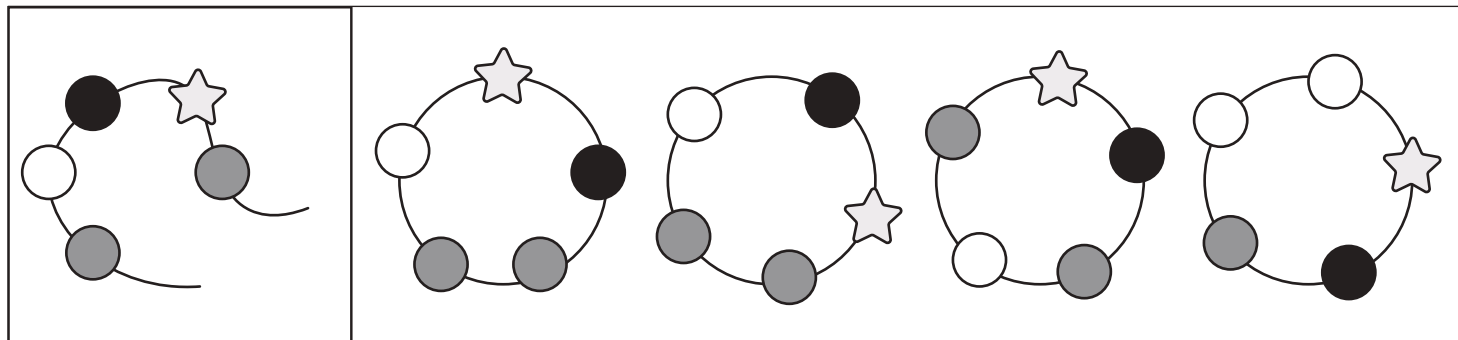


おうちで、やろう。

Study at home. 小学校受験の家庭学習教材

推理：輪つなぎ7

左の四角の中はひもにいろいろなビーズを通したものです。このひもの端と端を結びプレスレットを作ると、右の四角の中のどれになりますか。正しいものに、すべて○をつけます。プレスレットは裏返しにしてはいけません。



※1. このプリントは、しながわ・目黒こどもスクールのウェブサイトでダウンロードができます。無断複写・引用はご遠慮ください。
 ※2. このプリントを活用したオンライン授業のスケジュールは、しながわ・目黒こどもスクールのウェブサイトでご確認ください。



おうちで、やろう。

Study at home. 小学校受験の家庭学習教材

推理：輪つなぎ8

左の四角の中はひもにいろいろなビーズを通したものです。このひもの端と端を結びプレスレットを作ると、右の四角の中のどれになりますか。正しいものに○をつけます。プレスレットは裏返しにしてはいけません。

※1. このプリントは、しながわ・目黒こどもスクールのウェブサイトからダウンロードできます。無断複写・引用はご遠慮ください。

※2. このプリントを活用したオンライン授業のスケジュールは、しながわ・目黒こどもスクールのウェブサイトでご確認ください。

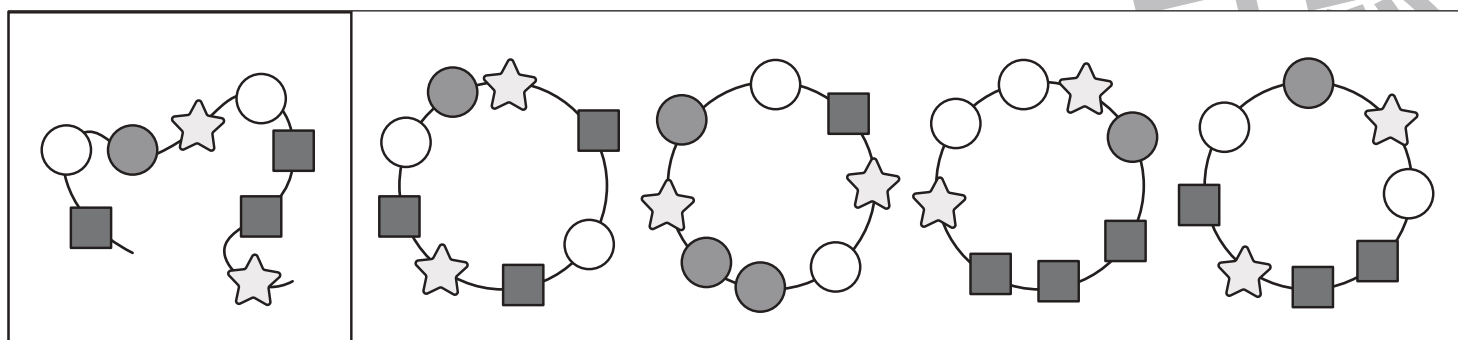
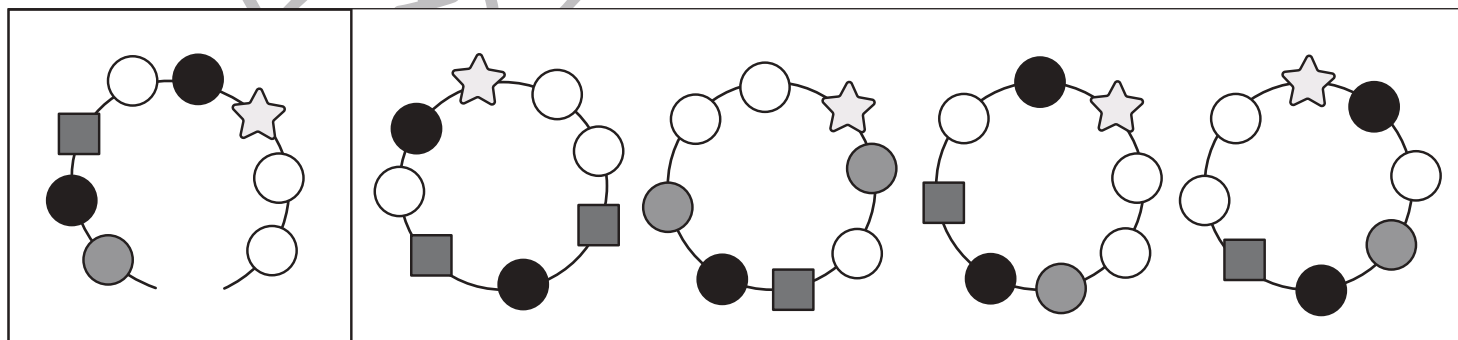
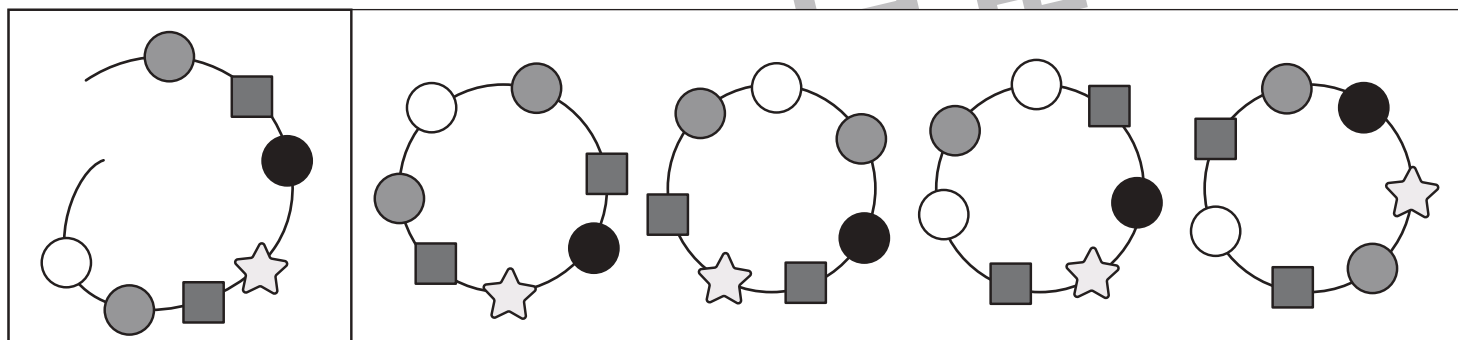
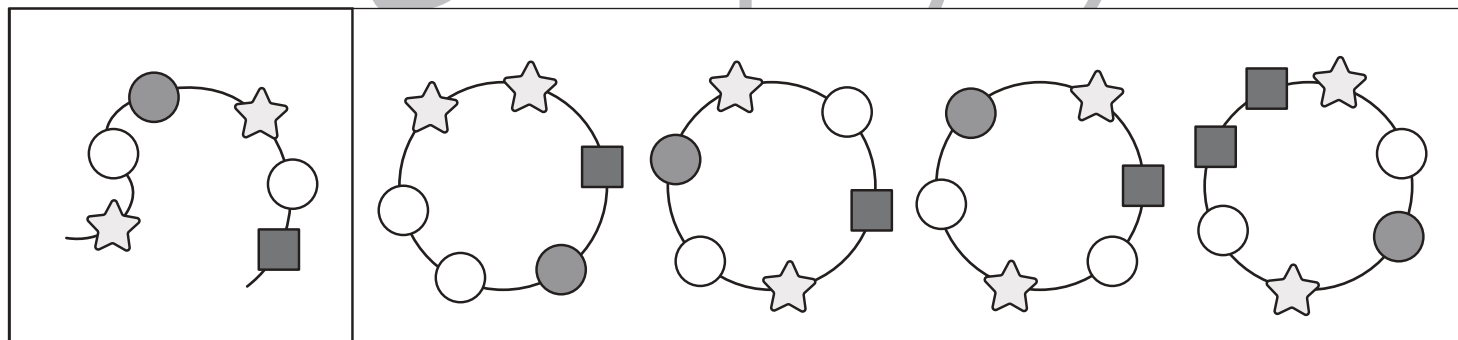
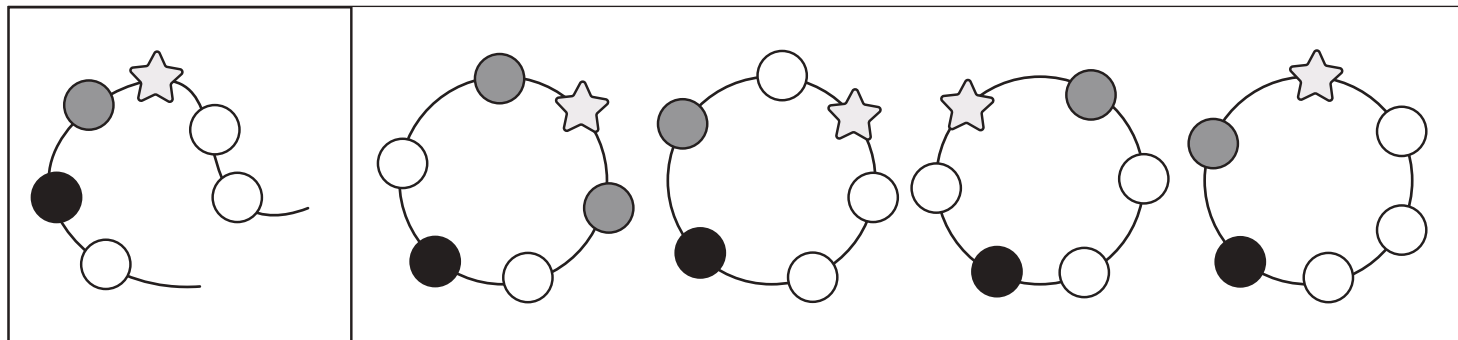


おうちで、やろう。

Study at home. 小学校受験の家庭学習教材

推理：輪つなぎ9

左の四角の中はひもにいろいろなビーズを通したものです。このひもの端と端を結びプレスレットを作ると、右の四角の中のどれになりますか。正しいものに、すべて○をつけます。プレスレットは裏返しにしてはいけません。



※1. このプリントは、しながわ・目黒こどもスクールのウェブサイトからダウンロードできます。無断複写・引用はご遠慮ください。
 ※2. このプリントを活用したオンライン授業のスケジュールは、しながわ・目黒こどもスクールのウェブサイトでご確認ください。

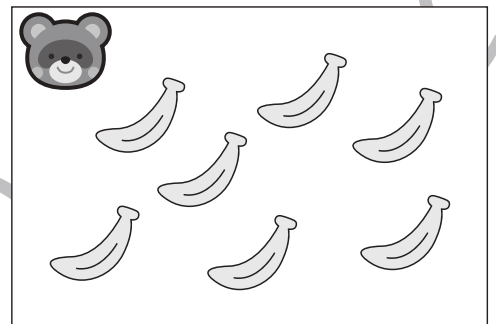

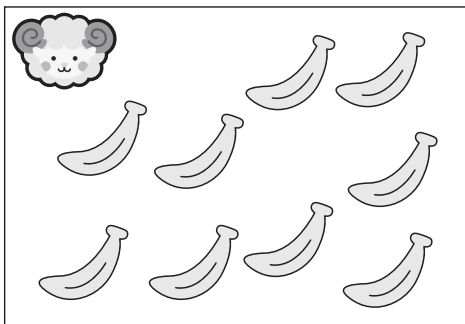
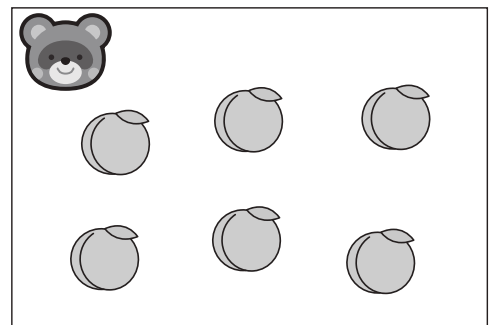

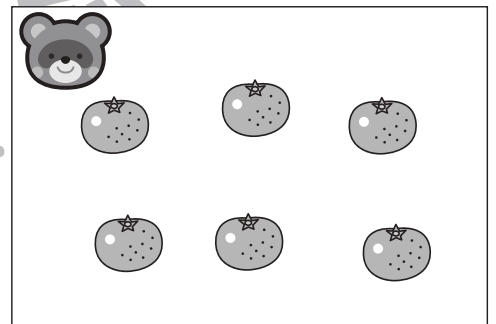

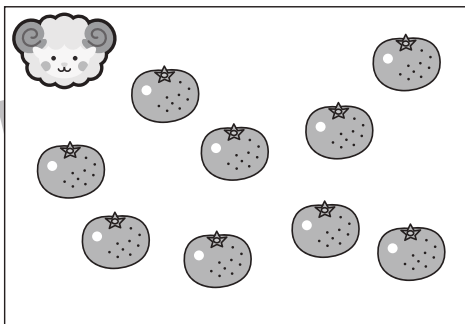
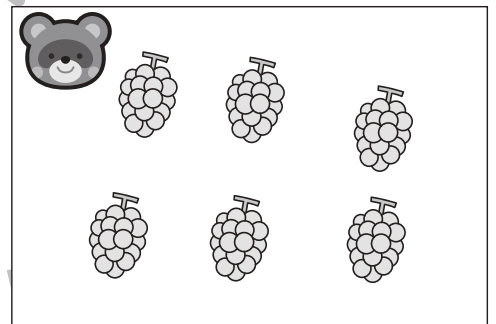

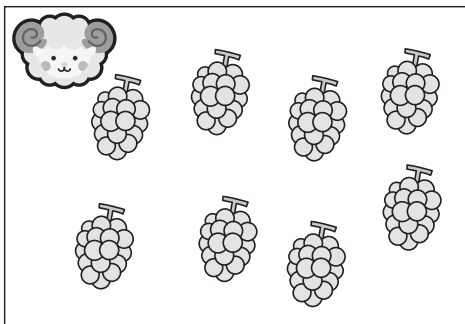





おうちで、やろう。

Study at home. 小学校受験の家庭学習教材

数量：違う数 1

ヒツジとタヌキが同じ果物を持っていますが、持っている数が違います。ヒツジはタヌキよりもいくつ多く果物を持っていますか。その数だけ真ん中の四角の中に○をかきます。



※1. このプリントは、しながわ・目黒こどもスクールのウェブサイトでダウンロードができます。無断複写・引用はご遠慮ください。
※2. このプリントを活用したオンライン授業のスケジュールは、しながわ・目黒こどもスクールのウェブサイトでご確認ください。




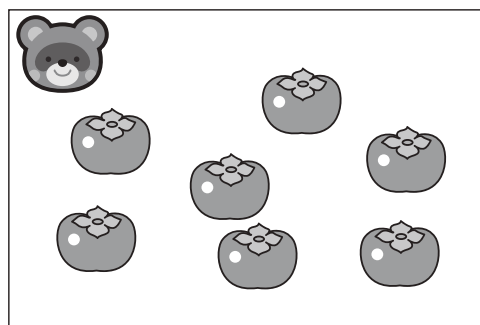

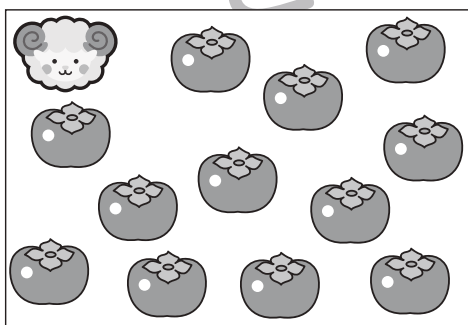
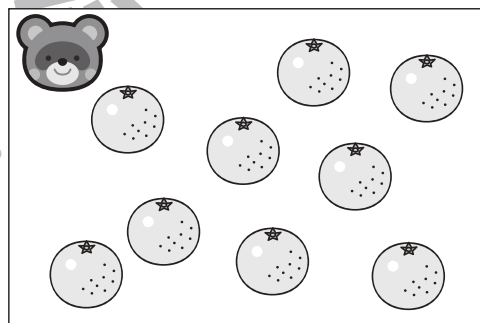

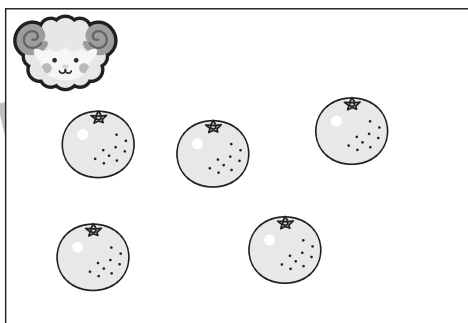
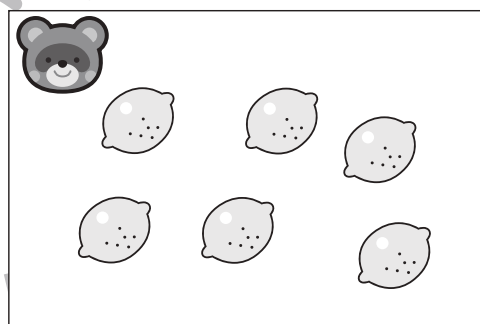
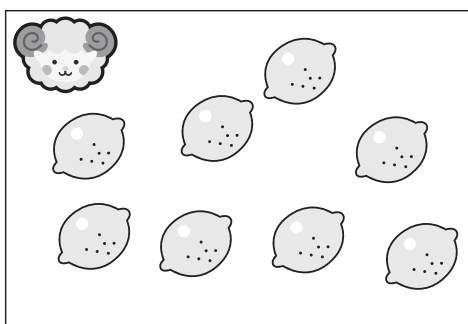
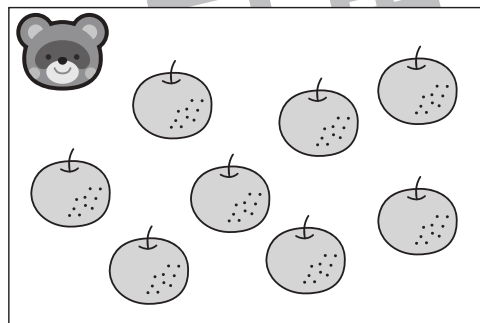



おうちで、やろう。

Study at home. 小学校受験の家庭学習教材

数量：違う数2

ヒツジとタヌキが同じ果物を持っていますが、持っている数が違います。2匹が持っている果物の数の違いはいくつですか。その数だけ真ん中の四角に○をかきます。



※1. このプリントは、しながわ・目黒こどもスクールのウェブサイトでダウンロードができます。無断複写・引用はご遠慮ください。

※2. このプリントを活用したオンライン授業のスケジュールは、しながわ・目黒こどもスクールのウェブサイトでご確認ください。











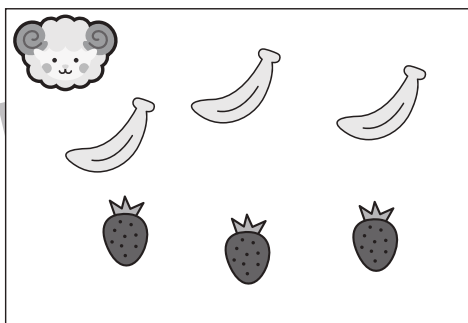







おうちで、やろう。

Study at home. 小学校受験の家庭学習教材

数量：違う数 3

ヒツジとタヌキはそれぞれバナナとイチゴを持っています。2匹が持っている果物のうちイチゴの数の違いはいくつですか。その数だけ真ん中の四角に○をかきます。



※1. このプリントは、しながわ・目黒こどもスクールのウェブサイトでダウンロードができます。無断複写・引用はご遠慮ください。

※2. このプリントを活用したオンライン授業のスケジュールは、しながわ・目黒こどもスクールのウェブサイトでご確認ください。




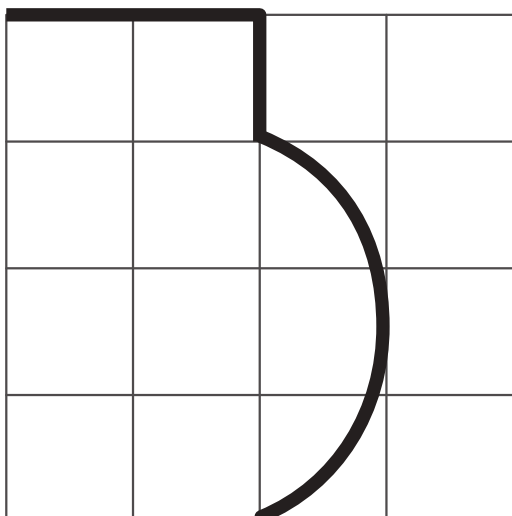

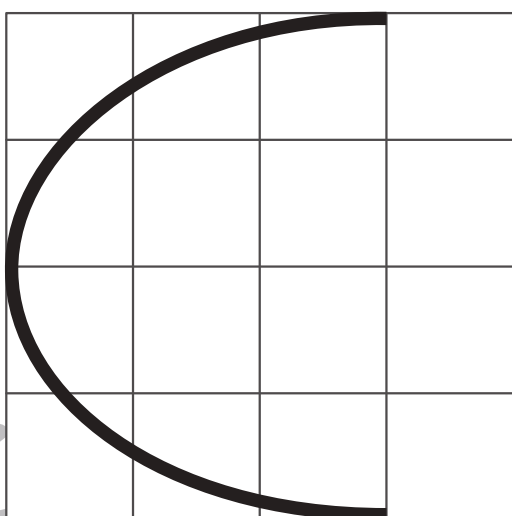
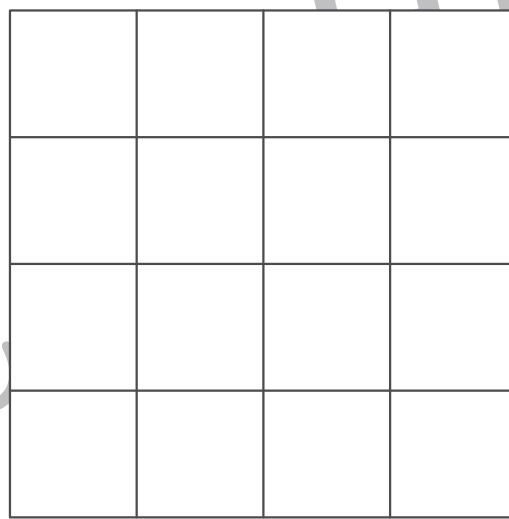
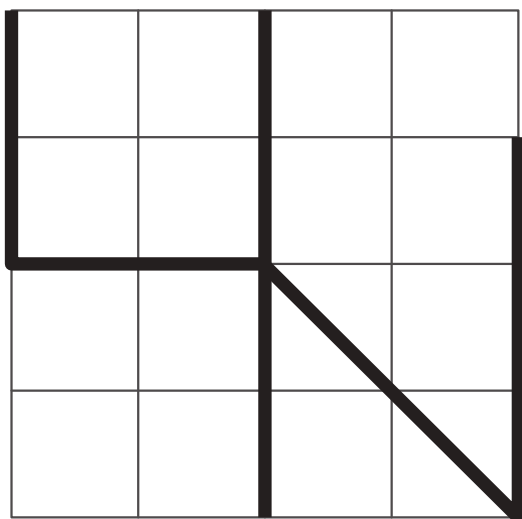


おうちで、やろう。

Study at home. 小学校受験の家庭学習教材

運筆：模写 4

左がお手本です。お手本と同じ線を右の四角にかきます。スピードを意識して、きれいな線をひきましょう。
※この問題に解答はありません。



※1. このプリントは、しながわ・目黒こどもスクールのウェブサイトでダウンロードができます。無断複写・引用はご遠慮ください。
※2. このプリントを活用したオンライン授業のスケジュールは、しながわ・目黒こどもスクールのウェブサイトでご確認ください。

