



おうちで、やろう。

Study at home. 小学校受験の家庭学習教材

指示の聞き取り7

それぞれの設問に答えましょう。指示は1度ですべて読み上げます。しっかり聞いて取り組みましょう。

- ①上から2段目の左端のマスに青のクーピーで○をかきます。
- ②一番下の段の真ん中のマスに黒のクーピーで○をかきます。
- ③上から4段目の右から3番目のマスにオレンジ色のクーピーで□をかきます。
- ④下から5段目の左から4番目のマスに緑のクーピーで△をかきます。
- ⑤右上の角のマスを鉛筆で濃く塗ります。

※1. このプリントは、しながわ・目黒こどもスクールのウェブサイトからダウンロードできます。無断複写・引用はご遠慮ください。

※2. このプリントを活用したオンライン授業のスケジュールは、しながわ・目黒こどもスクールのウェブサイトでご確認ください。

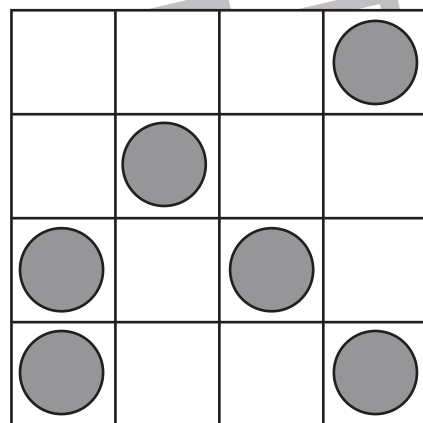
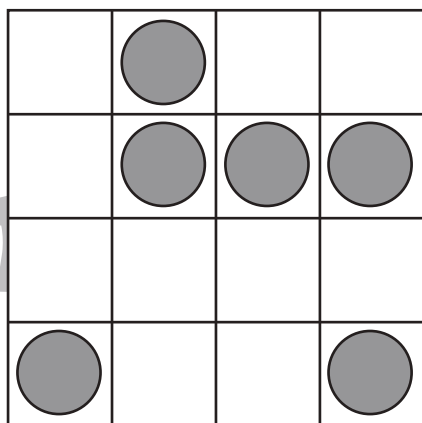
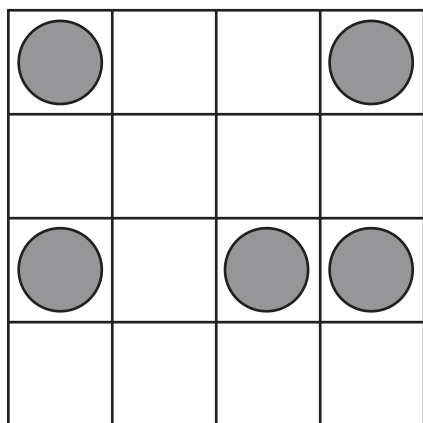
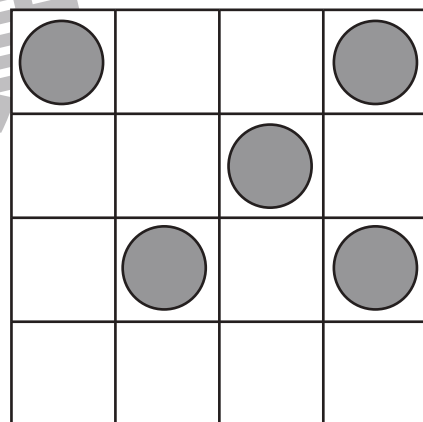
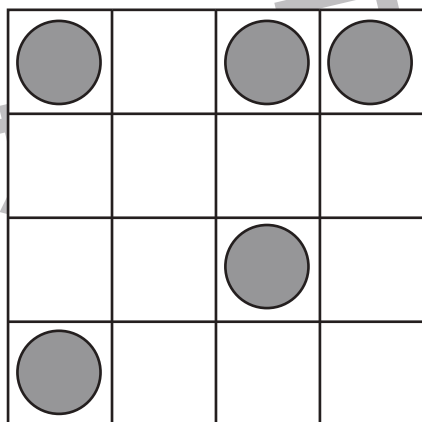
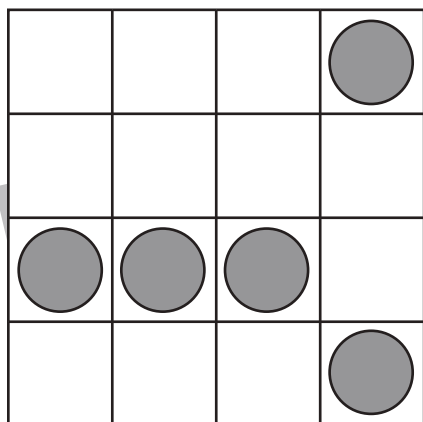
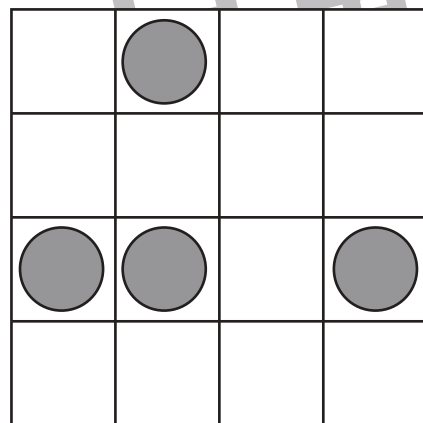
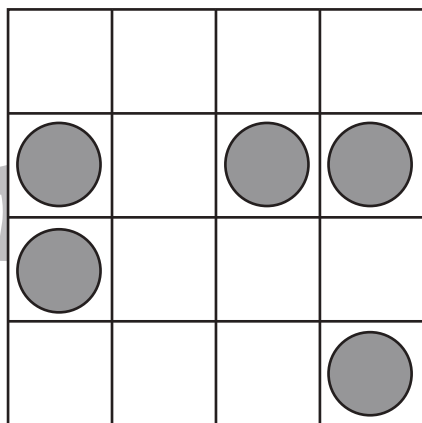
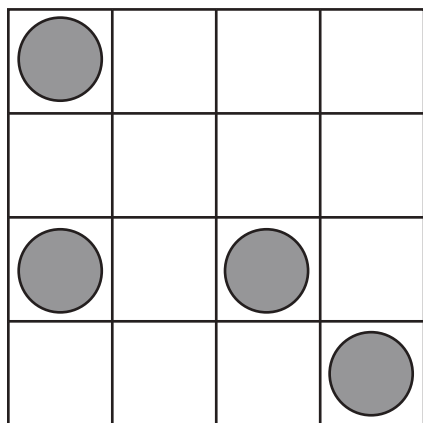


おうちで、やろう。

Study at home. 小学校受験の家庭学習教材

図形：ビンゴ 1

空いているどこかのマスに丸を1つだけかくと横か斜めのどこかに4つの丸がある列がきます。
空いているマスに1つだけ丸をかきます。



※1. このプリントは、しながわ・目黒こどもスクールのウェブサイトでダウンロードができます。無断複写・引用はご遠慮ください。
※2. このプリントを活用したオンライン授業のスケジュールは、しながわ・目黒こどもスクールのウェブサイトでご確認ください。



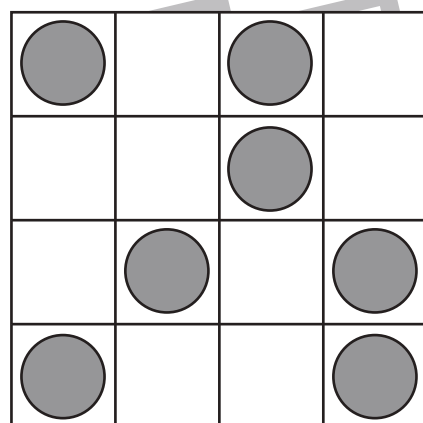
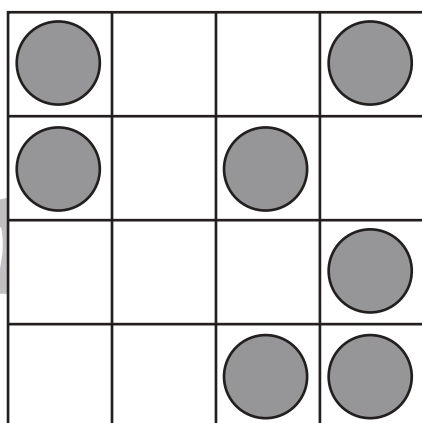
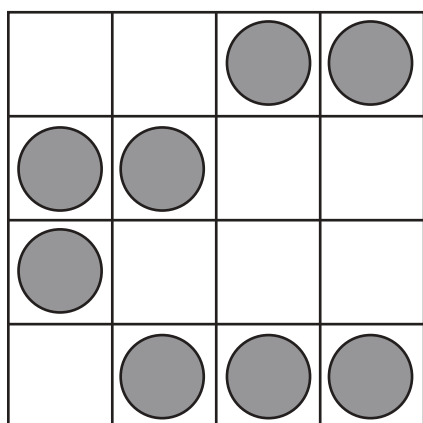
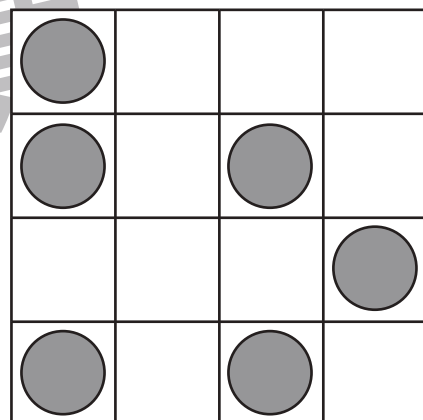
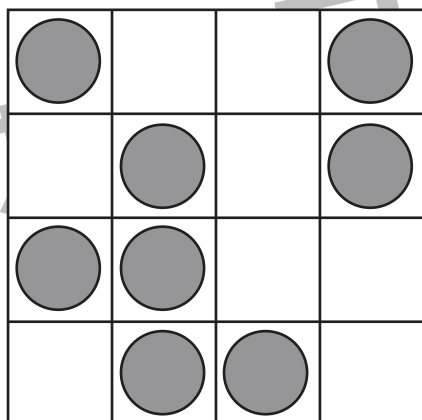
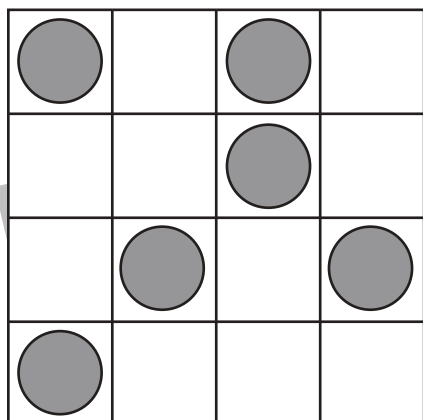
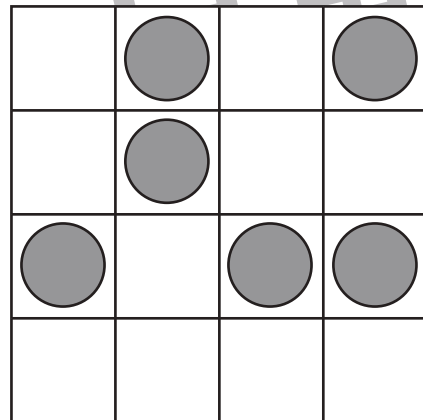
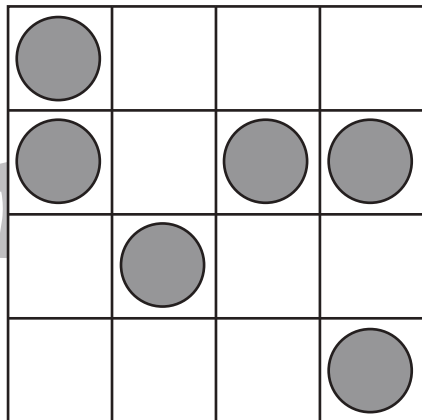
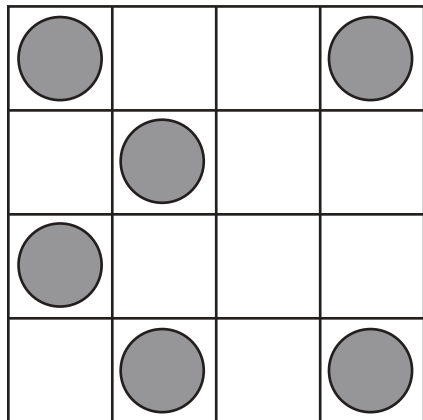


おうちで、やろう。

Study at home. 小学校受験の家庭学習教材

図形：ビンゴ2

空いているどこかのマスに丸を1つだけかくと縦・横・斜めのどこかに4つの丸がある列がきます。
空いているマスに1つだけ丸をかきます。



※1. このプリントは、しながわ・目黒こどもスクールのウェブサイトでダウンロードができます。無断複写・引用はご遠慮ください。
※2. このプリントを活用したオンライン授業のスケジュールは、しながわ・目黒こどもスクールのウェブサイトでご確認ください。



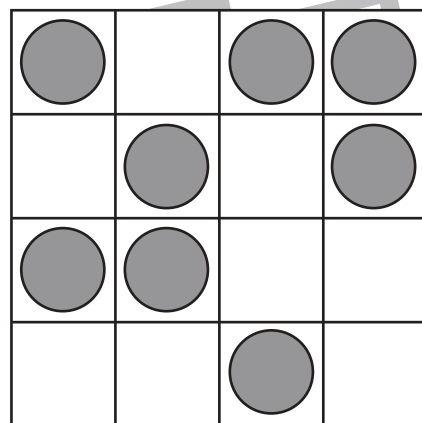
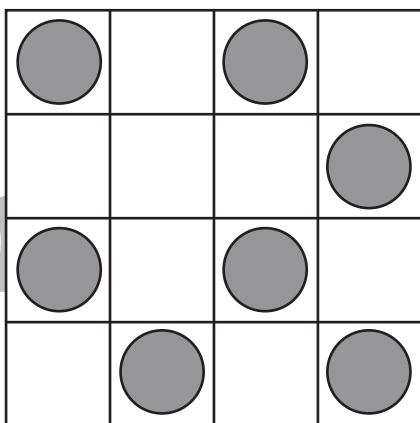
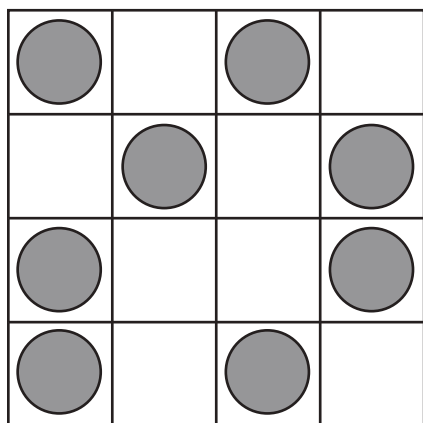
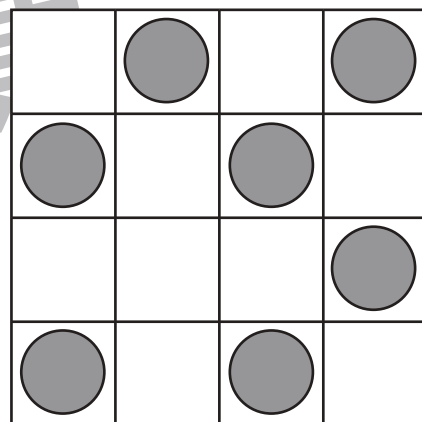
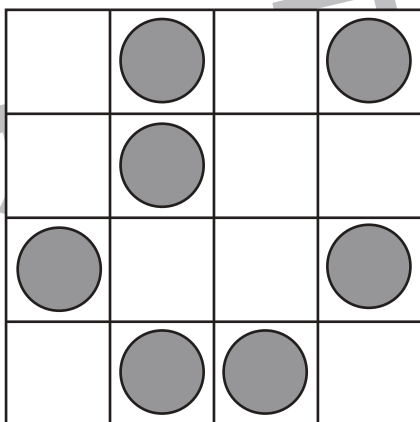
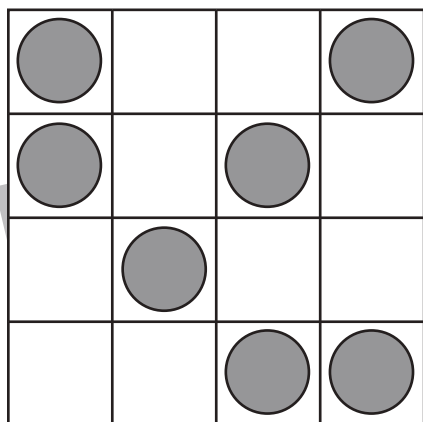
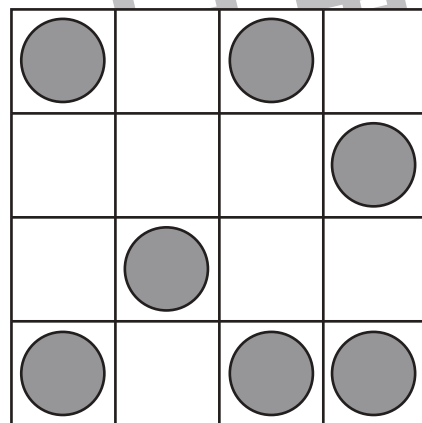
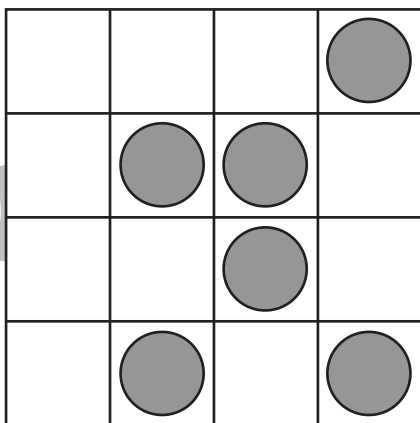
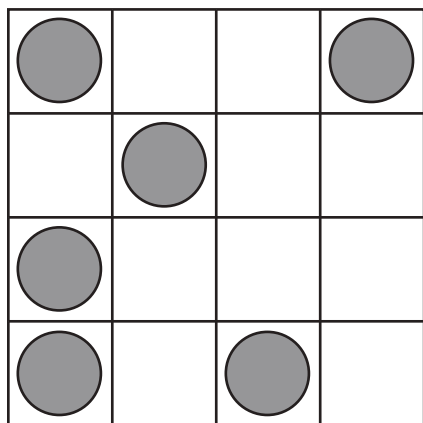


おうちで、やろう。

Study at home. 小学校受験の家庭学習教材

図形：ビンゴ3

空いているどこかのマスに丸を1つだけかくと縦・横・斜めのどこかに4つの丸がある列がきます。
空いているマスに1つだけ丸をかきます。



※1. このプリントは、しながわ・目黒こどもスクールのウェブサイトでダウンロードができます。無断複写・引用はご遠慮ください。
※2. このプリントを活用したオンライン授業のスケジュールは、しながわ・目黒こどもスクールのウェブサイトでご確認ください。








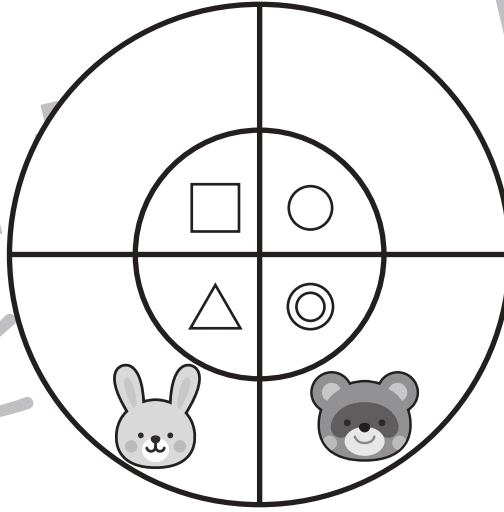



おうちで、やろう。

Study at home. 小学校受験の家庭学習教材

推理：観覧車 1

大きな丸の中には動物が、その中の小さな丸の中にはマークが描かれています。矢印の方向へ大きな丸が回ったとき、右の四角の動物が小さな丸のどのマークの場所にくるのかを考えて、そのマークをかきます。



※1. このプリントは、しながわ・目黒こどもスクールのウェブサイトでダウンロードができます。無断複写・引用はご遠慮ください。
※2. このプリントを活用したオンライン授業のスケジュールは、しながわ・目黒こどもスクールのウェブサイトでご確認ください。



おうちで、やろう。

Study at home. 小学校受験の家庭学習教材

推理：観覧車 2

大きな丸の中には動物が、その中の小さな丸の中にはマークが描かれています。矢印の方向へ大きな丸が回ったとき、右の四角の動物が小さな丸のどのマークの場所にくるのかを考えて、そのマークをかきます。

※1. このプリントは、しながわ・目黒こどもスクールのウェブサイトでダウンロードができます。無断複写・引用はご遠慮ください。
※2. このプリントを活用したオンライン授業のスケジュールは、しながわ・目黒こどもスクールのウェブサイトでご確認ください。







おうちで、やろう。

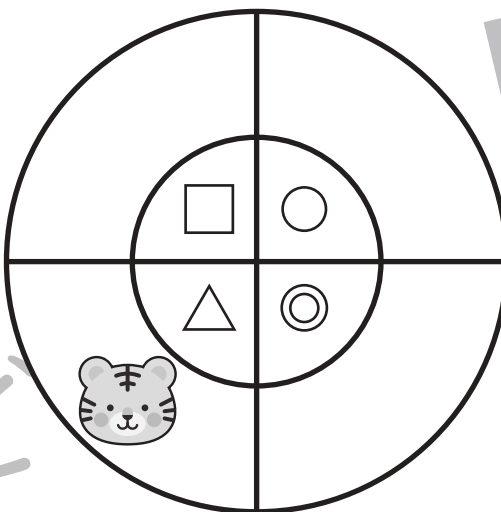

Study at home. 小学校受験の家庭学習教材

推理：観覧車 3

大きな丸の中には動物が、その中の小さな丸の中にはマークが描かれています。矢印の方向へ大きな丸が回ったとき、右の四角の動物が小さな丸のどのマークの場所にくるのかを考えて、そのマークをかきます。







※1. このプリントは、しながわ・目黒こどもスクールのウェブサイトでダウンロードができます。無断複写・引用はご遠慮ください。

※2. このプリントを活用したオンライン授業のスケジュールは、しながわ・目黒こどもスクールのウェブサイトでご確認ください。



おうちで、やろう。

Study at home. 小学校受験の家庭学習教材

数量：余る数 1

左の四角の中にお友だちが真ん中の大きな四角の中のクッキーを仲良く同じ数になるように分けます。クッキーをぴったり分けられるときは○、余るときは×を右の四角にかきます。

※1. このプリントは、しながわ・目黒こどもスクールのウェブサイトでダウンロードができます。無断複写・引用はご遠慮ください。

※2. このプリントを活用したオンライン授業のスケジュールは、しながわ・目黒こどもスクールのウェブサイトでご確認ください。



おうちで、やろう。

Study at home. 小学校受験の家庭学習教材

数量：余る数2

左の四角の中にお友だちが真ん中の大きな四角の中のクッキーを同じ数になるように分けます。このとき、余るクッキーの数だけ、右の四角に○をかきます。

※1. このプリントは、しながわ・目黒こどもスクールのウェブサイトでダウンロードができます。無断複写・引用はご遠慮ください。

※2. このプリントを活用したオンライン授業のスケジュールは、しながわ・目黒こどもスクールのウェブサイトでご確認ください。


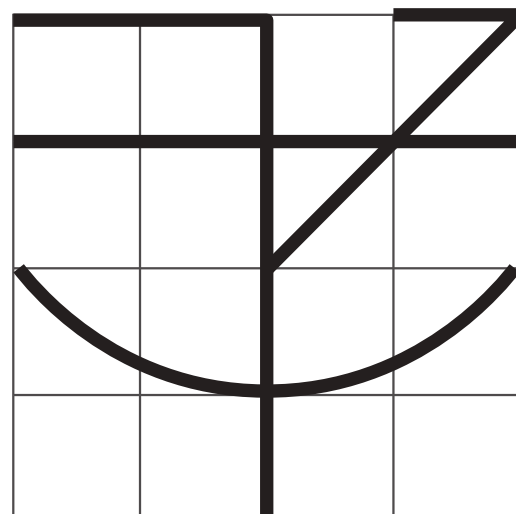

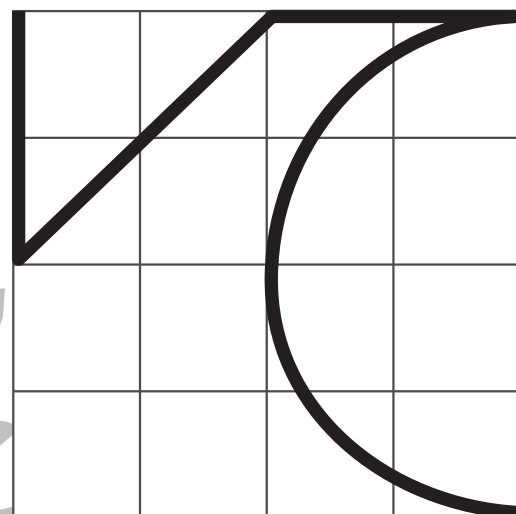
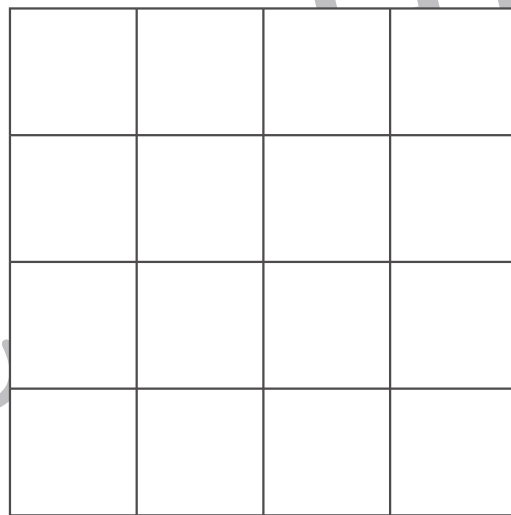
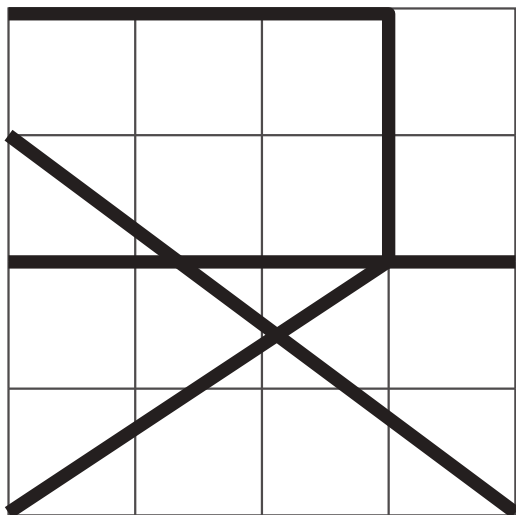


おうちで、やろう。

Study at home. 小学校受験の家庭学習教材

運筆：模写5

左がお手本です。お手本と同じ線を右の四角にかきます。
※この問題に解答はありません。



※1. このプリントは、しながわ・目黒こどもスクールのウェブサイトでダウンロードができます。無断複写・引用はご遠慮ください。
※2. このプリントを活用したオンライン授業のスケジュールは、しながわ・目黒こどもスクールのウェブサイトでご確認ください。

