




おうちで、やろう。

Study at home. 小学校受験の家庭学習教材

指示の聞き取り 9

マンションに動物たちが住んでいます。指示は1度ですべて読み上げます。しっかり聞いて、問題に答えましょう。

- ①一番上の階の右から2番目の部屋に住んでいる動物に青のクーピーで○をつけます。
- ②4階の左端の部屋に住んでいる動物に黒のクーピーで○をつけます。
- ③2階の右端の部屋に住んでいる動物にオレンジ色のクーピーで○をつけます。
- ④1階の左から4番目の部屋に住んでいる動物に緑色のクーピーで○をつけます。
- ⑤動物マンションの中心の部屋に住んでいる動物に青のクーピーで△をかきます。



※1. このプリントは、しながわ・目黒こどもスクールのウェブサイトでダウンロードができます。無断複写・引用はご遠慮ください。
 ※2. このプリントを活用したオンライン授業のスケジュールは、しながわ・目黒こどもスクールのウェブサイトでご確認ください。



おうちで、やろう。

Study at home. 小学校受験の家庭学習教材

図形：鏡 13

左の四角の絵を真ん中にある鏡で映した時の見え方が右の四角です。見え方が正しければ○、間違えていれば×を右の四角につけます。

※1. このプリントは、しながわ・目黒こどもスクールのウェブサイトでダウンロードができます。無断複写・引用はご遠慮ください。
 ※2. このプリントを活用したオンライン授業のスケジュールは、しながわ・目黒こどもスクールのウェブサイトでご確認ください。

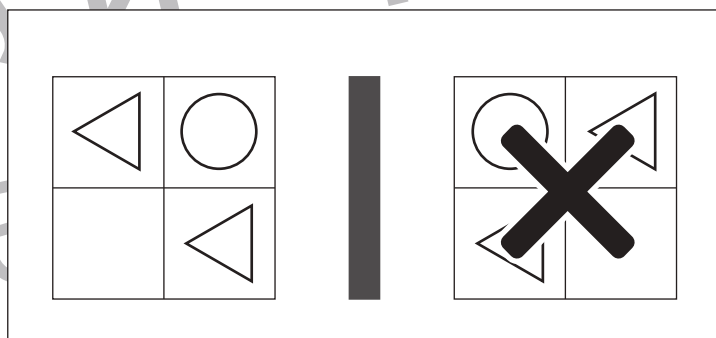
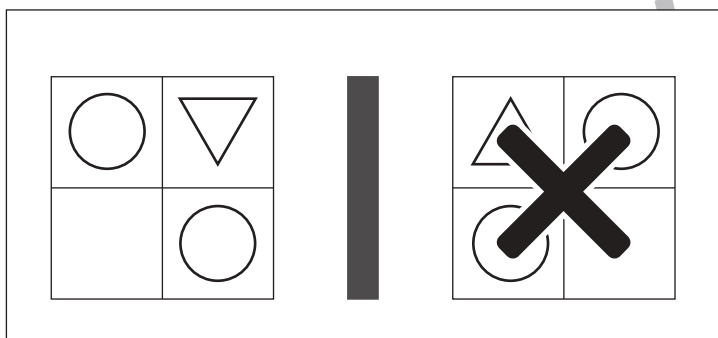
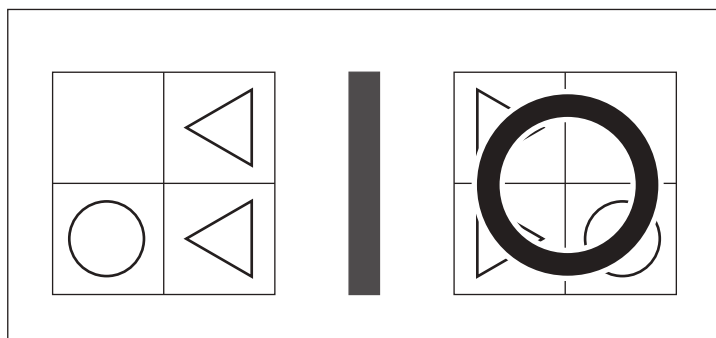
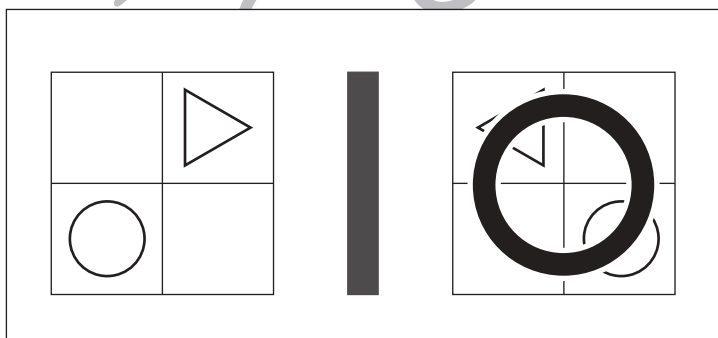
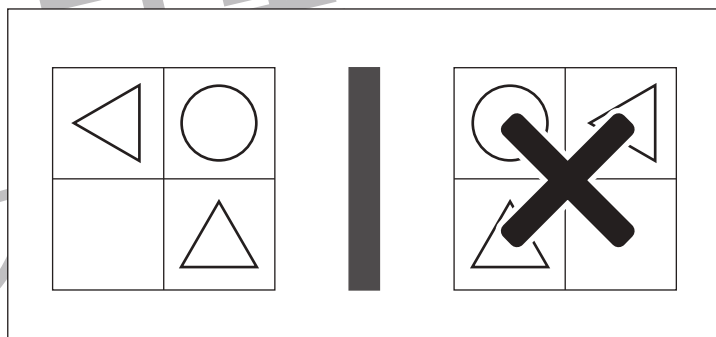
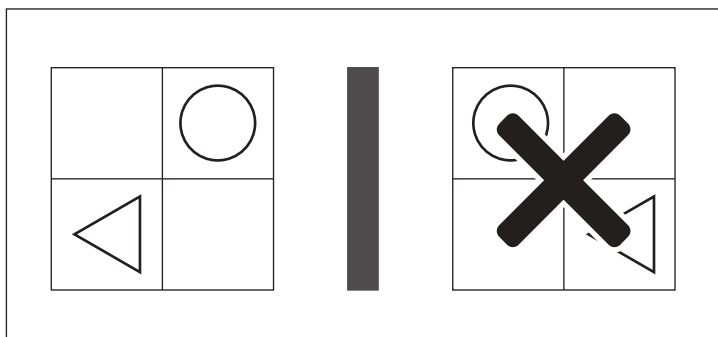

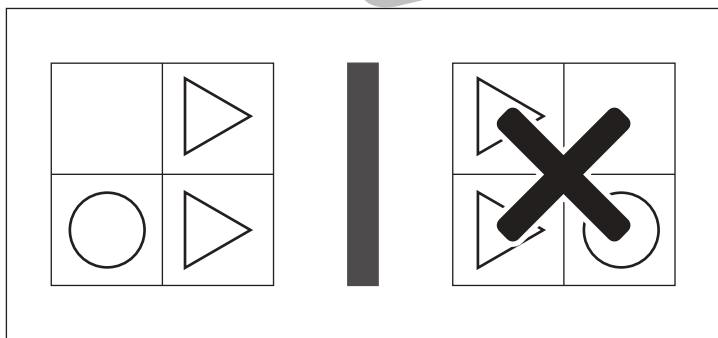
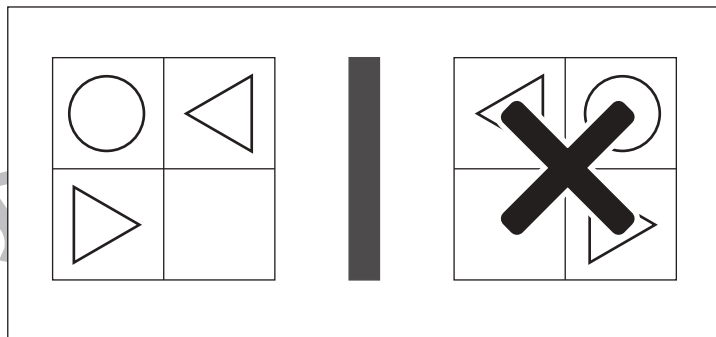
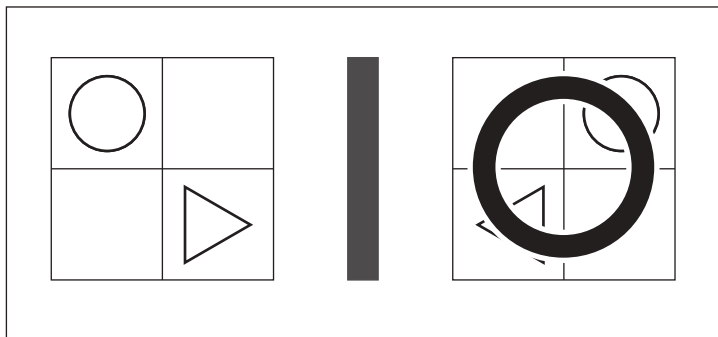


おうちで、やろう。

Study at home. 小学校受験の家庭学習教材

図形：鏡 14

左の四角の絵を真ん中にある鏡で映した時の見え方が右の四角です。見え方が正しければ○、間違えていれば×を右の四角につけます。



※1. このプリントは、しながわ・目黒こどもスクールのウェブサイトでダウンロードができます。無断複写・引用はご遠慮ください。
 ※2. このプリントを活用したオンライン授業のスケジュールは、しながわ・目黒こどもスクールのウェブサイトでご確認ください。

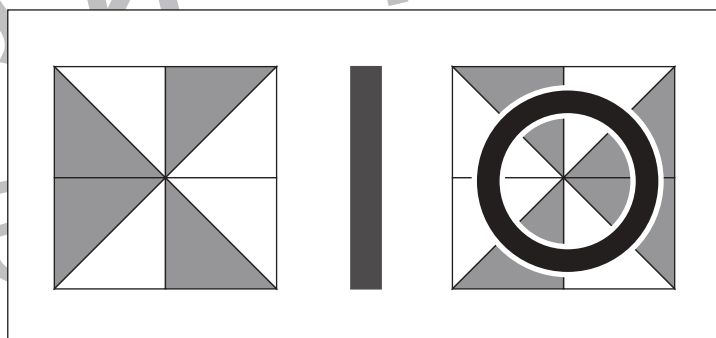
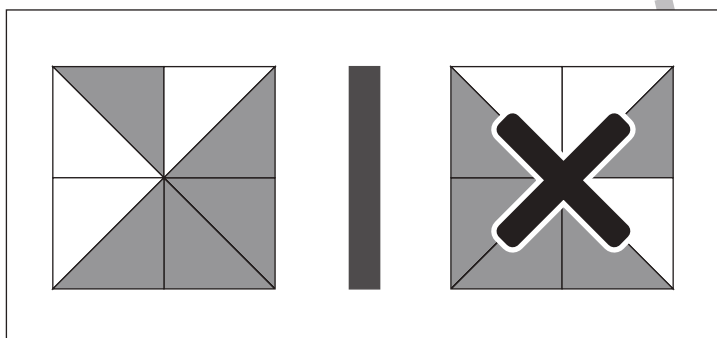
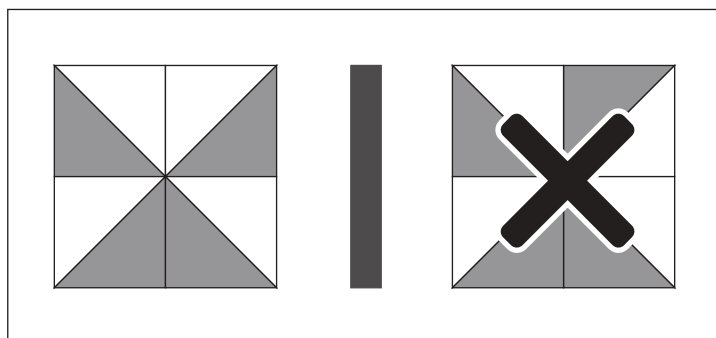
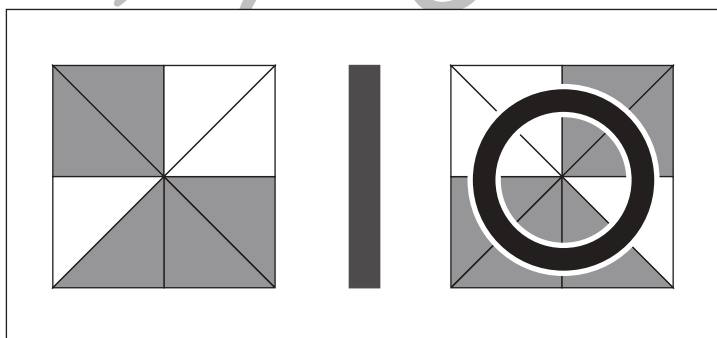
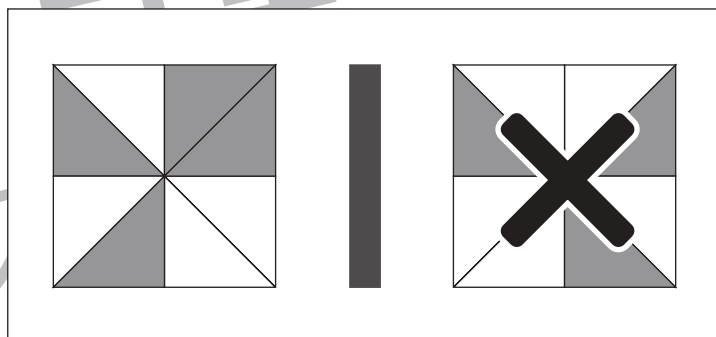
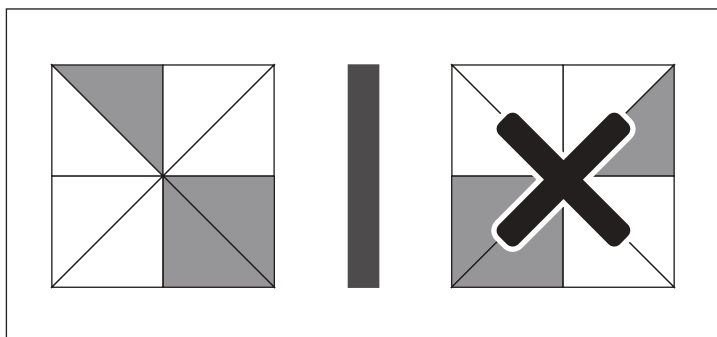
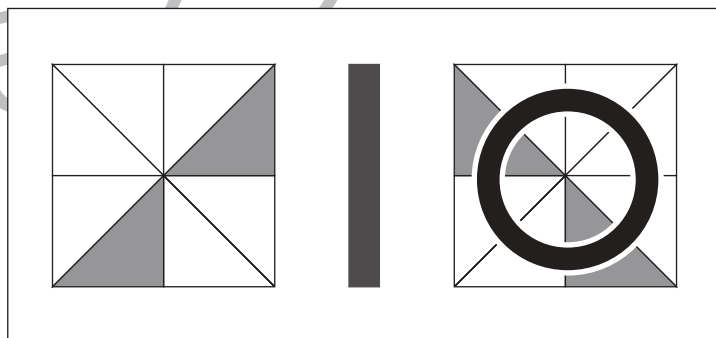
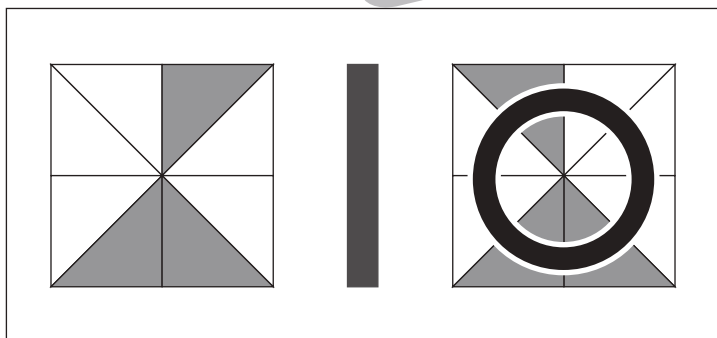
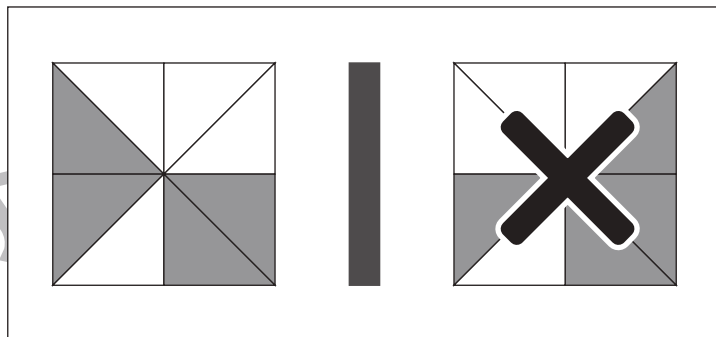
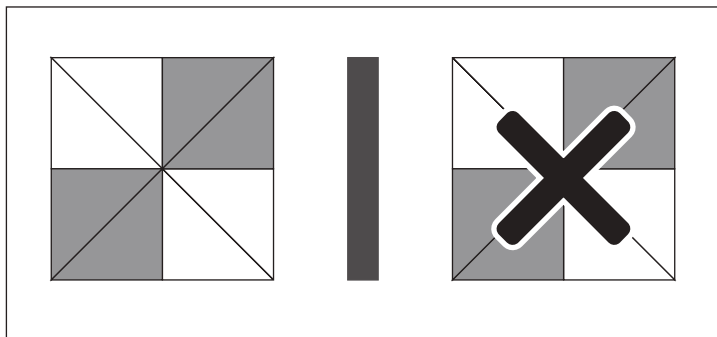


おうちで、やろう。

Study at home. 小学校受験の家庭学習教材

図形：鏡 15

左の四角の絵を真ん中にある鏡で映した時の見え方が右の四角です。見え方が正しければ○、間違えていれば×を右の四角につけます。



※1. このプリントは、しながわ・目黒こどもスクールのウェブサイトでダウンロードができます。無断複写・引用はご遠慮ください。
※2. このプリントを活用したオンライン授業のスケジュールは、しながわ・目黒こどもスクールのウェブサイトでご確認ください。



おうちで、やろう。

Study at home. 小学校受験の家庭学習教材

推理：四方観察 7

左の太い四角の中の積み木がお手本です。このお手本を男の子の方（右側）から見たときの見え方を考えます。男の子が見えている積み木の数だけ右の四角の○を1つずつ囲みます。

※1. このプリントは、しながわ・目黒こどもスクールのウェブサイトでダウンロードができます。無断複写・引用はご遠慮ください。

※2. このプリントを活用したオンライン授業のスケジュールは、しながわ・目黒こどもスクールのウェブサイトでご確認ください。



おうちで、やろう。

Study at home. 小学校受験の家庭学習教材

推理：四方観察 8

左の太い四角の中の積み木がお手本です。このお手本を女の子の方（左側）から見たときの見え方を考えます。女の子が見えている積み木の数だけ右の四角の○を1つずつ囲みます。

※1. このプリントは、しながわ・目黒こどもスクールのウェブサイトでダウンロードができます。無断複写・引用はご遠慮ください。

※2. このプリントを活用したオンライン授業のスケジュールは、しながわ・目黒こどもスクールのウェブサイトでご確認ください。



おうちで、やろう。

Study at home. 小学校受験の家庭学習教材

推理：四方観察 9

左の太い四角の中の積み木がお手本です。このお手本を男の子が上からのぞいて（上から）見たときの見え方を考えます。男の子が見えている積み木の数だけ右の四角の○を1つずつ囲みます。

※1. このプリントは、しながわ・目黒こどもスクールのウェブサイトでダウンロードができます。無断複写・引用はご遠慮ください。

※2. このプリントを活用したオンライン授業のスケジュールは、しながわ・目黒こどもスクールのウェブサイトでご確認ください。




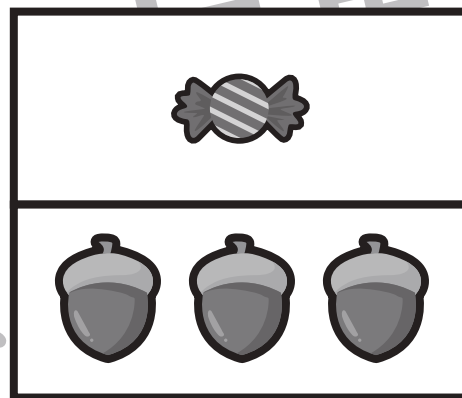




おうちで、やろう。

Study at home. 小学校受験の家庭学習教材

数量：置き換え3

上の太い四角が約束です。それぞれのおやつは絵の下のドングリの数で買うことができます。この約束のとき、左の四角の中のおやつを全部買うために必要なドングリはいくつですか。その数だけ右の四角に○をかきます。



※1. このプリントは、しながわ・目黒こどもスクールのウェブサイトからダウンロードできます。無断複写・引用はご遠慮ください。

※2. このプリントを活用したオンライン授業のスケジュールは、しながわ・目黒こどもスクールのウェブサイトでご確認ください。





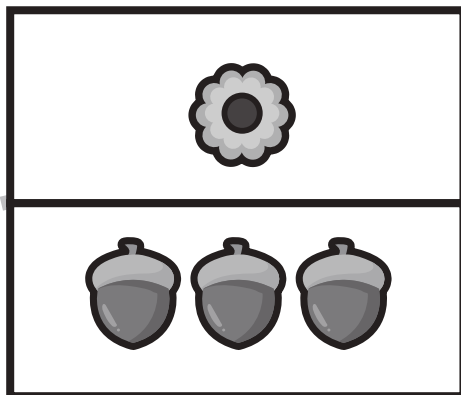



おうちで、やろう。


Study at home. 小学校受験の家庭学習教材

数量：置き換え 4

上の太い四角が約束です。それぞれのおやつは絵の下のドングリの数で買うことができます。この約束のとき、左の四角の中のおやつを全部買うために必要なドングリはいくつですか。その数だけ右の四角に○をかきます。



$$\bigcirc \times 7$$



$$\bigcirc \times 11$$



$$\bigcirc \times 9$$



$$\bigcirc \times 13$$

※1. このプリントは、しながわ・目黒こどもスクールのウェブサイトでダウンロードができます。無断複写・引用はご遠慮ください。

※2. このプリントを活用したオンライン授業のスケジュールは、しながわ・目黒こどもスクールのウェブサイトでご確認ください。

