




下の四角の中から料理に使う道具を見つけて○をつけましょう。




※1. このプリントは、しながわ・目黒こどもスクールのウェブサイトダウンロードができます。無断複写・引用はご遠慮ください。
※2. このプリントを活用したオンライン授業のスケジュールは、しながわ・目黒こどもスクールのウェブサイトでご確認ください。





下の四角の中から、切るときに使う道具を見つけて○をつけましょう。




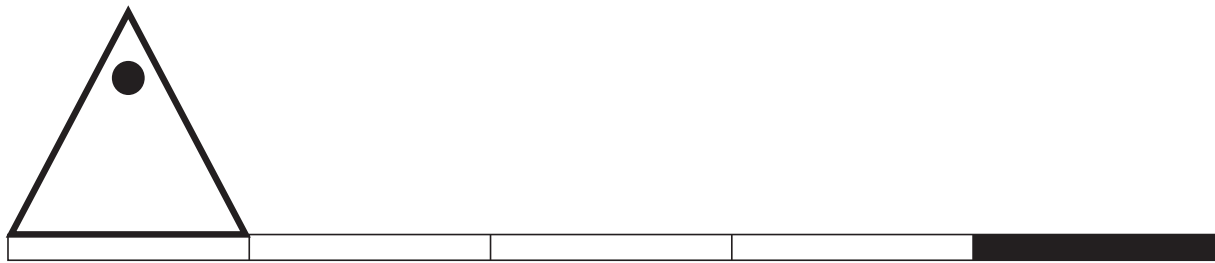
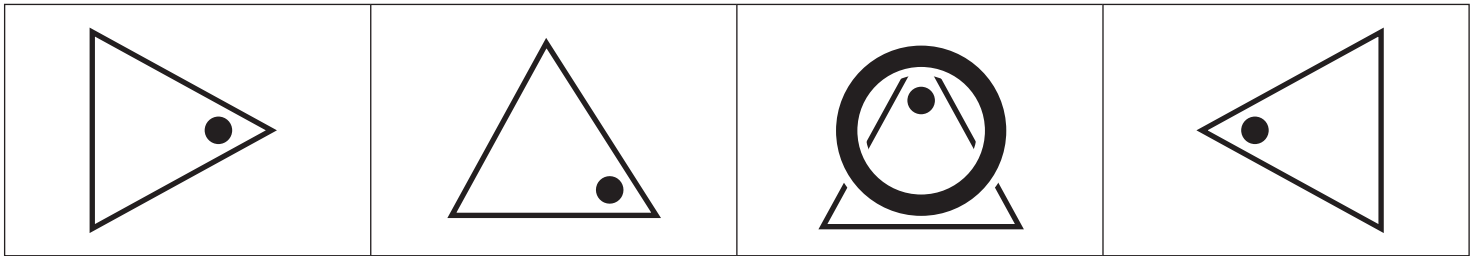
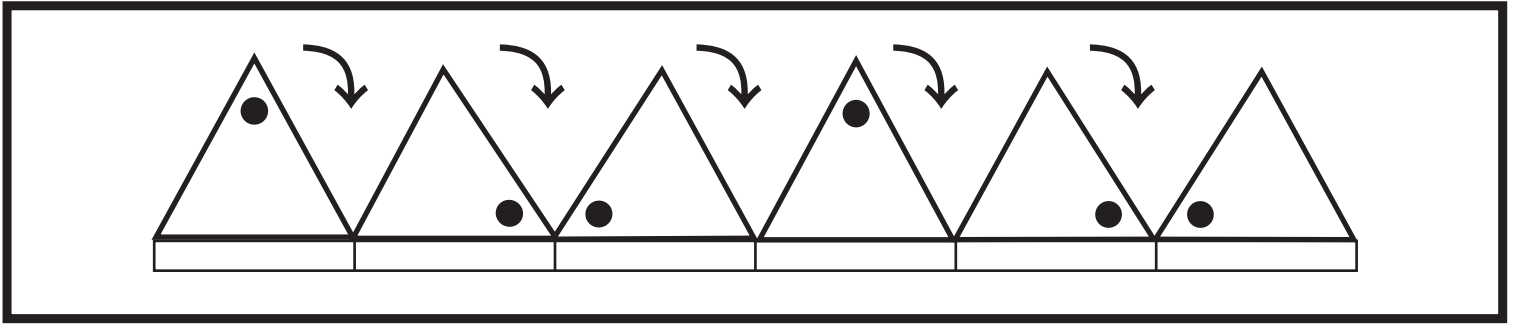


おうちで、やろう。 年中児版

Study at home. 小学校受験の家庭学習教材

図形：回転5

上の太い四角の中は三角が板の上を矢印の向きに一回ずつ倒れているときの様子です。この様子を見て、一番左にある三角が矢印の向きに一回ずつ倒れていく時、黒い板の場所にきたときの見え方を、下の四角の中から見つけて○をつけます。



※1. このプリントは、しながわ・目黒こどもスクールのウェブサイトでダウンロードができます。無断複写・引用はご遠慮ください。
※2. このプリントを活用したオンライン授業のスケジュールは、しながわ・目黒こどもスクールのウェブサイトでご確認ください。

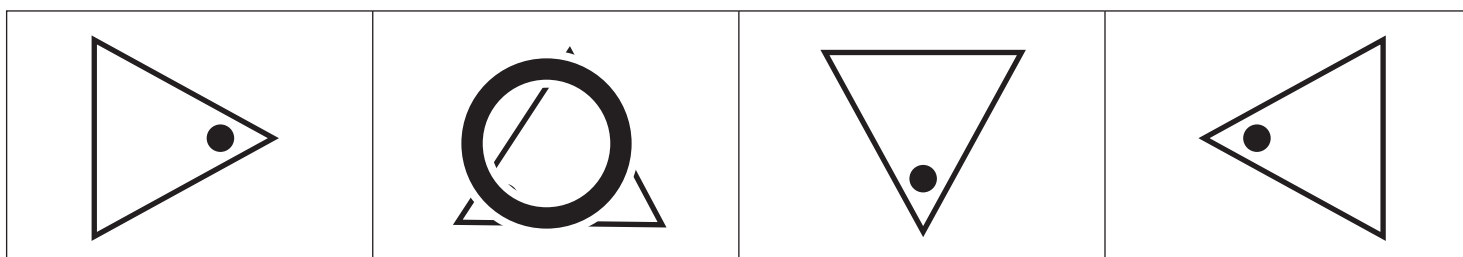
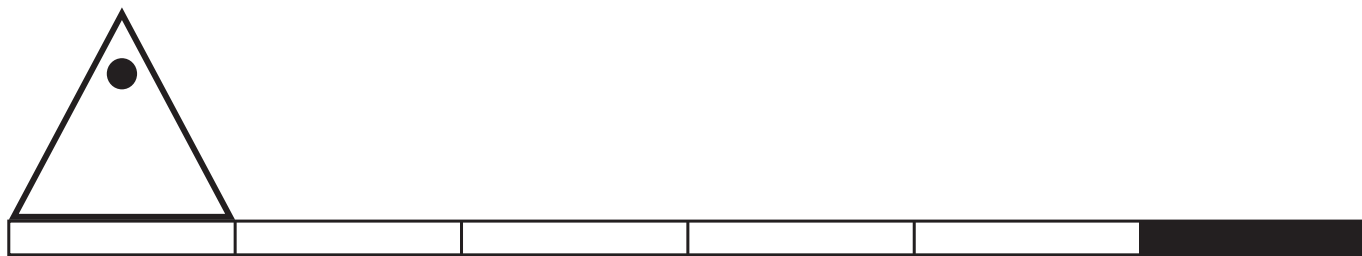
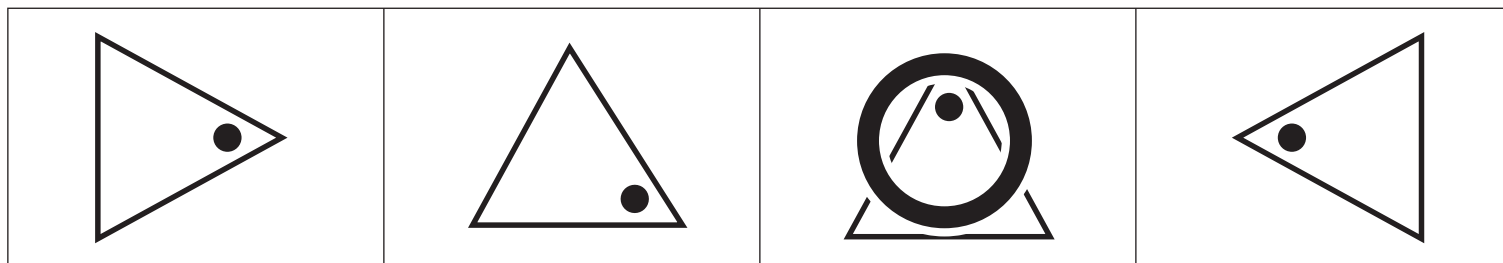
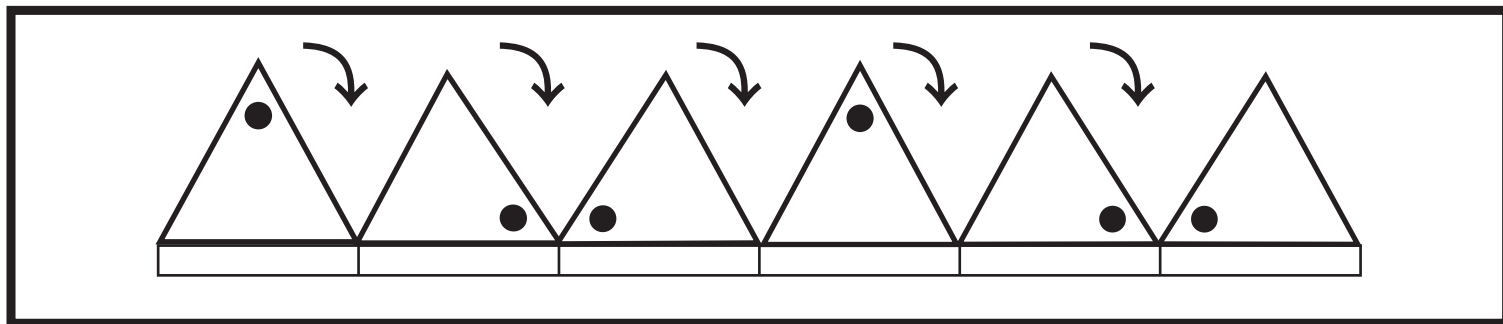


おうちで、よろう。 年中児版

Study at home. 小学校受験の家庭学習教材

図形：回転6

上の太い四角の中は三角が板の上を矢印の向きに一回ずつ倒れているときの様子です。この様子を見て、一番左にある三角が矢印の向きに一回ずつ倒れていく時、黒い板の場所に来たときの見え方を、下の四角の中から見つけて○をつけます。



※1. このプリントは、しながわ・目黒こどもスクールのウェブサイトからダウンロードできます。無断複写・引用はご遠慮ください。
※2. このプリントを活用したオンライン授業のスケジュールは、しながわ・目黒こどもスクールのウェブサイトでご確認ください。










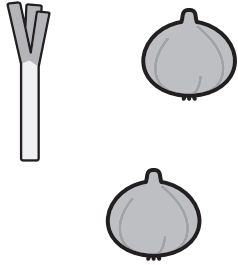
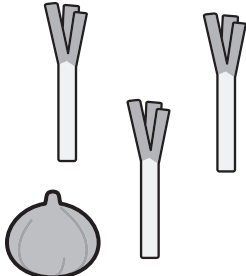
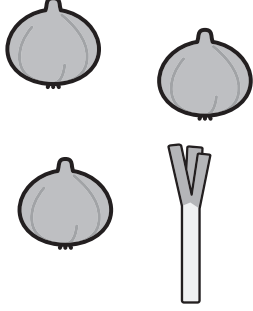
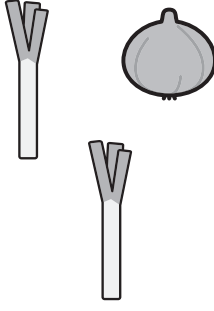

それぞれの動物がお母さんにお買い物頼まりました。お母さんに頼まれたものと同じものを買っている絵をみつけてその絵の下の四角に○をつけましょう。





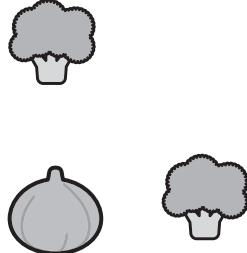

①サルは「ブロッコリーを1つ、だいこんを1本お願いね」と頼まりました。

②ウサギは「たまねぎを1つ、ねぎを3本お願いね」と頼まりました。

③ニワトリは「たまねぎを2つ、ブロッコリーも2つお願いね」と頼まりました。

① 				
				

② 				
				

③ 				
				



おうちで、やろう。 年中児版

Study at home. 小学校受験の家庭学習教材

数量：計数 13

真ん中の太い四角の中の絵を数えて、それぞれの記号がかかれている四角の中にその数だけ〇をかきましょう。
※答えは矢印の書かれている方の四角にかきます。

※1. このプリントは、しながわ・目黒こどもスクールのウェブサイトでダウンロードができます。無断複写・引用はご遠慮ください。
 ※2. このプリントを活用したオンライン授業のスケジュールは、しながわ・目黒こどもスクールのウェブサイトでご確認ください。



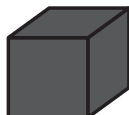
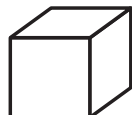
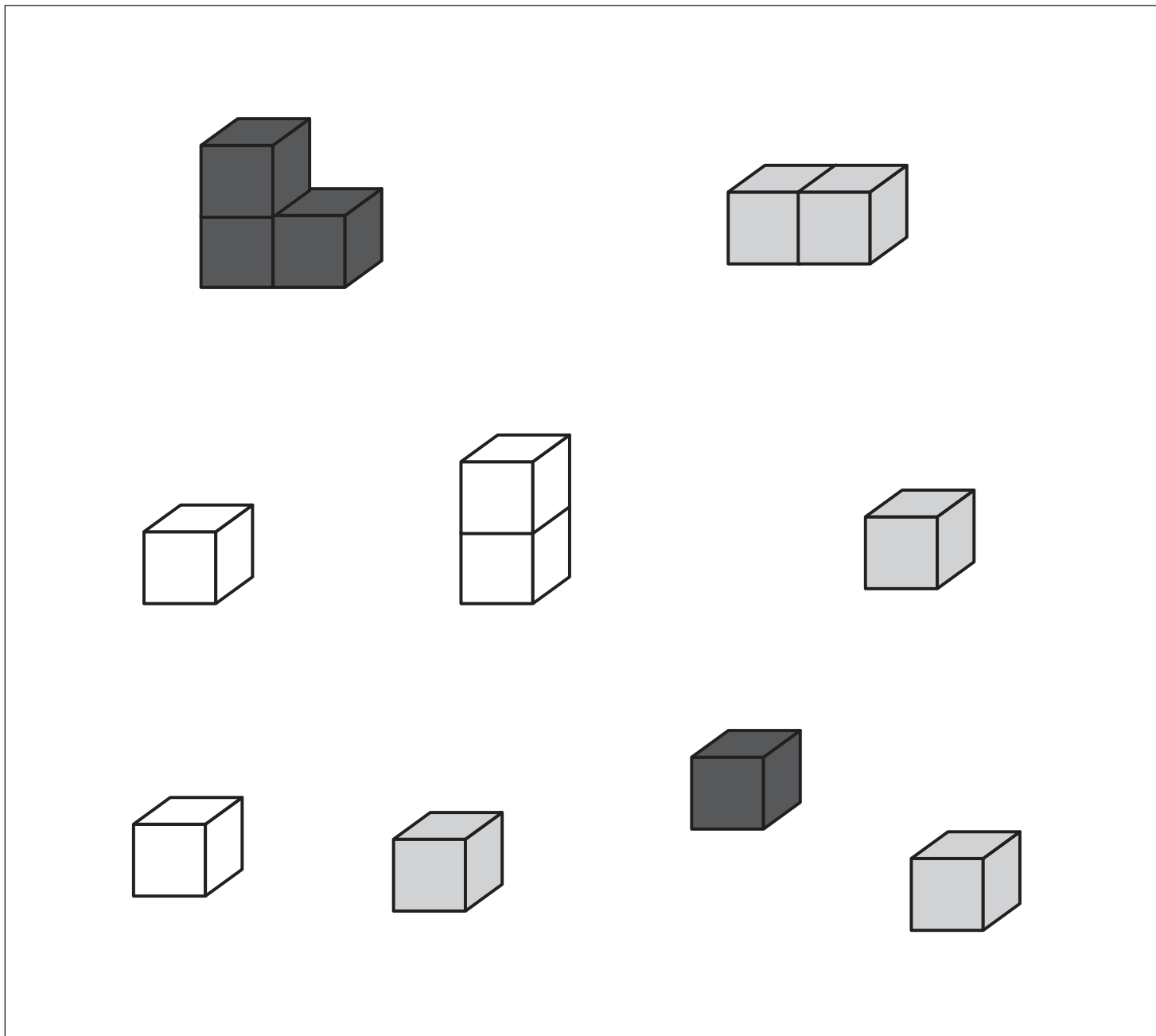
おうちで、やろう。 年中児版

Study at home. 小学校受験の家庭学習教材

数量：条件推理 1

下の四角の中に、3色の積み木が並んでいます。

同じ色の積み木をできるだけ高く積みます。積み木は、ばらばらにすることも出来ます。この時、一番高く積むことができる積み木を★の四角から選んで○をつけ、☆の四角に積んだ積み木の数だけ○をかきましょう。



○×5

※1. このプリントは、しながわ・目黒こどもスクールのウェブサイトでダウンロードができます。無断複写・引用はご遠慮ください。

※2. このプリントを活用したオンライン授業のスケジュールは、しながわ・目黒こどもスクールのウェブサイトでご確認ください。





おうちで、やろう。 年中児版

Study at home. 小学校受験の家庭学習教材

まちがいさがし6

上下の絵を見比べて、変わっているところを5つ探します。見つけたら、下の絵の変わっている部分に○をつけます。



※1. このプリントは、しながわ・目黒こどもスクールのウェブサイトでダウンロードができます。無断複写・引用はご遠慮ください。

※2. このプリントを活用したオンライン授業のスケジュールは、しながわ・目黒こどもスクールのウェブサイトでご確認ください。