



おうちで、やろう。 年中児版

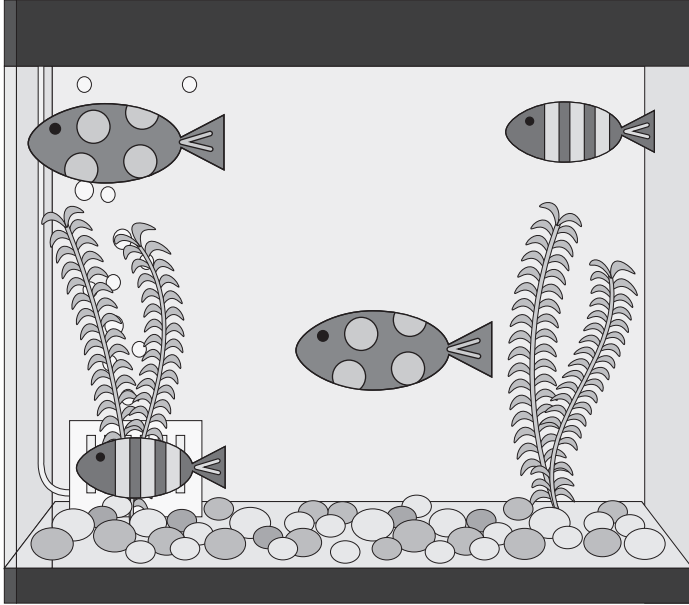
Study at home. 小学校受験の家庭学習教材

数量：計数 13

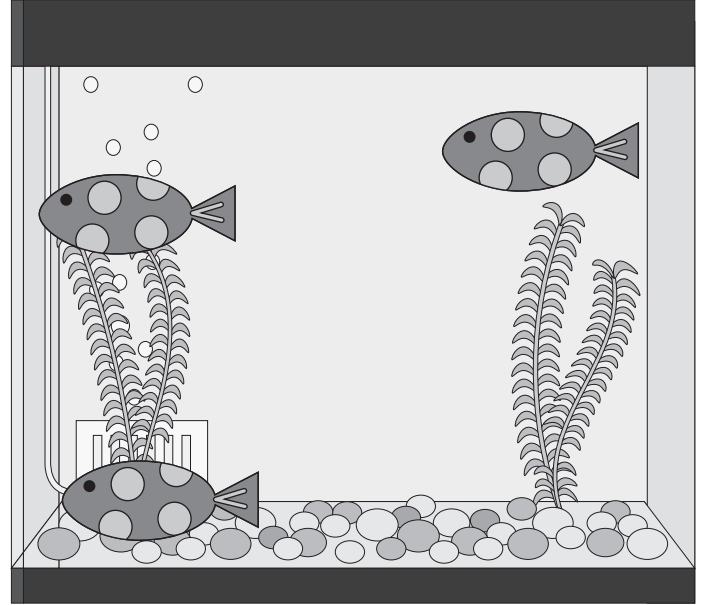
①～④の水槽をみてください。

- 4つの水槽の中で、水玉模様の魚が一番多い水槽はどれですか。その水槽に○をつけましょう。
- 4つの水槽の中で、しましま模様の魚が一番多い水槽はどれですか。その水槽に△をつけましょう。
- 4つの水槽をあわせたとき、水玉模様の魚は全部で何匹になりますか。その数だけ、下の四角の中に○をかきましょう。

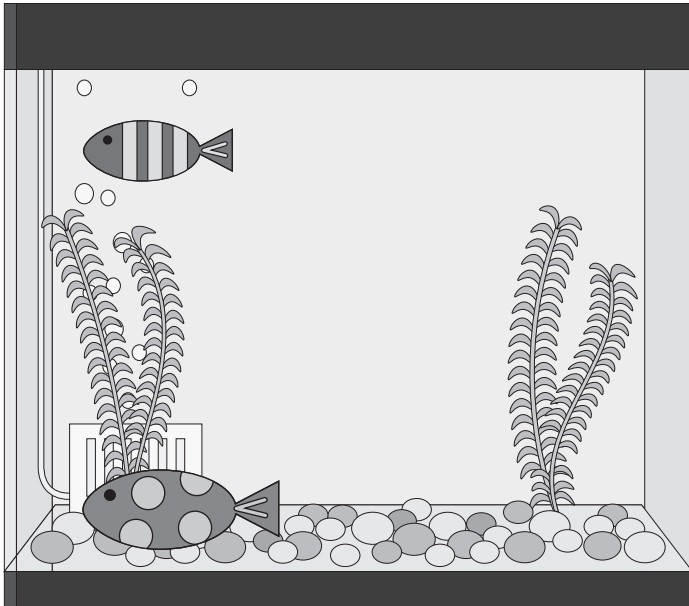
①



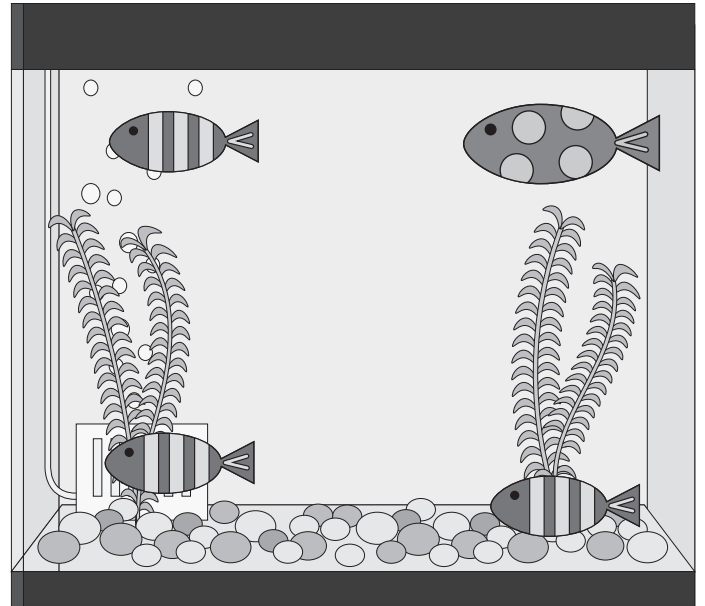
②



③



④



※1. このプリントは、しながわ・目黒こどもスクールのウェブサイトからダウンロードできます。無断複写・引用はご遠慮ください。
 ※2. このプリントを活用したオンライン授業のスケジュールは、しながわ・目黒こどもスクールのウェブサイトでご確認ください。





おうちで、やろう。 年中児版

Study at home. 小学校受験の家庭学習教材

巧緻性：模写 3

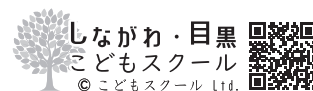
上の四角のお手本と同じになるように鉛筆で色を塗ったり、点線をなぞります。色を塗る時は濃さの違いが分かるように塗りましょう。 ※この問題に解答はありません。



ICT 教育の小学校受験

※1. このプリントは、しながわ・目黒こどもスクールのウェブサイトからダウンロードできます。無断複写・引用はご遠慮ください。

※2. このプリントを活用したオンライン授業のスケジュールは、しながわ・目黒こどもスクールのウェブサイトでご確認ください。






おうちで、やろう。 年中児版

Study at home. 小学校受験の家庭学習教材

常識：気持ち2

- ①下の絵の中から、「うれしいかお」だと思うものに○をつけましょう。
- ②下の絵の中から、「おこっているかお」だと思うものに◎をつけましょう。
- ③下の絵の中から、「かなしそうなかお」だと思うものに△をつけましょう。
- ④下の絵の中から、「おどろいているかお」だと思うものに□をつけましょう。







おうちで、やろう。 年中児版


Study at home. 小学校受験の家庭学習教材


図形：移動3

四角の中の絵が矢印の方向へマス目を1マスずつ移動していきます。矢印は左から順番に見ていき、最後に着くマスを考えて○をかきます。

↑ ↗ ↘ ←		
		

→ ↓ ↘ ←		
		

← ↘ ← ↘		
		

→ ↙ ↑ ↙		
		

※1. このプリントは、しながわ・目黒こどもスクールのウェブサイトでダウンロードができます。無断複写・引用はご遠慮ください。
 ※2. このプリントを活用したオンライン授業のスケジュールは、しながわ・目黒こどもスクールのウェブサイトでご確認ください。





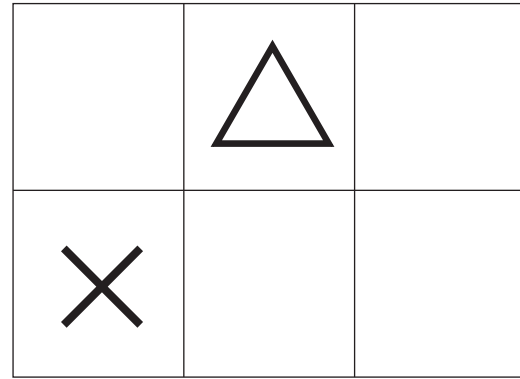
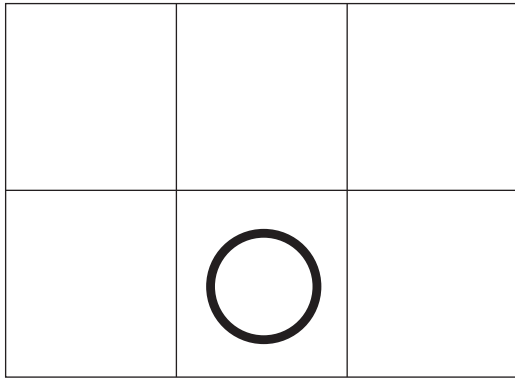


おうちで、やろう。 年中児版

Study at home. 小学校受験の家庭学習教材

図形：重ね6

上の2枚は透明な板です。この2枚が重なった時の見え方を考えて、下の太い四角にかきましょう。



※1. このプリントは、しながわ・目黒こどもスクールのウェブサイトでダウンロードができます。無断複写・引用はご遠慮ください。
 ※2. このプリントを活用したオンライン授業のスケジュールは、しながわ・目黒こどもスクールのウェブサイトでご確認ください。



おうちで、やろう。 年中児版

Study at home. 小学校受験の家庭学習教材

数量 - 分割3

①と②の問題をみて下さい。上の四角の中にある、チューリップをに同じ数ずつ、花瓶に分けていきます。それぞれの花瓶に何本ずつ分けることができますか。その数だけ、下の太い四角の中に〇をかきましょう。

①

Problem 1: On the left, there are 3 tulips. On the right, there are 3 vases. Below the tulips and vases is a large empty rectangular box for writing the answer.

②

Problem 2: On the left, there are 8 tulips arranged in two rows of four. On the right, there are 2 vases. Below the tulips and vases is a large empty rectangular box for writing the answer.

※1. このプリントは、しながわ・目黒こどもスクールのウェブサイトでダウンロードができます。無断複写・引用はご遠慮ください。
※2. このプリントを活用したオンライン授業のスケジュールは、しながわ・目黒こどもスクールのウェブサイトでご確認ください。



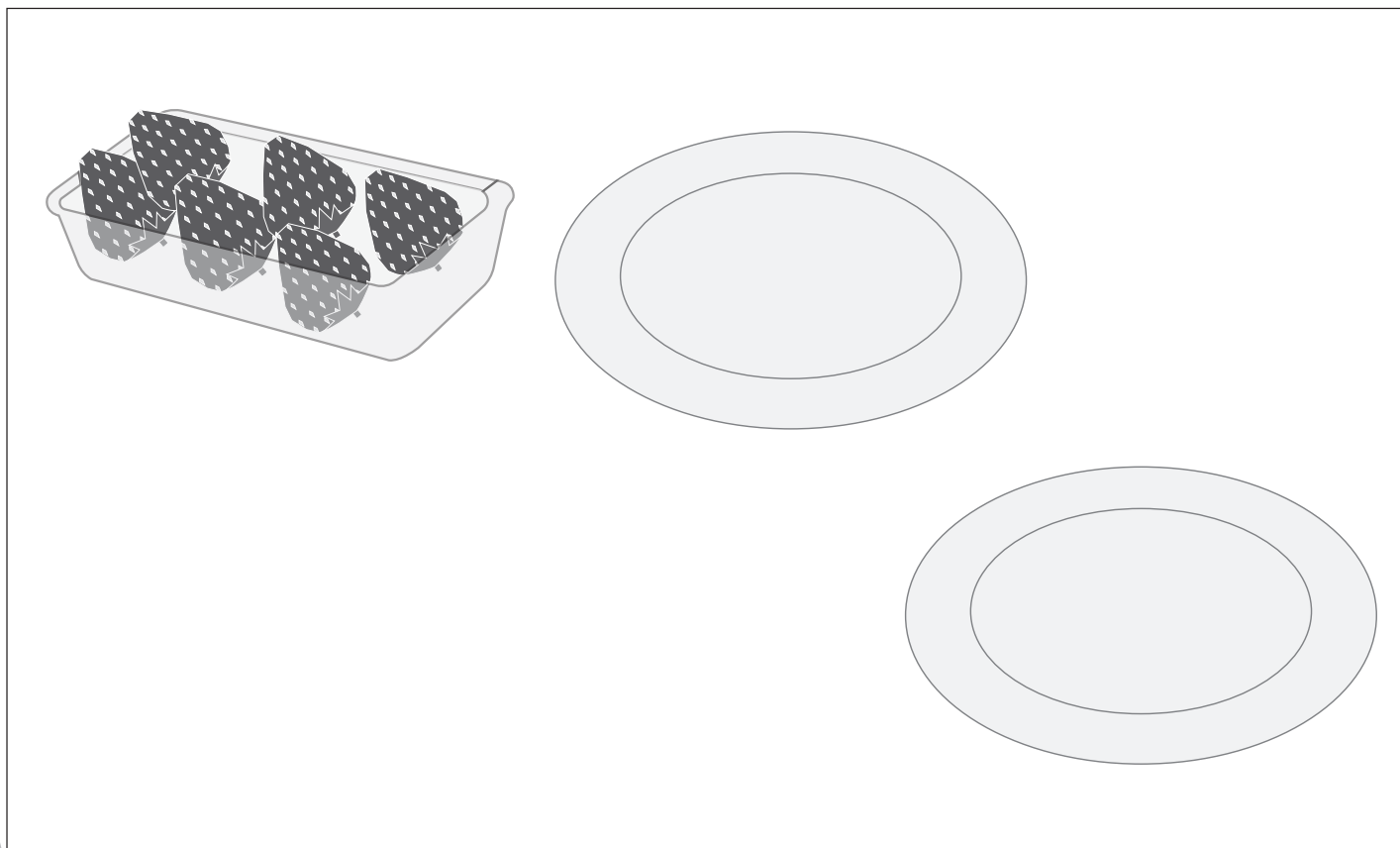
おうちで、やろう。 年中児版

Study at home. 小学校受験の家庭学習教材

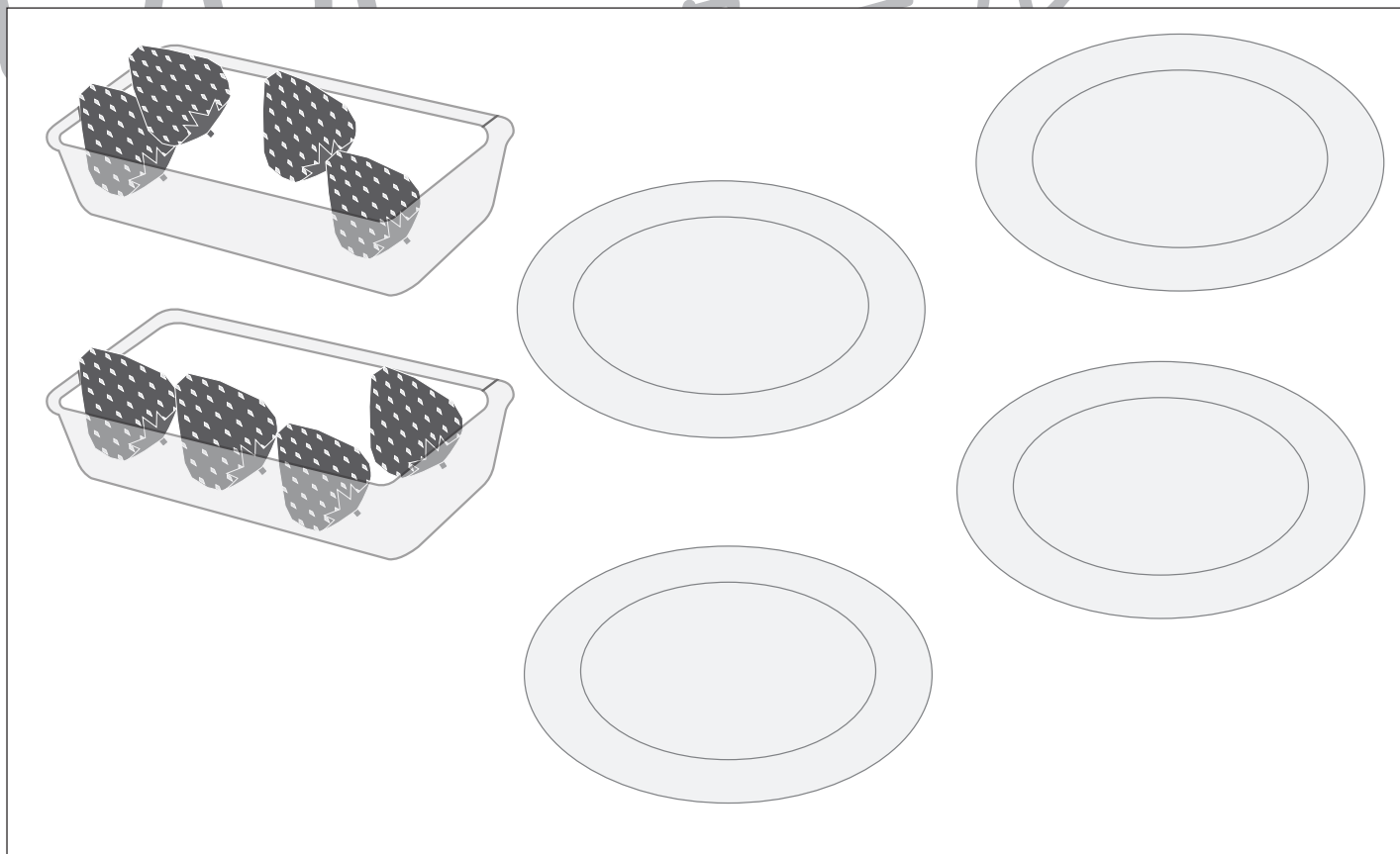
数量 - 分割3

①と②の問題をみて下さい。下の四角の中にある、パックに入った苺を同じ数ずつ、お皿に分けていきます。それぞれのお皿に何個ずつ分けることができますか。その数だけ、お皿の中に○をかきましょう。

①



②



※1. このプリントは、しながわ・目黒こどもスクールのウェブサイトからダウンロードできます。無断複写・引用はご遠慮ください。

※2. このプリントを活用したオンライン授業のスケジュールは、しながわ・目黒こどもスクールのウェブサイトでご確認ください。



おうちで、やろう。 年中児版

Study at home. 小学校受験の家庭学習教材

まちがいさがし7

上下の絵を見比べて、変わっているところを4つ探します。見つけたら、下の絵の変わっている部分に○をつけます。



※1. このプリントは、しながわ・目黒こどもスクールのウェブサイトからダウンロードできます。無断複写・引用はご遠慮ください。

※2. このプリントを活用したオンライン授業のスケジュールは、しながわ・目黒こどもスクールのウェブサイトでご確認ください。