



おうちで、やろう。 年中児版

Study at home. 小学校受験の家庭学習教材

数量：計数 13

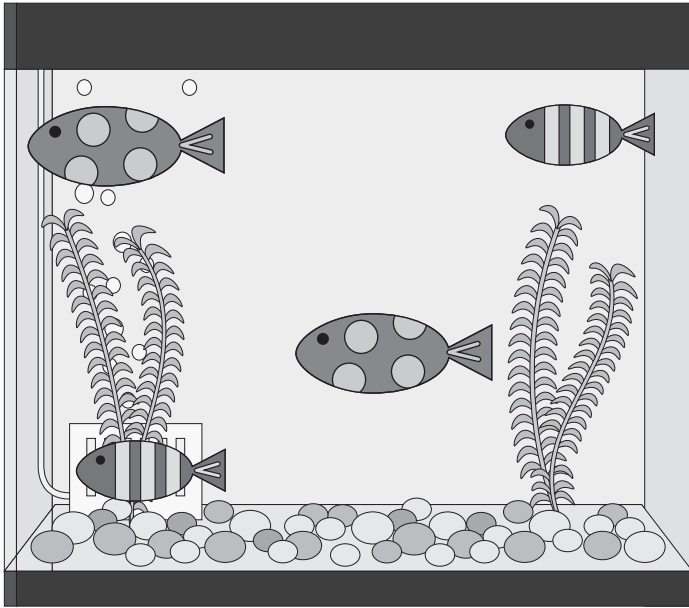
①～④の水槽をみてください。

● 4つの水槽の中で、水玉模様の魚が一番多い水槽はどれですか。その水槽に○をつけましょう。

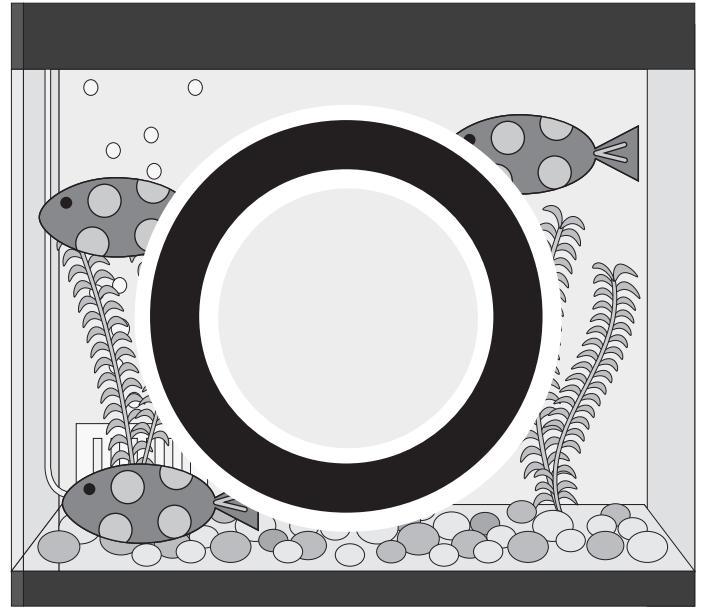
● 4つの水槽の中で、しましま模様の魚が一番多い水槽はどれですか。その水槽に△をつけましょう。

● 4つの水槽をあわせたとき、水玉模様の魚は全部で何匹になりますか。その数だけ、下の四角の中に○をかきましょう。

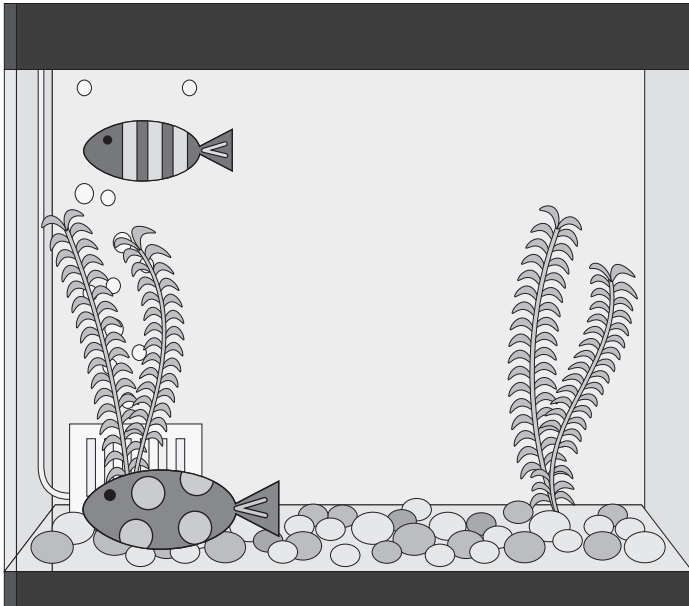
①



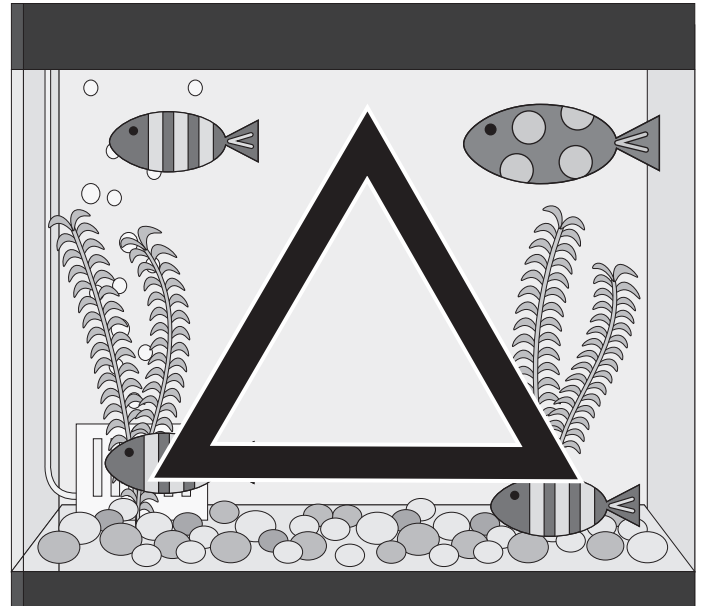
②



③



④



○ × 7

※ 1. このプリントは、しながわ・目黒こどもスクールのウェブサイトからダウンロードできます。無断複写・引用はご遠慮ください。

※ 2. このプリントを活用したオンライン授業のスケジュールは、しながわ・目黒こどもスクールのウェブサイトでご確認ください。




おうちで、やろう。 年中児版

Study at home. 小学校受験の家庭学習教材

常識：気持ち2

- ①下の絵の中から、「うれしいかお」だと思うものに○をつけましょう。
- ②下の絵の中から、「おこっているかお」だと思うものに◎をつけましょう。
- ③下の絵の中から、「かなしそうなかお」だと思うものに△をつけましょう。
- ④下の絵の中から、「おどろいているかお」だと思うものに□をつけましょう。



※1. このプリントは、しながわ・目黒こどもスクールのウェブサイトでダウンロードができます。無断複写・引用はご遠慮ください。
※2. このプリントを活用したオンライン授業のスケジュールは、しながわ・目黒こどもスクールのウェブサイトでご確認ください。





おうちで、やろう。 年中児版

Study at home. 小学校受験の家庭学習教材

図形：移動3

四角の中の絵が矢印の方向へマス目を1マスずつ移動していきます。矢印は左から順番に見ていき、最後に着くマスを考えて○をかきます。

↑ ↗ ↘ ←		
	○	
🐰		

→ ↓ ↘ ←		
🐰		
	○	

← ↘ ← ↘		
	🐰	
	○	

→ ↙ ↑ ↙		
	🐰	
○		

※1. このプリントは、しながわ・目黒こどもスクールのウェブサイトでダウンロードができます。無断複写・引用はご遠慮ください。
 ※2. このプリントを活用したオンライン授業のスケジュールは、しながわ・目黒こどもスクールのウェブサイトでご確認ください。

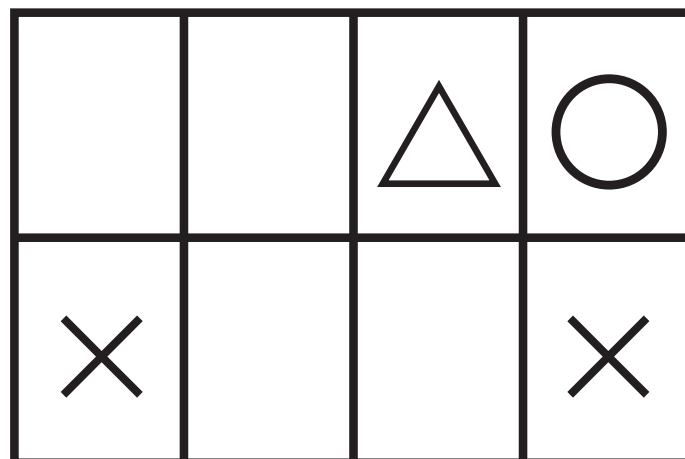



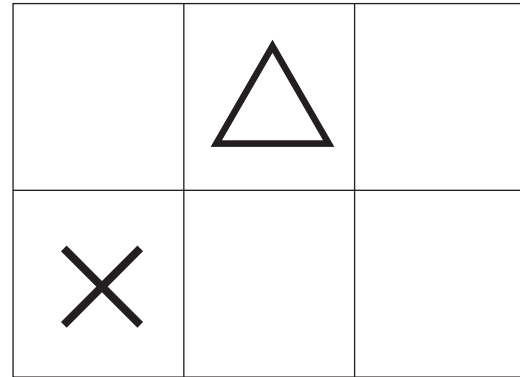
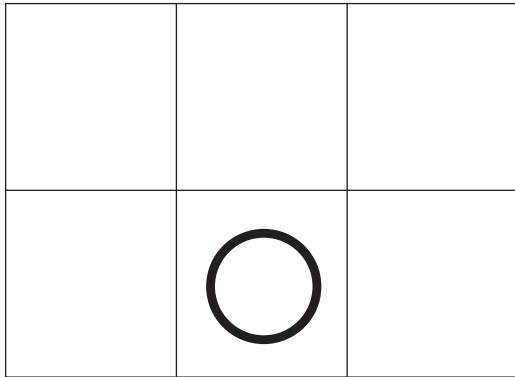


おうちで、やろう。 年中児版

Study at home. 小学校受験の家庭学習教材

図形：重ね6

上の2枚は透明な板です。この2枚が重なった時の見え方を考えて、下の太い四角にかきましょう。

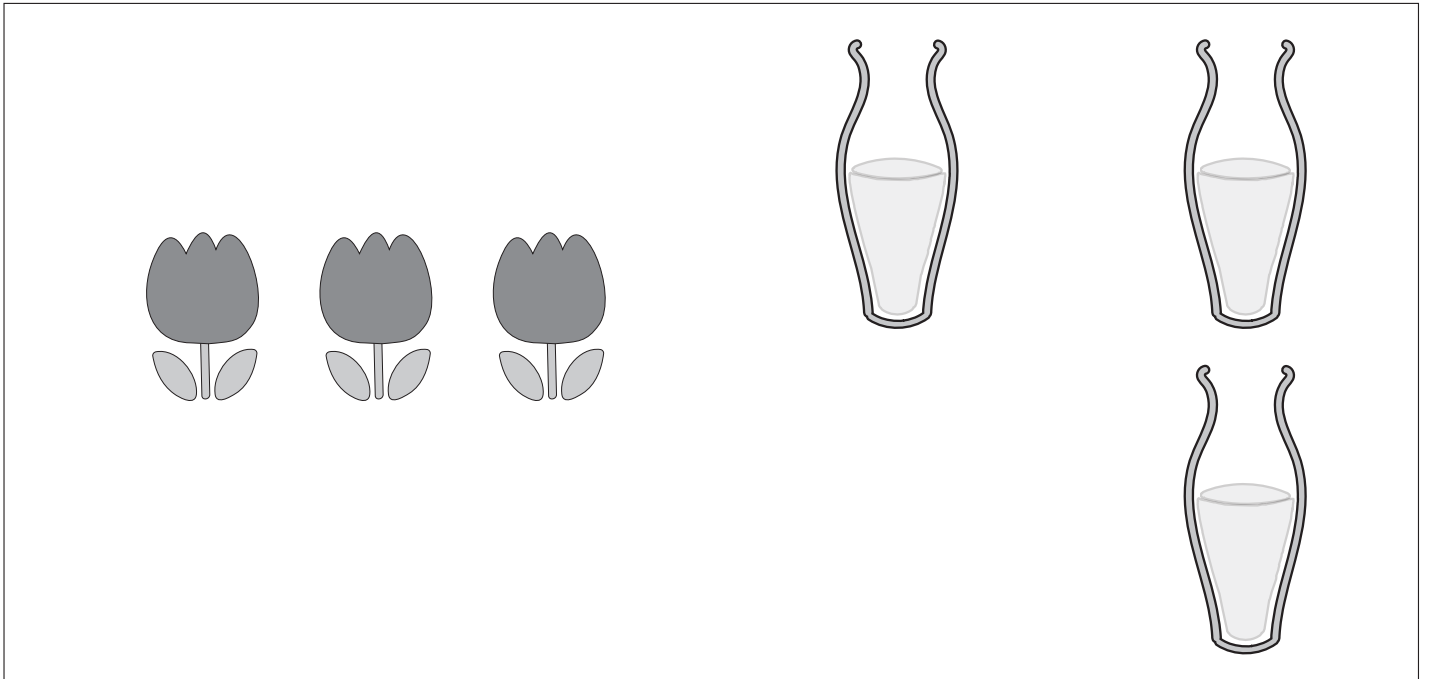


※1. このプリントは、しながわ・目黒こどもスクールのウェブサイトでダウンロードができます。無断複写・引用はご遠慮ください。
 ※2. このプリントを活用したオンライン授業のスケジュールは、しながわ・目黒こどもスクールのウェブサイトでご確認ください。



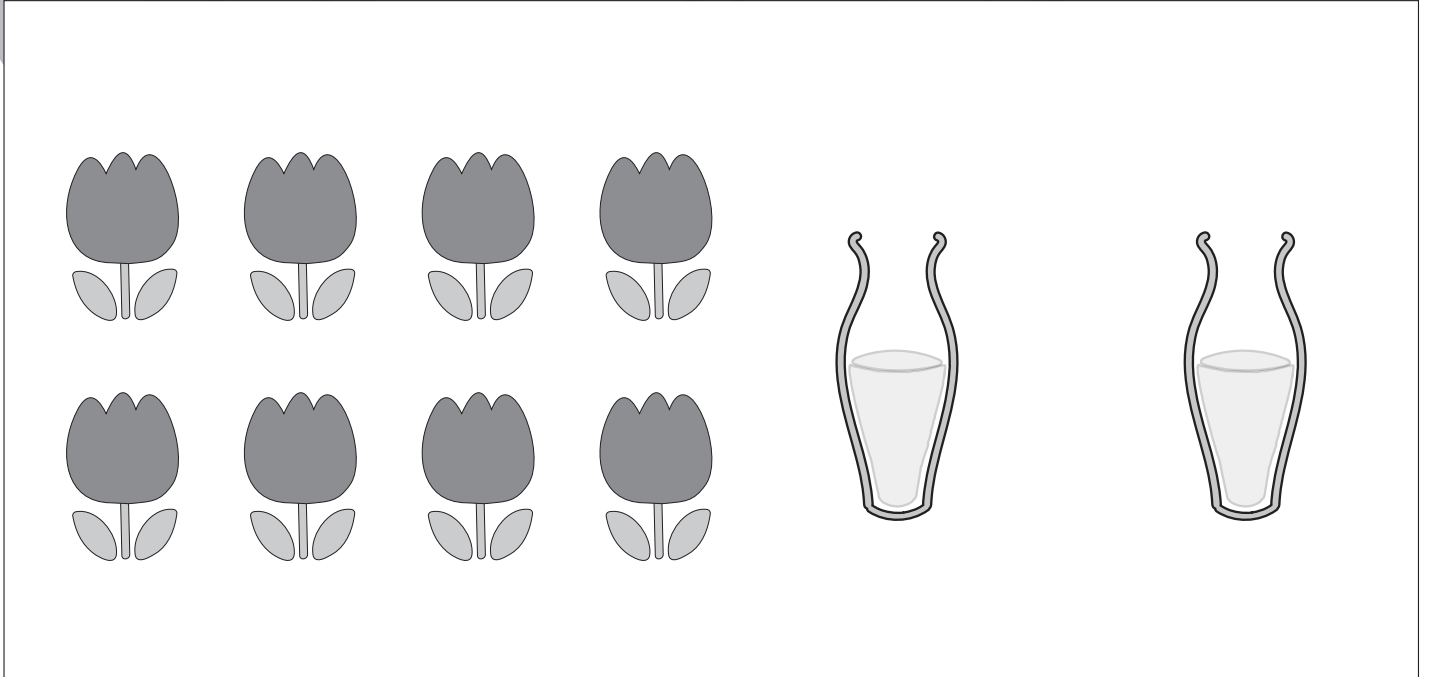
①と②の問題をみて下さい。上の四角の中にある、チューリップを同じ数ずつ、花瓶に分けていきます。それぞれの花瓶に何本ずつ分けることができますか。その数だけ、下の太い四角の中に○をかきましょう。

①



○ × 1

②



○ × 4

※1. このプリントは、しながわ・目黒こどもスクールのウェブサイトでダウンロードができます。無断複写・引用はご遠慮ください。

※2. このプリントを活用したオンライン授業のスケジュールは、しながわ・目黒こどもスクールのウェブサイトでご確認ください。



おうちで、やろう。 年中児版

Study at home. 小学校受験の家庭学習教材

数量 - 分割3

①と②の問題をみて下さい。下の四角の中にある、パックに入った苺を同じ数ずつ、お皿に分けていきます。それぞれのお皿に何個ずつ分けることができますか。その数だけ、お皿の中に○をかきましょう。

①

Problem 1: A tray contains 6 strawberries. To the right are two identical plates, each containing 3 circles. The task is to determine how many strawberries can be placed on each plate.

②

Problem 2: There are two trays. The top tray has 3 strawberries and the bottom tray has 4 strawberries. To the right are three plates with 2, 2, and 2 circles respectively. The task is to determine how many strawberries can be placed on each plate.

※1. このプリントは、しながわ・目黒こどもスクールのウェブサイトダウンロードができます。無断複写・引用はご遠慮ください。

※2. このプリントを活用したオンライン授業のスケジュールは、しながわ・目黒こどもスクールのウェブサイトでご確認ください。



おうちで、やろう。 年中児版

Study at home. 小学校受験の家庭学習教材

まちがいさがし

上下の絵を見比べて、変わっているところを4つ探します。見つけたら、下の絵の変わっている部分に○をつけます。



※1. このプリントは、しながわ・目黒こどもスクールのウェブサイトからダウンロードできます。無断複写・引用はご遠慮ください。

※2. このプリントを活用したオンライン授業のスケジュールは、しながわ・目黒こどもスクールのウェブサイトでご確認ください。