





# おうちで、やろう。 年中児版

Study at home. 小学校受験の家庭学習教材

常識：スポーツ1

太い四角の中は、あるスポーツをしている時の絵です。そのスポーツをしている時に使う道具が?の中に隠れています。下の四角の中からその道具を選んで、○をつけましょう。



※1. このプリントは、しながわ・目黒こどもスクールのウェブサイトでダウンロードができます。無断複写・引用はご遠慮ください。

※2. このプリントを活用したオンライン授業のスケジュールは、しながわ・目黒こどもスクールのウェブサイトでご確認ください。








# おうちで、やろう。年中児版





Study at home. 小学校受験の家庭学習教材

常識：季節8

上の段と下の段で同じ季節のもの同士、点と点を線で結びましょう。



しながわ・目黒  
こどもスクール



※1. このプリントは、しながわ・目黒こどもスクールのウェブサイトでダウンロードができます。無断複写・引用はご遠慮ください。  
※2. このプリントを活用したオンライン授業のスケジュールは、しながわ・目黒こどもスクールのウェブサイトでご確認ください。






# おうちで、やろう。 年中児版

Study at home. 小学校受験の家庭学習教材

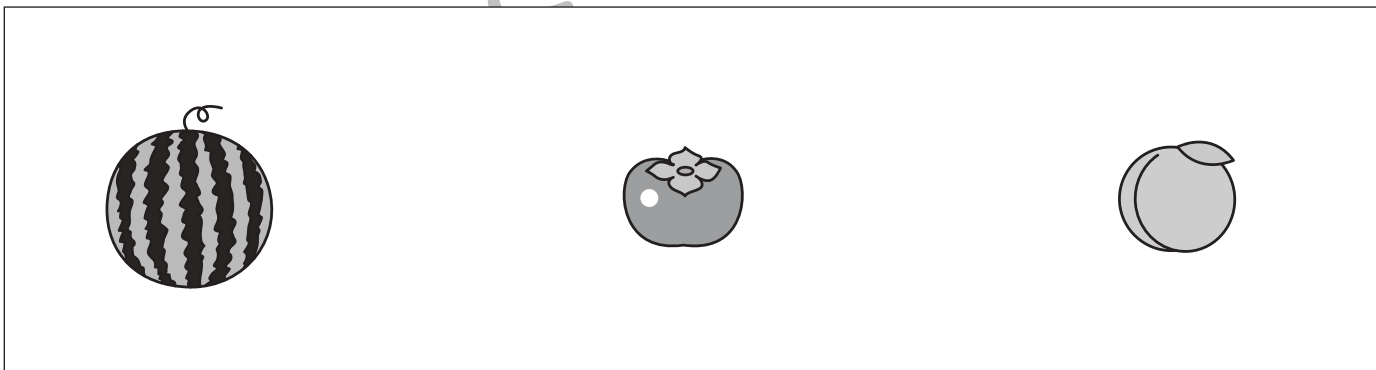
言語：音の数10

下の①～④の絵の中には、それぞれ音の数が違うものが一つずつあります。違う音の数の絵を見つけて、○をつけましょう。


①




②



③



④



※1. このプリントは、しながわ・目黒こどもスクールのウェブサイトからダウンロードができます。無断複写・引用はご遠慮ください。

※2. このプリントを活用したオンライン授業のスケジュールは、しながわ・目黒こどもスクールのウェブサイトでご確認ください。



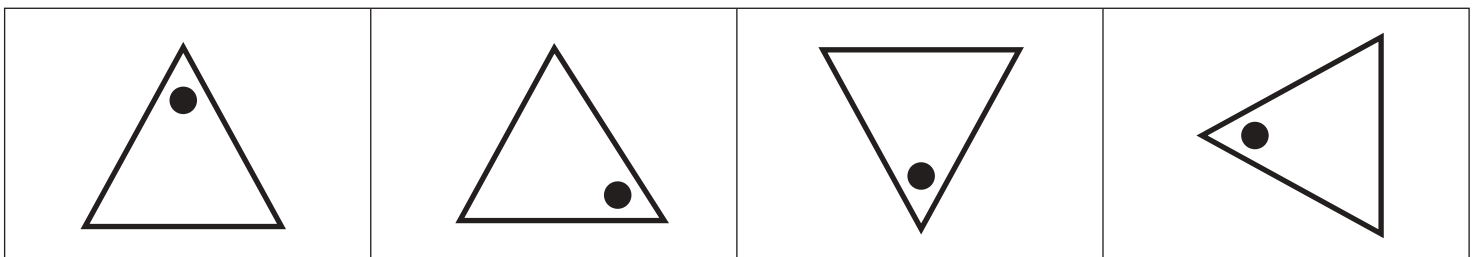
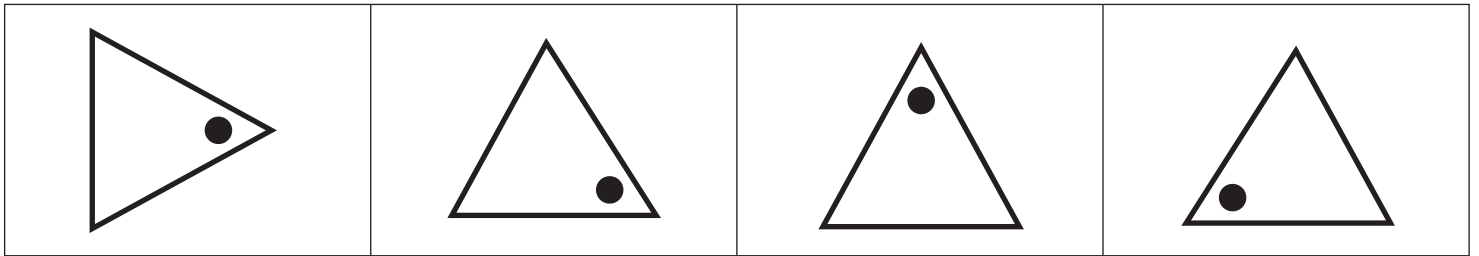

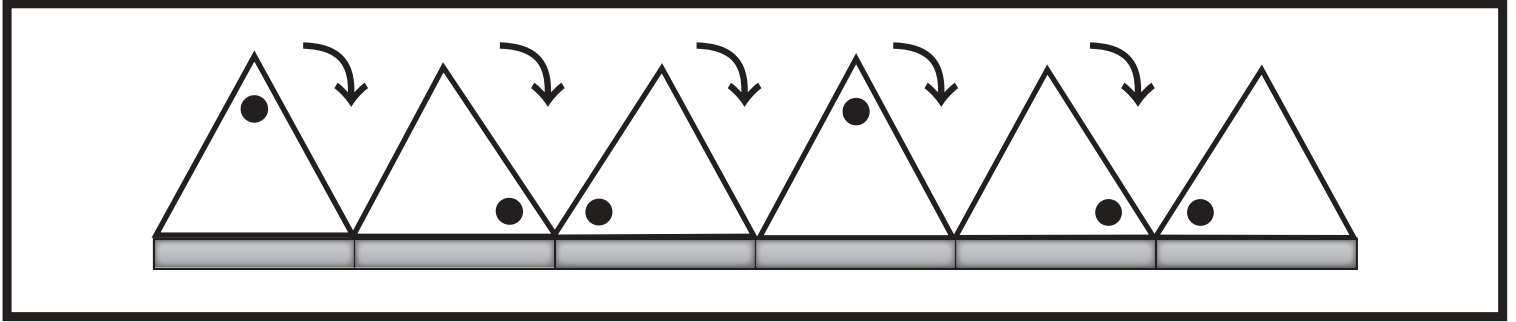


# おうちで、やろう。 年中児版

Study at home. 小学校受験の家庭学習教材

図形：回転9

上の太い四角の中は三角が板の上を矢印の向きに一回ずつ倒れていく様子です。この様子を見て、一番左にある三角が矢印の向きに一回ずつ倒れていく時、黒い板の場所に来たときの見え方を、下の四角の中から見つけて○をつけます。



※1. このプリントは、しながわ・目黒こどもスクールのウェブサイトでダウンロードができます。無断複写・引用はご遠慮ください。  
※2. このプリントを活用したオンライン授業のスケジュールは、しながわ・目黒こどもスクールのウェブサイトでご確認ください。







# おうちで、やろう。 年中児版

Study at home. 小学校受験の家庭学習教材

図形：同図形7

左の四角の中の絵を太い線のところで鏡に写すと、右の3つのどの絵になりますか。その絵に○をつけましょう。



※1. このプリントは、しながわ・目黒こどもスクールのウェブサイトでダウンロードができます。無断複写・引用はご遠慮ください。  
 ※2. このプリントを活用したオンライン授業のスケジュールは、しながわ・目黒こどもスクールのウェブサイトでご確認ください。



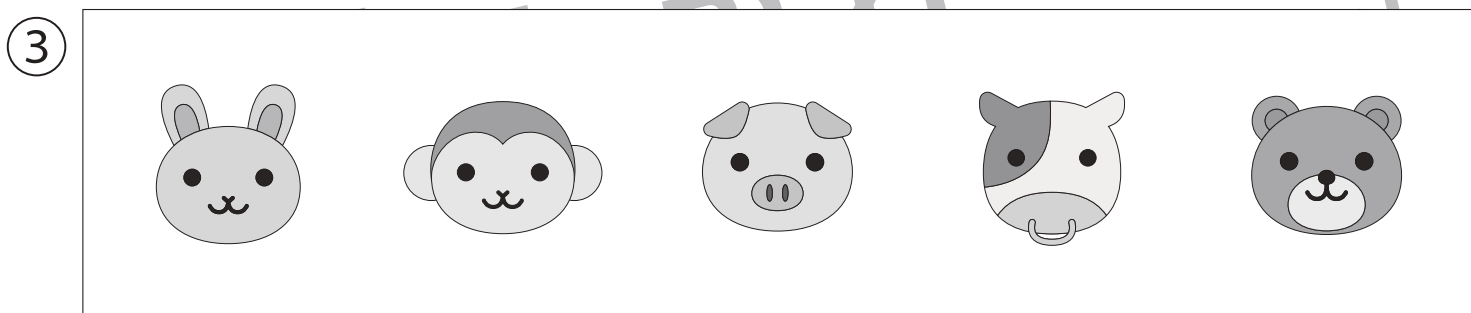
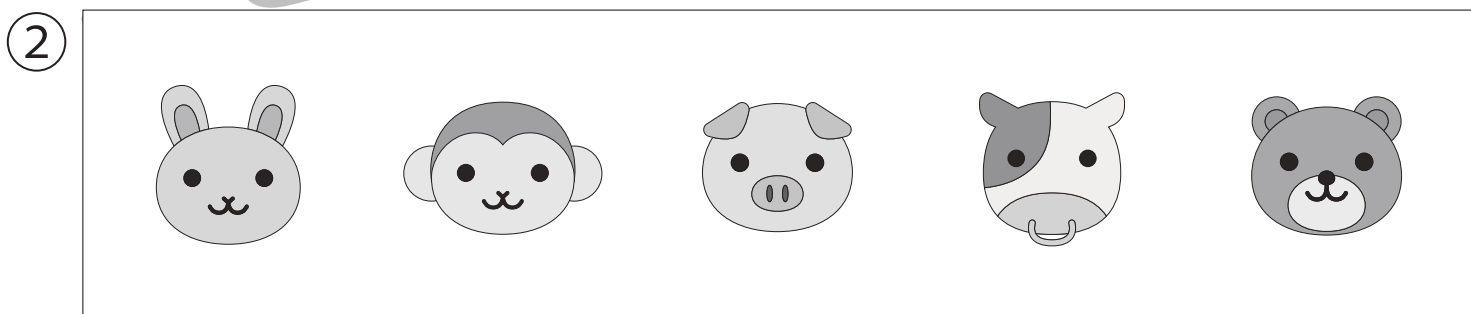
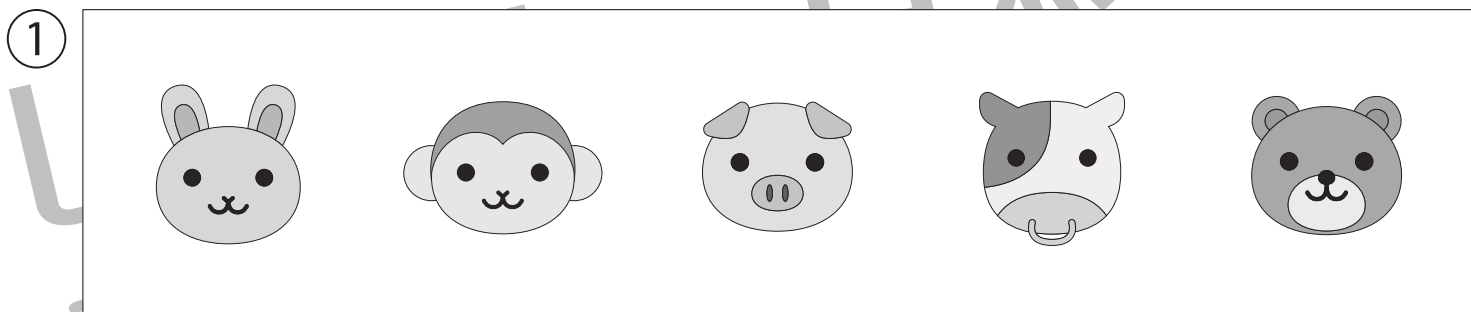

# おうちで、やろう。 年中児版

Study at home. 小学校受験の家庭学習教材

推理：条件推理 15

下の太い四角の中の絵を見て、問題に答えましょう。

- ①前から二番目の車両にいる動物に○をつけましょう。
- ②一番後ろの車両にいる動物に○をつけましょう。
- ③前から2 両目にいる動物を全て選んで○をつけましょう。



ICT 教育の小学校受験

※1. このプリントは、しながわ・目黒こどもスクールのウェブサイトでダウンロードができます。無断複写・引用はご遠慮ください。  
 ※2. このプリントを活用したオンライン授業のスケジュールは、しながわ・目黒こどもスクールのウェブサイトでご確認ください。




# おうちで、やろう。 年中児版

Study at home. 小学校受験の家庭学習教材

推理：条件推理 16

下の観覧車の絵を見て①～③の問題に答えましょう。

- ①観覧車が矢印の向きに一回動いたとき、気球のそばにいる動物に○をつけましょう。
- ②観覧車が矢印の向きに二回動いたとき、鳥のそばにいる動物に×をつけましょう。
- ③観覧車が矢印の向きに二回動いたとき、風船のそばにいる動物に△をつけましょう。



ICT 教育の小学校受験

※1. このプリントは、しながわ・目黒こどもスクールのウェブサイトでダウンロードができます。無断複写・引用はご遠慮ください。  
 ※2. このプリントを活用したオンライン授業のスケジュールは、しながわ・目黒こどもスクールのウェブサイトでご確認ください。




# おうちで、やろう。 年中児版

Study at home. 小学校受験の家庭学習教材

数量：計数 16

大きな四角の中の絵を見て答えましょう。

- ①車の数だけ○をつけましょう。
- ②木の数だけ○をつけましょう。
- ③風船の数だけ○をかきましょう。



①

②

③

※1. このプリントは、しながわ・目黒こどもスクールのウェブサイトでダウンロードができます。無断複写・引用はご遠慮ください。  
※2. このプリントを活用したオンライン授業のスケジュールは、しながわ・目黒こどもスクールのウェブサイトでご確認ください。