



おうちで、やろう。 年中児版

Study at home. 小学校受験の家庭学習教材

言語：音の数7

上、真ん中、下の段でそれぞれ同じ音の数のものを見つけて、点と点を線でつなぎます。

※1. このプリントは、しながわ・目黒こどもスクールのウェブサイトでダウンロードができます。無断複写・引用はご遠慮ください。
 ※2. このプリントを活用したオンライン授業のスケジュールは、しながわ・目黒こどもスクールのウェブサイトでご確認ください。

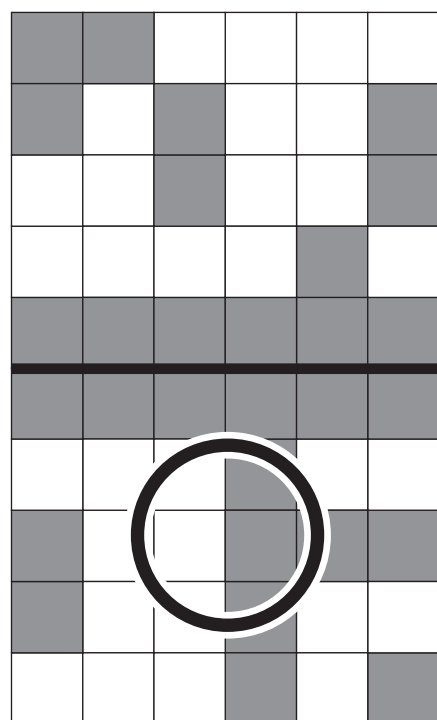
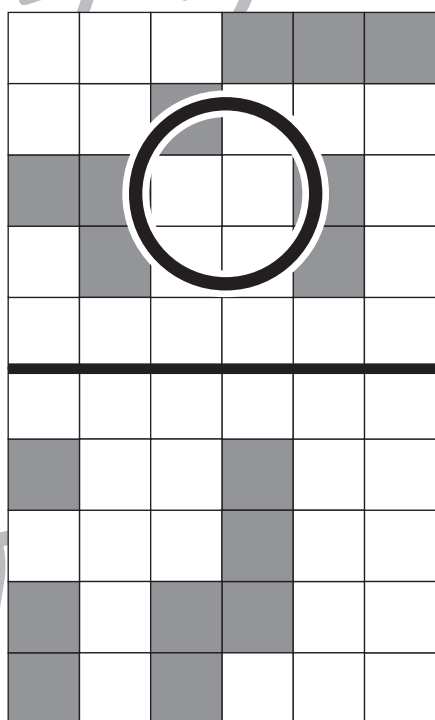
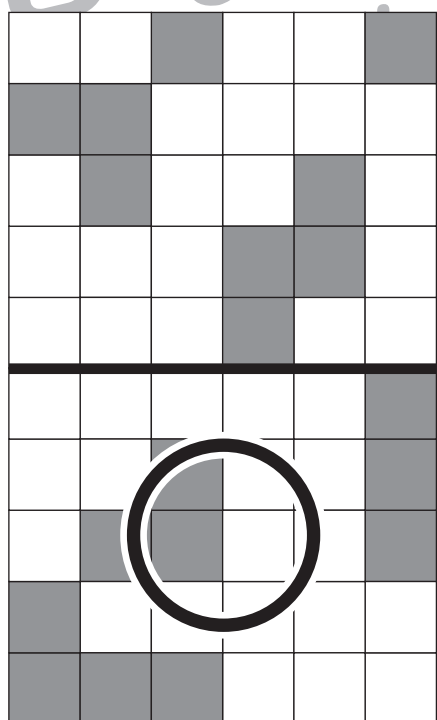
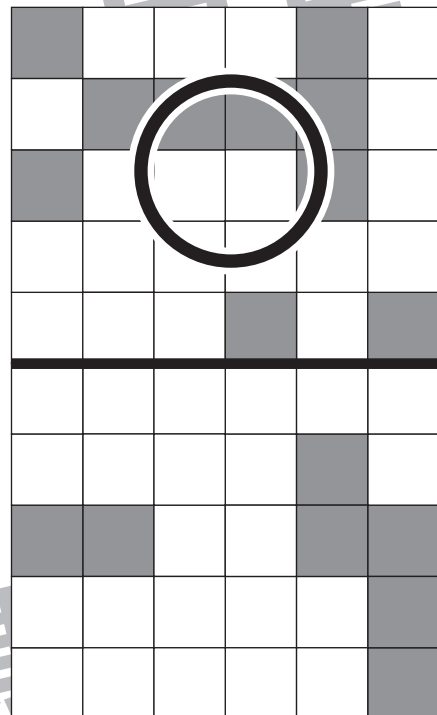
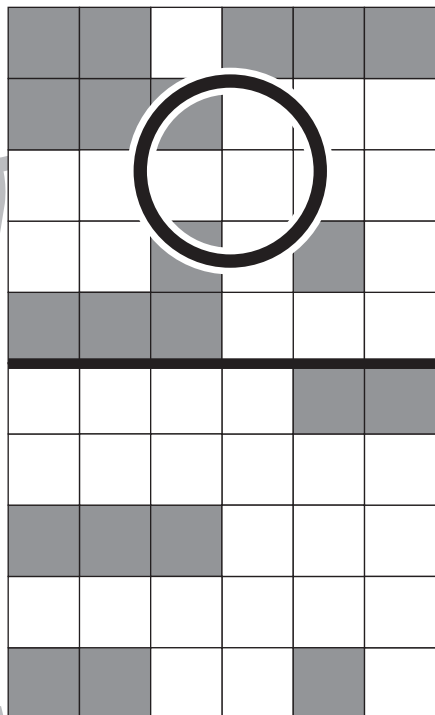
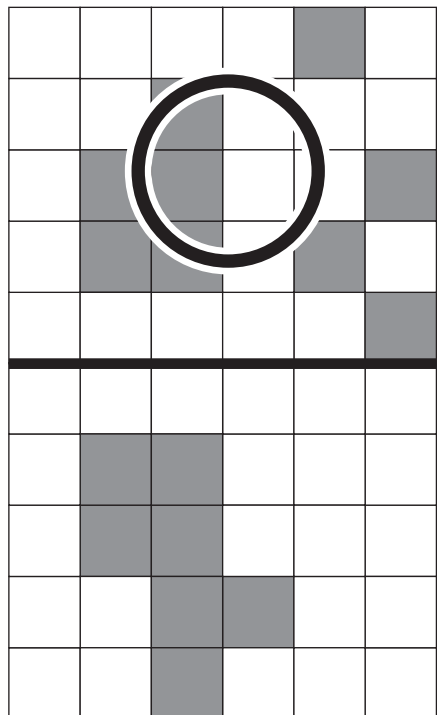


おうちで、やろう。 年中児版

Study at home. 小学校受験の家庭学習教材

図形：広さ3

上の四角と下の四角を比べて、色のついた部分が広い方に○をつけます。



※1. このプリントは、しながわ・目黒こどもスクールのウェブサイトでダウンロードができます。無断複写・引用はご遠慮ください。
※2. このプリントを活用したオンライン授業のスケジュールは、しながわ・目黒こどもスクールのウェブサイトでご確認ください。

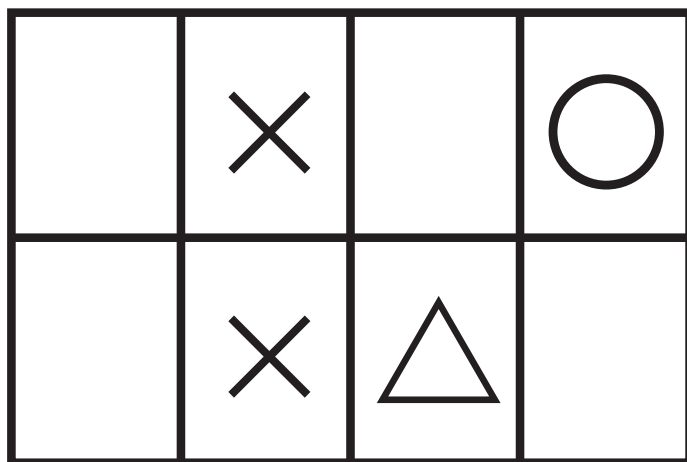
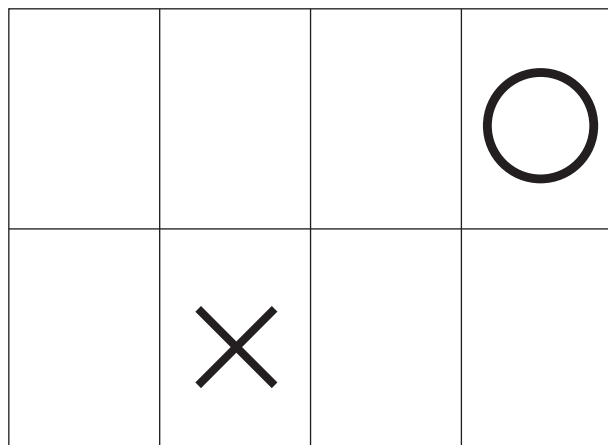
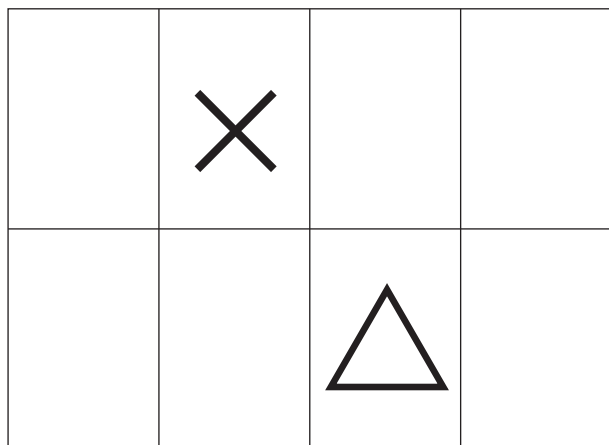
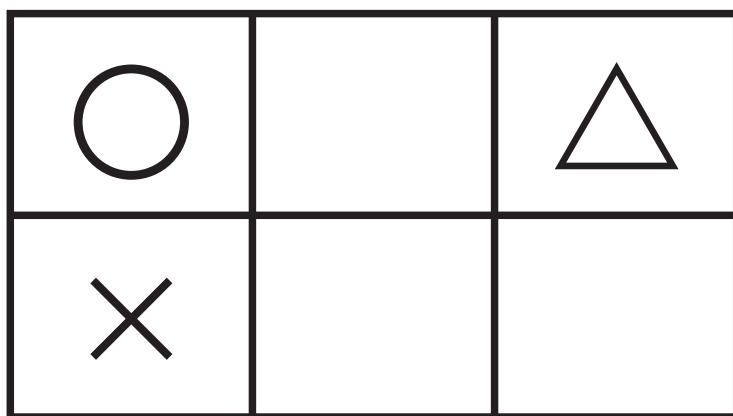
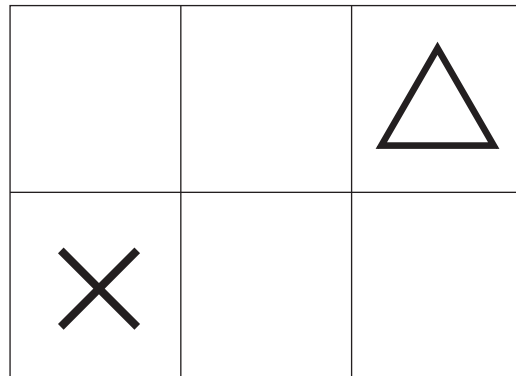



おうちで、やろう。 年中児版

Study at home. 小学校受験の家庭学習教材

図形：重ね5

上の2枚は透明な板です。この2枚が重なった時の見え方を考えて、下の太い四角にかきましょう。



※1. このプリントは、しながわ・目黒こどもスクールのウェブサイトでダウンロードができます。無断複写・引用はご遠慮ください。
※2. このプリントを活用したオンライン授業のスケジュールは、しながわ・目黒こどもスクールのウェブサイトでご確認ください。



おうちで、やろう。 年中児版

Study at home. 小学校受験の家庭学習教材


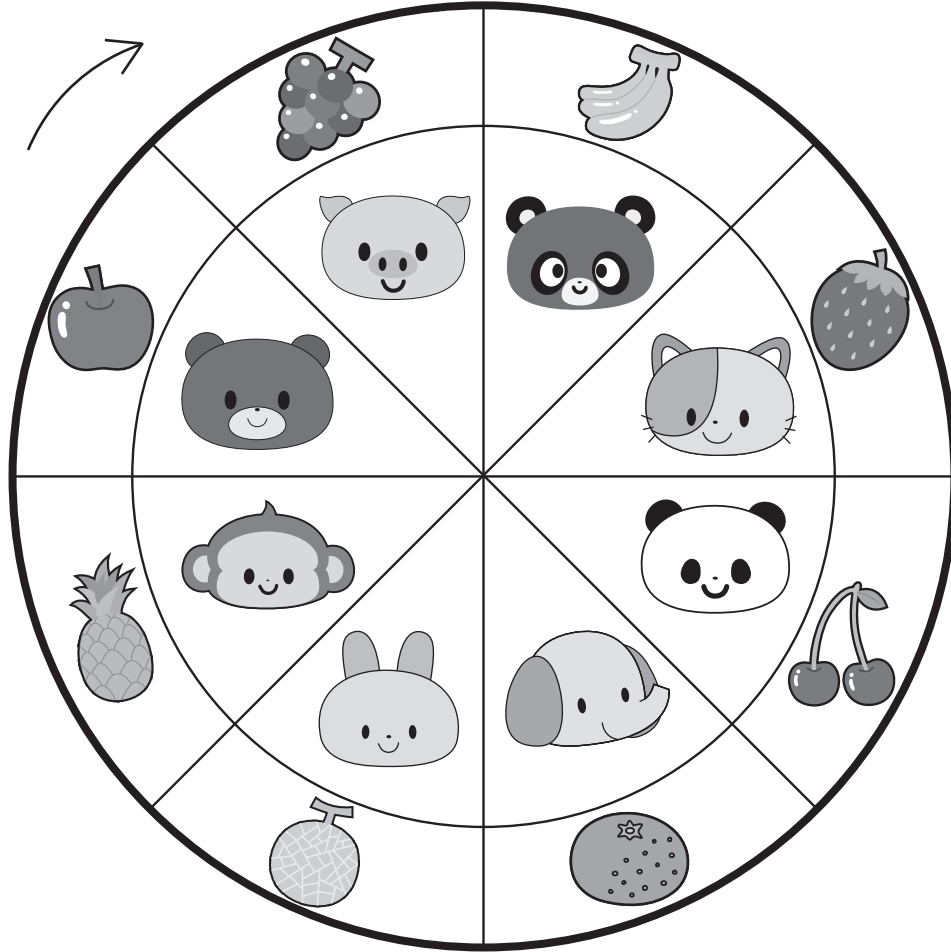
推理：条件推理 9

下の太い丸の中に、内側の動物だけが回るルーレットがあります。

①矢印の向きにブタが2つ動いたとき、どの果物のところにきますか。下の四角の中の果物に○をつけます。

②矢印の向きにサルが3つ動いたとき、どの果物のところにきますか。下の四角の中の果物に△をつけます。

③矢印の向きにゾウが3つ動いたとき、どの果物のところにきますか。下の四角の中の果物に□をつけます。



ICT 教育の小学校受験

※1. このプリントは、しながわ・目黒こどもスクールのウェブサイトでダウンロードができます。無断複写・引用はご遠慮ください。

※2. このプリントを活用したオンライン授業のスケジュールは、しながわ・目黒こどもスクールのウェブサイトでご確認ください。



おうちで、やろう。 年中児版

Study at home. 小学校受験の家庭学習教材


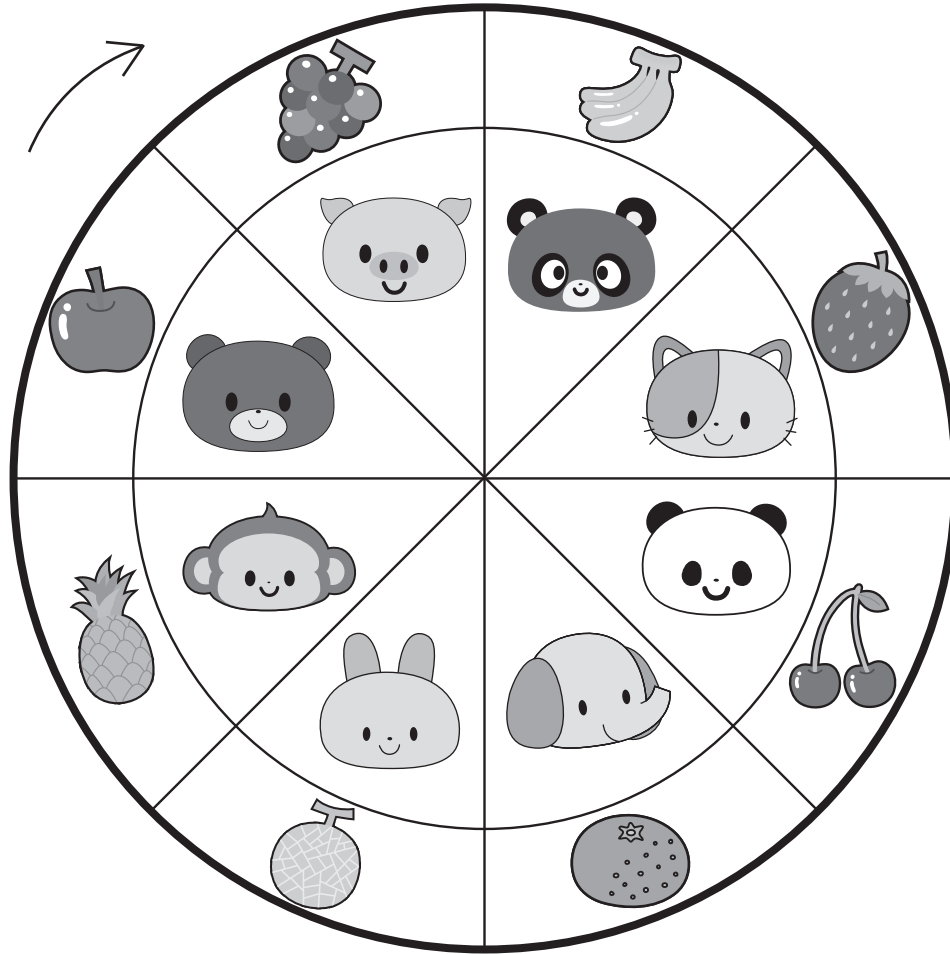
推理：条件推理 10

下の太い丸の中に、内側の動物だけが回るルーレットがあります。

①矢印の向きにパンダが3つ動いたとき、どの果物のところにきますか。下の四角の中の果物に○をつけます。

②矢印の向きにネコが5つ動いたとき、どの果物のところにきますか。下の四角の中の果物に△をつけます。

③矢印の向きにタヌキが2つ動いたあとに矢印と逆の方向に2つ動きました。どの果物のところにきますか。下の四角の中の果物に□をつけます。



ICT教育の小学校受験

※1. このプリントは、しながわ・目黒こどもスクールのウェブサイトでダウンロードができます。無断複写・引用はご遠慮ください。

※2. このプリントを活用したオンライン授業のスケジュールは、しながわ・目黒こどもスクールのウェブサイトでご確認ください。




おうちで、やろう。 年中児版

Study at home. 小学校受験の家庭学習教材

数量：加減 2


- ①女の子と男の子が持っている風船は合わせていくつありますか。その数だけ、下の四角に○をかきます。
- ②男の子が持っている風船は合わせていくつありますか。その数だけ、下の四角に○をかきます。
- ③全員がもっている風船は合わせていくつありますか。その数だけ、下の四角に○をかきます。

①




○×6

②



○×7

③



○×10

※1. このプリントは、しながわ・目黒こどもスクールのウェブサイトでダウンロードができます。無断複写・引用はご遠慮ください。

※2. このプリントを活用したオンライン授業のスケジュールは、しながわ・目黒こどもスクールのウェブサイトでご確認ください。




おうちで、やろう。 年中児版

Study at home. 小学校受験の家庭学習教材

まちがいさがし5

上下の絵を見比べて、変わっているところを5つ探します。見つけたら、下の絵の変わっている部分に丸をつけます。



ICT教育の小学校受験

※1. このプリントは、しながわ・目黒こどもスクールのウェブサイトでダウンロードができます。無断複写・引用はご遠慮ください。
※2. このプリントを活用したオンライン授業のスケジュールは、しながわ・目黒こどもスクールのウェブサイトでご確認ください。

