



# おうちで、やろう。 年中児版


Study at home. 小学校受験の家庭学習教材

推理：重さ 1


①シーソーで重さ比べをしています。重い方に○をつけましょう。

②シーソーで重さ比べをしています。軽い方に○をつけましょう。

①



②



※1. このプリントは、しながわ・目黒こどもスクールのウェブサイトでダウンロードができます。無断複写・引用はご遠慮ください。

※2. このプリントを活用したオンライン授業のスケジュールは、しながわ・目黒こどもスクールのウェブサイトでご確認ください。

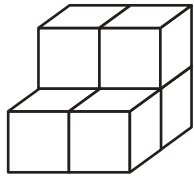


# おうちで、やろう。 年中児版

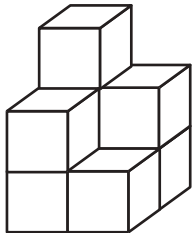
Study at home. 小学校受験の家庭学習教材

## 推理：積み木3


上の四角の中の積み木の数数を数えて、その数だけ下の四角に○を描きましょう。



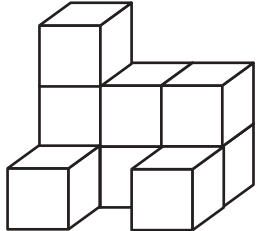
Blank space for drawing circles.



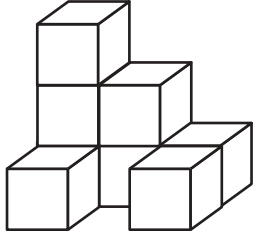
Blank space for drawing circles.



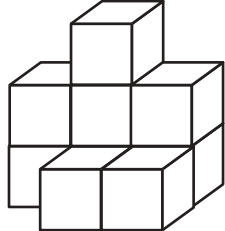
Blank space for drawing circles.



Blank space for drawing circles.



Blank space for drawing circles.



Blank space for drawing circles.

※1. このプリントは、しながわ・目黒こどもスクールのウェブサイトでダウンロードができます。無断複写・引用はご遠慮ください。  
※2. このプリントを活用したオンライン授業のスケジュールは、しながわ・目黒こどもスクールのウェブサイトでご確認ください。



# おうちで、やろう。 年中児版

Study at home. 小学校受験の家庭学習教材

## 推理：積み木4

上の四角の中の積み木の数数を数えて、その数だけ下の四角に○を描きましょう。

Blank space for drawing circles.

Blank space for drawing circles.

Blank space for drawing circles.

Blank space for drawing circles.

Blank space for drawing circles.

Blank space for drawing circles.

※1. このプリントは、しながわ・目黒こどもスクールのウェブサイトでダウンロードができます。無断複写・引用はご遠慮ください。  
※2. このプリントを活用したオンライン授業のスケジュールは、しながわ・目黒こどもスクールのウェブサイトでご確認ください。

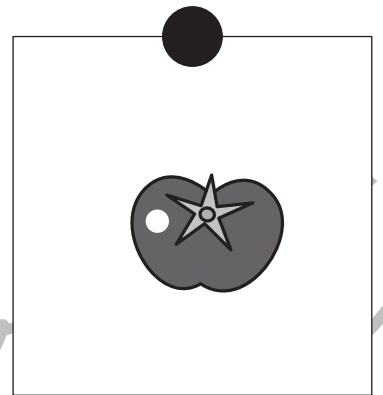
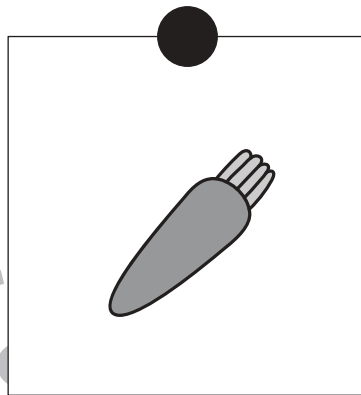
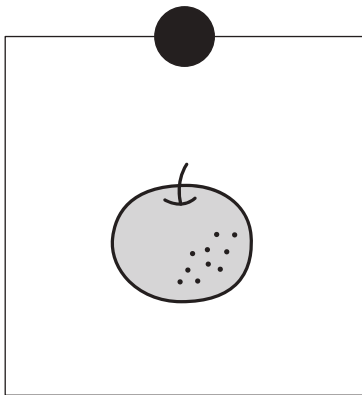
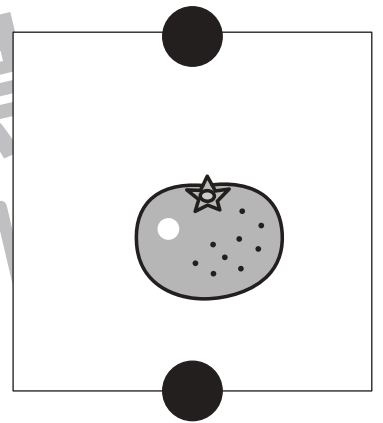
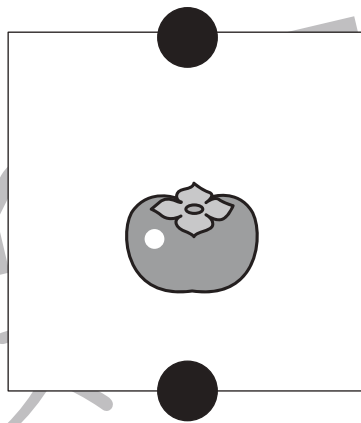

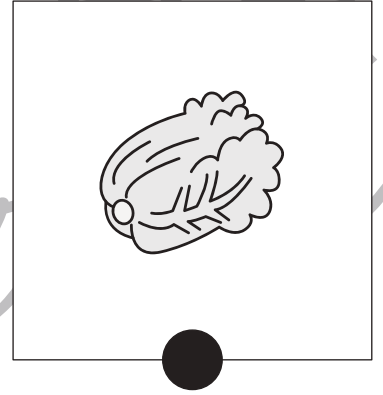

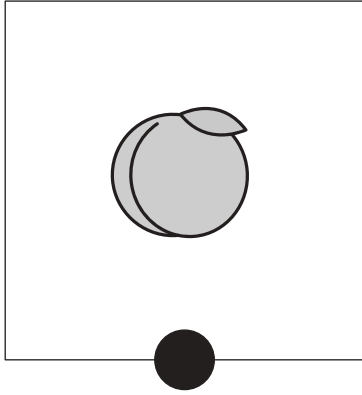


# おうちで、やろう。 年中児版

Study at home. 小学校受験の家庭学習教材

言語：音の数8

上、真ん中、下の段でそれぞれ同じ音の数のものを見つけて、点と点を線でつなぎましょう。



※1. このプリントは、しながわ・目黒こどもスクールのウェブサイトでダウンロードができます。無断複写・引用はご遠慮ください。  
※2. このプリントを活用したオンライン授業のスケジュールは、しながわ・目黒こどもスクールのウェブサイトでご確認ください。














# おうちで、やろう。 年中児版

Study at home. 小学校受験の家庭学習教材

言語：音の数9

上、真ん中、下の段でそれぞれ同じ音の数のものを見つけて、点と点を線でつなぎましょう。



※1. このプリントは、しながわ・目黒こどもスクールのウェブサイトでダウンロードができます。無断複写・引用はご遠慮ください。  
※2. このプリントを活用したオンライン授業のスケジュールは、しながわ・目黒こどもスクールのウェブサイトでご確認ください。









# おうちで、やろう。年中児版

Study at home. 小学校受験の家庭学習教材

図形：広さ4

左と右の四角の中で灰色の部分が広いのはどちらですか。広い方に○をつけましょう。



※1. このプリントは、しながわ・目黒こどもスクールのウェブサイトでダウンロードができます。無断複写・引用はご遠慮ください。  
※2. このプリントを活用したオンライン授業のスケジュールは、しながわ・目黒こどもスクールのウェブサイトでご確認ください。






# おうちで、やろう。年中児版

Study at home. 小学校受験の家庭学習教材

図形：広さ5

左と右の四角の中で灰色の部分が広いのはどちらですか。広い方に○をつけましょう。



※1. このプリントは、しながわ・目黒こどもスクールのウェブサイトでダウンロードができます。無断複写・引用はご遠慮ください。  
 ※2. このプリントを活用したオンライン授業のスケジュールは、しながわ・目黒こどもスクールのウェブサイトでご確認ください。

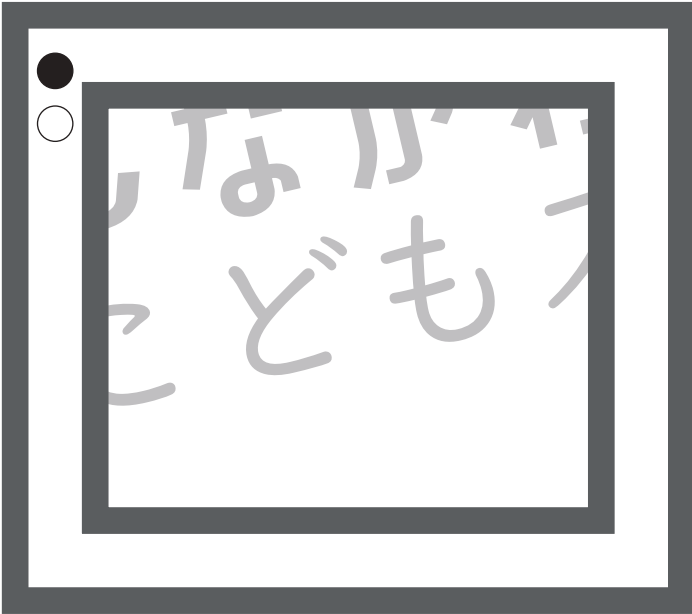
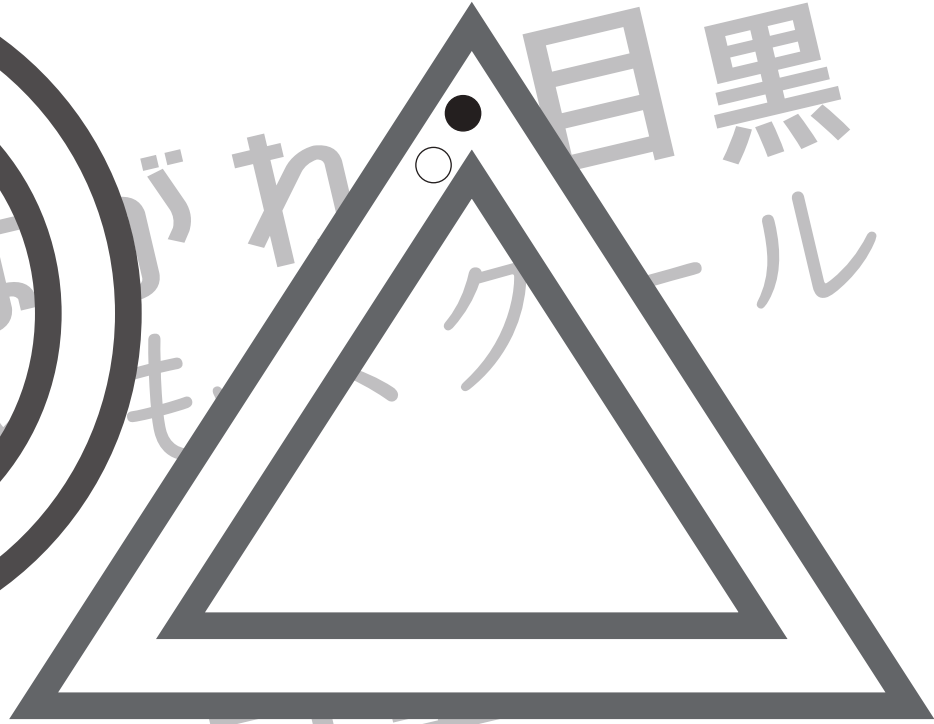



# おうちで、やろう。

Study at home. 小学校受験の家庭学習教材

図形：運筆2

●から○まで線を描きましょう。※この問題に解答はありません。



※1. このプリントは、しながわ・目黒こどもスクールのウェブサイトでダウンロードができます。無断複写・引用はご遠慮ください。  
※2. このプリントを活用したオンライン授業のスケジュールは、しながわ・目黒こどもスクールのウェブサイトでご確認ください。

