



おうちで、やろう。 年中児版

Study at home. 小学校受験の家庭学習教材

言語：しりとり4

左から順にしりとりをします。四角には何を入れれば正しくしりとりがつながりますか。下から選んで○をつけましょう。

Activity 1:

Sequence: [Blank square] → Spider → Maple leaf → [Blank square] → Bicycle

Options for the second blank square:

- Mittens
- Hammock
- Scissors
- Decorative bow

Activity 2:

Sequence: Flower → [Blank square] → Whale → [Blank square] → Backpack

Options for the second and third blank squares:

- Peacock
- Eggplant
- Sparrow
- Snowman

※1. このプリントは、しながわ・目黒こどもスクールのウェブサイトからダウンロードできます。無断複写・引用はご遠慮ください。

※2. このプリントを活用したオンライン授業のスケジュールは、しながわ・目黒こどもスクールのウェブサイトでご確認ください。

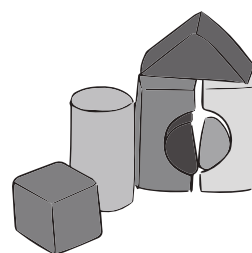
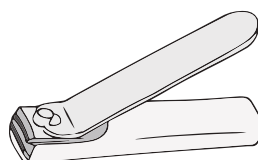






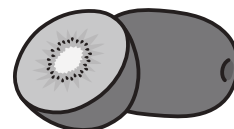

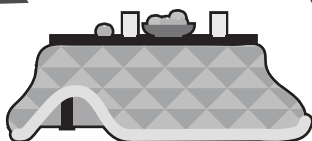


おうちで、やろう。 年中児版

Study at home. 小学校受験の家庭学習教材

言語：しりとり5

左から順にしりとりをします。四角には何を入れれば正しくしりとりがつながりますか。下から選んで○をつけましょう。



※1. このプリントは、しながわ・目黒こどもスクールのウェブサイトダウンロードができます。無断複写・引用はご遠慮ください。

※2. このプリントを活用したオンライン授業のスケジュールは、しながわ・目黒こどもスクールのウェブサイトでご確認ください。










おうちで、やろう。 年中児版

Study at home. 小学校受験の家庭学習教材

常識：生物 2

- ①草を食べる動物に○をつけましょう。
- ②肉を食べる動物に○をつけましょう。
- ③海で生活している生き物に○をつけましょう。
- ④場所によって色が変わる生き物に○をつけましょう。
- ⑤骨の無い生き物に○をつけましょう。



※1. このプリントは、しながわ・目黒こどもスクールのウェブサイトからダウンロードできます。無断複写・引用はご遠慮ください。
※2. このプリントを活用したオンライン授業のスケジュールは、しながわ・目黒こどもスクールのウェブサイトでご確認ください。


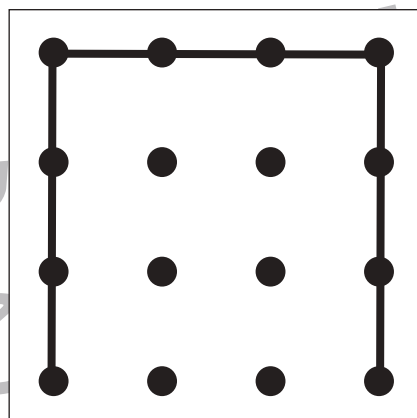
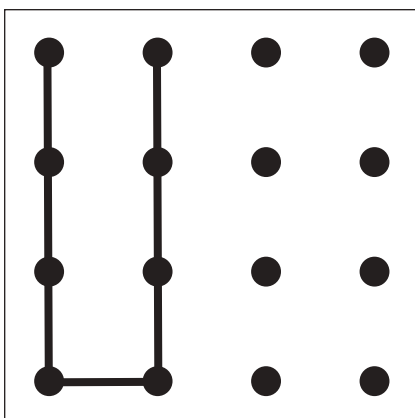

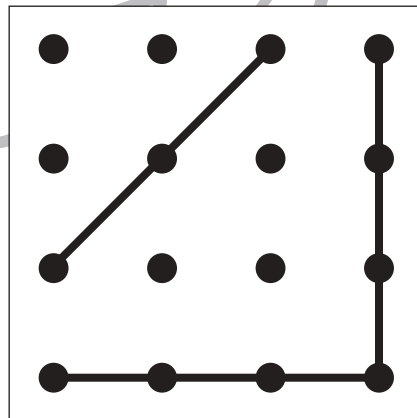
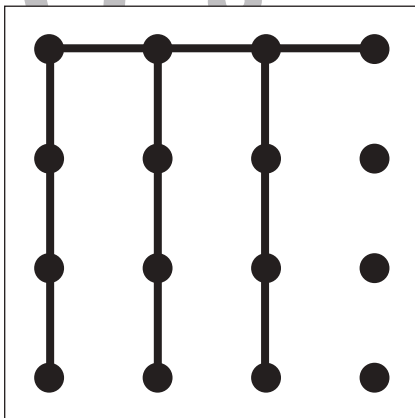

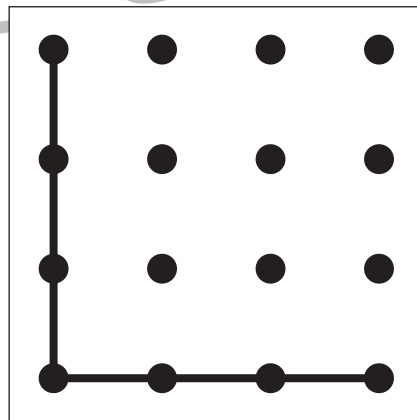
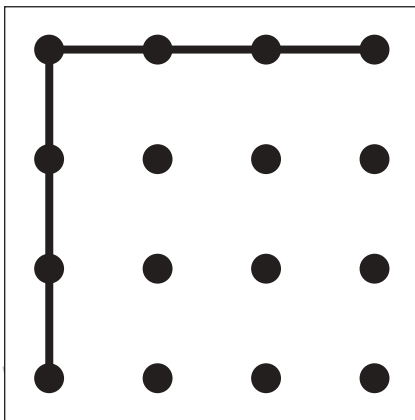

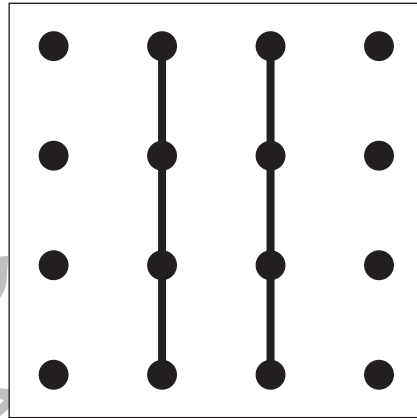
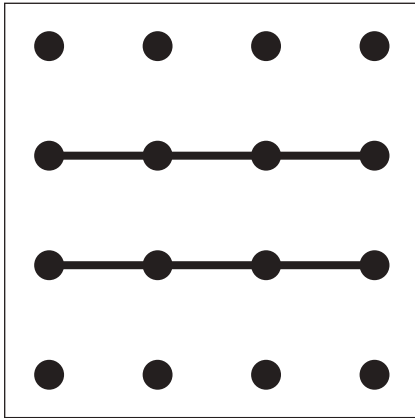


おうちで、やろう。 年中児版

Study at home. 小学校受験の家庭学習教材

図形：重ね点図形 1

左から順にしりとりをします。四角には何を入れれば正しくしりとりがつながりますか。下の四角の中から選んで○を書きましょう。



※ 1. このプリントは、しながわ・目黒こどもスクールのウェブサイトからダウンロードできます。無断複写・引用はご遠慮ください。

※ 2. このプリントを活用したオンライン授業のスケジュールは、しながわ・目黒こどもスクールのウェブサイトでご確認ください。


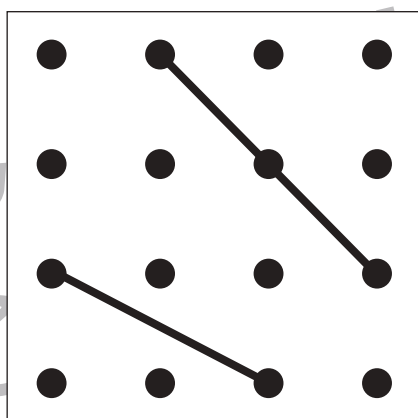
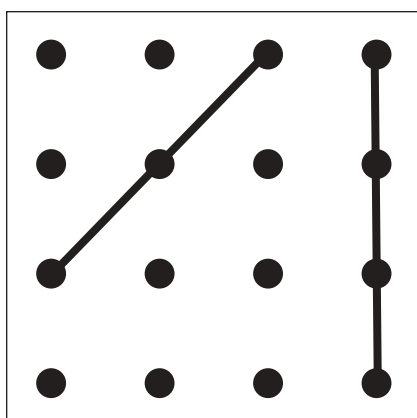

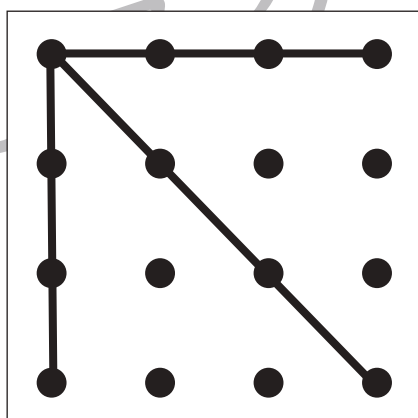
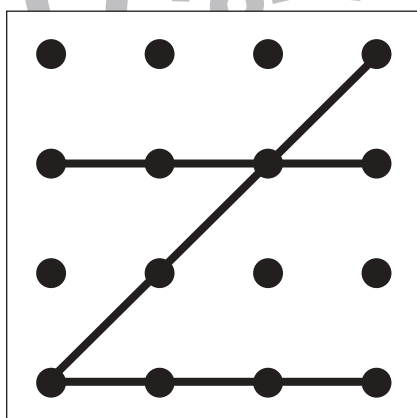

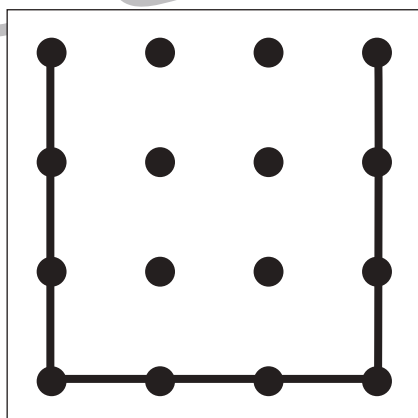
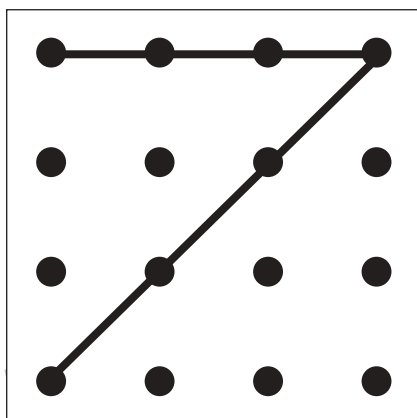

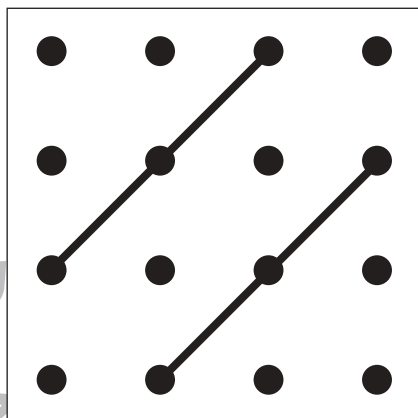
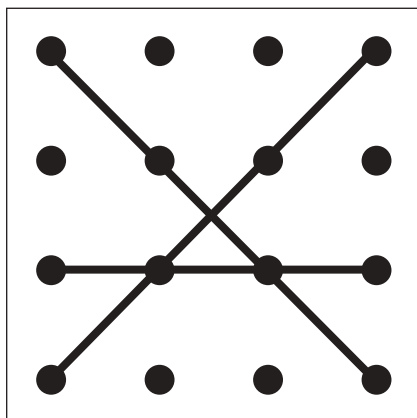


おうちで、やろう。 年中児版

Study at home. 小学校受験の家庭学習教材

図形：重ね点図形2

左と右の点図形を重ねたとき、どんな形になりますか。矢印の右側の四角に書きましょう。



※1. このプリントは、しながわ・目黒こどもスクールのウェブサイトからダウンロードできます。無断複写・引用はご遠慮ください。

※2. このプリントを活用したオンライン授業のスケジュールは、しながわ・目黒こどもスクールのウェブサイトでご確認ください。


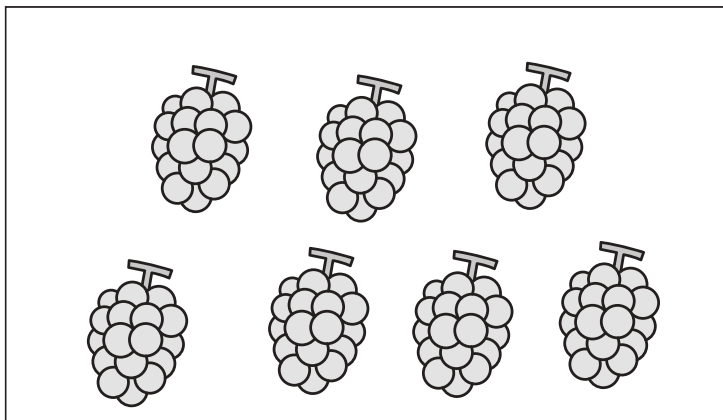
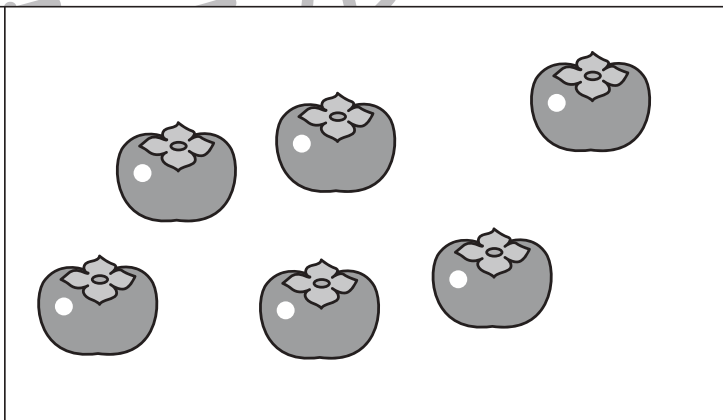
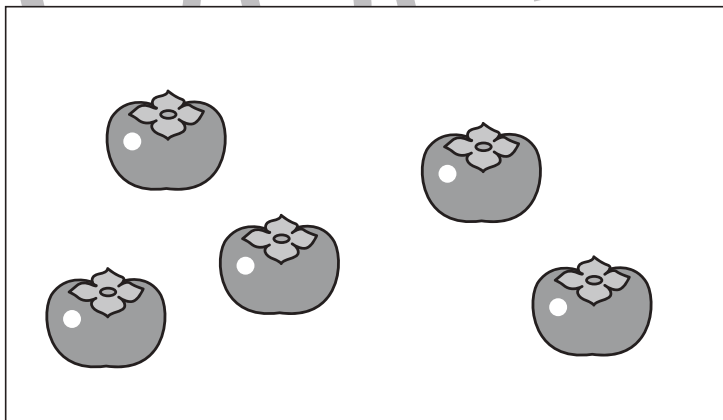


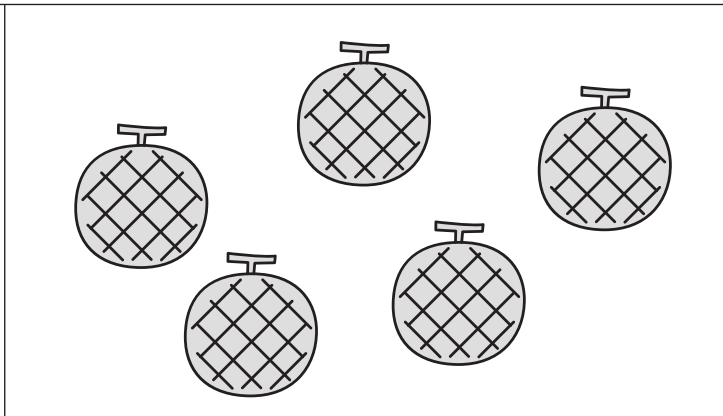
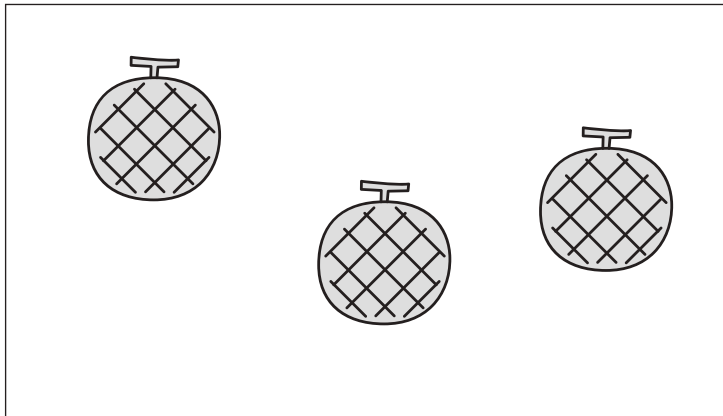


おうちで、やろう。 年中児版

Study at home. 小学校受験の家庭学習教材

数量：多少2

左と右の果物の数をくらべます。数が多い方の四角に○をつけましょう。



※1. このプリントは、しながわ・目黒こどもスクールのウェブサイトでダウンロードができます。無断複写・引用はご遠慮ください。
※2. このプリントを活用したオンライン授業のスケジュールは、しながわ・目黒こどもスクールのウェブサイトでご確認ください。











おうちで、やろう。 年中児版

Study at home. 小学校受験の家庭学習教材

数量：多少3

左と右の動物の数をくらべます。数が多い方の四角に○をつけましょう。



※1. このプリントは、しながわ・目黒こどもスクールのウェブサイトからダウンロードできます。無断複写・引用はご遠慮ください。

※2. このプリントを活用したオンライン授業のスケジュールは、しながわ・目黒こどもスクールのウェブサイトでご確認ください。






おうちで、やろう。 年中児版

Study at home. 小学校受験の家庭学習教材

数量：長さ2

ひもの長さが1番長いものに○、2番目に長いものに□、1番短いものに△をつけましょう。



※1. このプリントは、しながわ・目黒こどもスクールのウェブサイトからダウンロードできます。無断複写・引用はご遠慮ください。
※2. このプリントを活用したオンライン授業のスケジュールは、しながわ・目黒こどもスクールのウェブサイトでご確認ください。