

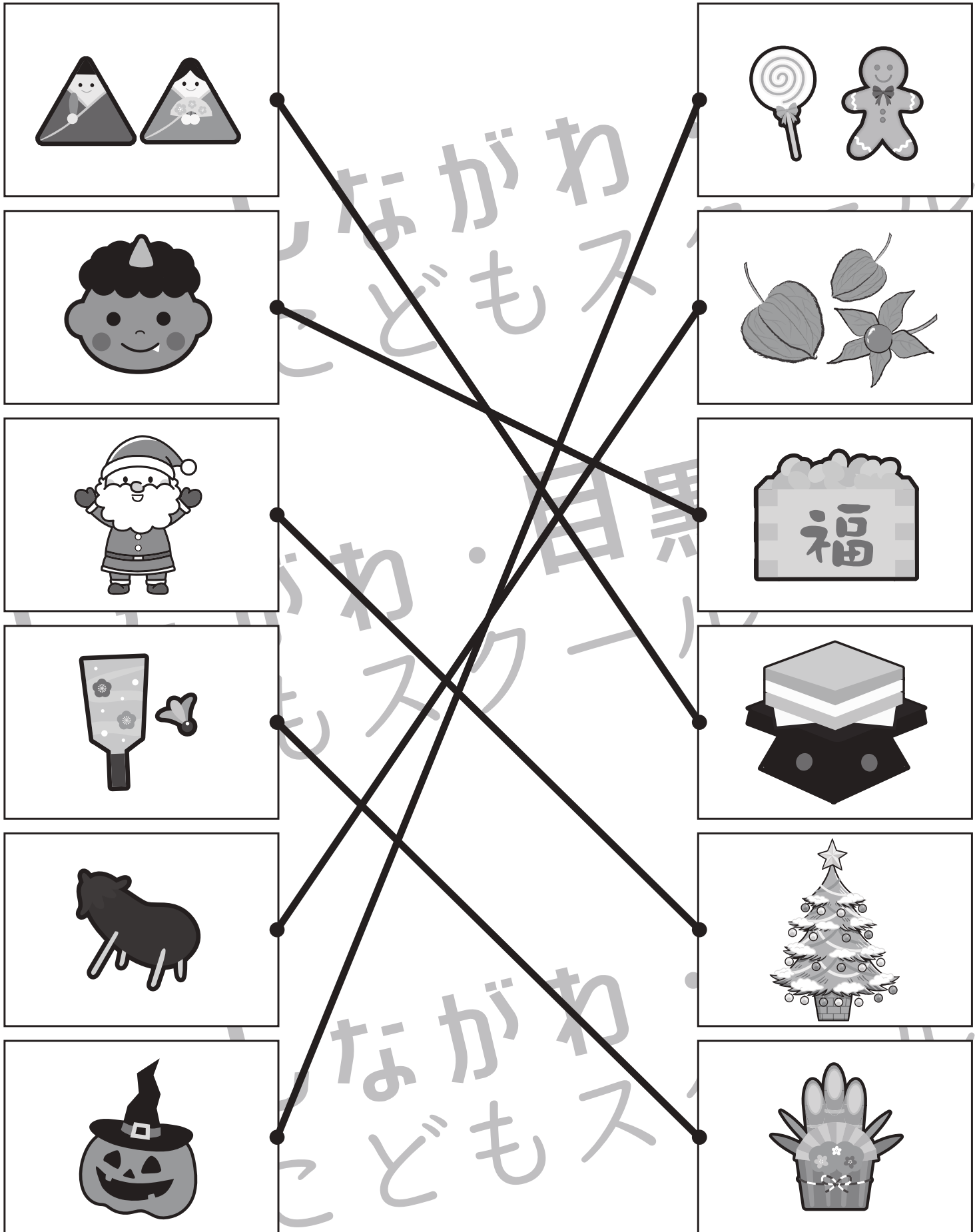


おうちで、やろう。

Study at home. 小学校受験の家庭学習教材

常識：行事 3

いろいろな行事の絵が並んでいます。左と右で同じ行事のものの同士の点と点を線で結びます。



※1. このプリントは、しながわ・目黒こどもスクールのウェブサイトでダウンロードができます。無断複写・引用はご遠慮ください。

※2. このプリントを活用したオンライン授業のスケジュールは、しながわ・目黒こどもスクールのウェブサイトでご確認ください。




おうちで、やろう。


Study at home. 小学校受験の家庭学習教材

常識：行事4

①ひな祭りはいつの季節の行事ですか。同じ季節に咲く花に○をつけます。



②ひな祭りに関係あるものに○をつけます。



※1. このプリントは、しながわ・目黒こどもスクールのウェブサイトでダウンロードができます。無断複写・引用はご遠慮ください。

※2. このプリントを活用したオンライン授業のスケジュールは、しながわ・目黒こどもスクールのウェブサイトでご確認ください。



おうちで、やろう。

Study at home. 小学校受験の家庭学習教材

推理：条件推理 15

スタートにいる女の子がすべての動物に会って、ゴールの宝箱まで進みます。女の子はマスを進み、マークがあるマスに着くともう一つの同じマークのところまで移動する約束です。この約束ですべての動物に会う進み方を考えて、通った道に線をかきます。

スタート

ゴール

※1. このプリントは、しながわ・目黒こどもスクールのウェブサイトでダウンロードができます。無断複写・引用はご遠慮ください。
 ※2. このプリントを活用したオンライン授業のスケジュールは、しながわ・目黒こどもスクールのウェブサイトでご確認ください。



おうちで、やろう。

Study at home. 小学校受験の家庭学習教材

推理：条件推理 16

スタートにいる女の子がすべての動物に会って、ゴールの宝箱まで進みます。女の子はマスを進み、マークがあるマスに着くともう一つの同じマークのところまで移動する約束です。この約束ですべての動物に会う進み方を考えて、通った道に線をかきます。

スタート

ゴール

※1. このプリントは、しながわ・目黒こどもスクールのウェブサイトでダウンロードができます。無断複写・引用はご遠慮ください。
 ※2. このプリントを活用したオンライン授業のスケジュールは、しながわ・目黒こどもスクールのウェブサイトでご確認ください。

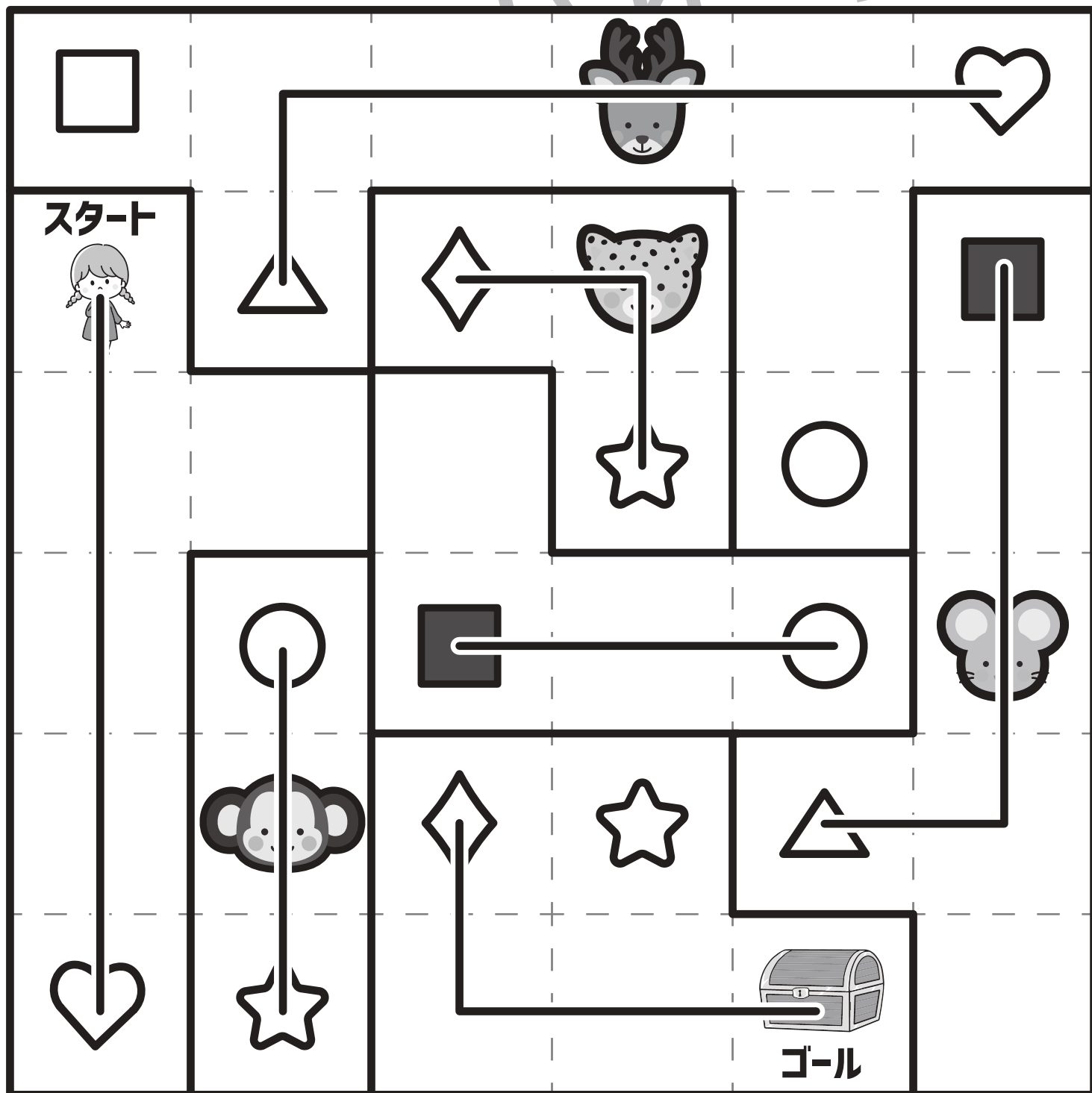


おうちで、やろう。

Study at home. 小学校受験の家庭学習教材

推理：条件推理 17

スタートにいる女の子がすべての動物に会って、ゴールの宝箱まで進みます。女の子はマスを進み、マークがあるマスに着くともう一つの同じマークのところまで移動する約束です。この約束ですべての動物に会う進み方を考えて、通った道に線をかきます。



※1. このプリントは、しながわ・目黒こどもスクールのウェブサイトでダウンロードができます。無断複写・引用はご遠慮ください。
 ※2. このプリントを活用したオンライン授業のスケジュールは、しながわ・目黒こどもスクールのウェブサイトでご確認ください。



おうちで、やろう。

Study at home. 小学校受験の家庭学習教材

数量：置き換え 10

上の太い四角が約束でドングリは葉っぱ2枚にかえることができます。左の四角の食べ物を買った中の四角の中のドングリで買うことができますとき、葉っぱで買うには何枚あればよいですか。その数だけ右の四角に○をかきます。



目黒

		$\bigcirc \times 4$
		$\bigcirc \times 6$
		$\bigcirc \times 8$
		$\bigcirc \times 2$
		$\bigcirc \times 6$

※1. このプリントは、しながわ・目黒こどもスクールのウェブサイトでダウンロードができます。無断複写・引用はご遠慮ください。

※2. このプリントを活用したオンライン授業のスケジュールは、しながわ・目黒こどもスクールのウェブサイトでご確認ください。



おうちで、やろう。

Study at home. 小学校受験の家庭学習教材

数量：置き換え 11

上の太い四角が約束でドングリは葉っぱ3枚にかえることができます。左の四角の食べ物を真ん中の四角の中のドングリで買うことができますとき、葉っぱで買うには何枚あればよいですか。その数だけ右の四角に○をかきます。



目黒

		$\bigcirc \times 3$
		$\bigcirc \times 6$
		$\bigcirc \times 9$
		$\bigcirc \times 12$
		$\bigcirc \times 15$

※1. このプリントは、しながわ・目黒こどもスクールのウェブサイトでダウンロードができます。無断複写・引用はご遠慮ください。

※2. このプリントを活用したオンライン授業のスケジュールは、しながわ・目黒こどもスクールのウェブサイトでご確認ください。

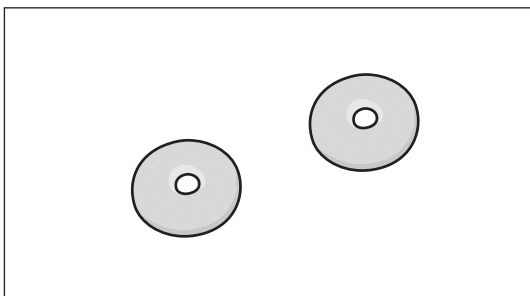
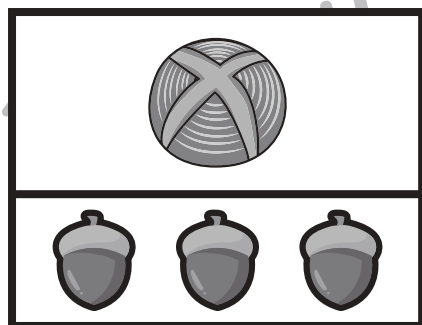

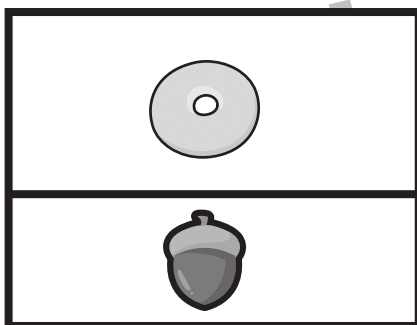


おうちで、やろう。


Study at home. 小学校受験の家庭学習教材

数量：置き換え 12

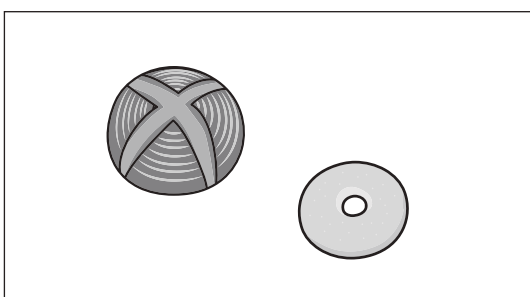
上の太い四角が約束でドングリは葉っぱ2枚にかえることができます。また、3つのパンはそれぞれ下の四角の中のどんで買えることができます。このとき、左の四角の中のパンをすべて買うとき、葉っぱが何枚あればよいですか。その数だけ右の四角に○をかきます。




○ × 4



○ × 6



○ × 8



○ × 12

※1. このプリントは、しながわ・目黒こどもスクールのウェブサイトでダウンロードができます。無断複写・引用はご遠慮ください。

※2. このプリントを活用したオンライン授業のスケジュールは、しながわ・目黒こどもスクールのウェブサイトでご確認ください。





おうちで、やろう。


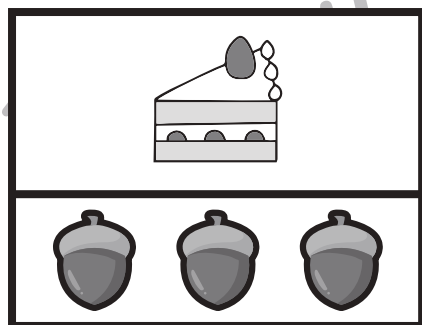

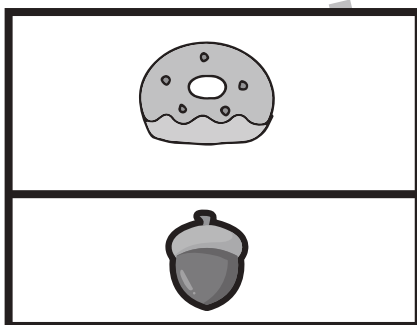
Study at home. 小学校受験の家庭学習教材

数量：置き換え 13

上の太い四角が約束でドングリは葉っぱ3枚にかえることができます。また、3つのお菓子はそれぞれ下の四角の中のどんぐりで買うことができます。このとき、左の四角の中のパンをすべて買うとき、葉っぱが何枚あればよいですか。その数だけ右の四角に○をかきます。



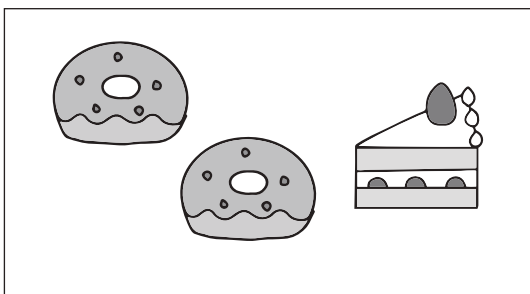
目黒



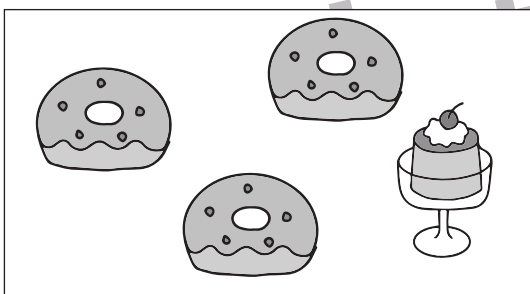
○ × 9



○ × 15



○ × 15



○ × 15

※1. このプリントは、しながわ・目黒こどもスクールのウェブサイトでダウンロードができます。無断複写・引用はご遠慮ください。
※2. このプリントを活用したオンライン授業のスケジュールは、しながわ・目黒こどもスクールのウェブサイトでご確認ください。

