



おうちで、やろう。

Study at home. 小学校受験の家庭学習教材

指示の聞き取り 12

それぞれの設問に答えましょう。

①左から4番目の子に○を、右から4番目の子に△をつけます。


②右から6番目の子に△を、左から5番目の子に○をつけます。

③左から3番目の子に○を、左から10番目の子に△をつけます。

④右から5番目の子に△を、そして△をつけた子が左手で隣のお友だちと手をつなぎました。手をつないだ子に○をつけます。

⑤真ん中の子に○を、そして○をつけた子が右手で隣のお友だちと手をつなぎました。手をつないだ子に△をつけます。


①




②




③



④



⑤



※1. このプリントは、しながわ・目黒こどもスクールのウェブサイトでダウンロードができます。無断複写・引用はご遠慮ください。

※2. このプリントを活用したオンライン授業のスケジュールは、しながわ・目黒こどもスクールのウェブサイトでご確認ください。



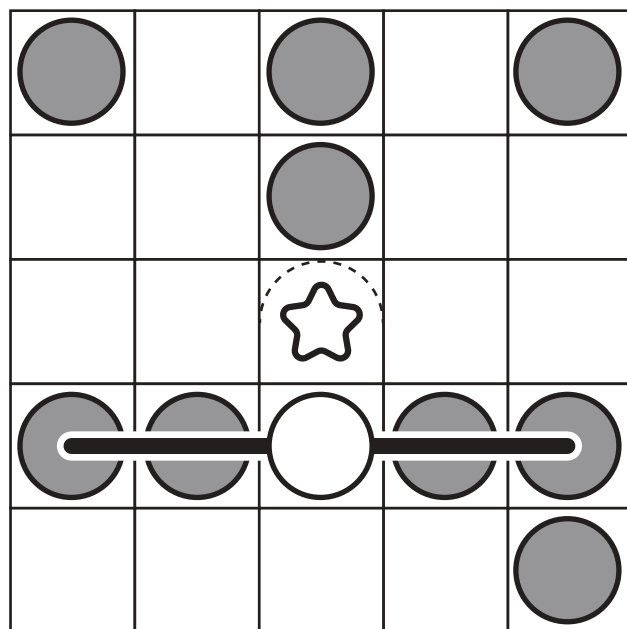
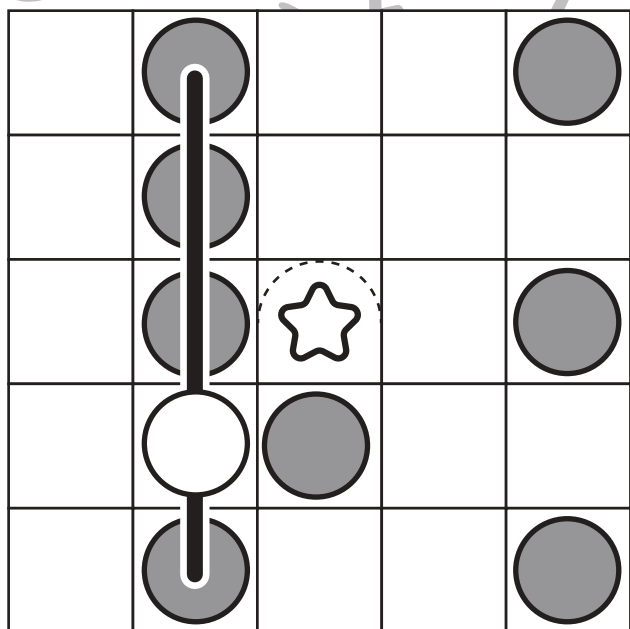
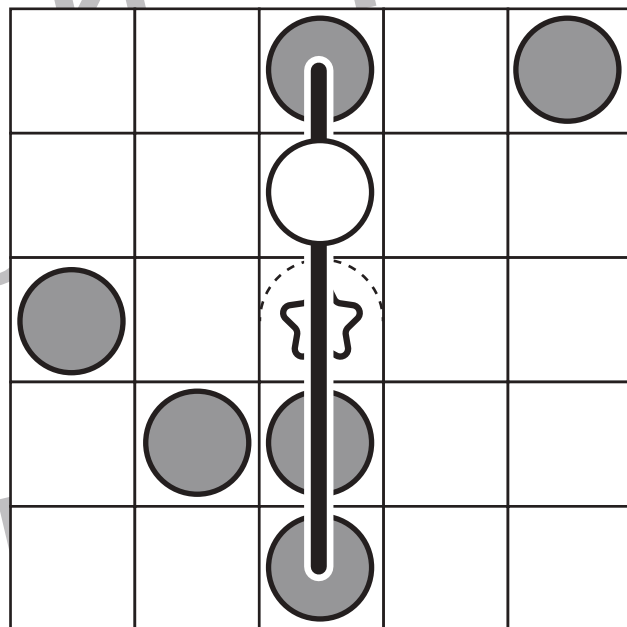
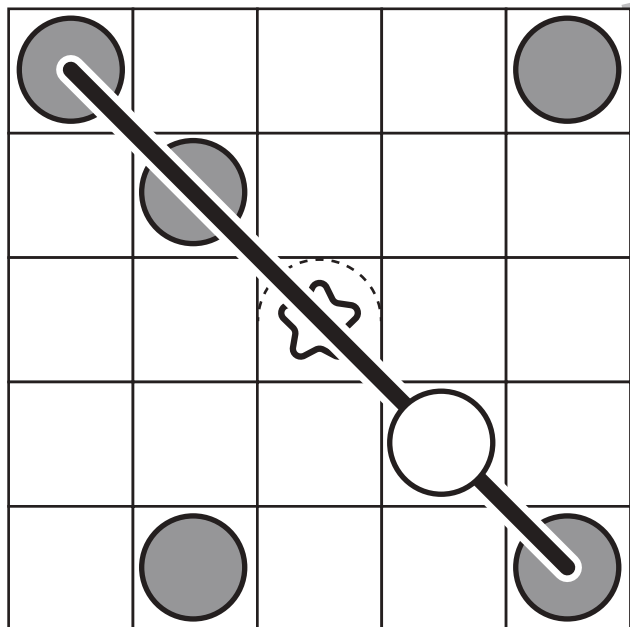


おうちで、やろう。

Study at home. 小学校受験の家庭学習教材

図形：ビンゴ5

真ん中は星のマークで枠が埋まっています。空いているどこかのマスに○を1つかくと、縦・横・斜めのどこかにマークが5つ並び列ができます。どこのマスを考えてそのマスに○をかきます。



※1. このプリントは、しながわ・目黒こどもスクールのウェブサイトでダウンロードができます。無断複写・引用はご遠慮ください。
 ※2. このプリントを活用したオンライン授業のスケジュールは、しながわ・目黒こどもスクールのウェブサイトでご確認ください。

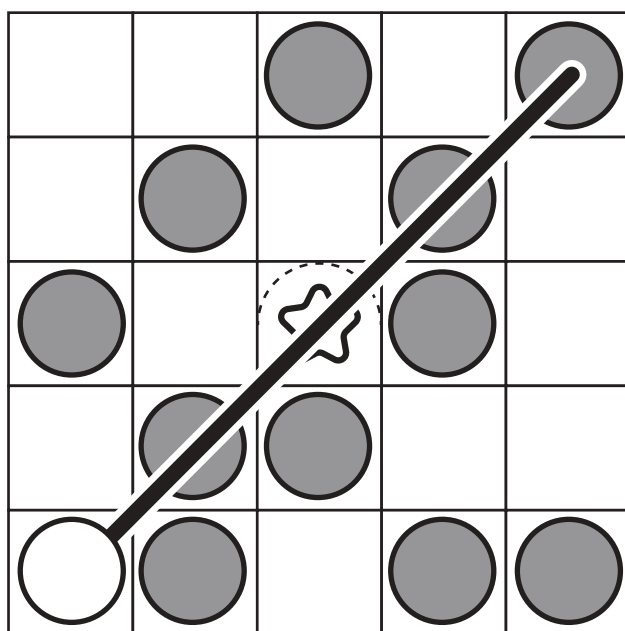
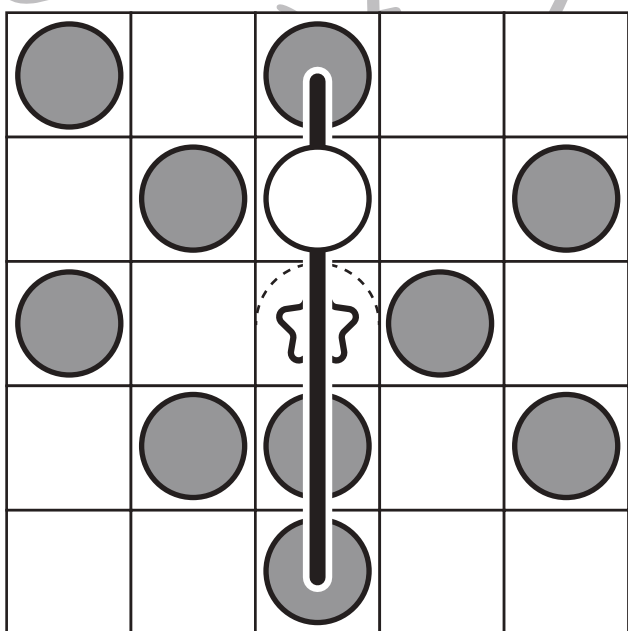
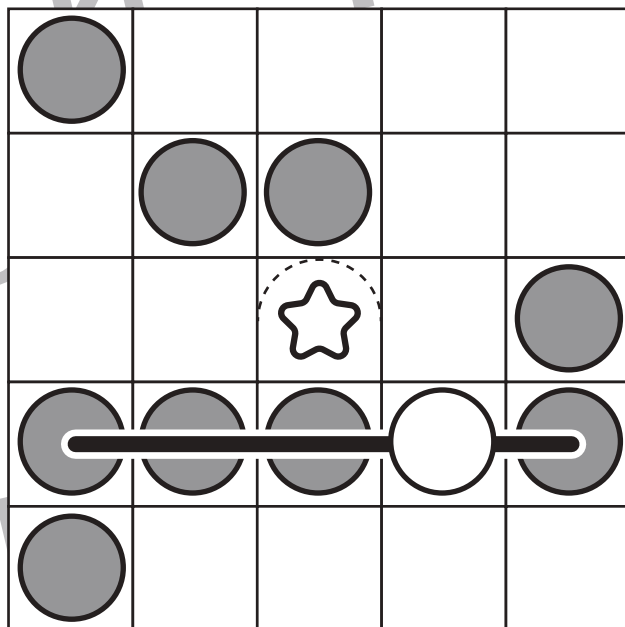
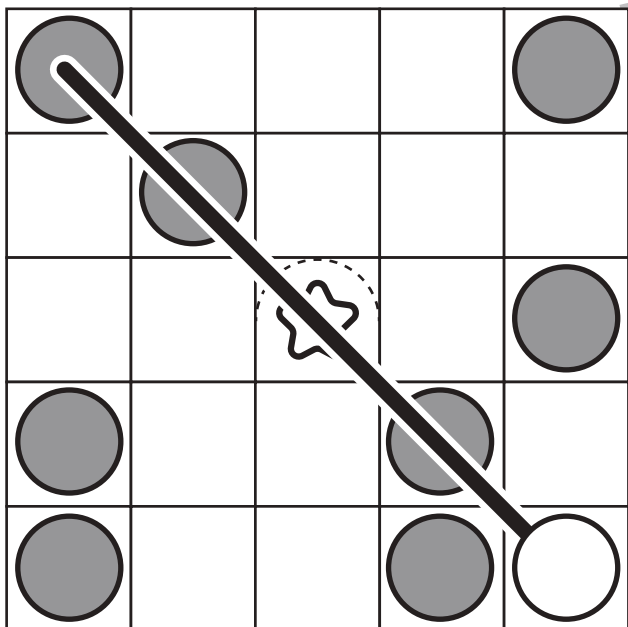


おうちで、やろう。

Study at home. 小学校受験の家庭学習教材

図形：ビンゴ6

真ん中は星のマークで枠が埋まっています。空いているどこかのマスに○を1つかくと、縦・横・斜めのどこかにマークが5つ並び列ができます。どこのマスを考えてそのマスに○をかきます。



※1. このプリントは、しながわ・目黒こどもスクールのウェブサイトでダウンロードができます。無断複写・引用はご遠慮ください。
 ※2. このプリントを活用したオンライン授業のスケジュールは、しながわ・目黒こどもスクールのウェブサイトでご確認ください。

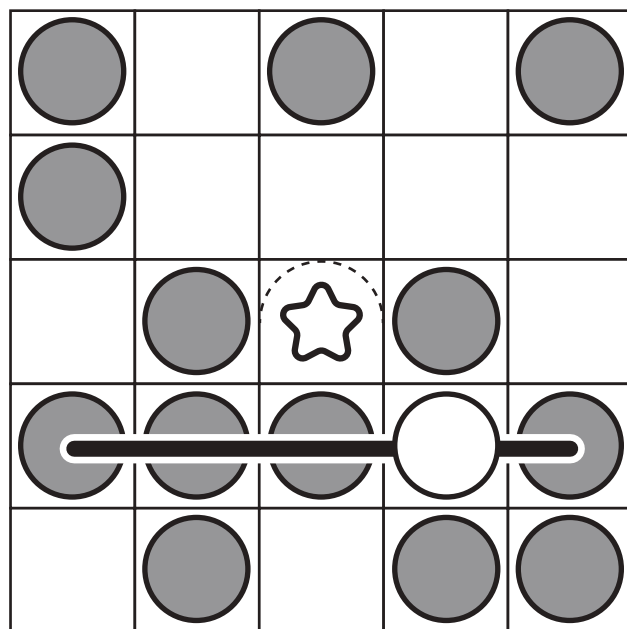
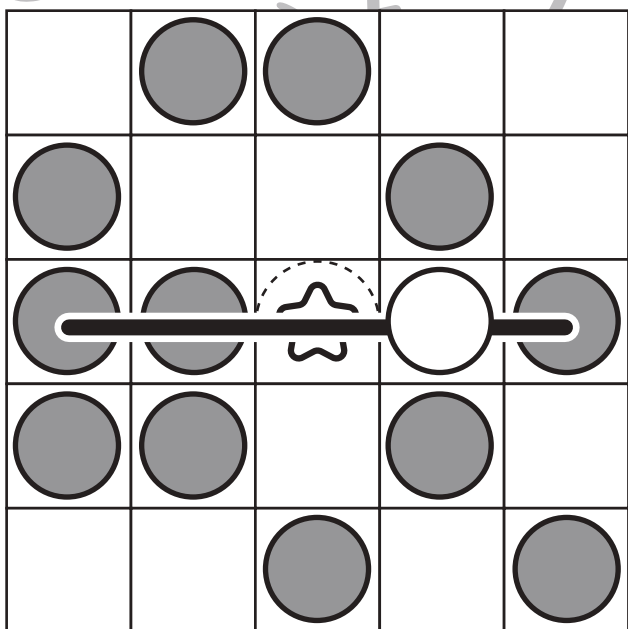
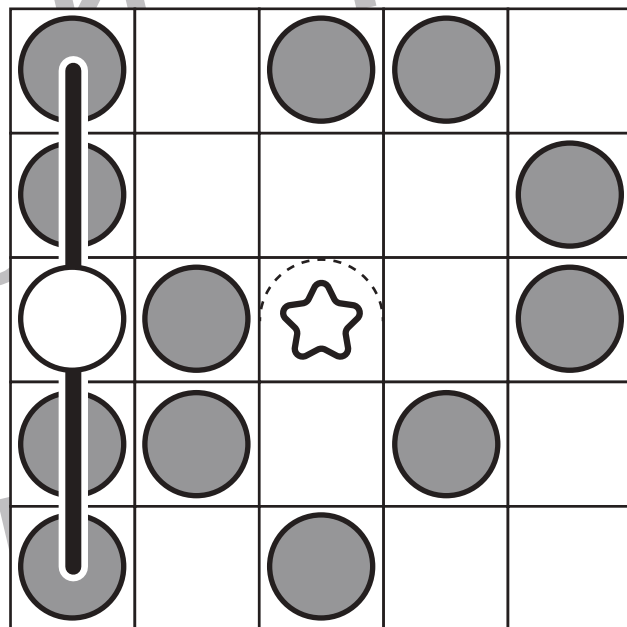
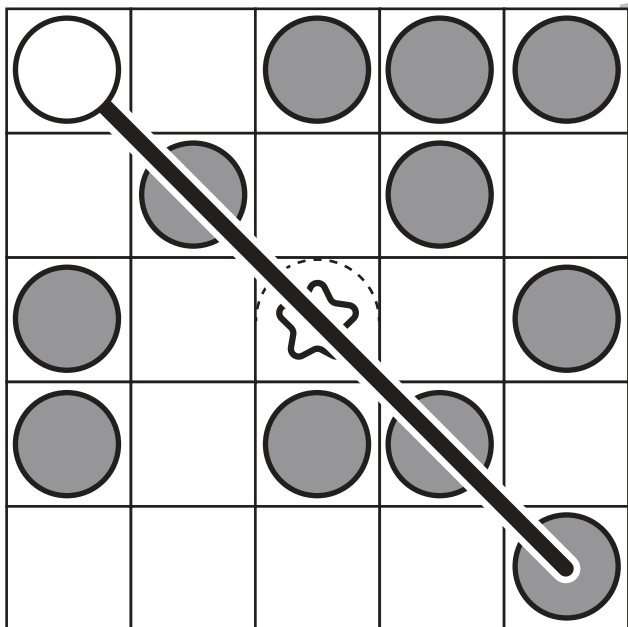


おうちで、やろう。

Study at home. 小学校受験の家庭学習教材

図形：ビンゴ7

真ん中は星のマークで枠が埋まっています。空いているどこかのマスに○を1つかくと、縦・横・斜めのどこかにマークが5つ並び列ができます。どこのマスを考えてそのマスに○をかきます。



※1. このプリントは、しながわ・目黒こどもスクールのウェブサイトでダウンロードができます。無断複写・引用はご遠慮ください。
 ※2. このプリントを活用したオンライン授業のスケジュールは、しながわ・目黒こどもスクールのウェブサイトでご確認ください。


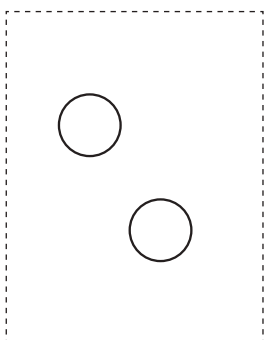
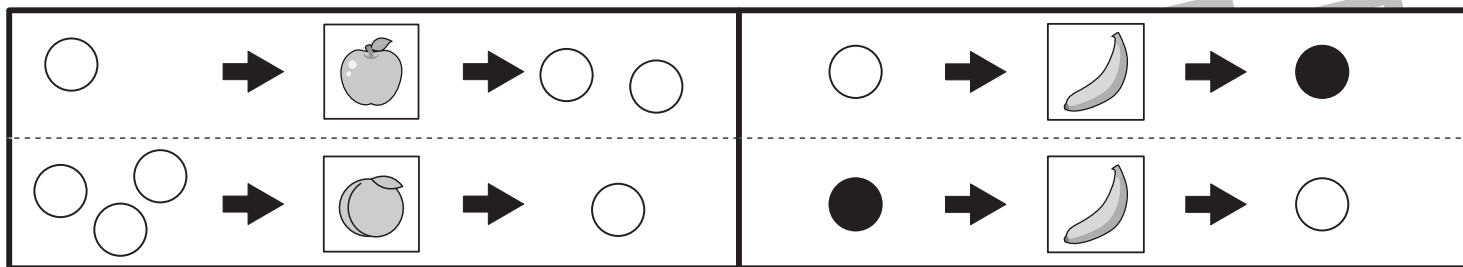


おうちで、やろう。


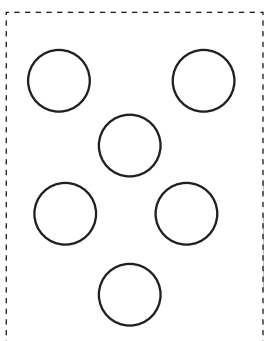
Study at home.

推理：ブラックボックス4

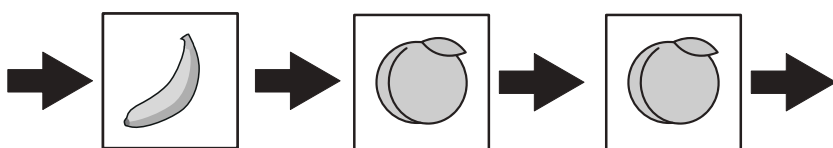

上の太い四角の中が約束です。リンゴの絵の箱の中に白い○を入れると1つ増えて出てきます。モモの絵の箱の中に白い○を入れると2つ減って出てきます。バナナの絵の箱の中に○を入れると色が変わって出てきます。このお約束の通りに左にある○を矢印の順番に箱の中に入れていきます。最後に出てきた○を右の四角にかきます。




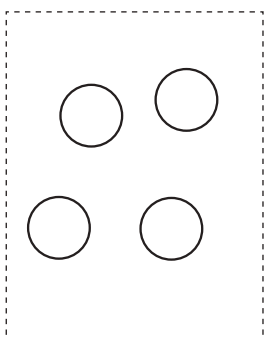
$$\bullet \times 4$$



$$\circ \times 3$$



$$\circ \times 1$$



$$\circ \times 2$$

※1. このプリントは、しながわ・目黒こどもスクールのウェブサイトでダウンロードができます。無断複写・引用はご遠慮ください。
 ※2. このプリントを活用したオンライン授業のスケジュールは、しながわ・目黒こどもスクールのウェブサイトでご確認ください。

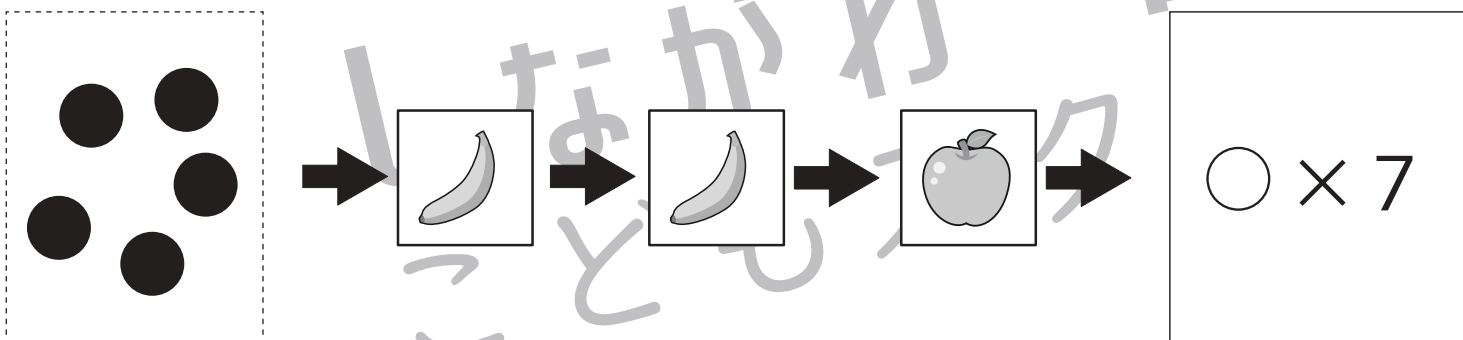
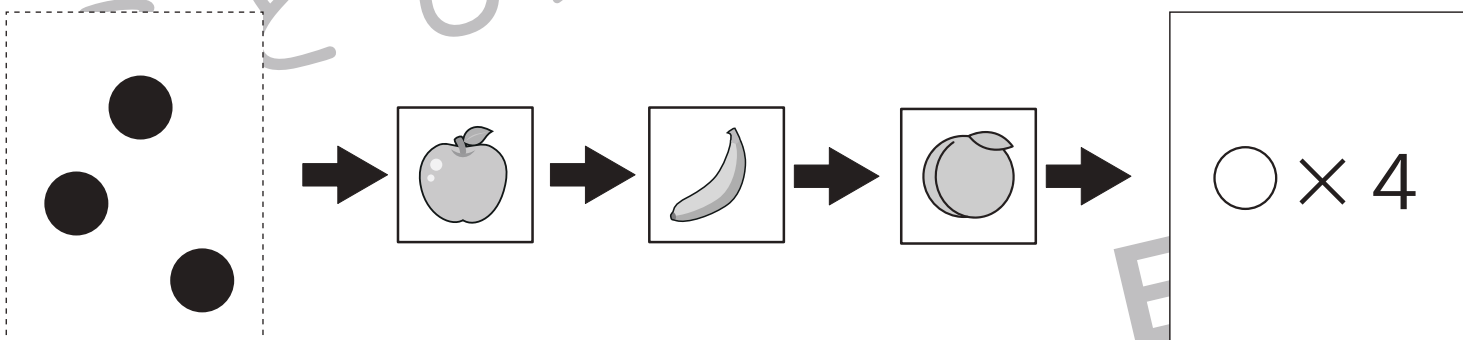
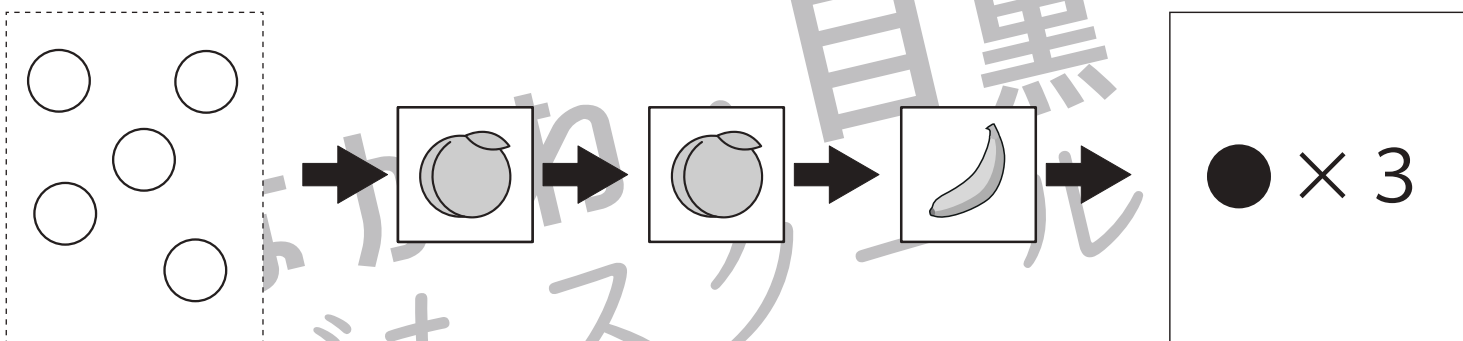
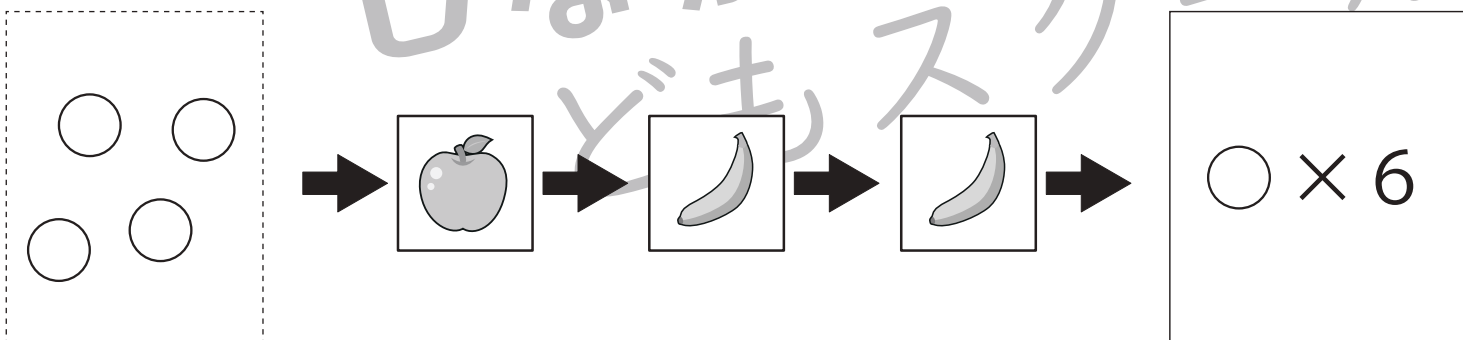
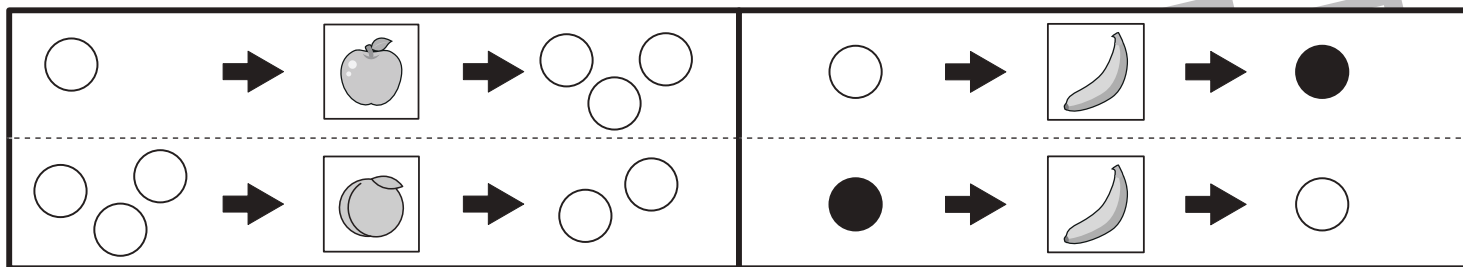


おうちで、やろう。

Study at home.

推理：ブラックボックス5

上の太い四角の中が約束です。リンゴの絵の箱の中に白い○を入れると2つ増えて出てきます。モモの絵の箱の中に白い○を入れると1つ減って出てきます。バナナの絵の箱の中に○を入れると色が変わって出てきます。このお約束の通りに左にある○を矢印の順番に箱の中に入れていきます。最後に出てきた○を右の四角にかきます。



※1. このプリントは、しながわ・目黒こどもスクールのウェブサイトでダウンロードができます。無断複写・引用はご遠慮ください。
 ※2. このプリントを活用したオンライン授業のスケジュールは、しながわ・目黒こどもスクールのウェブサイトでご確認ください。




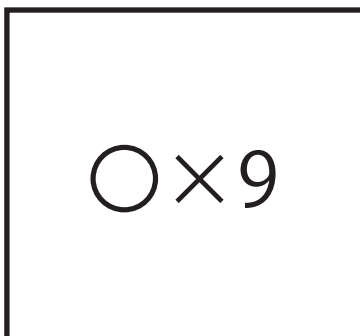










おうちで、やろう。

Study at home. 小学校受験の家庭学習教材

数量：タイヤの数7

左と右の四角の中にあるタイヤの数を数えます。
どちらも数が同じときはその数だけ○をかき、数が違うときは×をかきます。



※1. このプリントは、しながわ・目黒こどもスクールのウェブサイトでダウンロードができます。無断複写・引用はご遠慮ください。
※2. このプリントを活用したオンライン授業のスケジュールは、しながわ・目黒こどもスクールのウェブサイトでご確認ください。













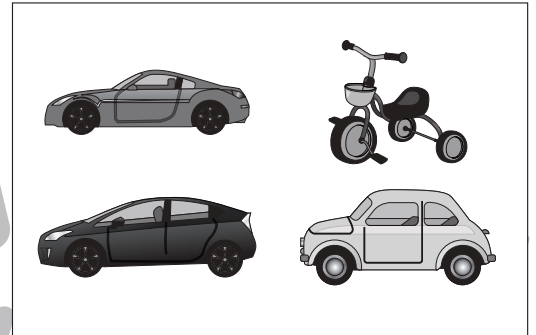

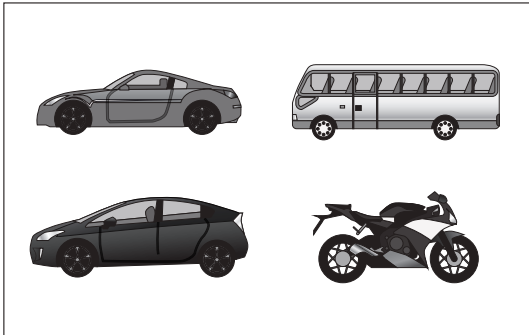


おうちで、やろう。

Study at home. 小学校受験の家庭学習教材

数量：タイヤの数 8

左と右の四角の中にあるタイヤの数を数えます。
どちらも数が同じときはその数だけ○をかき、数が違うときは×をかきます。



※1. このプリントは、しながわ・目黒こどもスクールのウェブサイトでダウンロードができます。無断複写・引用はご遠慮ください。
※2. このプリントを活用したオンライン授業のスケジュールは、しながわ・目黒こどもスクールのウェブサイトでご確認ください。

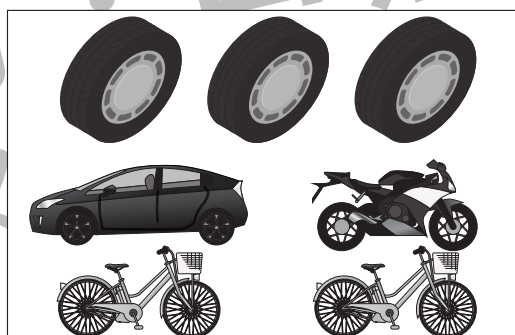






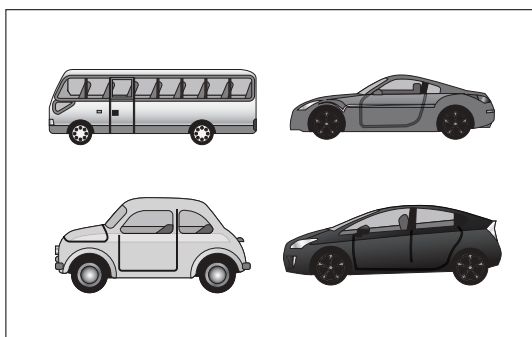







おうちで、やろう。

Study at home. 小学校受験の家庭学習教材

数量：タイヤの数 9

左と右の四角の中にあるタイヤの数を数えます。
どちらも数が同じときはその数だけ○をかき、数が違うときは×をかきます。



※1. このプリントは、しながわ・目黒こどもスクールのウェブサイトでダウンロードができます。無断複写・引用はご遠慮ください。
※2. このプリントを活用したオンライン授業のスケジュールは、しながわ・目黒こどもスクールのウェブサイトでご確認ください。



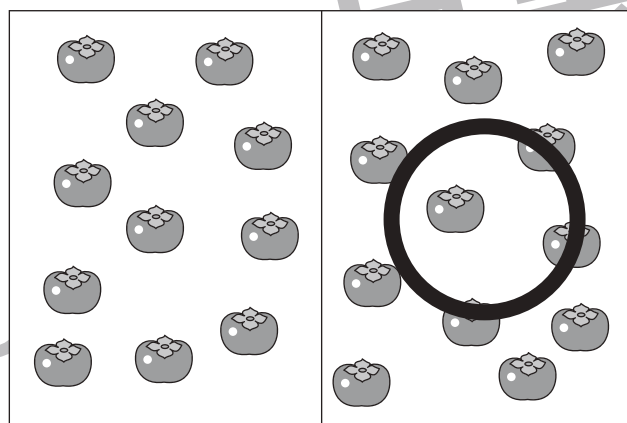


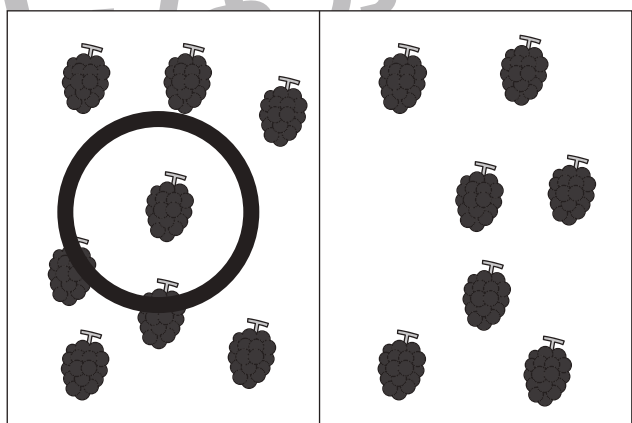

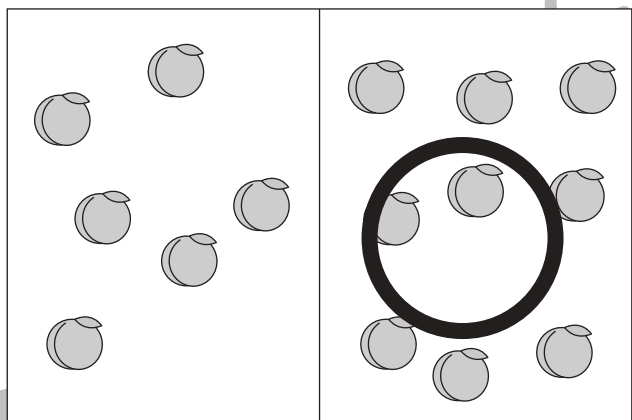
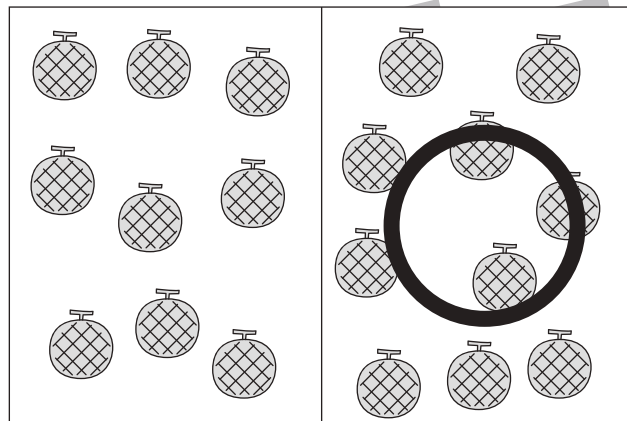
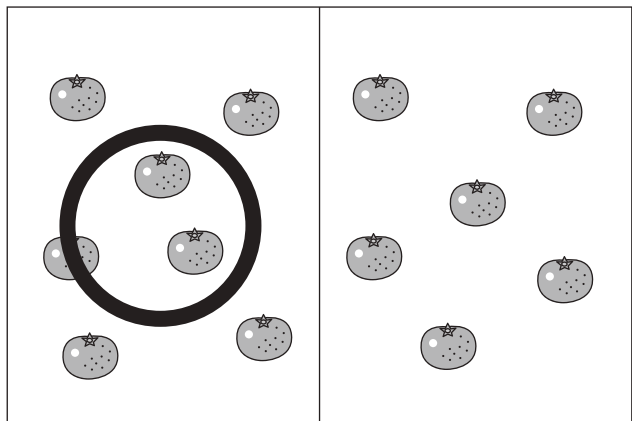


おうちで、やろう。

Study at home. 小学校受験の家庭学習教材

処理：多少1

横に並んだ2つの四角の中の果物のうち数が多い方の四角に○をつけます。
この問題はスピードを意識して取り組む練習をしてみましょう。(1分30秒～2分)



※1. このプリントは、しながわ・目黒こどもスクールのウェブサイトでダウンロードができます。無断複写・引用はご遠慮ください。
 ※2. このプリントを活用したオンライン授業のスケジュールは、しながわ・目黒こどもスクールのウェブサイトでご確認ください。