



おうちで、やろう。

Study at home. 小学校受験の家庭学習教材

指示の聞き取り 12

それぞれの設問に答えましょう。

①左から4番目の子に○を、右から4番目の子に△をつけます。


②右から6番目の子に△を、左から5番目の子に○をつけます。

③左から3番目の子に○を、左から10番目の子に△をつけます。


④右から5番目の子に△を、そして△をつけた子が左手で隣のお友だちと手をつなぎました。手をつないだ子に○をつけます。

⑤真ん中の子に○を、そして○をつけた子が右手で隣のお友だちと手をつなぎました。手をつないだ子に△をつけます。


1




2




3



4



5



※1. このプリントは、しながわ・目黒こどもスクールのウェブサイトでダウンロードができます。無断複写・引用はご遠慮ください。

※2. このプリントを活用したオンライン授業のスケジュールは、しながわ・目黒こどもスクールのウェブサイトでご確認ください。



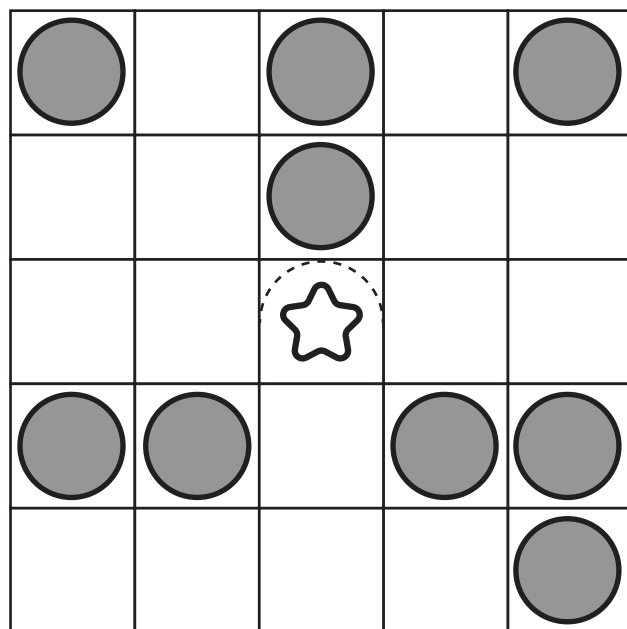
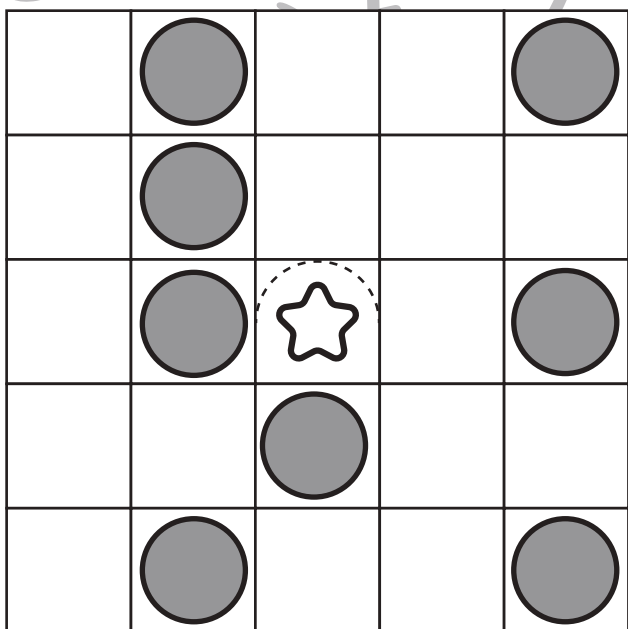
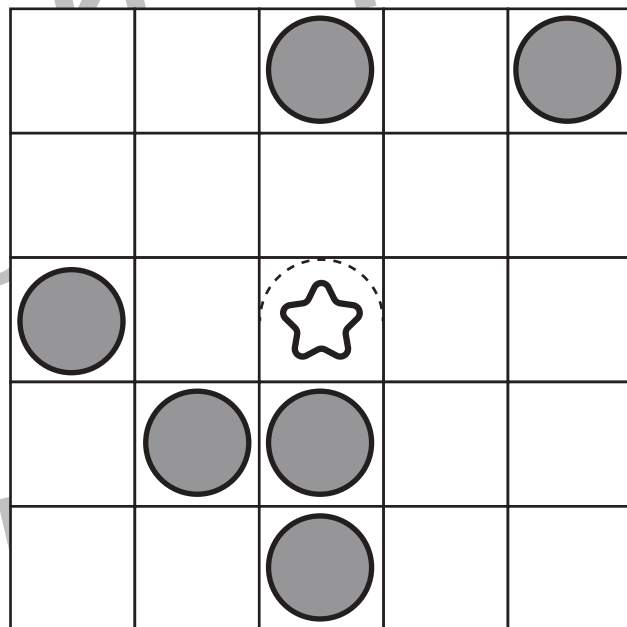
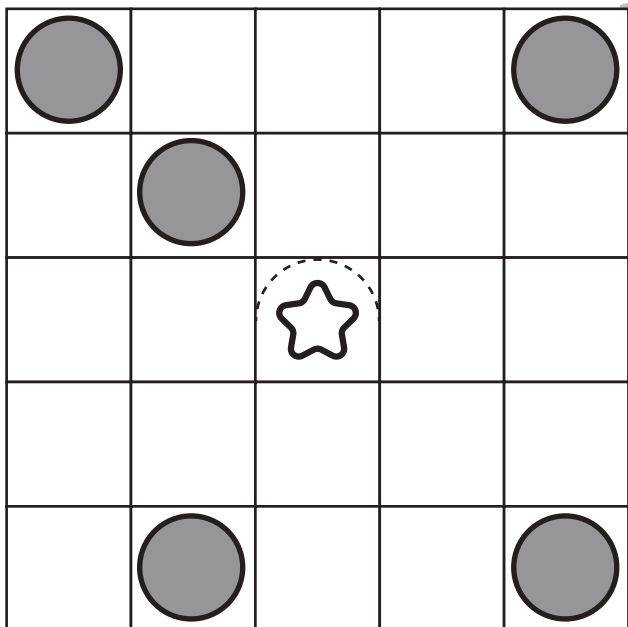


おうちで、やろう。

Study at home. 小学校受験の家庭学習教材

図形：ビンゴ5

真ん中は星のマークで枠が埋まっています。空いているどこかのマスに○を1つかくと、縦・横・斜めのどこかにマークが5つ並び列ができます。どこのマスを考えてそのマスに○をかきます。



※1. このプリントは、しながわ・目黒こどもスクールのウェブサイトでダウンロードができます。無断複写・引用はご遠慮ください。
 ※2. このプリントを活用したオンライン授業のスケジュールは、しながわ・目黒こどもスクールのウェブサイトでご確認ください。

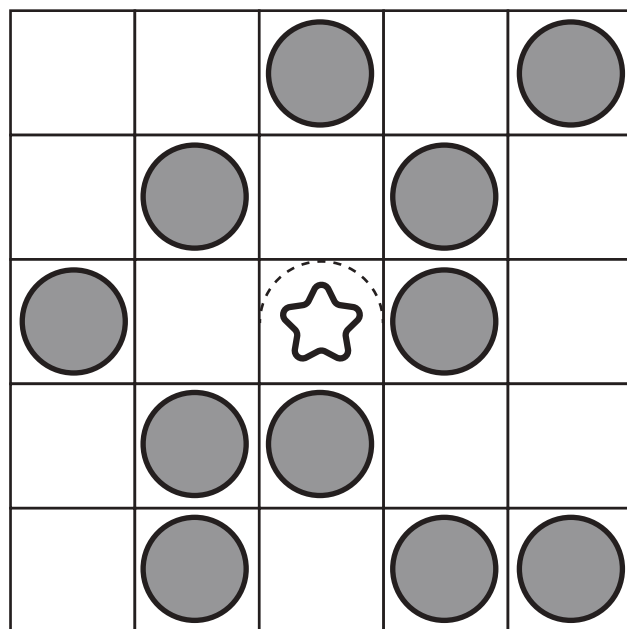
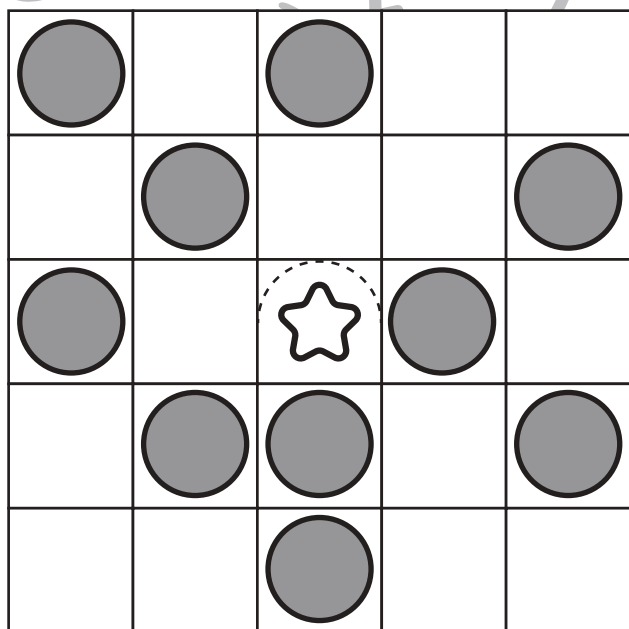
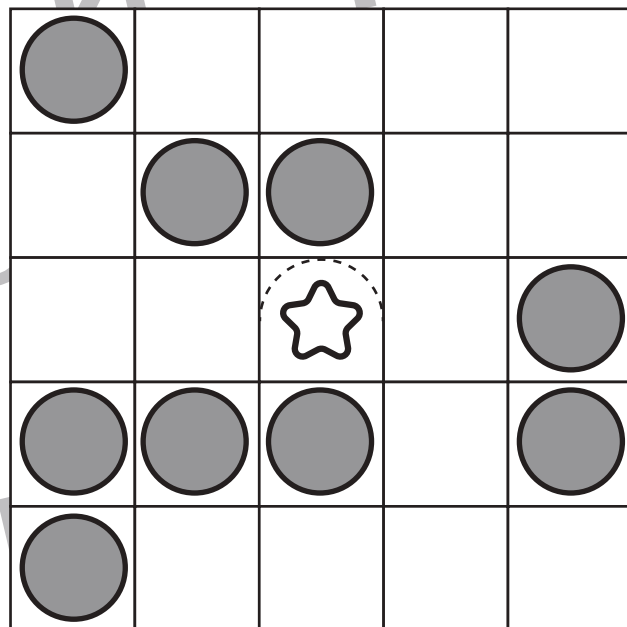
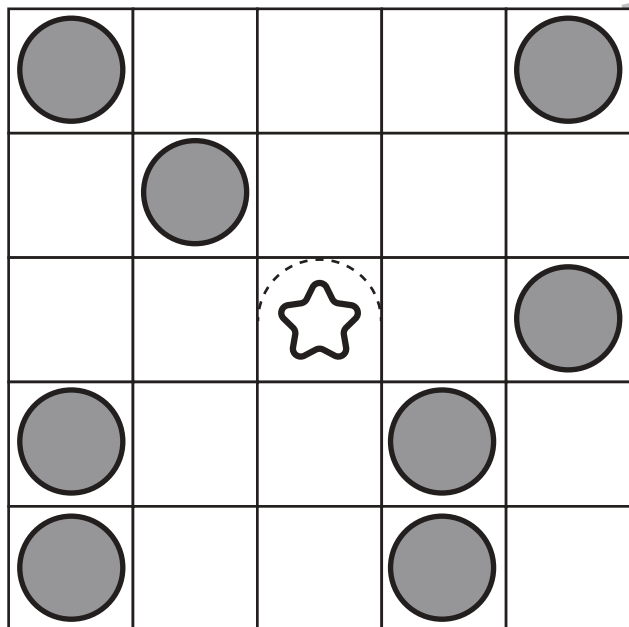


おうちで、やろう。

Study at home. 小学校受験の家庭学習教材

図形：ビンゴ6

真ん中は星のマークで枠が埋まっています。空いているどこかのマスに○を1つかくと、縦・横・斜めのどこかにマークが5つ並び列ができます。どこのマスを考えてそのマスに○をかきます。



※1. このプリントは、しながわ・目黒こどもスクールのウェブサイトでダウンロードができます。無断複写・引用はご遠慮ください。
 ※2. このプリントを活用したオンライン授業のスケジュールは、しながわ・目黒こどもスクールのウェブサイトでご確認ください。

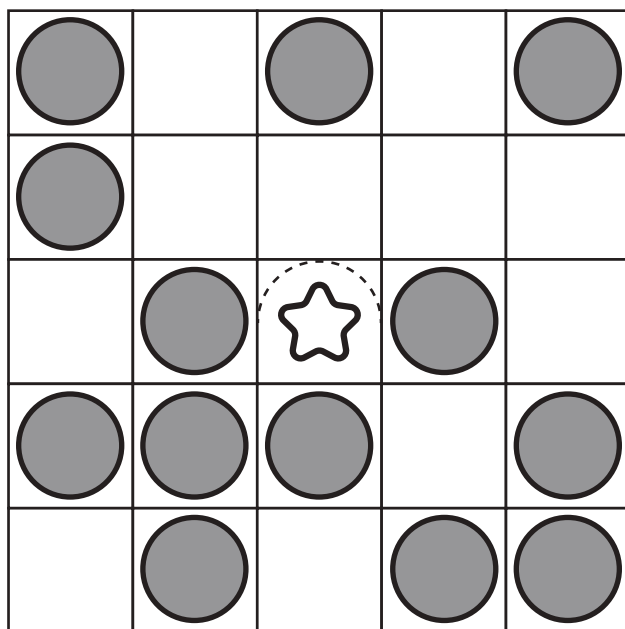
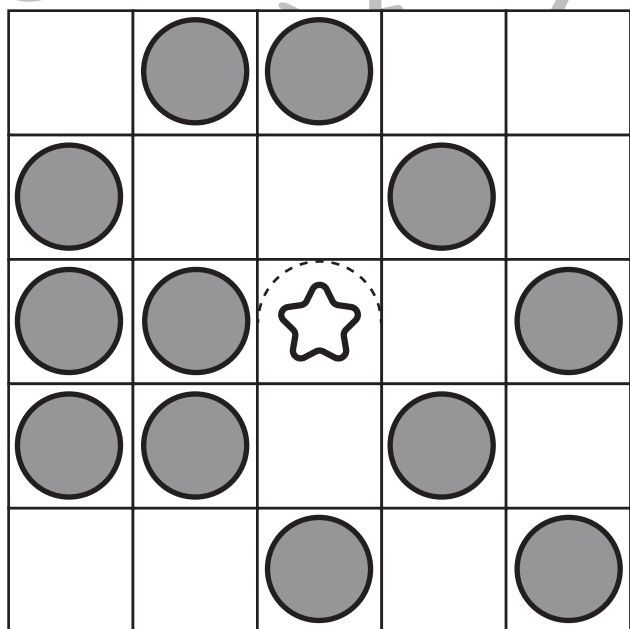
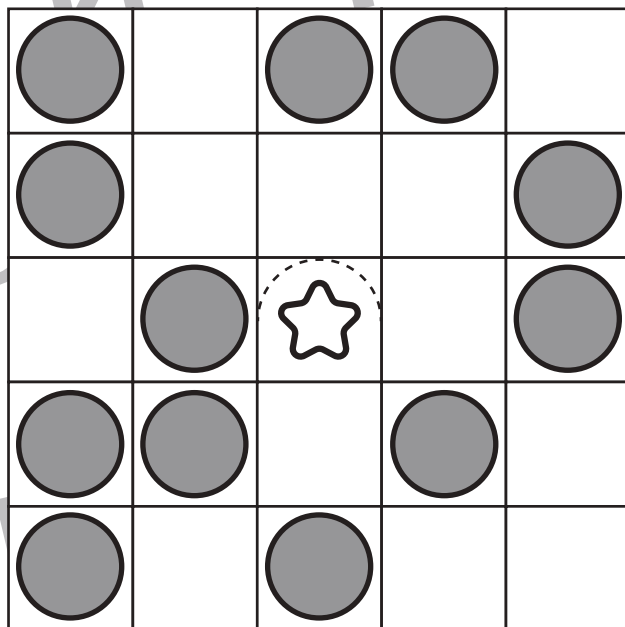
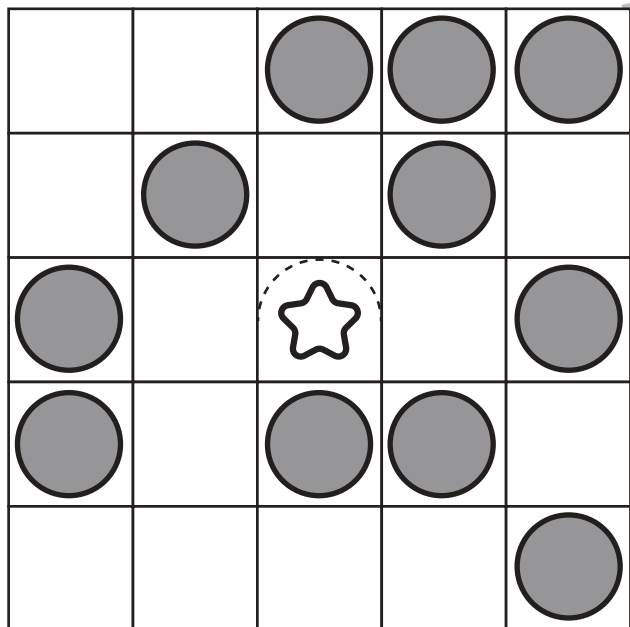


おうちで、やろう。

Study at home. 小学校受験の家庭学習教材

図形：ビンゴ7

真ん中は星のマークで枠が埋まっています。空いているどこかのマスに○を1つかくと、縦・横・斜めのどこかにマークが5つ並び列ができます。どこのマスカを考えてそのマスに○をかきます。



※1. このプリントは、しながわ・目黒こどもスクールのウェブサイトでダウンロードができます。無断複写・引用はご遠慮ください。
 ※2. このプリントを活用したオンライン授業のスケジュールは、しながわ・目黒こどもスクールのウェブサイトでご確認ください。



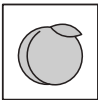





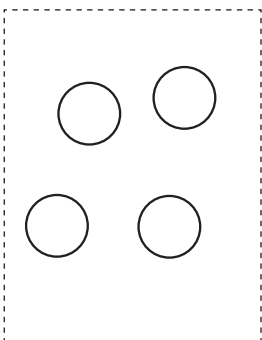

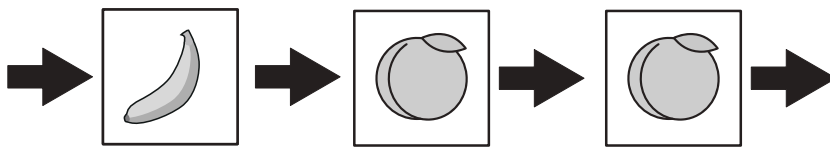



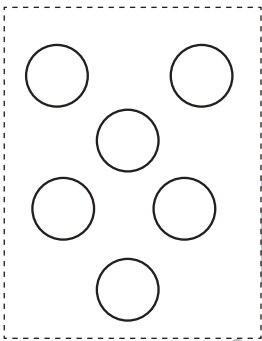


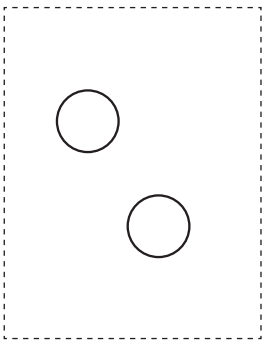
おうちで、やろう。

Study at home.

推理：ブラックボックス 4

上の太い四角の中が約束です。リンゴの絵の箱の中に白い○を入れると1つ増えて出てきます。モモの絵の箱の中に白い○を入れると2つ減って出てきます。バナナの絵の箱の中に○を入れると色が変わって出てきます。このお約束の通りに左にある○を矢印の順番に箱の中に入れていきます。最後に出てきた○を右の四角にかきます。

○ →  → ○ ○	○ →  → ●
○ ○ ○ →  → ○	● →  → ○



※1. このプリントは、しながわ・目黒こどもスクールのウェブサイトでダウンロードができます。無断複写・引用はご遠慮ください。
※2. このプリントを活用したオンライン授業のスケジュールは、しながわ・目黒こどもスクールのウェブサイトでご確認ください。



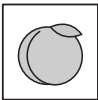






おうちで、やろう。

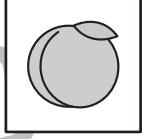


Study at home.



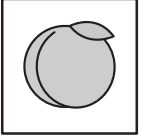
推理：ブラックボックス5




上の太い四角の中が約束です。リンゴの絵の箱の中に白い○を入れると2つ増えて出てきます。モモの絵の箱の中に白い○を入れると1つ減って出てきます。バナナの絵の箱の中に○を入れると色が変わって出てきます。このお約束の通りに左にある○を矢印の順番に箱の中に入れていきます。最後に出てきた○を右の四角にかきます。

○ →  → ○ ○	○ →  → ●
○ ○ ○ →  → ○ ○	● →  → ○

○ ○ ○ ○ ○	→ 	→ 	→ 	→	
-----------	---	---	--	---	--

○ ○ ○ ○ ○ ○ ○	→ 	→ 	→ 	→	
---------------	---	---	--	---	--

● ● ● ●	→ 	→ 	→ 	→	
---------	---	---	--	---	--

● ● ● ● ● ●	→ 	→ 	→ 	→	
-------------	---	---	--	---	--

※1. このプリントは、しながわ・目黒こどもスクールのウェブサイトでダウンロードができます。無断複写・引用はご遠慮ください。
 ※2. このプリントを活用したオンライン授業のスケジュールは、しながわ・目黒こどもスクールのウェブサイトでご確認ください。












おうちで、やろう。

Study at home. 小学校受験の家庭学習教材

数量：タイヤの数 7

左と右の四角の中にあるタイヤの数を数えます。
どちらも数が同じときはその数だけ〇をかき、数が違うときは×をかきます。



※1. このプリントは、しながわ・目黒こどもスクールのウェブサイトでダウンロードができます。無断複写・引用はご遠慮ください。
※2. このプリントを活用したオンライン授業のスケジュールは、しながわ・目黒こどもスクールのウェブサイトでご確認ください。












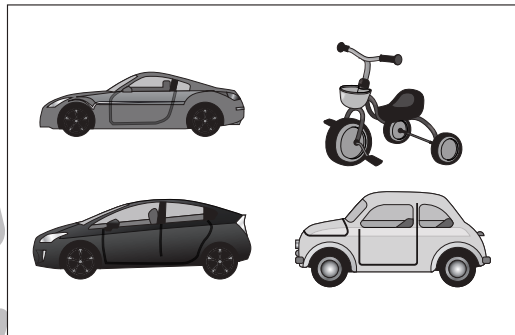
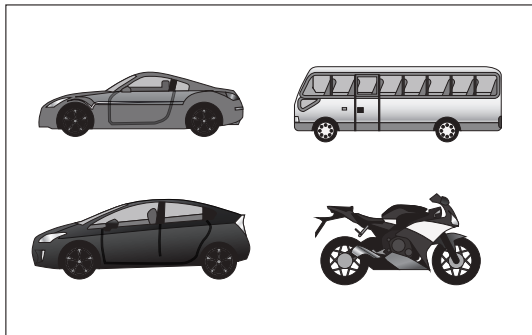


おうちで、やろう。

Study at home. 小学校受験の家庭学習教材

数量：タイヤの数 8

左と右の四角の中にあるタイヤの数を数えます。
どちらも数が同じときはその数だけ〇をかき、数が違うときは×をかきます。



※1. このプリントは、しながわ・目黒こどもスクールのウェブサイトからダウンロードできます。無断複写・引用はご遠慮ください。
※2. このプリントを活用したオンライン授業のスケジュールは、しながわ・目黒こどもスクールのウェブサイトでご確認ください。

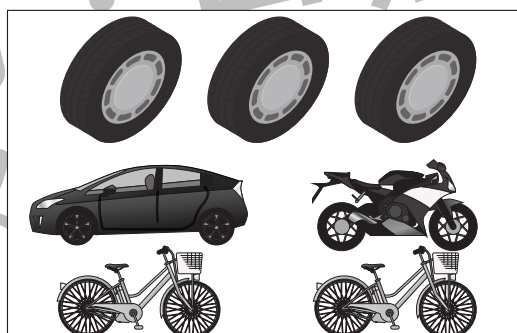



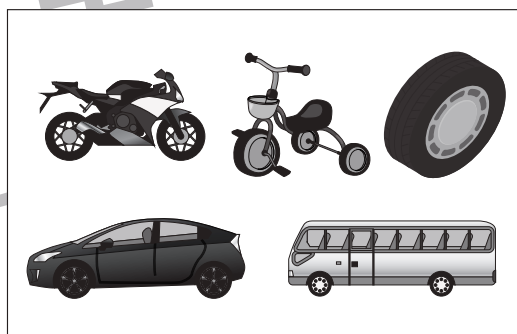

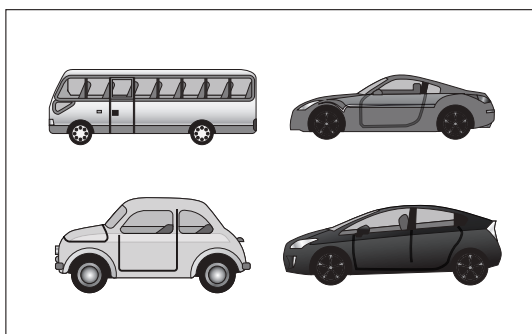






おうちで、やろう。

Study at home. 小学校受験の家庭学習教材

数量：タイヤの数 9

左と右の四角の中にあるタイヤの数を数えます。
どちらも数が同じときはその数だけ〇をかき、数が違うときは×をかきます。



※1. このプリントは、しながわ・目黒こどもスクールのウェブサイトでダウンロードができます。無断複写・引用はご遠慮ください。
※2. このプリントを活用したオンライン授業のスケジュールは、しながわ・目黒こどもスクールのウェブサイトでご確認ください。








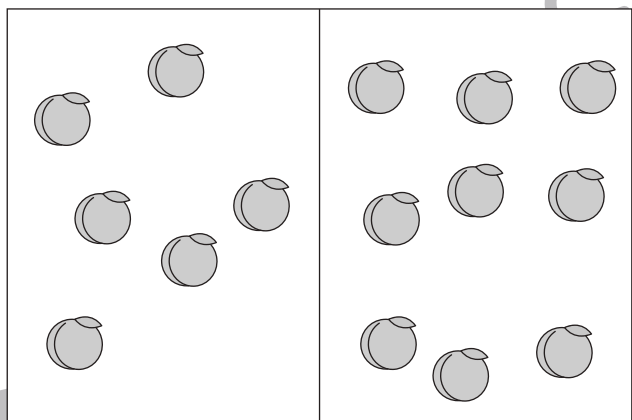
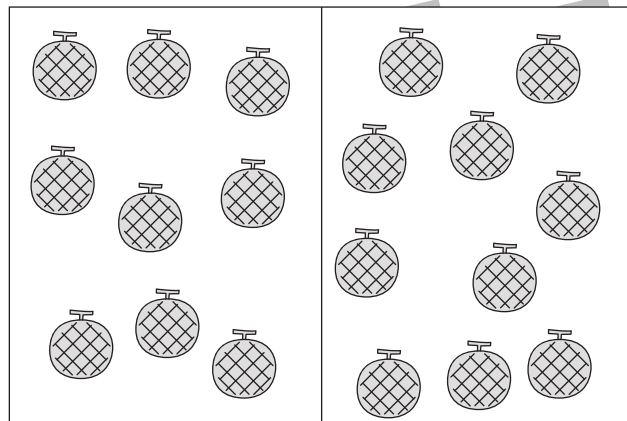
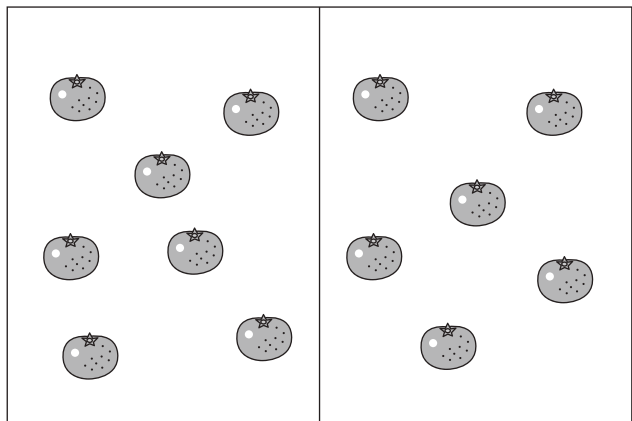


おうちで、やろう。

Study at home. 小学校受験の家庭学習教材

処理：多少1

横に並んだ2つの四角の中の果物のうち数が多い方の四角に○をつけます。
この問題はスピードを意識して取り組む練習をしてみましょう。(1分30秒～2分)



※1. このプリントは、しながわ・目黒こどもスクールのウェブサイトでダウンロードができます。無断複写・引用はご遠慮ください。
 ※2. このプリントを活用したオンライン授業のスケジュールは、しながわ・目黒こどもスクールのウェブサイトでご確認ください。

