



# おうちで、やろう。

Study at home. 小学校受験の家庭学習教材

## 指示の聞き取り 13

それぞれのお話通りになるように色を塗ったり、記号をかきます。問題は1度しか読みませんのでしっかり聞きましょう。

- ①上から一段目の、左から二番目のマスに青色のクーピーで○をかきます。
- ②下から一段目の、右から四番目のマスに緑色のクーピーで△をかきます。
- ③上から四段目の、一番右のマスに黒色のクーピーで薄く塗ります。
- ④下から四段目の、左から四番目のマスに紫色のクーピーで濃く塗ります。


※1. このプリントは、しながわ・目黒こどもスクールのウェブサイトからダウンロードできます。無断複写・引用はご遠慮ください。

※2. このプリントを活用したオンライン授業のスケジュールは、しながわ・目黒こどもスクールのウェブサイトでご確認ください。



# おうちで、よろう。

Study at home. 小学校受験の家庭学習教材

## 図形：構成5

2つに分かれた灰色のパズルを重ならないようにくっつけたときの空いている部分の形を考えます。空いているところにぴったりはまる形を白いパズルの中から選んで○をつけます。※一番上の太い四角は例題です。














※1. このプリントは、しながわ・目黒こどもスクールのウェブサイトでダウンロードができます。無断複写・引用はご遠慮ください。  
 ※2. このプリントを活用したオンライン授業のスケジュールは、しながわ・目黒こどもスクールのウェブサイトでご確認ください。





# おうちで、やろう。

Study at home. 小学校受験の家庭学習教材

## 図形：重ね 18

左の透明な 2 枚の板を重ねた時の見え方を考えます。このとき、白い丸が見える場所だけを右の四角にかきます。


※1. このプリントは、しながわ・目黒こどもスクールのウェブサイトでダウンロードができます。無断複写・引用はご遠慮ください。  
 ※2. このプリントを活用したオンライン授業のスケジュールは、しながわ・目黒こどもスクールのウェブサイトでご確認ください。



# おうちで、よろう。

Study at home. 小学校受験の家庭学習教材

## 図形：重ね 19

左の透明な 2 枚の板を重ねた時の見え方を考えます。このとき、隠れない見えている印だけを右の四角にかきます。


※1. このプリントは、しながわ・目黒こどもスクールのウェブサイトでダウンロードができます。無断複写・引用はご遠慮ください。  
 ※2. このプリントを活用したオンライン授業のスケジュールは、しながわ・目黒こどもスクールのウェブサイトでご確認ください。

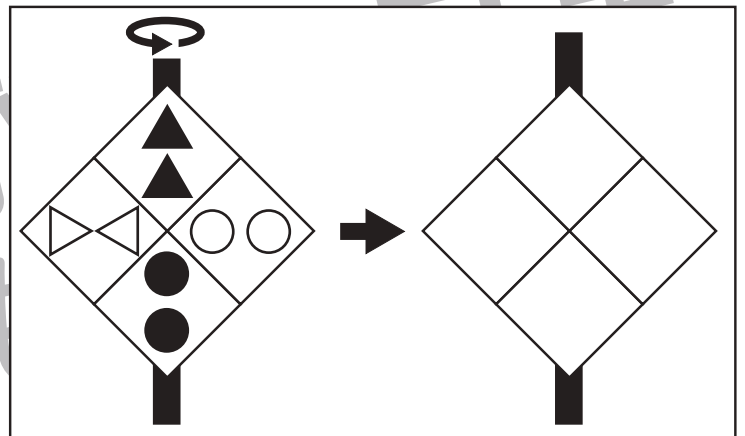
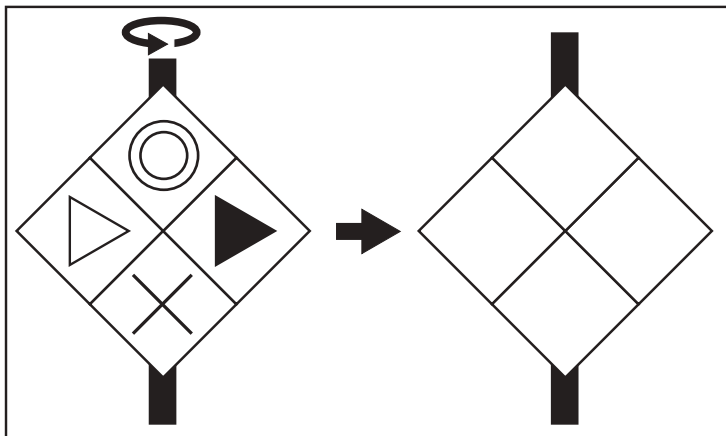
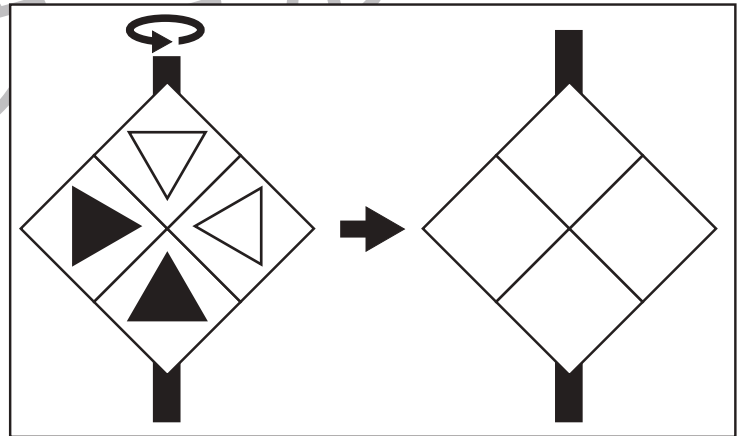
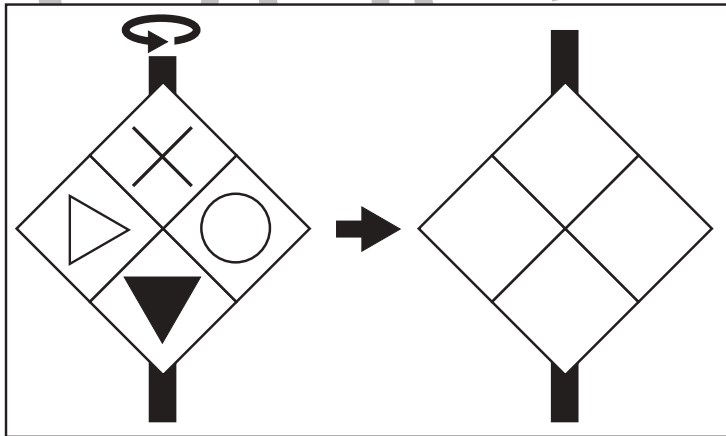
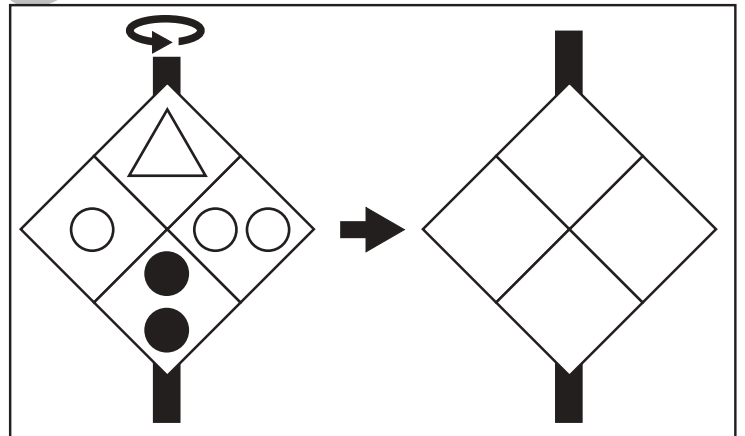
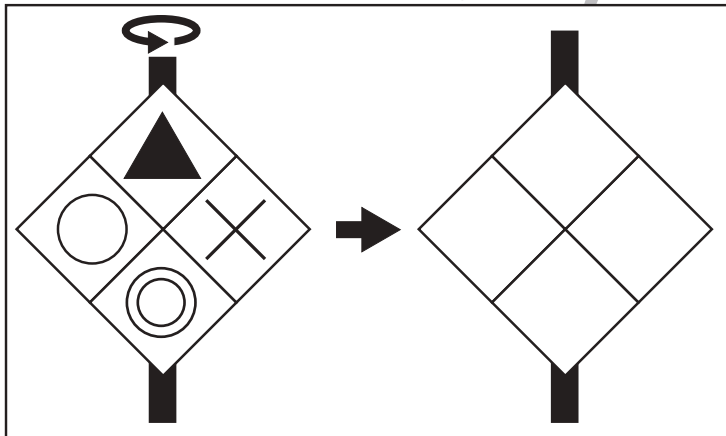
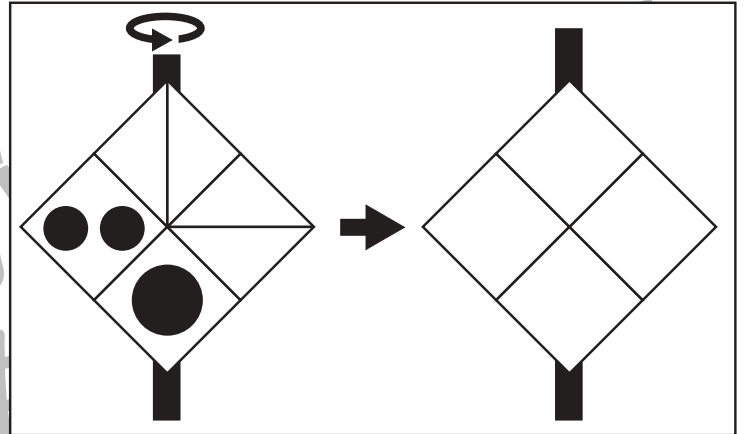
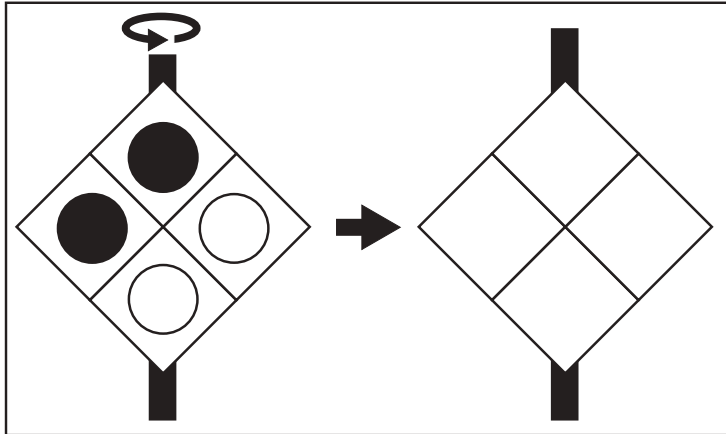


# おうちで、やろう。

Study at home. 小学校受験の家庭学習教材

## 図形：反転1

左の四角は透明な板に棒がついています。この板の棒を持ってくると裏返しにしたときの見え方を考えて右の四角にかきます。



※1. このプリントは、しながわ・目黒こどもスクールのウェブサイトでダウンロードができます。無断複写・引用はご遠慮ください。

※2. このプリントを活用したオンライン授業のスケジュールは、しながわ・目黒こどもスクールのウェブサイトでご確認ください。

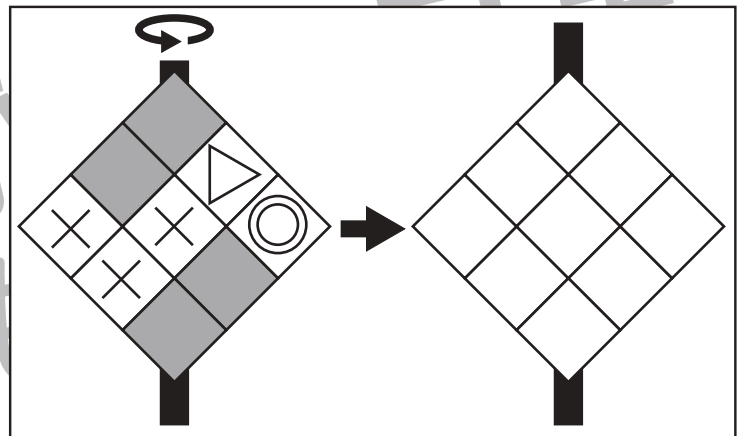
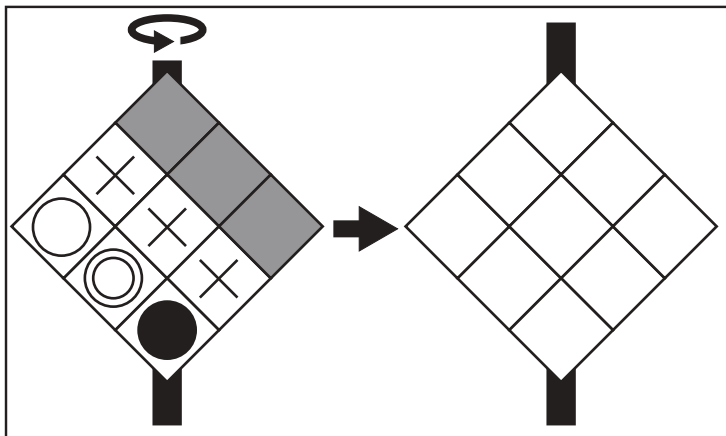
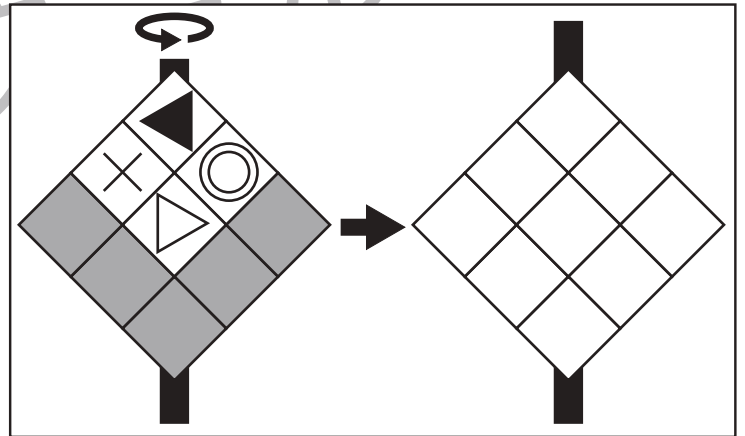
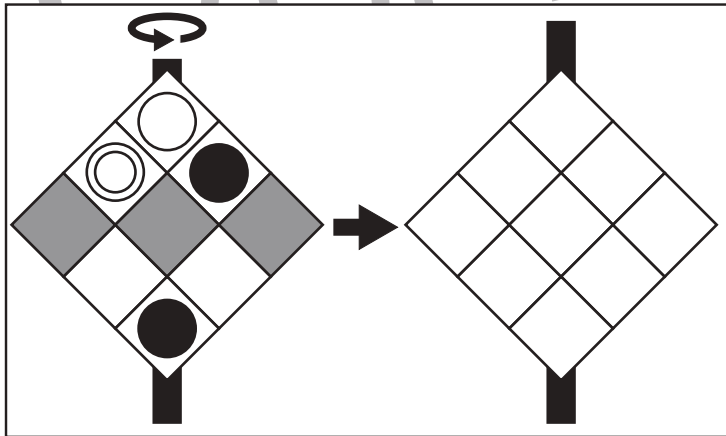
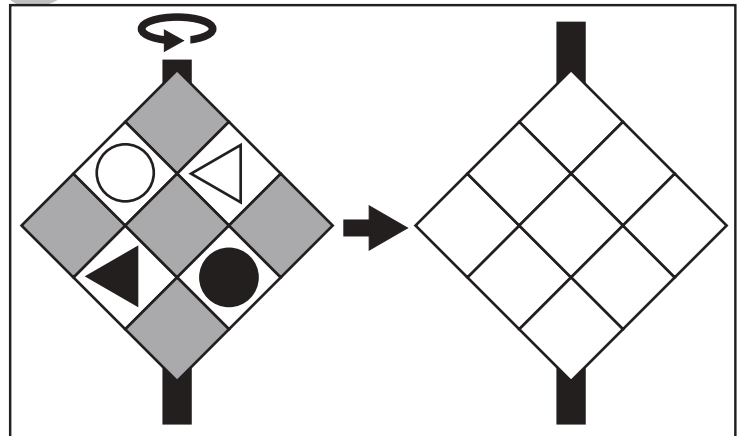
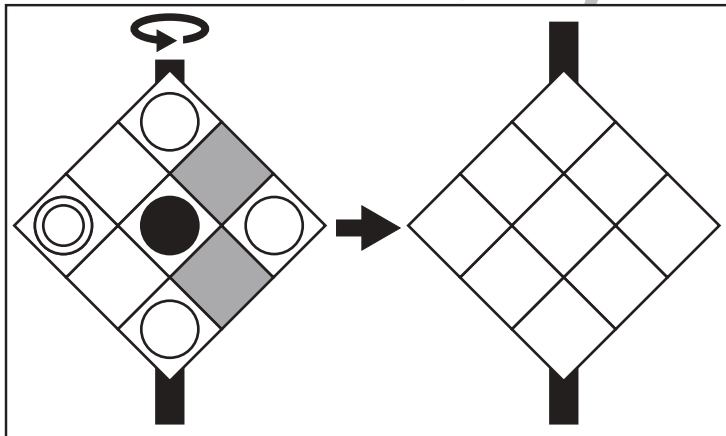
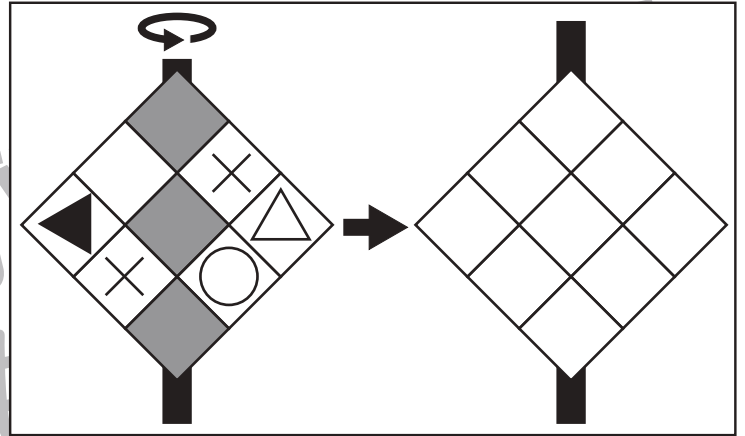
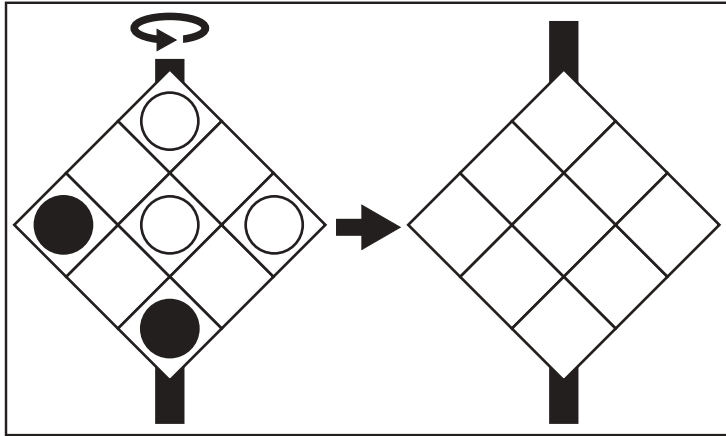


# おうちで、やろう。

Study at home. 小学校受験の家庭学習教材

## 図形：反転2

左の四角は透明な板に棒がついています。この板の棒を持ってくると裏返しにしたときの見え方を考えて右の四角にかきます。



※1. このプリントは、しながわ・目黒こどもスクールのウェブサイトでダウンロードができます。無断複写・引用はご遠慮ください。

※2. このプリントを活用したオンライン授業のスケジュールは、しながわ・目黒こどもスクールのウェブサイトでご確認ください。



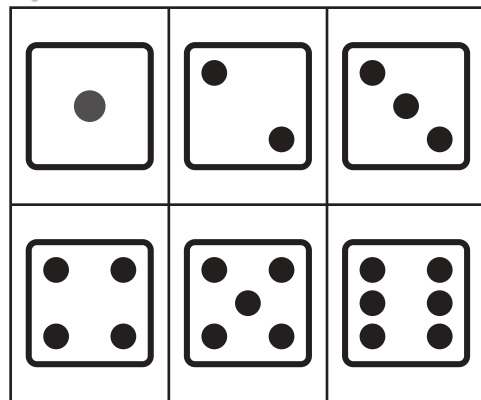
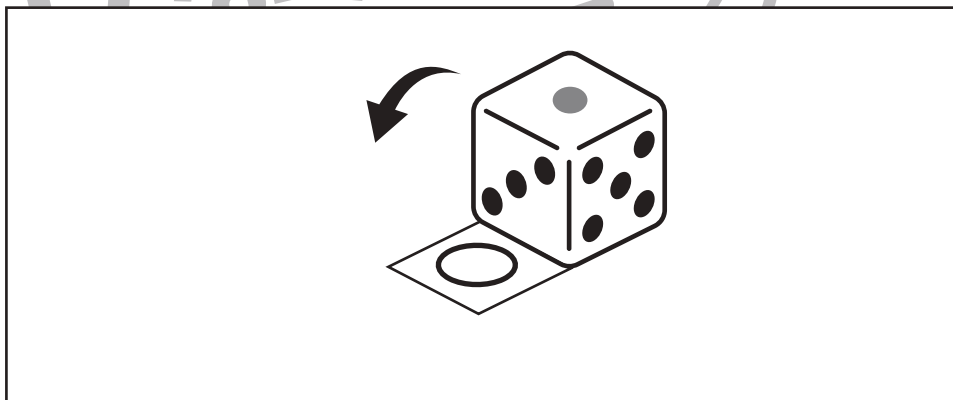
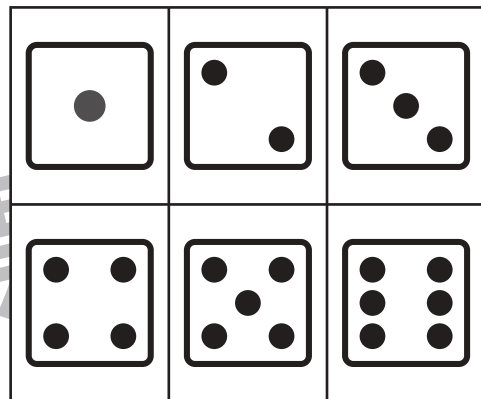


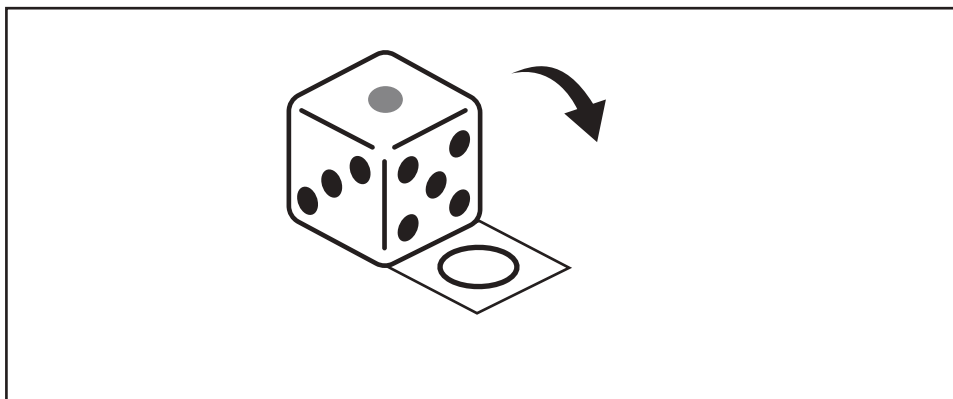


# おうちで、やろう。

Study at home. 小学校受験の家庭学習教材

推理：サイコロ 1

左の四角の中のサイコロを矢印の向きに倒したとき、印のついた四角の場所にくるサイコロの目はいくつですか。そのサイコロの目を右から選び、四角の中と同じ印をつけます。



※ 1. このプリントは、しながわ・目黒こどもスクールのウェブサイトでダウンロードができます。無断複写・引用はご遠慮ください。  
※ 2. このプリントを活用したオンライン授業のスケジュールは、しながわ・目黒こどもスクールのウェブサイトでご確認ください。



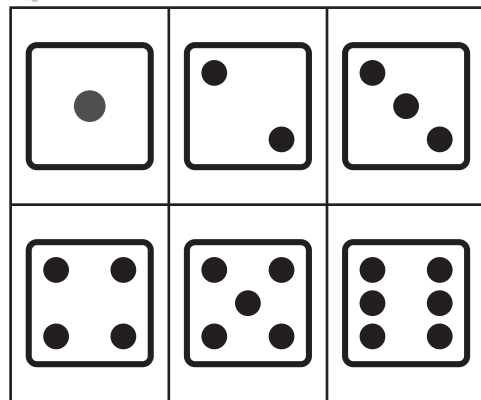
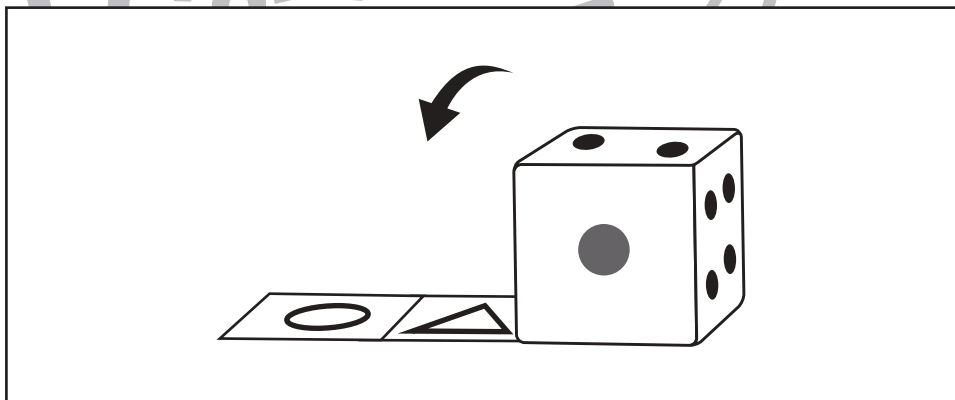
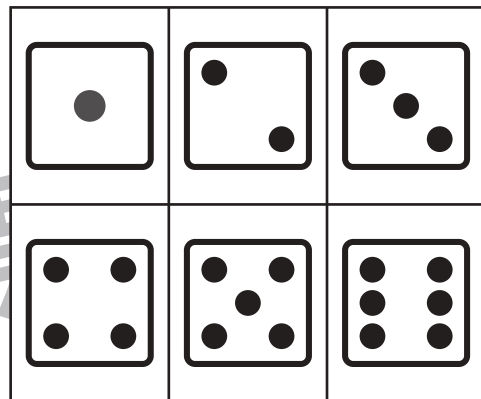





# おうちで、やろう。

Study at home. 小学校受験の家庭学習教材

推理：サイコロ2

左の四角の中のサイコロを矢印の向きに倒したとき、印のついた四角の場所にくるサイコロの目はいくつですか。そのサイコロの目を右から選び、四角の中と同じ印をつけます。サイコロの目は1の反対側が6、2の反対側が5、3の反対側が4になっています。



※ 1. このプリントは、しながわ・目黒こどもスクールのウェブサイトからダウンロードできます。無断複写・引用はご遠慮ください。

※ 2. このプリントを活用したオンライン授業のスケジュールは、しながわ・目黒こどもスクールのウェブサイトでご確認ください。




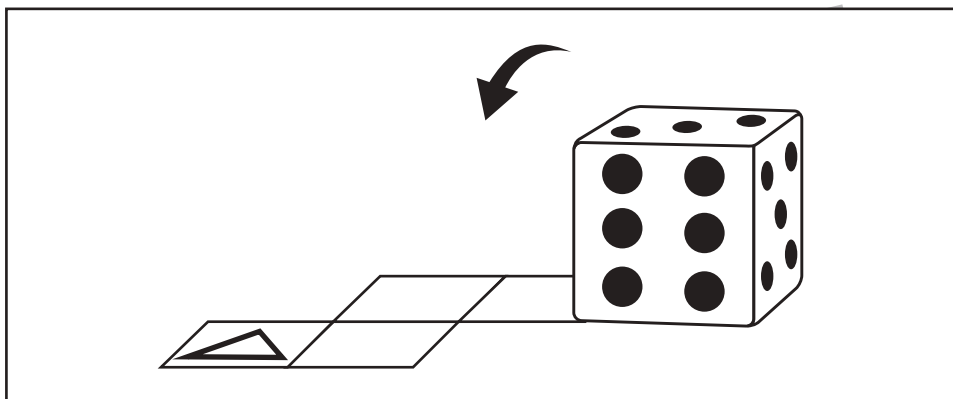
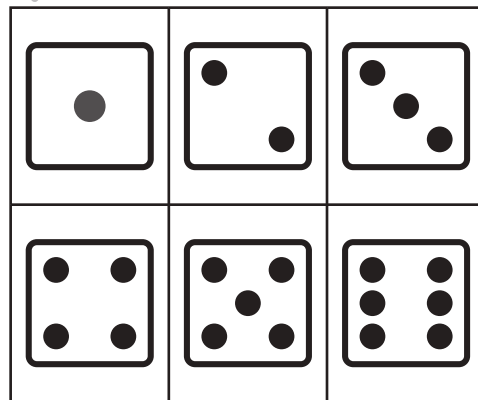
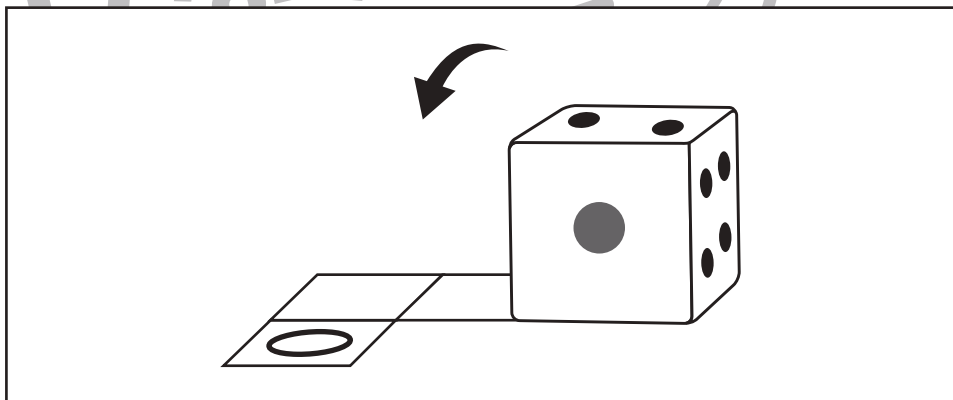
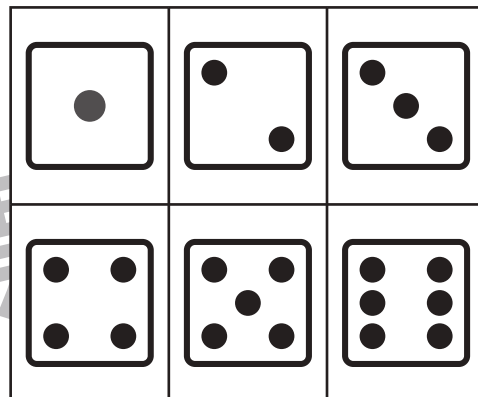





# おうちで、やろう。

Study at home. 小学校受験の家庭学習教材

推理：サイコロ3

左の四角の中のサイコロを矢印の向きに倒していくとき、印のついた四角の場所にくるサイコロの目はいくつですか。  
そのサイコロの目を右から選び、四角の中と同じ印をつけます。  
サイコロの目は1の反対側が6、2の反対側が5、3の反対側が4になっています。



※ 1. このプリントは、しながわ・目黒こどもスクールのウェブサイトでダウンロードができます。無断複写・引用はご遠慮ください。  
※ 2. このプリントを活用したオンライン授業のスケジュールは、しながわ・目黒こどもスクールのウェブサイトでご確認ください。




# おうちで、やろう。

Study at home. 小学校受験の家庭学習教材

運筆：濃淡 8

点線を、●から○に向かって色が薄くなるように青色のクーピーでなぞります。



※1. このプリントは、しながわ・目黒こどもスクールのウェブサイトでダウンロードができます。無断複写・引用はご遠慮ください。  
※2. このプリントを活用したオンライン授業のスケジュールは、しながわ・目黒こどもスクールのウェブサイトでご確認ください。