



# おうちで、やろう。

Study at home. 小学校受験の家庭学習教材

## 推理：系列完成 7

色々な形が左上から時計回りにある約束で並んでいます。リンゴとイチゴの四角には、どんな形が入りますか。真ん中の太い四角の中から選んで、リンゴの四角に入る形には○を、イチゴの四角に入る形には△をつけてます。


※1. このプリントは、しながわ・目黒こどもスクールのウェブサイトでダウンロードができます。無断複写・引用はご遠慮ください。  
※2. このプリントを活用したオンライン授業のスケジュールは、しながわ・目黒こどもスクールのウェブサイトでご確認ください。



# おうちで、やろう。

Study at home. 小学校受験の家庭学習教材

## 推理：系列完成 8

左上の太い四角のなかのサイコロが時計回りと反対に、ある約束で並んでいます。リンゴとイチゴに入るサイコロを真ん中の太い四角の中から選んで、リンゴの四角に入るサイコロには○を、イチゴの四角に入るサイコロには△をつけます。


※1. このプリントは、しながわ・目黒こどもスクールのウェブサイトでダウンロードができます。無断複写・引用はご遠慮ください。  
 ※2. このプリントを活用したオンライン授業のスケジュールは、しながわ・目黒こどもスクールのウェブサイトでご確認ください。

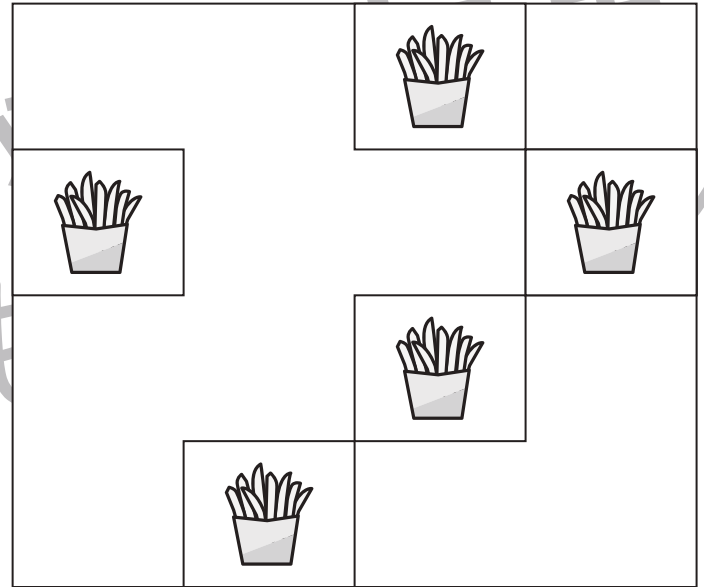



# おうちで、やろう。

Study at home. 小学校受験の家庭学習教材


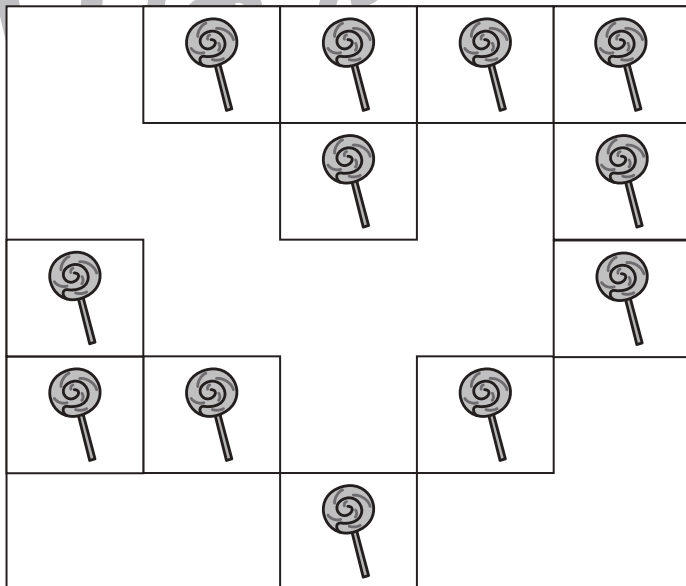
数量：かかれた数 6

四角い枠の中に同じカードがすきまなく並べてあります。かくれて見えない所にあるカードは何枚ですか。その数だけ、下の四角に○をかきます。



○ × 10

○ × 11



○ × 13

○ × 13

※1. このプリントは、しながわ・目黒こどもスクールのウェブサイトでダウンロードができます。無断複写・引用はご遠慮ください。  
 ※2. このプリントを活用したオンライン授業のスケジュールは、しながわ・目黒こどもスクールのウェブサイトでご確認ください。




# おうちで、やろう。


Study at home. 小学校受験の家庭学習教材





数量：計数 29

太い四角の中のそれぞれの生き物の数をかぞえて、その数だけ下の四角に○をかきます。



	○×11
	○×8
	○×7
	○×8



	○×9
	○×9
	○×10
	○×6

※1. このプリントは、しながわ・目黒こどもスクールのウェブサイトでダウンロードができます。無断複写・引用はご遠慮ください。  
 ※2. このプリントを活用したオンライン授業のスケジュールは、しながわ・目黒こどもスクールのウェブサイトでご確認ください。















# おうちで、やろう。

Study at home. 小学校受験の家庭学習教材

数量：多少6

2匹の動物たちが灰色のマス全部通って、家まで帰ります。通るマスのはどちらが多いですか。多い方の動物に○をつけます。

	Gray	Gray	White	White	White	White	White	White	
	White	White	White	Gray	Gray	Gray	White	White	
	Gray	Gray	White	White	White	White	White	White	
	White	White	White	Gray	Gray	Gray	White	White	
	White	White	White	White	White	White	White	White	
	Gray	Gray	White	White	White	White	White	White	

※1. このプリントは、しながわ・目黒こどもスクールのウェブサイトからダウンロードできます。無断複写・引用はご遠慮ください。  
 ※2. このプリントを活用したオンライン授業のスケジュールは、しながわ・目黒こどもスクールのウェブサイトでご確認ください。















# おうちで、やろう。

Study at home. 小学校受験の家庭学習教材

数量：多少7

2匹の動物たちが灰色のマス全部通って、家まで帰ります。通るマス数はどちらが少ないですか。少ない方の動物に○をつけます。

※1. このプリントは、しながわ・目黒こどもスクールのウェブサイトでダウンロードができます。無断複写・引用はご遠慮ください。

※2. このプリントを活用したオンライン授業のスケジュールは、しながわ・目黒こどもスクールのウェブサイトでご確認ください。



# おうちで、やろう。

Study at home. 小学校受験の家庭学習教材

数量：多少 8

3匹の動物たちが灰色のマスを全部通って、家まで帰ります。通るマスのが2番目に多い動物に○をつけます。

	Grey	Grey	Grey	White	White	White	White	White	
	White	Grey	Grey	Grey	Grey	Grey	Grey	Grey	
	White	White	White	White	White	White	White	White	
	White	Grey	Grey	White	White	White	White	White	
	White	White	White	White	White	White	White	White	
	White	White	Grey	Grey	Grey	Grey	White	White	
	White	White	White	White	White	Grey	Grey	White	
	Grey	Grey	Grey	White	Grey	Grey	Grey	Grey	
	White	White	White	White	White	White	White	White	
	White	White	White	White	White	White	White	White	
	White	White	White	White	White	White	White	White	
	White	White	White	White	White	White	White	White	
	White	White	White	White	White	White	White	White	
	White	White	White	White	White	White	White	White	
	White	White	White	White	White	White	White	White	
	White	White	White	White	White	White	White	White	
	White	White	White	White	White	White	White	White	
	White	White	White	White	White	White	White	White	
	White	White	White	White	White	White	White	White	
	White	White	White	White	White	White	White	White	
	White	White	White	White	White	White	White	White	
	White	White	White	White	White	White	White	White	
	White	White	White	White	White	White	White	White	
	White	White	White	White	White	White	White	White	

※1. このプリントは、しながわ・目黒こどもスクールのウェブサイトでダウンロードができます。無断複写・引用はご遠慮ください。

※2. このプリントを活用したオンライン授業のスケジュールは、しながわ・目黒こどもスクールのウェブサイトでご確認ください。

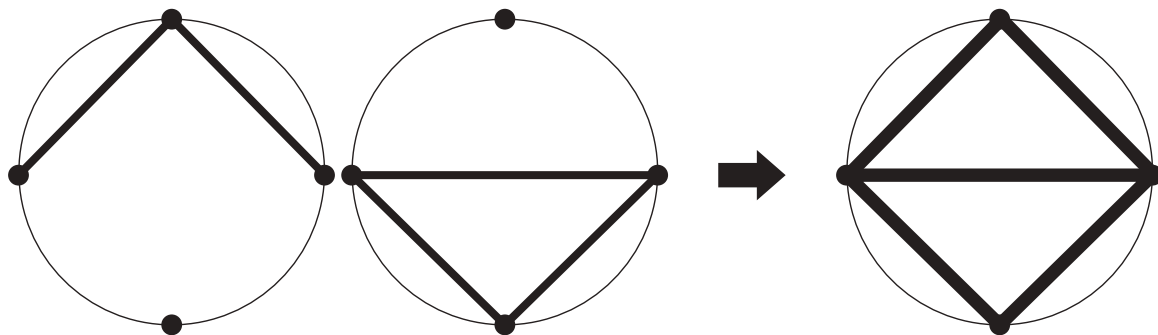
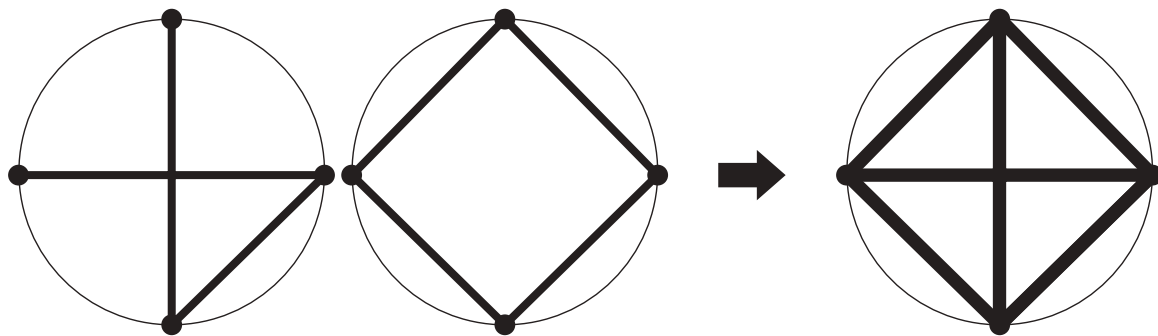
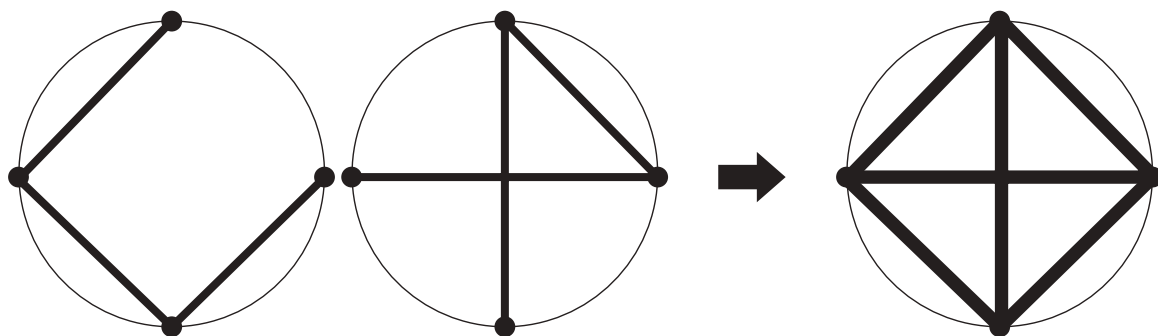
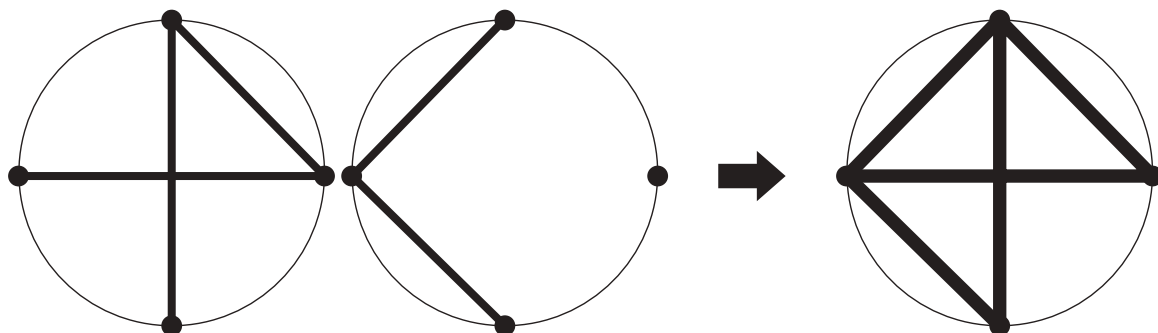
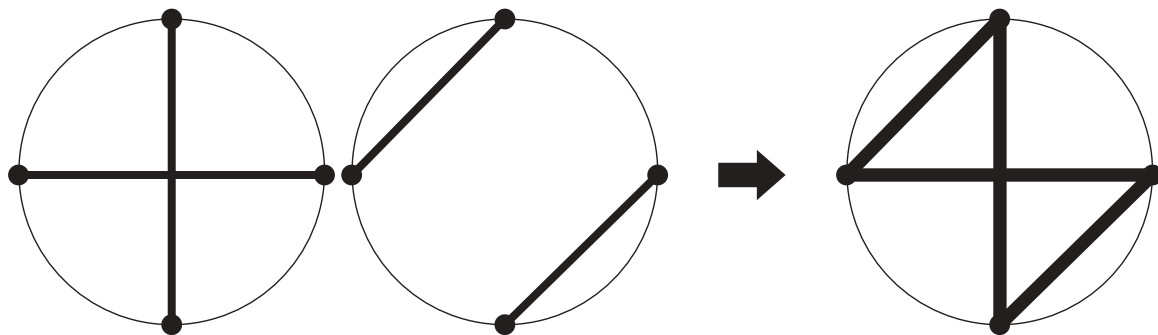


# おうちで、やろう。

Study at home. 小学校受験の家庭学習教材

## 図形：重ね 20

2枚の透明な円の板が重なった時の見え方を考えて、矢印の右の円に線をかきます。



黒  
ル

黒  
ル

※1. このプリントは、しながわ・目黒こどもスクールのウェブサイトでダウンロードができます。無断複写・引用はご遠慮ください。

※2. このプリントを活用したオンライン授業のスケジュールは、しながわ・目黒こどもスクールのウェブサイトでご確認ください。